

লেখক

# SSC অর্থনীতি

বি.শে.ষ

# প্রস্তুতি

# স্মার্টসেলেন্ট

সকল বোর্ড


**EXAM  
2024**

অধিকতর ও  
*Smart* ▶  
প্রস্তুতির জন্য



ডাউনলোড করতে  
QR Code টি  
স্ক্যান করো

মূল বইয়ের বাইরে আরও বোর্ড প্রশ্নপত্র,  
মডেল টেস্ট ও শীর্ষস্থানীয় স্কুলের প্রশ্নপত্র ও উত্তরমালা

 পর্যায়ক্রমে আপলোড হবে...

# বিস্তারিত সূচি

● পৃষ্ঠা নং দেখে কাজক্ষিত বিষয়টির অবস্থান জেনে নিই

প্রশ্নের ধরন ও মানের ধারণার জন্য প্রদত্ত

এসএসসি পরীক্ষার প্রশ্নপত্র ও উত্তরমালা : বহুনির্বাচনি	৪-২১
১. ঢাকা বোর্ড ২০২৩	৪
২. রাজশাহী বোর্ড ২০২৩	৫
৩. যশোর বোর্ড ২০২৩	৬
৪. কুমিল্লা বোর্ড ২০২৩	৭
৫. চট্টগ্রাম বোর্ড ২০২৩	৮
৬. সিলেট বোর্ড ২০২৩	৯
৭. বরিশাল বোর্ড ২০২৩	১০
৮. দিনাজপুর বোর্ড ২০২৩	১১
৯. ময়মনসিংহ বোর্ড ২০২৩	১২
১০. ঢাকা বোর্ড ২০২২	১৩
১১. রাজশাহী বোর্ড ২০২২	১৪
১২. যশোর বোর্ড ২০২২	১৫
১৩. কুমিল্লা বোর্ড ২০২২	১৬
১৪. চট্টগ্রাম বোর্ড ২০২২	১৭
১৫. সিলেট বোর্ড ২০২২	১৮
১৬. বরিশাল বোর্ড ২০২২	১৯
১৭. দিনাজপুর বোর্ড ২০২২	২০
১৮. ময়মনসিংহ বোর্ড ২০২২	২১

প্রশ্নের ধরন ও মানের ধারণার জন্য প্রদত্ত

এসএসসি পরীক্ষার প্রশ্নপত্র : সৃজনশীল	২২-৩৯
১৯. ঢাকা বোর্ড ২০২৩	২২
২০. রাজশাহী বোর্ড ২০২৩	২৩
২১. যশোর বোর্ড ২০২৩	২৪
২২. কুমিল্লা বোর্ড ২০২৩	২৫
২৩. চট্টগ্রাম বোর্ড ২০২৩	২৬
২৪. সিলেট বোর্ড ২০২৩	২৭
২৫. বরিশাল বোর্ড ২০২৩	২৮
২৬. দিনাজপুর বোর্ড ২০২৩	২৯
২৭. ময়মনসিংহ বোর্ড ২০২৩	৩০
২৮. ঢাকা বোর্ড ২০২২	৩১
২৯. রাজশাহী বোর্ড ২০২২	৩২
৩০. যশোর বোর্ড ২০২২	৩৩
৩১. কুমিল্লা বোর্ড ২০২২	৩৪
৩২. চট্টগ্রাম বোর্ড ২০২২	৩৫
৩৩. সিলেট বোর্ড ২০২২	৩৬
৩৪. বরিশাল বোর্ড ২০২২	৩৭
৩৫. দিনাজপুর বোর্ড ২০২২	৩৮
৩৬. ময়মনসিংহ বোর্ড ২০২২	৩৯

অধিক অনুশীলনের মাধ্যমে সেরা প্রস্তুতির জন্য মূল বইয়ের বাইরে আরও

**শীর্ষস্থানীয় স্কুলের প্রশ্নপত্র ও উত্তরমালা : বহুনির্বাচনি**----- ৪০-৪৯

৩৭. সামসুল হক খান স্কুল এন্ড কলেজ, ঢাকা .....	৪০
৩৮. ইউনিভার্সিটি ল্যাবরেটরি স্কুল এন্ড কলেজ, ঢাকা .....	৪১
৩৯. উইলস লিটল ফ্লাওয়ার স্কুল এন্ড কলেজ, ঢাকা .....	৪২
৪০. নাটোর সরকারি বালক উচ্চ বিদ্যালয় .....	৪৩
৪১. কুষ্টিয়া সরকারি বালিকা উচ্চ বিদ্যালয় .....	৪৪
৪২. বিএএফ শাহীন কলেজ, যশোর .....	৪৫
৪৩. সাবেরা সোবহান সরকারি বালিকা উচ্চ বিদ্যালয়, ব্রাহ্মণবাড়িয়া .....	৪৬
৪৪. বিএএফ শাহীন কলেজ, চট্টগ্রাম .....	৪৭
৪৫. পুলিশ লাইন্স উচ্চ বিদ্যালয়, সিলেট .....	৪৮
৪৬. বাংলাদেশ শিক্ষক সমিতি (কামারুজ্জামান), বরিশাল .....	৪৯

অধিক অনুশীলনের মাধ্যমে সেরা প্রস্তুতির জন্য মূল বইয়ের বাইরে আরও

**শীর্ষস্থানীয় স্কুলের প্রশ্নপত্র : সৃজনশীল** ----- ৫০-৫৯

৪৭. ঢাকা রেসিডেন্সিয়াল মডেল কলেজ .....	৫০
৪৮. বিদ্যাময়ী সরকারি বালিকা উচ্চ বিদ্যালয়, ময়মনসিংহ .....	৫১
৪৯. বীরশ্রেষ্ঠ মুন্সী আব্দুর রউফ পাবলিক কলেজ, ঢাকা .....	৫২
৫০. সরকারি পি এন বালিকা উচ্চ বিদ্যালয়, রাজশাহী .....	৫৩
৫১. বগুড়া পুলিশ লাইন স্কুল ও কলেজ .....	৫৪
৫২. বিএএফ শাহীন কলেজ, যশোর .....	৫৫
৫৩. সেন্ট স্কলস্টিকাস গার্লস হাই স্কুল, চট্টগ্রাম .....	৫৬
৫৪. জালালাবাদ ক্যান্টনমেন্ট বোর্ড হাই স্কুল, সিলেট .....	৫৭
৫৫. ঝালকাঠি সরকারি উচ্চ বিদ্যালয় .....	৫৮
৫৬. নীলফামারী সরকারি উচ্চ বিদ্যালয় .....	৫৯

অধিক অনুশীলনের মাধ্যমে সেরা প্রস্তুতির জন্য মূল বইয়ের বাইরে আরও

**স্পেশাল মডেল টেস্ট ও উত্তরমালা : বহুনির্বাচনি** ----- ৬০-৬১

৫৭. স্পেশাল মডেল টেস্ট ০১ .....	৬০
৫৮. স্পেশাল মডেল টেস্ট ০২ .....	৬১

অধিক অনুশীলনের মাধ্যমে সেরা প্রস্তুতির জন্য মূল বইয়ের বাইরে আরও

**স্পেশাল মডেল টেস্ট : সৃজনশীল** ----- ৬২-৬৩

৫৯. স্পেশাল মডেল টেস্ট ০৩ .....	৬২
৬০. স্পেশাল মডেল টেস্ট ০৪ .....	৬৩



## প্রশ্নের ধরন ও মানের ধারণার জন্য প্রদত্ত এসএসসি পরীক্ষার প্রশ্নপত্র ও উত্তরমালা : বহুনির্বাচনী

১ টাকা বোর্ড ২০২৩

বিষয় কোড : 141

সময় : ৩০ মিনিট

অর্থনীতি বহুনির্বাচনী অভীক্ষা

পূর্ণমান : ৩০

[বিশেষ দৃষ্টব্য : সরবরাহকৃত বহুনির্বাচনী অভীক্ষার উত্তরপত্রে প্রশ্নের ক্রমিক নম্বরের বিপরীতে প্রদত্ত বর্ণসংবলিত বৃত্তসমূহ হতে সঠিক/সর্বোৎকৃষ্ট উত্তরের বৃত্তটি বল পয়েন্ট কলম দ্বারা সম্পূর্ণ ভরাট কর। প্রতিটি প্রশ্নের মান ১। প্রশ্নপত্রে কোনো প্রকার দাগ/চিহ্ন দেওয়া যাবে না।]

১. উৎপাদন ব্যয় কত প্রকার?  
K ২ L ৩ M ৪ N ৫
২. খনিজ তেল অনুসন্ধানের কাজ চলছে—  
i. উপকূলীয় এলাকায়  
ii. পাবর্ত্য এলাকায়  
iii. সিলেটে  
নিচের কোনটি সঠিক?  
K i ও ii L i ও iii  
M ii ও iii N i, ii ও iii
৩. কীভাবে উৎপাদনের পরিমাণ বাড়ানো যায়?  
K আয়ের মাধ্যমে  
L সঞ্চয়ের মাধ্যমে  
M মূলধনের মাধ্যমে  
N বিনিয়োগের মাধ্যমে
৪. বাজার ভারসাম্যের শর্ত কোনটি?  
K চাহিদা = যোগান L চাহিদা > যোগান  
M যোগান > চাহিদা N চাহিদা ≠ যোগান  
■ উদ্দীপকটি পড়ে ৫ ও ৬নং প্রশ্নের উত্তর দাও :  
অহনা সিলেট অঞ্চলে বেড়াতে গিয়ে দেখল একটি কূপ থেকে আঙুনের ফুলকি বের হচ্ছে। সে তার বাবাকে জিজ্ঞেস করলে বাবা বলে যে, এটি বাংলাদেশের একটি প্রধান খনিজ সম্পদ।
৫. অহনার দেখা সম্পদটির নাম কী?  
K প্রাকৃতিক গ্যাস L কয়লা  
M চূনাপাথর N খনিজ তেল
৬. উক্ত খনিজ সম্পদটি ব্যবহৃত হয়—  
i. রাসায়নিক সার তৈরিতে  
ii. বিদ্যুৎ উৎপাদনে  
iii. জ্বালানি হিসেবে  
নিচের কোনটি সঠিক?  
K i ও ii L i ও iii  
M ii ও iii N i, ii ও iii
৭. রহিম সাহেব তার প্রতিষ্ঠান পরিচালনার জন্য ২ লক্ষ টাকা বাড়ি ভাড়া পরিশোধ করেন। এটা কোন ধরনের ব্যয়?  
K প্রকাশ্য ব্যয়  
L অপ্রকাশ্য ব্যয়  
M স্বনিয়োজিত সম্পদের খরচ  
N প্রকৃত উৎপাদন ব্যয়
৮. অর্থনীতিতে সব ধরনের প্রাকৃতিক সম্পদকে কী বলে?  
K ভূমি L শ্রম  
M মূলধন N সংগঠন
৯. বাংলাদেশের জাতীয় আয় পরিমাপ করে কোন সংস্থা?  
K জাতীয় রাজস্ব বোর্ড  
L অর্থ মন্ত্রণালয়  
M বাংলাদেশ পরিসংখ্যান বোর্ড  
N তথ্য মন্ত্রণালয়
১০. GNI-এর পূর্ণরূপ কী?  
K Gross National Institute  
L Grand National Income  
M Gross Net Income  
N Gross National Income
১১. কোনটি উন্নত দেশের বৈশিষ্ট্য?  
K জনসংখ্যাধিক্য L কৃষিনির্ভর অর্থনীতি  
M উদ্যোক্তার অভাব N দক্ষ জনশক্তি
১২. দারিদ্র্যের দৃষ্টচক্র ধারণাটির প্রবক্তা কে?  
K র্যাগনার নার্কস L অ্যাডাম স্মিথ  
M ডেভিড রিকার্ডো N জে. এম. কেইন্স  
■ উদ্দীপকটি পড়ে ১৩ ও ১৪নং প্রশ্নের উত্তর দাও :  
'A' দেশে সরকারি মালিকানায অধিকাংশ বৃহৎ শিল্প কারখানা পরিচালিত হয়, পাশাপাশি বেসরকারি উদ্যোগেও অনেক শিল্প কারখানা পরিচালিত হয়।
১৩. 'A' দেশটিতে কোন ধরনের অর্থব্যবস্থা প্রচলিত রয়েছে?  
K ধনতান্ত্রিক L সমাজতান্ত্রিক  
M ইসলামি N মিশ্র
১৪. 'A' দেশটিতে সরকার নিয়ন্ত্রণ করে—  
i. মহাসড়ক  
ii. ব্যবসায় প্রতিষ্ঠান  
iii. জন গুরুত্বপূর্ণ প্রতিষ্ঠান  
নিচের কোনটি সঠিক?  
K i ও ii L i ও iii  
M ii ও iii N i, ii ও iii
১৫. কোনটি ছাড়া উৎপাদন ও ব্যবসায় নিয়ন্ত্রণ অসম্ভব?  
K শ্রমিক সংঘ L সংগঠন  
M উন্নত কাঁচামাল N শিল্প এলাকা
১৬. গড় উৎপাদনের সর্বোচ্চ বিন্দুতে সমান হয়—  
i. গড় উৎপাদন  
ii. প্রান্তিক উৎপাদন  
iii. মোট উৎপাদন  
নিচের কোনটি সঠিক?  
K i ও ii L i ও iii  
M ii ও iii N i, ii ও iii
১৭. টুকু পুরাতন একটি কারখানা ক্রয় করল। এক্ষেত্রে এটি GDP এর অন্তর্ভুক্ত না হওয়ার কারণ—  
i. পূর্বে উৎপাদিত  
ii. দ্বৈত গণনার সমস্যা  
iii. ক্ষতির পরিমাণ বেশি  
নিচের কোনটি সঠিক?  
K i ও ii L i ও iii  
M ii ও iii N i, ii ও iii
১৮. অর্থনীতির মৌলিক নীতি কয়টি?  
K ৫ L ১০ M ১৫ N ২০
১৯. মার্শালের সংজ্ঞায় মানুষের কোন মৌলিক সমস্যাটি বিবেচনা করা হয়নি?  
K বিকল্প ব্যবহার L সম্পদের স্বল্পতা  
M মানবকল্যাণ N সম্পদ আহরণ
২০. 'Economics' কোন শব্দ থেকে এসেছে?  
K Oikonomia L Ekonomia  
M Onkomia N Konomia
২১. শারীরিক যোগ্যতা কোন ধরনের সম্পদ?  
K ব্যক্তিগত L প্রাকৃতিক  
M সমষ্টিগত N মানবিক
২২. অর্থনীতির মূল আলোচ্য বিষয় হলো—  
i. অর্থ উপার্জন  
ii. অভাব পূরণের জন্য অর্থ ব্যয়  
iii. চাহিদা পূরণ  
নিচের কোনটি সঠিক?  
K i ও ii L i ও iii  
M ii ও iii N i, ii ও iii
২৩. ধনতন্ত্রে উৎপাদনকারী কিসের ভিত্তিতে উৎপাদন করে?  
K চাহিদার L যোগানের  
M উপযোগের N ভোগের  
■ উদ্দীপকটি পড়ে ২৪ ও ২৫নং প্রশ্নের উত্তর দাও :  
সালাম সাহেব একটি বেসরকারি কোম্পানিতে চাকরি করতেন। কিছুদিন আগে তিনি চাকরি ছেড়ে কর্মহীন ছিলেন এবং পরবর্তীতে তিনি নিজেই একটি গার্মেন্টস ফ্যাক্টরি খোলেন।
২৪. সালাম সাহেবের কর্মহীন সময়টা কোন ধরনের বেকারত্ব?  
K মৌসুমি L প্রচলন  
M সাময়িক N স্থায়ী
২৫. সালাম সাহেব গার্মেন্টস ফ্যাক্টরি খোলায়—  
i. বেকারত্ব নিরসন হবে  
ii. কর্মসংস্থান বাড়বে  
iii. শিল্পের বিকাশ ঘটবে  
নিচের কোনটি সঠিক?  
K i ও ii L i ও iii  
M ii ও iii N i, ii ও iii
২৬. সানা একজন দক্ষ শ্রমিক। সানার যোগ্যতা কোন ধরনের সম্পদ?  
K মানবিক L ব্যক্তিগত  
M জাতীয় N সমষ্টিগত
২৭. সেলিম পরপর ৩টি কলা যথাক্রমে ৫, ৪ ও ৩ টাকায় ক্রয় করে। সেলিমের মোট উপযোগ কত?  
K ৪ টাকা L ৫ টাকা  
M ৭ টাকা N ১২ টাকা
২৮. উৎপত্তির দিক থেকে সম্পদ কত প্রকার?  
K ৩ L ৪ M ৫ N ৬
২৯. প্রান্তিক উপযোগ কীভাবে বাড়ে?  
K ক্রমবর্ধমান হারে L ক্রমহ্রাসমান হারে  
M গাণিতিক হারে N জ্যামিতিক হারে
৩০. দ্রব্য ব্যবহারের মাধ্যমে তার উপযোগ নিঃশেষ করাকে কী বলে?  
K সঞ্চয় L বিনিয়োগ  
M ভোগ N উৎপাদন

Self test	১	K	L	M	N	২	K	L	M	N	৩	K	L	M	N	৪	K	L	M	N	৫	K	L	M	N	৬	K	L	M	N	৭	K	L	M	N	৮	K	L	M	N	৯	K	L	M	N	১০	K	L	M	N
	১১	K	L	M	N	১২	K	L	M	N	১৩	K	L	M	N	১৪	K	L	M	N	১৫	K	L	M	N	১৬	K	L	M	N	১৭	K	L	M	N	১৮	K	L	M	N	১৯	K	L	M	N	২০	K	L	M	N
	২১	K	L	M	N	২২	K	L	M	N	২৩	K	L	M	N	২৪	K	L	M	N	২৫	K	L	M	N	২৬	K	L	M	N	২৭	K	L	M	N	২৮	K	L	M	N	২৯	K	L	M	N	৩০	K	L	M	N

১	K	২	N	৩	N	৪	K	৫	K	৬	N	৭	K	৮	K	৯	M	১০	N	১১	N	১২	K	১৩	N	১৪	N	১৫	L
১৬	K	১৭	K	১৮	L	১৯	L	২০	K	২১	N	২২	K	২৩	N	২৪	M	২৫	N	২৬	K	২৭	N	২৮	K	২৯	L	৩০	M

**২** **রাজসাহী বোর্ড ২০২৩**  
**অর্থনীতি** **বহুনির্বাচনি অভীক্ষা**

বিষয় কোড : **141**

সময় : ৩০ মিনিট

পূর্ণমান : ৩০

[বিশেষ দ্রষ্টব্য : সরবরাহকৃত বহুনির্বাচনি অভীক্ষার উত্তরপত্রে প্রশ্নের ক্রমিক নম্বরের বিপরীতে প্রদত্ত বর্ণসংবলিত বৃত্তসমূহ হতে সঠিক/সর্বোৎকৃষ্ট উত্তরের বৃত্তটি বল পয়েন্ট কলম দ্বারা সম্পূর্ণ ভরাট কর। প্রতিটি প্রশ্নের মান ১। প্রশ্নপত্রে কোনো প্রকার দাগ/চিহ্ন দেওয়া যাবে না।]

১. মানুষের সব অভাব পূরণ হয় না কেন?  
K সম্পদ সীমিত  
L সম্পদ অসীম  
M অভাব নির্বাচন সমস্যা  
N সঞ্চয়ের সমস্যা
২. যোগান রেখার অবস্থা কোনটি?  
K ডানদিকে উর্ধ্বগামী  
L ডানদিকে নিম্নগামী  
M বামদিকে উর্ধ্বগামী  
N বামদিকে নিম্নগামী
৩. অনুল্লত দেশের শিল্প কার্ঠামোর বৈশিষ্ট্য হলো—  
i. শিল্পকার্ঠামো সনাতন পদ্ধতির  
ii. যন্ত্রপাতি পুরোনো দিনের  
iii. শ্রমিকদের মজুরি ও দক্ষতা কম  
নিচের কোনটি সঠিক?  
K i ও ii L i ও iii  
M ii ও iii N i, ii ও iii
৪. নয়ন তেলের দাম যখন ২০০ টাকা লিটার তখন ২ লিটার তেল কিনে। তেলের দাম কমে ১০০ টাকা হলে নয়ন ৫ লিটার তেল ক্রয় কর। নয়ন অর্থনীতির কোন বিধি অনুসরণ করেছে?  
K উৎপাদন L উপযোগ  
M চাহিদা N যোগান
৫. ভোক্তা দ্রব্য ভোগ ও তৈরির স্বাধীনতা পায়—  
i. ধনতান্ত্রিক অর্থব্যবস্থায়  
ii. সমাজতান্ত্রিক অর্থব্যবস্থায়  
iii. দেশে মিশ্র অর্থব্যবস্থায়  
নিচের কোনটি সঠিক?  
K i ও ii L i ও iii  
M ii ও iii N i, ii ও iii
৬. মোট জাতীয় আয় হিসাব করতে কোন সময়টি বিবেচনায় আনতে হয়  
K ১ বছর L ২ বছর  
M ৩ বছর N ৫ বছর
৭. ফসল কাটা ও বোনার সময় ছাড়া অন্য সময় গ্রামীণ কৃষি শ্রমিকদের কোনো কাজ থাকে না ইহা কোন ধরনের বেকারত্ব?  
K ছদ্মবেশি বেকারত্ব  
L মৌসুমি বেকারত্ব  
M স্পষ্ট বেকারত্ব  
N সাময়িক বেকারত্ব
৮. লোহা পিটিয়ে যন্ত্রপাতি তৈরি কোন ধরনের উপযোগ?  
K রূপগত উপযোগ  
L স্থানগত উপযোগ  
M সময়গত উপযোগ  
N সেবাগত উপযোগ
৯. বাজার ভারসাম্যের ক্ষেত্রে নিচের কোন শর্তটি আবশ্যিক?  
K যে বিন্দুতে চাহিদা > যোগান  
L যে বিন্দুতে চাহিদা = যোগান  
M যে বিন্দুতে যোগান > চাহিদা  
N যোগান দাম < চাহিদা দাম  
■ উদ্বীপকটি পড়ে ১০ ও ১১নং প্রশ্নের উত্তর দাও :  
মনির নিজের চেষ্টায় একটি অটোরিকশা তৈরি করে। সে নিজেই এটা চালিয়ে প্রতিদিন ভালো রোজগার করে। এলাকার অনেক বেকার যুবক তার কাজের মাধ্যমে উৎসাহিত হয় ও কাজটি সম্পাদন করে।
১০. মনিরের যোগ্যতাটি কোন ধরনের?  
K উৎপাদিত L সমষ্টিগত  
M মানবিক N প্রাকৃতিক
১১. মনিরের সম্পদের মধ্যে অভাব রয়েছে—  
i. হস্তান্তরযোগ্যতা  
ii. বাহ্যিকতার  
iii. উপযোগের  
নিচের কোনটি সঠিক?  
K i ও ii L i ও iii  
M ii ও iii N i, ii ও iii
১২. উৎপাদনের উপকরণ কোনটি?  
K ব্যাংক L সংগঠন  
M ক্রেতা-বিক্রেতা N ভোক্তা
১৩. উন্নত দেশের বৈশিষ্ট্য কোনটি?  
K গড় আয় বেশি  
L গড় আয় কম  
M ভূমি ও প্রাকৃতিক সম্পদের অপূর্ণ ব্যবহার  
N আমদানি ব্যয় বেশি
১৪. 'X' কারখানার মালিক তার শ্রমিকদের বলেন, এ বছর যদি সোয়েটার তৈরির সংখ্যা বাড়তে পার তাহলে লাভের ৫% তোমাদের মধ্যে বন্টন করে দেব। ফলে বছর শেষে সোয়েটার তৈরি আগের চেয়ে অনেক বেড়ে যায়। 'X' কারখানায় উৎপাদন বাড়ার কারণ কী?  
K সফযোগ ব্যয়  
L ভর্তুকি প্রদান  
M অভ্যন্তরীণ ব্যয় সংকোচন  
N প্রণোদনা
১৫. কোনটি থেকে দেশের অর্থনীতির প্রকৃত অবস্থা জানা যায়?  
K জাতীয় আয়  
L জাতীয় ব্যয়  
M নিট জাতীয় আয়  
N মাথাপিছু মোট দেশজ উৎপাদন
১৬. জিডিপির নির্ধারক কোনটি?  
K মাথাপিছু আয় L সরকারি আয়  
M সরকারি ব্যয় N সচলতা  
■ উদ্বীপকটি পড়ে ১৭ ও ১৮নং প্রশ্নের উত্তর দাও :  
রূপক এক একর জমি বর্গা নিয়ে পৌষ-মাঘ মাসে ১০০ মণ ধান উৎপাদন করে। ওই সময় ধানের দাম তেমন না থাকায় সে ধান মজুত করে। ভাদ্র-আশ্বিন মাসে সে ১০০ মণ ধান দ্বিগুণ দামে বিক্রি করে।
১৭. রূপকের ক্ষেত্রে কোন ধরনের উপযোগ দেখা যায়?  
K স্থানগত উপযোগ  
L সময়গত উপযোগ  
M সেবাগত উপযোগ  
N মালিকানাগত উপযোগ
১৮. উৎপাদনের উপকরণের দৃষ্টিতে রূপক—  
i. একজন মালিক  
ii. একজন শ্রমিক  
iii. একজন সংগঠক  
নিচের কোনটি সঠিক?  
K i ও ii L i ও iii  
M ii ও iii N i, ii ও iii
১৯. পাছাড়া বনে রয়েছে কোনটি?  
K চম্পা, গর্জন L সন্দরী, শাল  
M গেওয়া, শিমুল N বনজাম, কড়ই
২০. ফিরোজা মহিলা অধিদপ্তরের সাহায্যে বুটিক্স-এর কাজ শিখে। বাসার কাছে একটি দোকান ভাড়া নিয়ে কাজ শুরু করে। তার শাশুড়ি ও স্বামী এ কাজে তাকে সহযোগিতা করে। ফিরোজা বেগমের ঘটনা মানবসম্পদ উন্নয়নের কোন পদ্ধতিতে পড়ে?  
K শিক্ষা  
L প্রশিক্ষণ  
M মানব সম্পদ উন্নয়ন পরিকল্পনা  
N নারীর ক্ষমতায়ন
২১. মোট উপযোগ হ্রাস পেলে প্রান্তিক উপযোগ কেমন হবে?  
K ধনাত্মক  
L ঋণাত্মক  
M গড় উপযোগের সমান  
N শূন্য
২২. কোনটি অবাধ লভ্য দ্রব্য?  
K প্রাকৃতিক বন L সৌর বিদ্যুৎ  
M নদীর পানি N পতিত জমি
২৩. ব্যাক কত সালে প্রতিষ্ঠিত হয়?  
K ১৯৭১ L ১৯৭২ M ১৯৭৩ N ১৯৭৪
২৪. অর্থনীতির জনক কাকে বলা হয়?  
K ডেভিড রিকার্ডো L জন স্টুয়ার্ট  
M অ্যাডাম স্মিথ N এল. রবিন্স
২৫. মাছ প্রাণিজ সম্পদ কেন?  
K মাছের প্রাণ আছে বলে  
L মাছের পর্যাপ্ত চাহিদা আছে বলে  
M প্রাকৃতিক ও জলাশয়ে পাওয়া যায়  
N পুষ্টি চাহিদা পূরণ করে
২৬. ক্রেতার একটি নির্দিষ্ট পণ্য নির্দিষ্ট সময়ে কেনার আকাঙ্ক্ষা, সামর্থ্য এবং নির্দিষ্ট মূল্যে দ্রব্যটি ক্রয় করার ইচ্ছাকে কী বলে?  
K চাহিদা L যোগান  
M প্রান্তিক ভোগ N প্রান্তিক উপযোগ
২৭. উৎপাদনের উপযোগ সৃষ্টি হয় কয় ভাগে?  
K ছয় L পাঁচ M চার N তিন  
■ উদ্বীপকটি পড়ে ২৮ ও ২৯নং প্রশ্নের উত্তর দাও :  
মবিনের একটি কাঠের কারখানা আছে। সে গাছ কিনে কারখানায় কাঠ ছেঁরাই করে। তার ভাই মামুন সেই কাঠ কিনে আসবাবপত্র বানিয়ে বিক্রি করে।
২৮. মবিনের কারখানায় তৈরি দ্রব্যকে কোন পর্যায়ের দ্রব্য বলা হয়?  
K চূড়ান্ত দ্রব্য L প্রাথমিক দ্রব্য  
M কাঁচামাল N মাধ্যমিক দ্রব্য
২৯. মামুনের তৈরি দ্রব্যের দামের মধ্যেই নিহিত আছে—  
i. শ্রমের মজুরি  
ii. কাঠের দাম  
iii. গাছের গাম  
নিচের কোনটি সঠিক?  
K i ও ii L i ও iii  
M ii ও iii N i, ii ও iii
৩০. বেকারের বৈশিষ্ট্য কোনটি?  
K প্রচলিত মজুরিতে কাজ করতে অনিচ্ছুক  
L প্রচলিত মজুরির কাজ করতে ইচ্ছুক  
M প্রচলিত মজুরির অধিক মজুরিতে কাজ করতে চায়  
N স্বেচ্ছা শ্রম নিয়ে কাজ করতে প্রস্তুত থাকে

Self test	১ K L M N	২ K L M N	৩ K L M N	৪ K L M N	৫ K L M N	৬ K L M N	৭ K L M N	৮ K L M N	৯ K L M N	১০ K L M N
	১১ K L M N	১২ K L M N	১৩ K L M N	১৪ K L M N	১৫ K L M N	১৬ K L M N	১৭ K L M N	১৮ K L M N	১৯ K L M N	২০ K L M N
	২১ K L M N	২২ K L M N	২৩ K L M N	২৪ K L M N	২৫ K L M N	২৬ K L M N	২৭ K L M N	২৮ K L M N	২৯ K L M N	৩০ K L M N

১	K	২	K	৩	N	৪	M	৫	L	৬	K	৭	L	৮	K	৯	L	১০	M	১১	K	১২	L	১৩	K	১৪	N	১৫	N
১৬	N	১৭	L	১৮	M	১৯	K	২০	N	২১	L	২২	M	২৩	L	২৪	M	২৫	N	২৬	K	২৭	L	২৮	N	২৯	N	৩০	L

## ৩ যশোর বোর্ড ২০২৩

### অর্থনীতি বহুনির্বাচনী অভীক্ষা

বিষয় কোড : I 4 I

পূর্ণমান : ৩০

সময় : ৩০ মিনিট

বিশেষ দ্রষ্টব্য : সরবরাহকৃত বহুনির্বাচনী অভীক্ষার উত্তরপত্রে প্রশ্নের ক্রমিক নম্বরের বিপরীতে প্রদত্ত বর্ণসংবলিত বৃত্তসমূহ হতে সঠিক/সর্বোৎকৃষ্ট উত্তরের বৃত্তটি বল পয়েন্ট কলম দ্বারা সম্পূর্ণ ভরাট কর। প্রতিটি প্রশ্নের মান ১। প্রশ্নপত্রে কোনো প্রকার দাগ/চিহ্ন দেওয়া যাবে না।

১. ভোগের একক বাড়ার সাথে প্রান্তিক উপযোগ—  
K হ্রাস পায় L বৃদ্ধি পায়  
M স্থির থাকে N শূন্য হয়
২. বাজারে সকল ভোক্তার চাহিদার সমষ্টিকে কী বলে?  
K সামাজিক চাহিদা L ব্যক্তিগত চাহিদা  
M বাজার চাহিদা N সামষ্টিক চাহিদা
৩. দামের সাথে যোগানের সম্পর্ক কী?  
K বিপরীতমুখী L ভিন্নমুখী  
M সম্পর্কহীন N সমমুখী
৪. কোন সভ্যতার যুগে ধর্মগ্রন্থে সরলভাবে অর্থনীতির আলোচনা হতো?  
K গ্রিক L বেবিলিয়ন  
M হিব্রু N সিন্দু
৫. ষোড়শ শতাব্দীর শেষ ভাগ থেকে অষ্টাদশ শতাব্দীর শেষভাগ পর্যন্ত বাণিজ্যবাদের প্রসার ঘটেছিল কোন দেশে?  
K আমেরিকায় L ফ্রান্সে  
M আফ্রিকায় N অস্ট্রেলিয়ায়
৬. সম্বল নির্ভর করে যেসব বিষয়ের উপর তা হলো—  
i. আয়ের পরিমাণ  
ii. দূরদৃষ্টি  
iii. সততা  
নিচের কোনটি সঠিক?  
K i ও ii L ii ও iii  
M i ও iii N i, ii ও iii
৭. জাতীয় আয় গণনায় লাভ বা ক্ষতির প্রভাব কী রকম?  
K প্রচুর L অসীম M সীমিত N শূন্য
৮. “অর্থনীতি এমন একটি বিজ্ঞান যা অসীম অভাব এবং বিকল্প ব্যবহারযোগ্য দুষ্প্রাপ্য উপকরণসমূহের মধ্যে সমন্বয় সাধনকারী কার্যাবলি আলোচনা করে”— উক্তি কার?  
K এল. রবিন্স L অ্যাডাম স্মিথ  
M অধ্যাপক গার্নার N আলফ্রেড মার্শাল
- উদ্দীপকটি পড়ে ৯ ও ১০নং প্রশ্নের উত্তর দাও :  
জামিল ‘ক’ দেশের বাসিন্দা। তার দেশে সকল উৎপাদন কাজ বেসরকারি উদ্যোগে পরিচালিত হয়।
৯. জামিল যে দেশের বাসিন্দা সে দেশের অর্থব্যবস্থা কীরূপ?  
K ধনতান্ত্রিক L সমাজতান্ত্রিক  
M মিশ্র N ইসলামি
১০. জামিলের দেশের অর্থব্যবস্থায়।  
K ভোগের পূর্ণ স্বাধীনতা নেই  
L আয় বৈষম্য বিদ্যমান  
M ব্যক্তিগত মুনাফার সুযোগ নেই  
N অবাধ প্রতিযোগিতা নেই
১১. প্রাকৃতিক সম্পদের উদাহরণ হলো—  
i. গ্যাস  
ii. কয়লা  
iii. ইট  
নিচের কোনটি সঠিক?  
K i ও ii L i ও iii  
M ii ও iii N i, ii ও iii
১২. অবস্ফগত সম্পদ বলতে বোঝায়—  
i. নার্সের সেবা  
ii. উকিলের আইনি পরামর্শ  
iii. মাতৃস্নেহ  
নিচের কোনটি সঠিক?  
K i ও iii L i ও ii  
M ii ও iii N i, ii ও iii
১৩. বিনামূল্যে প্রাপ্ত দ্রব্যকে কী বলে?  
K প্রাকৃতিক দ্রব্য L সহজলভ্য দ্রব্য  
M অবাধলভ্য দ্রব্য N প্রয়োজনীয় দ্রব্য
১৪. ভূমি হতে প্রাপ্ত আয়কে কী বলে?  
K মুনাফা L খাজনা  
M মজুরি N উৎপাদিত আয়
- উদ্দীপকটি পড়ে ১৫ ও ১৬নং প্রশ্নের উত্তর দাও :  
রহিম, করিম ও রাজু তিন ভাই। অন্য কোনো কাজ না থাকায় তারা সবাই মিলে তাদের ৫ বিঘা জমি চাষ করে। অথচ করিম চাইলে একাই সকল জমি চাষ করতে পারেন।
১৫. উদ্দীপকে কোন ধরনের বেকারত্ব প্রকাশ পেয়েছে?  
K মৌসুমি বেকারত্ব  
L ছদ্মবেশী বেকারত্ব  
M সাময়িক বেকারত্ব  
N স্থায়ী বেকারত্ব
১৬. এ ধরনের বেকারত্ব দূরীকরণের জন্য প্রয়োজন—  
i. শিল্পায়ন  
ii. বহু ফসলের চাষ  
iii. জাতীয়তাবোধ জাগ্রত করা  
নিচের কোনটি সঠিক?  
K i ও iii L i ও ii  
M ii ও iii N i, ii ও iii
১৭. কোনো দেশের জিডিপি গণনায় নিচের কোনটি অন্তর্ভুক্ত?  
K চূড়ান্ত দ্রব্যের মূল্য  
L সরকারি ঋণের সুদ  
M মূলধনী দ্রব্যের লাভ বা ক্ষতি  
N অতীতে উৎপাদিত পণ্য
- উদ্দীপকটি পড়ে ১৮ ও ১৯নং প্রশ্নের উত্তর দাও :  
আখলিছ আলি একটি কাপড় কলের মালিক। তিনি ব্যবসায়ের লাভ-ক্ষতি হিসেবের সময় তুলা, সুতা ও কাপড়ের মূল্য যোগ করায় তার হিসাবে সমস্যা হয়।
১৮. আখলিছ আলির হিসাবে কী ধরনের সমস্যা হয়?  
K প্রকৃত আয় কম হয়  
L দ্বৈত গণনা হয়  
M আয় বেশি হয়  
N হিসাবে সময় বেশি লাগে
১৯. আখলিছ আলির সমস্যা সমাধানে যে পদ্ধতি অনুসরণ করা যেতে পারে তা হলো—  
i. উৎপাদন পদ্ধতি  
ii. আয় পদ্ধতি  
iii. ব্যয় পদ্ধতি  
নিচের কোনটি সঠিক?  
K i ও ii L i ও iii  
M ii ও iii N i, ii ও iii
২০. মৌসুমি বেকারত্বের কারণ কোনটি?  
K সামাজিক  
L প্রাকৃতিক  
M অর্থনৈতিক  
N অভ্যাসগত
২১. মানব সম্পদ উন্নয়নে বড় উপায় কোনটি?  
K প্রশিক্ষণ  
L পুষ্টিকর খাদ্য  
M স্বাস্থ্যকর বাসস্থান  
N সামাজিক নিরাপত্তা
২২. বিনিয়োগ বাড়লে—  
i. বেকারত্ব হ্রাস পায়  
ii. উৎপাদন বাড়ে  
iii. আয় বাড়ে  
নিচের কোনটি সঠিক?  
K i ও ii L i ও iii  
M ii ও iii N i, ii ও iii
২৩. সিলেটের সুপারি রংপুরে নিয়ে বিক্রি করলে কোন ধরনের উপযোগ সৃষ্টি হয়?  
K সময়গত L স্থানগত  
M রূপগত N মালিকানাগত
২৪. সিলিকা বালু পাওয়া যায় কোন জেলায়?  
K জামালপুরে L বরিশালে  
M রাজশাহীতে N কুড়িগ্রামে
২৫. যোগানের বিবেচ্য বিষয় হলো—  
i. নির্দিষ্ট দ্রব্য  
ii. ক্ষেত্রের রুচি  
iii. নির্দিষ্ট দাম  
নিচের কোনটি সঠিক?  
K i ও ii L i ও iii  
M ii ও iii N i, ii ও iii
২৬. কোনো দ্রব্যের চাহিদা নির্ভর করে—  
K অভ্যাসের উপর  
L দামের উপর  
M যোগানের উপর  
N ইচ্ছার উপর
২৭. গড় উৎপাদন রেখার সর্বোচ্চ বিন্দুতে—  
K গড় উৎপাদন = প্রান্তিক উৎপাদন  
L গড় উৎপাদন < প্রান্তিক উৎপাদন  
M গড় উৎপাদন > প্রান্তিক উৎপাদন  
N প্রান্তিক উৎপাদন ক্রমহ্রাসমান
২৮. ফার্মের হিসাব বইতে থাকে না কোন ধরনের ব্যয়?  
K যাতায়াত ব্যয়  
L যোগাযোগ ব্যয়  
M অপ্রকাশ্য ব্যয়  
N প্রকাশ্য ব্যয়
২৯. কর্তব্য বণ্টন কার কাজ?  
K সংগঠকের  
L শ্রমিকের  
M ব্যবস্থাপকের  
N পরিদর্শকের
৩০. পরিবহণ ব্যবস্থা কোন ধরনের উপযোগ সৃষ্টি করে?  
K স্বত্বগত L কালগত  
M স্থানগত N সেবাগত

Self test	১	K L M N	২	K L M N	৩	K L M N	৪	K L M N	৫	K L M N	৬	K L M N	৭	K L M N	৮	K L M N	৯	K L M N	১০	K L M N
	১১	K L M N	১২	K L M N	১৩	K L M N	১৪	K L M N	১৫	K L M N	১৬	K L M N	১৭	K L M N	১৮	K L M N	১৯	K L M N	২০	K L M N
	২১	K L M N	২২	K L M N	২৩	K L M N	২৪	K L M N	২৫	K L M N	২৬	K L M N	২৭	K L M N	২৮	K L M N	২৯	K L M N	৩০	K L M N

১	K	২	M	৩	N	৪	M	৫	L	৬	K	৭	N	৮	K	৯	K	১০	L	১১	K	১২	N	১৩	M	১৪	L	১৫	L
১৬	L	১৭	K	১৮	L	১৯	N	২০	L	২১	K	২২	N	২৩	L	২৪	K	২৫	L	২৬	L	২৭	K	২৮	M	২৯	K	৩০	M

**৪ কুমিল্লা বোর্ড ২০২০**  
**অর্থনীতি বহুনির্বাচনী অভীক্ষা**

বিষয় কোড : **I 4 I**

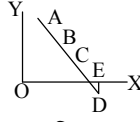
সময় : ৩০ মিনিট

পূর্ণমান : ৩০

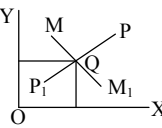
[বিশেষ দ্রষ্টব্য : সরবরাহকৃত বহুনির্বাচনী অভীক্ষার উত্তরপত্রে প্রশ্নের ক্রমিক নম্বরের বিপরীতে প্রদত্ত বর্ণসংবলিত বৃত্তসমূহ হতে সঠিক/সর্বোৎকৃষ্ট উত্তরের বৃত্তটি বল পয়েন্ট কলম দ্বারা সম্পূর্ণ ভরাট কর। প্রতিটি প্রশ্নের মান ১। প্রশ্নপত্রে কোনো প্রকার দাগ/চিহ্ন দেওয়া যাবে না।]

- জ্ঞানমূলক দেশ হচ্ছে সে সব দেশ যেগুলোতে জনসংখ্যার তুলনায় পুঁজি কম" - কে বলেছেন?  
K অধ্যাপক মার্শাল L অ্যাডাম স্মিথ  
M র্যাগনার নার্কস N ডেভিড রিকার্ডো
- প্রাচীন বেকারত্বে কোনটি পরিলক্ষিত হয়?  
K উৎপাদনে ঘাটতি  
L কর্মসংস্থানের অভাব  
M প্রান্তিক উৎপাদনশীলতা শূন্য  
N পেশার পরিবর্তন
- অনেকেই কোন অর্থব্যবস্থাকে একটি উন্নত অর্থব্যবস্থা বলে মনে করেন?  
K ধনতান্ত্রিক অর্থব্যবস্থা  
L মিশ্র অর্থব্যবস্থা  
M সমাজতান্ত্রিক অর্থব্যবস্থা  
N ইসলামি অর্থব্যবস্থা
- অর্থনীতির কোন ধারণায় উপকরণ দাম ও প্রযুক্তি স্থির থাকে?  
K বাজার চাহিদা  
L যোগান বিধি  
M চাহিদা বিধি  
N ক্রমহ্রাসমান প্রান্তিক উপাযোগ বিধি
- TMS প্রতিষ্ঠা লাভ করে-  
K ১৯৭২ সালে L ১৯৭৫ সালে  
M ১৯৮০ সালে N ১৯৮২ সালে
- নারীর ক্ষমতায়ন, সামাজিক বনায়ন ও স্বাস্থ্য পরিচর্যা কার্যক্রম বাস্তবায়ন করেন কোন প্রতিষ্ঠান?  
K ব্র্যাক L প্রশিকা  
M শক্তি ফাউন্ডেশন N ক্যরো বাংলাদেশ  
গ্রামীণ বেকারত্ব দূরীকরণে করণীয় কোনটি?  
K বৃহৎ শিল্প কারখানা স্থাপন  
L মূলধন ও অবকাঠামো উন্নয়ন  
M উৎপাদন ও চাষাবাদ বাড়ানো  
N ক্ষুদ্র ও কুটির শিল্প স্থাপন
- কারা ভূমিবাদের প্রচার ঘটায়?  
K চীনারা L ভারতীয়রা  
M ইংল্যান্ডেরা N ফরাসিরা
- কে অর্থনীতির দশটি মৌলিক নীতির কথা উল্লেখ করেছেন?  
K অ্যাডাম স্মিথ  
L জন স্টয়ার্ট  
M গ্রেগরি ম্যানকিউয়ের  
N ডেভিড রিকার্ডো
- কোনটির কারণে শহরে সামাজিক ব্যয় বেড়ে যায়?  
K উৎপাদন বৃদ্ধি L অবকাঠামো উন্নয়ন  
M পরিবেশ দূষণ N জনসংখ্যা বৃদ্ধি
- মহদ্রাস্থীতির ফলে যা ঘটে-  
i. দ্রব্যমূল্য বৃদ্ধি পায়  
ii. বেকারত্ব কমে যায়  
iii. দ্রব্যমূল্য স্থির থাকে  
নিচের কোনটি সঠিক?  
K i ও ii L i ও iii  
M ii ও iii N i, ii ও iii
- একটি সরল অর্থনীতিতে কয় ধরনের প্রতিনিধি থাকে?  
K ২ L ৩ M ৪ N ৫

চিত্রটি লক্ষ কর এবং ১৩নং প্রশ্নের উত্তর দাও :



- চিত্রের কোন বিন্দুতে প্রান্তিক উপাযোগ ঋণাত্মক হয়েছে?  
K A L B M C N D
- কোনটি বাংলাদেশের প্রধান খনিজ সম্পদ?  
K কয়লা L চীনা মাটি  
M কঠিন শিলা N প্রাকৃতিক গ্যাস
- কোন অর্থব্যবস্থায় 'সুদযুক্ত আমানতের' কথা বলা হয়েছে?  
K বাজার অর্থব্যবস্থা  
L নির্দেশমূলক অর্থব্যবস্থা  
M ইসলামি অর্থব্যবস্থা  
N মিশ্র অর্থব্যবস্থা
- নিচের কোনটি উৎপাদিত সম্পদ?  
K সাংগঠনিক দক্ষতা L কবির প্রতিভা  
M স্বাস্থ্যকেন্দ্র N খনিজ সম্পদ
- নিচের উদ্দীপকটি পড়ে ১৭ ও ১৮নং প্রশ্নের উত্তর দাও :  
S = Y - C
- সমীকরণে 'Y' দ্বারা কোনটিকে নির্দেশ করে?  
K আয় L ভোগব্যয়  
M সংরক্ষণ N বিনিয়োগ
- 'S' যেসব বিষয়ের উপর নির্ভরশীল-  
i. আয়ের পরিমাণ  
ii. পারিবারিক দায়িত্ববোধ  
iii. সামাজিক নিরাপত্তা  
নিচের কোনটি সঠিক?  
K i ও ii L i ও iii  
M ii ও iii N i, ii ও iii
- অবাধলভ্য দ্রব্য কোনটি?  
K নদীর পানি L চেয়ার-টেবিল  
M ঘর-বাড়ি N খেলার মাঠ
- চাহিদার সাথে দামের কেমন সম্পর্ক বিদ্যমান রয়েছে?  
K সমমুখী L বিপরীতমুখী  
M উর্ধ্বমুখী N নিম্নমুখী
- অর্থনীতির কোন ধারণায় চাহিদা ও যোগান পরস্পর সমান হয়?  
K চাহিদা বিধি  
L যোগানবিধি  
M ভারসাম্য দাম ও পরিমাণ  
N উপাযোগ বিধি
- উন্নত দেশসমূহে উৎপাদনের কোন উপকরণটির ভূমিকা সবচেয়ে বেশি?  
K ভূমি L মূলধন  
M শ্রম N সংগঠন
- চিত্রটি লক্ষ কর এবং ২৩ ও ২৪নং প্রশ্নের উত্তর দাও :



২৩. চিত্রে PP<sub>1</sub> ও MM<sub>1</sub> রেখাঙ্কন হলো-

- K যোগান ও চাহিদা রেখা  
L যোগান ও উপযোগ রেখা  
M উৎপাদন ও উপযোগ রেখা  
N চাহিদা ও উপযোগ রেখা

২৪. Q বিন্দুতে-

- i. চাহিদা ও যোগান সমান হয়  
ii. ক্রেতা ও বিক্রেতা এক্যমতে পৌঁছায়  
iii. কোনো দ্রব্য ক্রয়-বিক্রয় হয়  
নিচের কোনটি সঠিক?  
K i ও ii L i ও iii  
M ii ও iii N i, ii ও iii

২৫. জিডিপি পরিমাপের পদ্ধতি মূলত কয়টি?

- K দুই L তিন  
M চার N পাঁচ

২৬. মালধন রক্ষণাবেক্ষণ ও ক্ষয়ক্ষতি পূরণের ব্যয়কে কী বলা হয়?

- K CCA L GNI M NNP N NNI

উদ্দীপকটি পড়ে ২৭ ও ২৮নং প্রশ্নের উত্তর দাও :  
মি. 'X' লেখা পড়ার উদ্দেশ্যে কানাডায় যান। সেখানে তিনি লেখাপড়ার পাশাপাশি একটি কোম্পানিতে কাজ করেন। এতে তার খরচ চালিয়ে বেশ কিছু বৈদেশিক মুদ্রা পরিবারের নিকট প্রেরণ করেন।

২৭. মি. 'X'-এর পাঠানো অর্থ নিচের কোনটির সাথে যুক্ত হবে?

- K GDP L GNP  
M NNP N CCA

২৮. মি. 'X'-এর প্রেরিত অর্থ-

- i. কর্মসংস্থান সৃষ্টিতে সহায়তা করবে  
ii. উৎপাদন বৃদ্ধিতে সহায়তা করবে  
iii. মাথাপিছু আয় বৃদ্ধি করবে  
নিচের কোনটি সঠিক?  
K i ও ii L ii ও iii  
M i ও iii N i, ii ও iii

উদ্দীপকটি পড়ে ২৯ ও ৩০নং প্রশ্নের উত্তর দাও :  
একটি দেশের এক বছরের ভোগব্যয় ৫০০ কোটি টাকা, বিনিয়োগ ১,০০০ কোটি টাকা, সরকারি ব্যয় ২,০০০ কোটি টাকা, রপ্তানি আয় ২,৫০০ কোটি টাকা এবং আমদানি ব্যয় ৫০০ কোটি টাকা।

২৯. উক্ত দেশের জিডিপির পরিমাণ কত হবে?

- K ৫,০০০ কোটি টাকা  
L ৫,৫০০ কোটি টাকা  
M ৫,৬০০ কোটি টাকা  
N ৬,০০০ কোটি টাকা

৩০. যদি ওই দেশের রপ্তানি আয় ৫,০০০ কোটি হয় তবে ওই দেশের-

- i. অর্থনৈতিক উন্নয়ন সাধিত হবে  
ii. মাথাপিছু আয় বাড়বে  
iii. জীবনযাত্রার মান বৃদ্ধি পাবে  
নিচের কোনটি সঠিক?  
K i ও ii L i ও iii  
M ii ও iii N i, ii ও iii

Self test	১	K L M N	২	K L M N	৩	K L M N	৪	K L M N	৫	K L M N	৬	K L M N	৭	K L M N	৮	K L M N	৯	K L M N	১০	K L M N
	১১	K L M N	১২	K L M N	১৩	K L M N	১৪	K L M N	১৫	K L M N	১৬	K L M N	১৭	K L M N	১৮	K L M N	১৯	K L M N	২০	K L M N
	২১	K L M N	২২	K L M N	২৩	K L M N	২৪	K L M N	২৫	K L M N	২৬	K L M N	২৭	K L M N	২৮	K L M N	২৯	K L M N	৩০	K L M N

১	M	২	M	৩	L	৪	L	৫	M	৬	N	৭	N	৮	N	৯	M	১০	M	১১	K	১২	K	১৩	N	১৪	N	১৫	M
১৬	M	১৭	K	১৮	N	১৯	K	২০	L	২১	M	২২	L	২৩	K	২৪	N	২৫	L	২৬	K	২৭	L	২৮	N	২৯	L	৩০	N

## ✓ চট্টগ্রাম বোর্ড ২০২৩

### অর্থনীতি বহুনির্বাচনী অভীক্ষা

বিষয় কোড : I 4 I

পূর্ণমান : ৩০

সময় : ৩০ মিনিট

বিশেষ দ্রষ্টব্য : সরবরাহকৃত বহুনির্বাচনী অভীক্ষার উত্তরপত্রে প্রশ্নের ক্রমিক নম্বরের বিপরীতে প্রদত্ত বর্ণসংবলিত বৃত্তসমূহ হতে সঠিক/সর্বোৎকৃষ্ট উত্তরের বৃত্তটি বল পয়েন্ট কলম দ্বারা সম্পূর্ণ ভরাট কর। প্রতিটি প্রশ্নের মান ১। প্রশ্নপত্রে কোনো প্রকার দাগ/চিহ্ন দেওয়া যাবে না।

১. সবুজ বাজারে গিয়ে দর-কষাকষি করে মাছ কিনল। এখানে যা সমর্থন করে—  
i. চাহিদা ও যোগান সমান  
ii. চাহিদা ও যোগান বিপরীতমুখী  
iii. ভারসাম্য অর্জিত হয়েছে  
নিচের কোনটি সঠিক?  
K i ও ii L i ও iii  
M ii ও iii N i, ii ও iii
- উদ্দীপকটি পড়ে ২ ও ৩নং প্রশ্নের উত্তর দাও :  
'ক' দেশের অর্থনীতি কৃষি নির্ভর। দেশের অধিকাংশ জনগণ কৃষিকাজের উপর নির্ভরশীল হলেও কৃষি ব্যবস্থা অনুন্নত। এই দেশের জনগণের মাথাপিছু আয়ও কম।
২. 'ক' দেশের কৃষিব্যবস্থা অনুন্নত হওয়ার কারণ কী?  
K বাণিজ্য ঘাটতি  
L দুর্বল অবকাঠামো  
M উদ্যোক্তার অভাব  
N সীমিত প্রযুক্তির ব্যবহার
৩. দেশটির মাথাপিছু আয় কম হওয়ার যৌক্তিক কারণ—  
i. সঞ্চয় কম  
ii. মূলধন গঠনের হার কম  
iii. বিনিয়োগ কম  
নিচের কোনটি সঠিক?  
K i ও ii L i ও iii  
M ii ও iii N i, ii ও iii
৪. উৎপাদনে সাহায্য করে এমনসব প্রাকৃতিক সম্পদকে কী বলে?  
K শ্রম L মূলধন  
M সংগঠন N ভূমি
৫. উৎপাদন ক্ষেত্রে উৎপাদনের অবশিষ্ট উপাদানগুলোকে কে নিয়ন্ত্রণ করেন?  
K জমি L শ্রম  
M মূলধন N সংগঠন
৬. জাতীয় আয় গণনার সময় কোন পর্যায়ের দ্রব্য বিবেচিত হয়?  
K মাধ্যমিক পর্যায়ের L চূড়ান্ত পর্যায়ের  
M প্রাথমিক পর্যায়ের N বিক্রীত পর্যায়ের
৭. শিক্ষকের শিক্ষাদান উৎপাদনের কোন ধরনের উপকরণ?  
K ভূমি L শ্রম  
M মূলধন N সংগঠন
৮. দেশজ উৎপাদনে অন্তর্ভুক্ত হয় না—  
K আধুনিক প্রযুক্তি  
L মূলধনী দ্রব্য  
M সরকারি ঋণের সুদ  
N সরকারি সম্পদ
৯. লিটন একটি কৃষিপ্রধান ও জনবহুল দেশে বাস করেন। সেখানে উৎপাদনের ক্ষেত্রে অধিক গুরুত্ব বহন করে—  
i. ভূমি  
ii. শ্রম  
iii. মূলধন  
নিচের কোনটি সঠিক?  
K i ও ii L i ও iii  
M ii ও iii N i, ii ও iii
১০. বাংলাদেশের জাতীয় আয় গণনার কাজটি করে থাকেন—  
K বাংলাদেশ পরিসংখ্যান ব্যুরো  
L অর্থ মন্ত্রণালয়  
M পরিকল্পনা মন্ত্রণালয়  
N জাতীয় রাজস্ব বোর্ড
১১. অনুন্নত দেশে কোনটি বেশি হয়?  
K রপ্তানি L আমদানি  
M ক্রয় N বিক্রয়
১২. প্রান্তিক উৎপাদনশীলতা শূন্যবিশিষ্ট লোকদের বলে—  
i. ছদ্মবেশী বেকার  
ii. মৌসুমি বেকার  
iii. প্রচ্ছন্ন বেকার  
নিচের কোনটি সঠিক?  
K i ও ii L i ও iii  
M ii ও iii N i, ii ও iii
১৩. বাংলাদেশে নারী উন্নয়নে বড় সংগঠন কোনটি?  
K ব্র্যাক L আশা  
M শক্তি ফাউন্ডেশন N টিএমএসএস
১৪. অনুন্নত দেশের কৃষি প্রযুক্তি কেমন?  
K উন্নত L অনুন্নত  
M আধুনিক N সনাতনী
১৫. পৃথিবীতে কয় ধরনের অর্থনৈতিক ব্যবস্থা প্রচলিত আছে?  
K দুই L তিন  
M চার N পাঁচ
১৬. মানুষের জীবনে কোনটির শেষ নেই?  
K চাহিদার L অভাবের  
M সম্পদের N যোগানের
১৭. অর্থনীতিতে শ্রমিকরা কেন বেশি উৎপাদন করবে?  
K প্রণোদনা পেলে  
L ছুটি পেলে  
M স্বাধীনতা পেলে  
N ভূমি পেলে
১৮. ধনতন্ত্রে উৎপাদন কেন উৎপাদন করে?  
K ভোক্তার স্বাধীনতার জন্য  
L ভোট পাওয়ার জন্য  
M সাহায্য করার জন্য  
N মুনাফা অর্জনের জন্য
১৯. অর্থনৈতিক সমস্যার ক্ষেত্রে তুমি যেটি সমর্থন করবে—  
i. দক্ষতাপ্রাপ্যতা  
ii. চাহিদা  
iii. অসীম অভাব  
নিচের কোনটি সঠিক?  
K i ও ii L i ও iii  
M ii ও iii N i, ii ও iii
২০. বিদ্যালয় কোন ধরনের সম্পদ?  
K সেবাগত L মানবিক  
M জাতীয় N ব্যক্তিগত
২১. সঞ্চিত অর্থ যখন উৎপাদন বাড়ানোর কাজে ব্যবহৃত হয় তখন তাকে কী বলে?  
K মজুরি L আয়  
M বিনিয়োগ N মফনাফা
২২. ব্যক্তির সঞ্চয় নির্ভর করে কিসের উপর?  
K আয়ের পরিমাণ  
L বাজার পরিস্থিতি  
M পারিবারিক সদস্য  
N ভৌগোলিক পরিস্থিতি
২৩. নিচের কোন বৈশিষ্ট্য আছে বলে চশমা একটি সম্পদ?  
K উৎপাদন  
L সঞ্চয়  
M উপযোগ  
N বিনিয়োগ
২৪. বিনু প্রতি মাসে কিছু কিছু সঞ্চয় করে। বিনুর সঞ্চয় নির্ভর করে যার ওপর—  
i. আয়ের পরিমাণ  
ii. পারিবারিক দায়িত্ববোধ্য  
iii. সামাজিক নিরাপত্তা  
নিচের কোনটি সঠিক?  
K i ও ii L i ও iii  
M ii ও iii N i, ii ও iii
- উদ্দীপকটি পড়ে ২৫ ও ২৬নং প্রশ্নের উত্তর দাও :  
একজন চাল বিক্রোতা বিক্রির উদ্দেশ্যে ১০০ কোজি চাল নিয়ে এল। কিন্তু চালের দাম কমে যাওয়ায় তিনি ৫০ কেজি চাল রেখে দেন পরে বিক্রির জন্য এবং বাকী ৫০ কেজি বিক্রি করে বাসায় ফিরে যান।
২৫. দাম কমলে যোগানের কী ধরনের পরিবর্তন হয়?  
K বাড়ে  
L বিক্রয় বন্ধ  
M একই রকম থাকে  
N হ্রাস পায়
২৬. বিক্রোতার ৫০ কেজি চাল বিক্রির ক্ষেত্রে যৌক্তিকভাবে বিবেচ্য বিষয়—  
i. নির্দিষ্ট দ্রব্য  
ii. নির্দিষ্ট সময়  
iii. নির্দিষ্ট দাম  
নিচের কোনটি সঠিক?  
K i ও ii L i ও iii  
M ii ও iii N i, ii ও iii
২৭. মানুষের কর্ম প্রেরণার উৎস কী?  
K বাণিজ্য L অর্থ  
M স্নেহ-মমতা N অভাব
২৮. দামের সাথে যোগানের সম্পর্ক কেমন?  
K পরোক্ষ L দ্বিমুখী  
M সমমুখী N বিপরীতমুখী
২৯. উপযোগ কী?  
K অভাব পূরণের ক্ষমতা  
L অভাব পূরণের অক্ষমতা  
M পণ্য ভোগ করা  
N পণ্যের অক্ষমতা
৩০. ভারসাম্য দাম পাওয়া যায় কীভাবে?  
K চাহিদা ও ভোগ সমান হলে  
L ভোগ ও যোগান সমান হলে  
M চাহিদা ও যোগান অসমান হলে  
N চাহিদা ও যোগান সমান হলে

Self test	১	K L M N	২	K L M N	৩	K L M N	৪	K L M N	৫	K L M N	৬	K L M N	৭	K L M N	৮	K L M N	৯	K L M N	১০	K L M N
	১১	K L M N	১২	K L M N	১৩	K L M N	১৪	K L M N	১৫	K L M N	১৬	K L M N	১৭	K L M N	১৮	K L M N	১৯	K L M N	২০	K L M N
	২১	K L M N	২২	K L M N	২৩	K L M N	২৪	K L M N	২৫	K L M N	২৬	K L M N	২৭	K L M N	২৮	K L M N	২৯	K L M N	৩০	K L M N

১	L	২	N	৩	N	৪	N	৫	N	৬	L	৭	L	৮	M	৯	K	১০	K	১১	L	১২	L	১৩	N	১৪	N	১৫	M
১৬	L	১৭	K	১৮	N	১৯	L	২০	M	২১	M	২২	K	২৩	M	২৪	N	২৫	N	২৬	N	২৭	N	২৮	M	২৯	K	৩০	N



**৬ সিলেট বোর্ড ২০২০**  
**অর্থনীতি বহুনির্বাচনী অভীক্ষা**

বিষয় কোড : **I 4 I**

সময় : ৩০ মিনিট

পূর্ণমান : ৩০

বিশেষ দ্রষ্টব্য : সরবরাহকৃত বহুনির্বাচনী অভীক্ষার উত্তরপত্রে প্রশ্নের ক্রমিক নম্বরের বিপরীতে প্রদত্ত বর্ণসংবলিত বৃত্তসমূহ হতে সঠিক/সর্বোৎকৃষ্ট উত্তরের বৃত্তটি বল পয়েন্ট কলম দ্বারা সম্পূর্ণ ভরাট কর। প্রতিটি প্রশ্নের মান ১। প্রশ্নপত্রে কোনো প্রকার দাগ/চিহ্ন দেওয়া যাবে না।

১. “অর্থনীতি মানব জীবনের সাধারণ কার্যাবলি আলোচনা করে”— সংজ্ঞাটি প্রদান করেন—  
K এল. রবিন্স  
L অধ্যাপক মার্শাল  
M অ্যাডাম স্মিথ  
N অ্যারিস্টটল
২. অর্থনীতির মূল উদ্দেশ্য কী?  
K মানুষের কল্যাণ সাধন করা  
L সম্পদ আহরণ  
M ঘর-বাড়ি স্থাপন  
N চাষাবাদ
৩. শ্রমিকের বেতন কোন ধরনের ব্যয়?  
K প্রকাশ্য L অপ্রকাশ্য  
M মোট N প্রকৃত
৪. অর্থনীতিতে উপযোগ সৃষ্টির প্রক্রিয়াকে কী বলে?  
K ভোগ L বস্তু  
M উৎপাদন N অভাব
৫. প্রযুক্তির উন্নয়ন বলতে বোঝায়—  
i. দক্ষতার উন্নয়ন  
ii. নতুন সজ্জাবনা  
iii. নতুন আবিষ্কৃত যন্ত্রপাতি  
নিচের কোনটি সঠিক?  
K i ও ii L ii ও iii  
M i ও iii N i, ii ও iii
৬. চাহিদার সাথে ঘনিষ্ঠ সম্পর্ক বিদ্যমান—  
K উপযোগ ও মূল্য  
L সময় ও দাম  
M যোগান ও চাহিদা  
N উৎপাদন ও মজুদ
৭. GNP-এর পূর্ণরূপ কী?  
K Gross National Product  
L Gross Net Product  
M Gross Net Production  
N National Gross Product
৮. বিনিয়োগ কিসের উপর নির্ভর করে?  
K উৎপাদনের L সঞ্চয়ের  
M সম্পদের N উপযোগের
৯. অর্থনৈতিক উন্নয়নের গুরুত্বপূর্ণ উপাদান হলো—  
K শিল্প  
L বাণিজ্য  
M দক্ষ মানব সম্পদ  
N ভৌগোলিক অবস্থা  
■ উদ্দীপকটি পড়ে ১০ ও ১১নং প্রশ্নের উত্তর দাও :  
রাফিয়া যে দেশে বাস করে সেখানকার যোগাযোগ ব্যবস্থা উন্নত। দেশটি প্রাকৃতিক সম্পদেও সমৃদ্ধ।
১০. রাফিয়ার দেশটি কোন ধরনের?  
K উন্নত L অনুন্নত  
M উন্নয়নশীল N স্ব-নির্ভর দেশ
১১. রাফিয়ার দেশটি দক্ষ জনশক্তি গঠনে যে ধরনের ভূমিকা রাখে—  
i. উন্নত শিক্ষা ব্যবস্থা  
ii. প্রশিক্ষণ  
iii. গবেষণা  
নিচের কোনটি সঠিক?  
K i ও ii L ii ও iii  
M i ও iii N i, ii ও iii
১২. কৃষি বহির্ভূত অর্থনৈতিক কাজ—  
i. শিল্প কারখানার কাজ  
ii. পোশাক শিল্পের কাজ  
iii. রাস্তাঘাট নির্মাণের কাজ  
নিচের কোনটি সঠিক?  
K i ও ii L ii ও iii  
M i ও iii N i, ii ও iii
১৩. কাঁচামাল কোন ধরনের সম্পদ?  
K প্রাকৃতিক L সামাজিক  
M উৎপাদিত N ব্যক্তিগত
১৪. চূনাপাথর ব্যবহৃত হয়—  
i. কাঁচ তৈরিতে  
ii. সাবান তৈরিতে  
iii. বাসনপত্র তৈরিতে  
নিচের কোনটি সঠিক?  
K i ও ii L ii ও iii  
M i ও iii N i, ii ও iii
১৫. বাণিজ্যবাদের উদ্ভব ঘটে—  
K ইংল্যান্ডে L জার্মানিতে  
M আমেরিকায় N অস্ট্রিয়ায়
১৬. উৎপত্তির দিক থেকে সম্পদ কত প্রকার?  
K ২ L ৩ M ৪ N ৫
১৭. বাংলাদেশের একমাত্র পানি বিদ্যুৎ উৎপাদন কেন্দ্রটি কোন নদীর তীরে অবস্থিত?  
K কর্ণফুলি L মাতামুহুরি  
M ফেনী N সন্দ্বিয়া
- উদ্দীপকটি পড়ে ১৮ ও ১৯নং প্রশ্নের উত্তর দাও :  
বিশ্ব ব্যাংক কর্তৃক প্রকাশিত ২০২০ সালের একটি প্রতিবেদন দেখে রহমান জানতে পারে ‘ক’ দেশের মাথাপিছু আয় ৬৫০৫১ মার্কিন ডলার।
১৮. অর্থনৈতিক উন্নয়নের দিক দিয়ে ‘ক’ দেশটি কোন শ্রেণিভুক্ত?  
K উন্নয়নশীল L অনুন্নত  
M স্বল্পউন্নত N উন্নত
১৯. উক্ত দেশের মাথাপিছু আয় বেশি হবার কারণে  
i. জীবনযাত্রার মান উন্নত  
ii. শ্রমিকদের কর্মক্ষমতা বেশি  
iii. উন্নত নাগরিক সুবিধা লাভ করে  
নিচের কোনটি সঠিক?  
K i ও ii L ii ও iii  
M i ও iii N i, ii ও iii
২০. মন্দাস্থিতি কী?  
K মূল্যস্ফোরণ L মূল্যের বৃদ্ধি  
M যোগানস্ফোরণ N চাহিদাস্ফোরণ
২১. অবাধলভ্য দ্রব্য কোনটি?  
K আলো, বাতাস L চেয়ার, টেবিল  
M ঘর-বাড়ি N খাদ্য, বস্ত্র
২২. নিচের কোনটি মূল্যবান বৃক্ষ?  
K গরান L শিমুল  
M চাপা N বাঁশ
২৩. কখন সরকারি হস্তক্ষেপ জরুরি হয়ে পড়ে?  
K ভোগ বেড়ে গেলে  
L বাজার ব্যবস্থা ব্যর্থ হলে  
M সম্পদের সুষ্ঠু ব্যবহার হলে  
N চাহিদা ও যোগান সমান হলে
২৪. কোন দ্রব্য একাধিকবার উৎপাদনে ব্যবহার করা হয়?  
K অস্থায়ী L মূলধনী  
M মধ্যবর্তী N চূড়ান্ত
২৫. অনুন্নত দেশের বেশির ভাগ মানুষ কোথায় বাস করে?  
K শহরে L গ্রামে  
M বস্তিতে N নদীর ধারে
২৬. উপযোগ হলো—  
i. অভাবপূরণের ক্ষমতা  
ii. দ্রব্যের উপকারিতা  
iii. একটি মানসিক ধারণা  
নিচের কোনটি সঠিক?  
K i ও ii L ii ও iii  
M i ও iii N i, ii ও iii
২৭. জিডিপি কে মূলত কতভাবে পরিমাপ করা যায়?  
K ২ L ৩ M ৪ N ৫
- উদ্দীপকটি পড়ে ২৮ ও ২৯নং প্রশ্নের উত্তর দাও :  
রবিনের কিছু মূলধন, একটি পুকুর, কিছু মাছের পোনা ও দক্ষ শ্রমিক আছে।
২৮. রবিন নিচের কোনটি প্রয়োগ করে উৎপাদন প্রক্রিয়া সম্পন্ন করবে?  
K ভূমি L শ্রম  
M মূলধন N সংগঠন
২৯. সংগঠনের মূল কাজ হলো—  
i. উদ্যোগ গ্রহণ  
ii. মন্দাফা অর্জন  
iii. ঝুঁজি গ্রহণ  
নিচের কোনটি সঠিক?  
K i ও ii L ii ও iii  
M i ও iii N i, ii ও iii
৩০. অর্থনৈতিক উন্নয়নের কেন্দ্রবিন্দু হলো—  
K মূলধন L ভূমি  
M শ্রম N উদ্যোক্তা

Self test	১	K	L	M	N	২	K	L	M	N	৩	K	L	M	N	৪	K	L	M	N	৫	K	L	M	N	৬	K	L	M	N	৭	K	L	M	N	৮	K	L	M	N	৯	K	L	M	N	১০	K	L	M	N
	১১	K	L	M	N	১২	K	L	M	N	১৩	K	L	M	N	১৪	K	L	M	N	১৫	K	L	M	N	১৬	K	L	M	N	১৭	K	L	M	N	১৮	K	L	M	N	১৯	K	L	M	N	২০	K	L	M	N
	২১	K	L	M	N	২২	K	L	M	N	২৩	K	L	M	N	২৪	K	L	M	N	২৫	K	L	M	N	২৬	K	L	M	N	২৭	K	L	M	N	২৮	K	L	M	N	২৯	K	L	M	N	৩০	K	L	M	N

১	L	২	K	৩	K	৪	M	৫	M	৬	L	৭	K	৮	L	৯	M	১০	K	১১	N	১২	N	১৩	M	১৪	K	১৫	K
১৬	L	১৭	K	১৮	N	১৯	N	২০	L	২১	K	২২	K	২৩	L	২৪	L	২৫	L	২৬	M	২৭	L	২৮	N	২৯	M	৩০	N

## ৭ বরিশাল বোর্ড ২০২৩

## অর্থনীতি বহুনির্বাচনি অভীক্ষা

বিষয় কোড : I 4 I

পূর্ণমান : ৩০

সময় : ৩০ মিনিট

বিশেষ দ্রষ্টব্য : সরবরাহকৃত বহুনির্বাচনি অভীক্ষার উত্তরপত্রে প্রশ্নের ক্রমিক নম্বরের বিপরীতে প্রদত্ত বর্ণসংবলিত বৃত্তসমূহ হতে সঠিক/ সর্বোৎকৃষ্ট উত্তরের বৃত্তটি বল পয়েন্ট কলম দ্বারা সম্পূর্ণ ভরাট কর। প্রতিটি প্রশ্নের মান ১। প্রশ্নপত্রে কোনো প্রকার দাগ/চিহ্ন দেওয়া যাবে না।

১. ভূমিবাদীদের মতে, উৎপাদনশীল খাত কোনটি?  
K কৃষি L শিল্প  
M সেবা N বাণিজ্য
২. “অর্থনীতি মানবজীবনের সাধারণ কার্যাবলি নিয়ে আলোচনা করে”— উক্তিটি কার?  
K অ্যাডাম স্মিথ L এল. রবিন্স  
M আলফ্রেড মার্শাল N পল স্যামুয়েলসন
৩. বাংলাদেশে পানির প্রধান উৎস কতটি?  
K দইটি L তিনটি  
M চারটি N পাঁচটি
৪.  $S = Y - C$  সমীকরণটি অর্থনীতির কোন ধারণাকে নির্দেশ করে?  
K আয় L ভোগ  
M সঞ্চয় N বিনিয়োগ
৫. কোনটি ধনতাত্ত্বিক অর্থব্যবস্থার বৈশিষ্ট্য?  
K আয় বৈষম্য L যৌথ উদ্যোগ  
M অবাধ প্রতিযোগিতার অভাব N সুদমুক্ত আমানত
৬. অর্থনীতি দুস্তাপাতার সৃষ্টি হয়—  
i. অভাব অসীম হলে  
ii. অভাব সসীম হলে  
iii. সম্পদ সসীম হলে  
নিচের কোনটি সঠিক?  
K i ও ii L i ও iii  
M ii ও iii N i, ii ও iii
- উদ্দীপকটি পড়ে ৭ ও ৮নং প্রশ্নের উত্তর দাও :  
রাবির ছোটবেলা থেকেই কঠোর পরিশ্রমী। সে তার বুদ্ধি, দক্ষতা, যোগ্যতা ও সাংগঠনিক ক্ষমতা দ্বারা অনেক সম্পদের মালিক হয়েছে। তার আর কোনো কিছুর অভাব নাই।
৭. রাবির যা দ্বারা সম্পদের মালিক হয়েছেন তা কোন ধরনের সম্পদ?  
K ব্যক্তিগত L উৎপাদিত  
M প্রাকৃতিক N মানবিক
৮. রাবির সম্পদকে যে বৈশিষ্ট্যের অভাবে সম্পদ বলা যায় না, তা হলো—  
i. হস্তান্তরযোগ্যতা  
ii. বাহ্যিকতা  
iii. অপ্রাচুর্যতা  
নিচের কোনটি সঠিক?  
K i ও ii L i ও iii  
M ii ও iii N i, ii ও iii
৯. কোনো দ্রব্যের চাহিদা কিসের উপর নির্ভর করে?  
K দাম L যোগান  
M উৎপাদন N আয়
১০. মোট উপযোগ কমে গেলে প্রান্তিক উপযোগ কেমন হয়?  
K শূন্য হয় L বৃদ্ধি পায়  
M পরিবর্তন হয় না N ঋণাত্মক হয়
১১. মোট উপযোগ কেমন হারে বৃদ্ধি পায়?  
K গাণিতিক L জ্যামিতিক  
M ক্রমবর্ধমান N ক্রমহ্রাসমান
- উদ্দীপকটি পড়ে ১২ ও ১৩নং প্রশ্নের উত্তর দাও :  
জিন্মাহ ৫টি মুরগি বিক্রয় করার জন্য বাজারে নিয়ে গেল। বাজারে মুরগির দাম কম হওয়ায় ২টি বিক্রয় করল এবং বাকি ৩টি ফিরিয়ে নিয়ে এল।
১২. জিন্মাহের ২টি মুরগি বিক্রির ঘটনাকে অর্থনীতিতে কী বলে?  
K চাহিদা L যোগান  
M ভোগ N সঞ্চয়
১৩. জিন্মাহর আচরণ থেকে বুঝা যায়—  
i. দাম কমলে যোগান বাড়ে  
ii. দাম কমলে যোগান কমে  
iii. দাম বাড়লে যোগান বাড়ে  
নিচের কোনটি সঠিক?  
K i ও ii L i ও iii  
M ii ও iii N i, ii ও iii
১৪. উৎপাদনের মৌলিক উপকরণ কতটি?  
K ২ L ৩ M ৪ N ৫
১৫. পৌষ-মাঘ মাসের ধান ভাদ্র-আশ্বিন মাসে বিক্রয় করলে কোন উপযোগ সৃষ্টি হয়?  
K রূপগত L স্থানগত  
M মালিকানাগত N সময়গত
১৬. যেসব ব্যয় ফার্মের হিসাব বইয়ে থাকে তা হলো—  
i. কারখানা স্থাপন  
ii. মূলধনের সুদ  
iii. বাড়ি ভাড়া  
নিচের কোনটি সঠিক?  
K i ও ii L i ও iii  
M ii ও iii N i, ii ও iii
১৭. সব ধরনের প্রাকৃতিক সম্পদের উৎপাদনের কোন উপকরণের অন্তর্ভুক্ত?  
K ভূমি L শ্রম  
M মূলধন N সংগঠন
১৮. সংগঠনের প্রথম ধাপ কোনটি?  
K ব্যবসায়ের কার্যাবলি নির্ধারণ  
L ব্যবসায়ের উদ্দেশ্য ও প্রকৃতি নির্ধারণ  
M কর্তব্য বন্টন  
N কার্যাবলির বিভাজনকরণ
১৯. বাংলাদেশের অর্থনীতিকে কতটি খাতে বিভক্ত করা হয়?  
K ১২ L ১৩ M ১৫ N ১৭
২০. GNI থেকে CCA বাদ দিলে কোনটি পাওয়া যায়?  
K GNP L GDP  
M PCI N NNI
২১. ব্যয় পদ্ধতিতে জাতীয় আয় নির্ণয়ের সূত্র কোনটি?  
K  $C+I+G$   
L  $C+I+G+(X-M)$   
M  $C+I+G+(X+M)$   
N  $C+I+G+M$
- উদ্দীপকটি পড়ে ২২ ও ২৩নং প্রশ্নের উত্তর দাও :  
রায়হান মিয়া একটি কারখানার মালিক। তিনি কারখানার আয়-ব্যয় হিসাব করার সময় প্রাথমিক ও মাধ্যমিক উভয় পণ্য বিবেচনা করেন। তার প্রকৃত আয় হিসাব করতে সমস্যা হয়।
২২. রায়হান মিয়ার হিসাবের সময় কোন সমস্যা সৃষ্টি হয়?  
K মূলধন বেশি হয়  
L মূলধনের ঘাটতি হয়  
M দ্বৈত গণনা হয়  
N প্রকৃত আয় কম হয়
২৩. রায়হান মিয়া উক্ত সমস্যা সমাধান করতে যে পদ্ধতি অনুসরণ করতে পারেন, তা হলো—  
i. উৎপাদন পদ্ধতি  
ii. আয় পদ্ধতি  
iii. ব্যয় পদ্ধতি  
নিচের কোনটি সঠিক?  
K i ও ii L i ও iii  
M ii ও iii N i, ii ও iii
২৪. মানব সম্পদ উন্নয়নে কোনটি জরুরি?  
K শিক্ষা L প্রশিক্ষণ  
M শ্রম N অর্থ
২৫. ব্র্যাক কত সালে প্রতিষ্ঠিত?  
K ১৯৭২ L ১৯৭৫  
M ১৯৮৫ N ১৯৯২
২৬. দারিদ্র্যের দুই চক্রের প্রবক্তা কে?  
K পল স্যামুয়েলসন  
L র্যাগনার নার্কস  
M স্টুয়ার্ট মিল  
N এল. রবিন্স
২৭. বাংলাদেশে নারী উন্নয়নের বড় সংগঠন কোনটি?  
K ব্যুরো বাংলাদেশ L টিএমএসএস  
M আশা N ব্র্যাক
২৮. উন্নত দেশের বৈশিষ্ট্য হলো—  
i. দক্ষ জনশক্তি  
ii. রাজনৈতিক স্থিতিশীলতা  
iii. মূলধনের প্রাচুর্যতা  
নিচের কোনটি সঠিক?  
K i ও ii L i ও iii  
M ii ও iii N i, ii ও iii
২৯. ২০১০ সাল থেকে ২০১৬ সালের মধ্যে চরম দারিদ্র্যের হার হ্রাস পেয়েছে কত শতাংশ হারে?  
K ৩১.৫ L ২৪.৩  
M ৪.২৩ N ৪.৭
৩০. অর্থনীতির জনক কে?  
K অ্যারিস্টটল  
L অ্যাডাম স্মিথ  
M পল স্যামুয়েলসন  
N এল. রবিন্স

Self test	১	K	L	M	N	২	K	L	M	N	৩	K	L	M	N	৪	K	L	M	N	৫	K	L	M	N	৬	K	L	M	N	৭	K	L	M	N	৮	K	L	M	N	৯	K	L	M	N	১০	K	L	M	N
	১১	K	L	M	N	১২	K	L	M	N	১৩	K	L	M	N	১৪	K	L	M	N	১৫	K	L	M	N	১৬	K	L	M	N	১৭	K	L	M	N	১৮	K	L	M	N	১৯	K	L	M	N	২০	K	L	M	N
	২১	K	L	M	N	২২	K	L	M	N	২৩	K	L	M	N	২৪	K	L	M	N	২৫	K	L	M	N	২৬	K	L	M	N	২৭	K	L	M	N	২৮	K	L	M	N	২৯	K	L	M	N	৩০	K	L	M	N

১	K	২	M	৩	L	৪	M	৫	K	৬	L	৭	N	৮	K	৯	K	১০	N	১১	N	১২	L	১৩	M	১৪	M	১৫	N
১৬	M	১৭	K	১৮	L	১৯	M	২০	N	২১	L	২২	M	২৩	M	২৪	L	২৫	K	২৬	L	২৭	L	২৮	N	২৯	M	৩০	L

**৮ দিনাজপুর বোর্ড ২০২০**

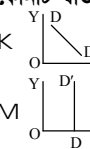
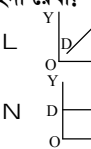
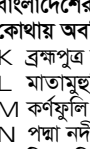
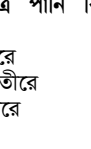
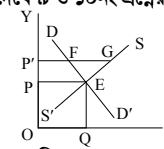
**অর্থনীতি বহুনির্বাচনী অভীক্ষা**

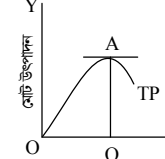
বিষয় কোড : **I 4 I**

সময় : ৩০ মিনিট

পূর্ণমান : ৩০

[বিশেষ দ্রষ্টব্য : সরবরাহকৃত বহুনির্বাচনী অভীক্ষার উত্তরপত্রে প্রশ্নের ক্রমিক নম্বরের বিপরীতে প্রদত্ত বর্ণসংবলিত বৃত্তসমূহ হতে সঠিক/সর্বোৎকৃষ্ট উত্তরের বৃত্তটি বল পয়েন্ট কলম দ্বারা সম্পূর্ণ ভরাট কর। প্রতিটি প্রশ্নের মান ১। প্রশ্নপত্রে কোনো প্রকার দাগ/চিহ্ন দেওয়া যাবে না।]

১. চিনি উৎপাদন কারখানায় চিনি তৈরির মেশিন কোন ধরনের দ্রব্য?  
 K মূলধনী দ্রব্য L মধ্যবর্তী দ্রব্য  
 M স্থায়ী ভোগ দ্রব্য N চূড়ান্ত দ্রব্য
২. কোনটি স্বাভাবিক চাহিদা রেখা?  
 K  L   
 M  N 
৩. বাংলাদেশের একমাত্র পানি বিদ্যুৎ কেন্দ্র কোথায় অবস্থিত?  
 K ব্রহ্মপুত্র নদীর তীরে  
 L মাতামুহুরি নদীর তীরে  
 M কর্ণফুলি নদীর তীরে  
 N পদ্মা নদীর তীরে
৪. একটি জমিতে মাছের খামার করা যায়। আবার আখের চাষ করা যায়। কৃষক মাছের খামার করার সিদ্ধান্ত নিলেন। এটি অর্থনীতির কোন ধারণার সাথে মিলে যায়?  
 K ব্যক্তিগত উদ্যোগ L উৎপাদন  
 M সুযোগ ব্যয় N চয়ন
৫. কোনটি কৃষি সংক্রান্ত অর্থনৈতিক কাজ?  
 K কামারের লাঙল তৈরি  
 L জমিতে বৈজ্ঞানিক পদ্ধতিতে সেচ প্রদান  
 M কারখানায় সার তৈরি  
 N কৃষকের জন্য জামা তৈরি
৬. প্রাকৃতিক ও পরিবেশগত অবস্থা ভালো রাখার জন্য দেশে শতকরা কত ভাগ বনভূমি থাকা প্রয়োজন?  
 K ১১.১ ভাগ L ২৩.৭০ ভাগ  
 M ২৫.০০ ভাগ N ৩৩.৮৪ ভাগ
৭. পিয়াজের দাম কমে যাওয়ায় বাজারে পিয়াজের সরবরাহ কমে গেল। এটি কোন বিধি অনুসরণ করে?  
 K যোগান বিধি L চাহিদা বিধি  
 M উৎপাদন বিধি N উপযোগ বিধি
৮. চাহিদা বিধি কখন অকার্যকর হবে?  
 K দাম বাড়লে  
 L দাম কমলে  
 M ক্রেতার আয় বাড়লে  
 N বিকল্প দ্রব্যের দাম একই থাকলে
- চিত্রটি দেখে ৯ ও ১০নং প্রশ্নের উত্তর দাও :  

৯. চিত্রে কোন বিন্দুতে ভারসাম্য নির্দেশ করে?  
 K F L E M G N Q
১০. ভারসাম্য বিন্দুতে—  
 i. চাহিদা = যোগান  
 ii. ভারসাম্য দাম P এবং ভারসাম্য পরিমাণ Q  
 iii. দাম বৃদ্ধির প্রবণতা থাকে  
 নিচের কোনটি সঠিক?  
 K i ও ii L i ও iii  
 M ii ও iii N i, ii ও iii

১১. 
- চিত্রে মোট উৎপাদনের পরিমাণ কত?  
 K OA L TP M OY N QA
- কে ব্যবসায়ের ভিত্তি?  
 K মালিক L উৎপাদক  
 M সংগঠক N ক্রেতা
১৩. GDP পরিমাপের জন্য বাংলাদেশের অর্থনীতিতে মোট কয়টি প্রধান খাতে বিভক্ত করা হয়?  
 K ১০টি L ১৫টি M ২০টি N ২৫টি
- উদ্দীপকটি পড়ে ১৪ ও ১৫নং প্রশ্নের উত্তর দাও :  
 জামালের একটি মাছের খামার আছে। সেখানে সে ও তার দুই ছেলে মোট তিনজন কাজ করত। পরবর্তীতে জামাল তার দুই ভাগ্নেকে ওই একই খামারে কাজ দিল। কিন্তু খামারের উৎপাদন ও আয় একই থাকল।
১৪. এটি কোন ধরনের বেকারত্বের উদাহরণ?  
 K মৌসুমি বেকারত্ব  
 L ইচ্ছাকৃত বেকারত্ব  
 M সাময়িক বেকারত্ব  
 N ছদ্মবেশী বেকারত্ব
১৫. উক্ত বেকারত্ব নিরসনে প্রয়োজন—  
 i. কর্মী ছাটাই  
 ii. নতুন শিল্প কারখানা স্থাপন  
 iii. কারিগরি শিক্ষা ও প্রশিক্ষণ  
 নিচের কোনটি সঠিক?  
 K i ও ii L i ও iii  
 M ii ও iii N i, ii ও iii
১৬. বাংলাদেশের অর্থনৈতিক অবস্থা কীরূপ?  
 K উন্নত L অনুন্নত  
 M অবনতিশীল N উন্নয়নশীল
১৭. জমি থেকে আয় = ৫০ শত কোটি  
 শ্রমিকের মজুরি = ১০০ শত কোটি  
 মূলধনের সুদ = ৭০ শত কোটি  
 সংগঠকের মুনাফা = ২০০ শত কোটি  
 মোট = ৪২০ শত কোটি  
 এখানে কোন পদ্ধতিতে জাতীয় আয় হিসাব করা হয়েছে?  
 K দেশীয় পদ্ধতি L উৎপাদন পদ্ধতি  
 M ব্যয় পদ্ধতি N আয় পদ্ধতি
১৮. কামাল তার জমিতে ফসল কাটার নতুন যন্ত্র ব্যবহার করেছে। এতে উৎপাদন খরচ কমেছে। এটি জিডিপির কোন নির্ধারক?  
 K ভূমি L প্রযুক্তি  
 M শ্রম N মূলধন
১৯. কোনটি জিডিপির হিসাব বহির্ভূত বিষয়?  
 K অনুর্বর জমির খাজনা  
 L দেশের ভেতর কর্মরত বিদেশি মালিকানায় কর্মরত শ্রমিকের মজুরি  
 M দরিদ্র কৃষকের খেতের আয়  
 N বড় বোন কর্তৃক ছোটদের সেবা করা

২০. ৫ জন শ্রমিকের মোট উৎপাদন ১০ কুইন্টাল। গড় উৎপাদন কত?  
 K ২৪ কুইন্টাল L ২০ কুইন্টাল  
 M ১২০ কুইন্টাল N ৬০০ কুইন্টাল
২১. কোনটি খাদ্য নিরাপত্তা কার্যক্রমের আওতাভুক্ত?  
 K ভিজিএফ  
 L মাতৃত্বকালীন ভাতা  
 M বিধবা ভাতা  
 N বয়স্ক ভাতা
২২. প্রাচীন কোন সভ্যতার যুগে ধর্মগ্রন্থে অর্থনীতি বিষয়ে আলোচিত হতো?  
 K সিন্ধু সভ্যতা L হিব্রু সভ্যতা  
 M চীনা সভ্যতা N ব্যাবিলনীয় সভ্যতা
২৩. গ্রিক শব্দ Oikonomia অর্থ কী?  
 K Management of the household  
 L Manager of the house  
 M Manager of the household  
 N Management of the economics
২৪. ভূমিদারীদের মতে, কোনটি উৎপাদনশীল খাত?  
 K কৃষি L শিল্প  
 M বাণিজ্য N রপ্তানি
২৫. কোন অর্থনৈতিক ব্যবস্থায় সুদের স্বীকৃতি নেই?  
 K ধনতান্ত্রিক L সমাজতান্ত্রিক  
 M মিশ্র N ইসলামি
২৬. কোন অর্থনীতিবিদের মতে, অর্থনীতির মূল উদ্দেশ্য হলো মানবকল্যাণ?  
 K অ্যাডাম স্মিথ L এল. রবিন্স  
 M আলফ্রেড মার্শাল N ডেভিড রিকার্ডো
২৭. সৌদি আরব সন্তায় ইউরিয়া সার তৈরি করে বাংলাদেশে রপ্তানি করে। অন্যদিকে বাংলাদেশ সন্তায় টুপি তৈরি করে সৌদি আরবে রপ্তানি করে। এটি অর্থনীতির কোন মৌলিক নীতি অনুসরণ করে?  
 K মানুষকে পেতে হলে ছাড়তে হয়  
 L সুযোগ ব্যয়  
 M বাজার একটি উত্তম পন্থা  
 N বাণিজ্যে সবাই উপকৃত হয়
- উদ্দীপকটি পড়ে ২৮ ও ২৯নং প্রশ্নের উত্তর দাও :  
 ‘ক’ দেশে কী উৎপাদন করা হবে? কীভাবে উৎপাদন করা হবে? কার জন্য উৎপাদন করা হবে সব সিদ্ধান্ত গ্রহণের ক্ষমতা একমাত্র কেন্দ্রীয় পরিকল্পনা মন্ত্রণালয়ের।
২৮. ‘ক’ দেশের অর্থব্যবস্থা কীরূপ?  
 K ধনতান্ত্রিক L সমাজতান্ত্রিক  
 M ইসলামি N মিশ্র
২৯. উক্ত অর্থব্যবস্থায়—  
 i. সামাজিক মালিকানা বিদ্যমান  
 ii. ইচ্ছা ও রুচি অনুযায়ী উৎপাদন ও ভোগ করা যায়  
 iii. ব্যক্তিগত মুনাফা থাকে না  
 নিচের কোনটি সঠিক?  
 K i ও ii L i ও iii  
 M ii ও iii N i, ii ও iii
৩০. একজন ব্যক্তির কম্পিউটার চালানোর দক্ষতা উৎপত্তির দিক থেকে কোন ধরনের সম্পদ?  
 K প্রাকৃতিক সম্পদ L উৎপাদিত সম্পদ  
 M মানবিক সম্পদ N প্রযুক্তিগত সম্পদ

Self test	১	K L M N	২	K L M N	৩	K L M N	৪	K L M N	৫	K L M N	৬	K L M N	৭	K L M N	৮	K L M N	৯	K L M N	১০	K L M N
	১১	K L M N	১২	K L M N	১৩	K L M N	১৪	K L M N	১৫	K L M N	১৬	K L M N	১৭	K L M N	১৮	K L M N	১৯	K L M N	২০	K L M N
	২১	K L M N	২২	K L M N	২৩	K L M N	২৪	K L M N	২৫	K L M N	২৬	K L M N	২৭	K L M N	২৮	K L M N	২৯	K L M N	৩০	K L M N

১	K	২	K	৩	M	৪	M	৫	L	৬	M	৭	K	৮	M	৯	L	১০	K	১১	N	১২	M	১৩	L	১৪	N	১৫	M
১৬	N	১৭	N	১৮	L	১৯	N	২০	K	২১	K	২২	L	২৩	K	২৪	K	২৫	N	২৬	M	২৭	N	২৮	L	২৯	L	৩০	M

## ৯ ময়মনসিংহ বোর্ড ২০২৩

বিষয় কোড : I 4 I

সময় : ৩০ মিনিট

## অর্থনীতি বহুনির্বাচনী অভীক্ষা

পূর্ণমান : ৩০

বিশেষ দ্রষ্টব্য : সরবরাহকৃত বহুনির্বাচনী অভীক্ষার উত্তরপত্রে প্রশ্নের ক্রমিক নম্বরের বিপরীতে প্রদত্ত বর্ণসংবলিত বৃত্তসমূহ হতে সঠিক/সর্বোৎকৃষ্ট উত্তরের বৃত্তটি বল পয়েন্ট কলম দ্বারা সম্পূর্ণ ভরাট কর। প্রতিটি প্রশ্নের মান ১। প্রশ্নপত্রে কোনো প্রকার দাগ/চিহ্ন দেওয়া যাবে না।

১. দেশের মোট জাতীয় আয়কে মোট জনসংখ্যা দ্বারা ভাগ করলে কী পাওয়া যায়?  
K নিট আয় L প্রান্তিক আয়  
M মাথাপিছু আয় N মোট আয়
২. মোট উৎপাদনের হিসাব বহির্ভূত বিষয়ের মধ্যে অন্যতম হলো—  
i. মূলধনী লাভ-ক্ষতি  
ii. মাধ্যমিক দ্রব্য ও সেবা  
iii. ফল্যহীন দ্রব্য ও সেবা  
নিচের কোনটি সঠিক?  
K i ও ii L i ও iii  
M ii ও iii N i, ii ও iii
৩. মরাদ হোসেন বাংলাদেশের নাগরিক। তিনি কয়েতে কর্মরত। তার আয়ের হিসাব এ দেশের কোন আয়ের অন্তর্ভুক্ত?  
K ব্যক্তিগত আয়  
L নিট জাতীয় আয়  
M মোট জাতীয় আয়  
N মোট দেশজ উৎপাদন
৪. শক্তি ফাউন্ডেশন কত সালে প্রতিষ্ঠিত হয়?  
K ১৯৮২ L ১৯৯২  
M ১৯৯৪ N ১৯৯৭
৫. অনুন্নত দেশে বাণিজ্যের ভারসাম্য কীরূপ থাকে?  
K অনুকূল L প্রতিকূল  
M উত্ত্ব N সঞ্চয়
৬. নিচের কোনটি উন্নয়নের জন্য অপ্রয়োজনীয় শর্ত?  
K দক্ষ প্রশাসন  
L অদক্ষ জনসংখ্যা  
M কৃষিভিত্তিক অর্থনীতি  
N অধিক মূলধন
৭. 'ক' ব্যক্তি কাজে অদক্ষ। তাকে মানবসম্পদে রূপান্তরিত করা যায়—  
i. শিক্ষার মাধ্যমে  
ii. প্রশিক্ষণের মাধ্যমে  
iii. বিদেশে পাঠিয়ে  
নিচের কোনটি সঠিক?  
K i ও ii L i ও iii  
M ii ও iii N i, ii ও iii
৮. অর্থনৈতিক সমস্যা সৃষ্টির মূল কারণ কোনটি?  
K নির্বাচন সমস্যা  
L সম্পদের সীমাবদ্ধতা  
M সম্পদের প্রাচুর্যতা  
N অসীম অভাব
৯. অর্থনীতিতে অর্থনৈতিক প্রতিনিধি বলা হয়—  
i. যারা উৎপাদন করে  
ii. যারা ভোগ করে  
iii. যারা বিনিময় করে  
নিচের কোনটি সঠিক?  
K i ও ii L i ও iii  
M ii ও iii N i, ii ও iii
১০. ইসলামি অর্থব্যবস্থায় উৎপাদন প্রক্রিয়া সমাজের জন্য কেমন?  
K কাম্য L ক্ষতিকর  
M কল্যাণকর N বৈষম্যযুক্ত
১১. মদ্রাস্কীতির সঙ্গে বেকারত্বের সম্পর্ক কী?  
K সমমুখী L বিপরীতমুখী  
M নিঃসমুখী N উভয়মুখী
- নিচের উদ্দীপকটি পড়ে ১২ ও ১৩নং প্রশ্নের উত্তর দাও :  
বিশ্বকাপ খেলা দেখতে নাভিদ এমন একটি দেশে গেলে যেখানে অধিকাংশ সম্পদ রাষ্ট্রীয় মালিকানাধীন।
১২. দেশটিতে কোন অর্থব্যবস্থা প্রচলিত?  
K ধনতান্ত্রিক L সমাজতান্ত্রিক  
M মিশ্র N ইসলামি
১৩. উক্ত অর্থব্যবস্থার বৈশিষ্ট্য হলো—  
i. কেন্দ্রীয় পরিকল্পনা  
ii. ব্যক্তিগত মুনাফার অনুপস্থিতি  
iii. অবাধ প্রতিযোগিতা  
নিচের কোনটি সঠিক?  
K i ও ii L i ও iii  
M ii ও iii N i, ii ও iii
১৪. বাংলাদেশের কোথায় চূনাপাথর মজুদ রয়েছে?  
K মধ্যপাড়ায় L বিজয়পুরে  
M বড় পুকুরিয়ায় N সেন্টমার্টিন দ্বীপে
১৫. বাংলাদেশের কোন বনাঞ্চল সমুদ্র উপকূলে অবস্থিত?  
K শালবন L বরেন্দ্র বনভূমি  
M জলাভূমির বন N ম্যানগ্রোভ বন
১৬. শারীরিক যোগ্যতা, প্রতিভা, উদ্যোগ ইত্যাদিকে সম্পদ বলা হয় না। কারণ—  
i. উপযোগ নেই  
ii. হস্তান্তরযোগ্যতা নেই  
iii. বাহ্যিকতা নেই  
নিচের কোনটি সঠিক?  
K i ও ii L i ও iii  
M ii ও iii N i, ii ও iii
- উদ্দীপকটি পড়ে ১৭ ও ১৮নং প্রশ্নের উত্তর দাও :  
জেরিন মৌলভীবাজার বেড়াতে গিয়ে দেখল একটি কূপ থেকে আঙন বের হচ্ছে। সে তার বাবাকে জিজ্ঞেস করলে বাবা বলল, এটি বাংলাদেশের একটি প্রধান খনিজ সম্পদ।
১৭. জেরিনের দেখা সম্পদটির নাম কী?  
K প্রাকৃতিক গ্যাস L কয়লা  
M চূনাপাথর N খনিজ তেল
১৮. উক্ত খনিজ সম্পদটি ব্যবহার হয়—  
i. রাসায়নিক সার তৈরিতে  
ii. বিদ্যুৎ উৎপাদনে  
iii. জ্বালানি হিসেবে  
নিচের কোনটি সঠিক?  
K i ও ii L i ও iii  
M ii ও iii N i, ii ও iii
১৯. কীভাবে উৎপাদনের পরিমাণ বাড়ানো যায়?  
K আয়ের মাধ্যমে  
L সঞ্চয়ের মাধ্যমে  
M বিনিয়োগের মাধ্যমে  
N মূলধনের মাধ্যমে
২০. বাংলাদেশে পানির উৎস প্রধানত কয়টি?  
K ২টি L ৩টি M ৪টি N ৫টি
২১. দ্রব্যের যোগানের হ্রাস-বৃদ্ধি কোনটির ওপর নির্ভরশীল?  
K চাহিদা L আয়  
M সামর্থ্য N দাম
২২. বাজারে দর কষাকষি সৃষ্টি হয় কাদের মধ্যে?  
K ক্রেতা – উৎপাদক  
L ব্যবসায়ী – বিক্রেতা  
M উৎপাদক – ব্যবসায়ী  
N ক্রেতা – বিক্রেতা
২৩. প্রান্তিক উপযোগ কী হলে মোট উপযোগ সর্বোচ্চ হবে?  
K ধনাত্মক L ঋণাত্মক  
M শূন্য N সমান
- উদ্দীপকটি পড়ে ২৪ ও ২৫নং প্রশ্নের উত্তর দাও :  
দ্রব্যের দাম (টাকায়) পরিমাণ
- | দ্রব্যের দাম (টাকায়) | পরিমাণ |
|-----------------------|--------|
| ৯                     | ৪      |
| ৭                     | ৮      |
| ৫                     | ১১     |
| ৩                     | ১৩     |
২৪. উপরের সূচিটিতে কোন বিধি প্রকাশ পেয়েছে?  
K উপযোগ বিধি L যোগান বিধি  
M চাহিদা বিধি N উৎপাদন বিধি
২৫. উপরের সূচিটিতে প্রতিফলিত হয়েছে—  
i. চাহিদা ও দামের সমতা  
ii. চাহিদা কম, দাম বেশি  
iii. দাম কম, চাহিদা বেশি  
নিচের কোনটি সঠিক?  
K i ও ii L i ও iii  
M ii ও iii N i, ii ও iii
২৬. উৎপাদনের সময়স্বাকারী উপকরণ কোনটি?  
K ভূমি L শ্রম  
M মূলধন N সংগঠন
২৭. যিনি ব্যবসায়িক উদ্দেশ্যে উৎপাদনমুখী কার্যক্রম পরিচালনা ও নিয়ন্ত্রণ করেন তাকে বলে?  
K শ্রম L বিনিয়োগকারী  
M উৎপাদক N সংগঠক
২৮. কাঠ থেকে খাট তৈরি কোন ধরনের উপযোগ সৃষ্টি করে?  
K বৃগুগত L সেবাগত  
M স্থানগত N সময়গত
২৯. প্রান্তিক উৎপাদন রেখা গড় উৎপাদন রেখার কোন বিন্দুতে ছেদ করে?  
K সর্বনিম্ন বিন্দুতে  
L সর্বোচ্চ বিন্দুতে  
M ভূমি অক্ষে  
N লম্ব অক্ষে
৩০. উৎপাদন পদ্ধতিতে কোনটি বিবেচনায় আনা হয়?  
K প্রাথমিক দ্রব্য  
L অস্থায়ী দ্রব্য  
M মাধ্যমিক দ্রব্য  
N চূড়ান্ত দ্রব্য

Self test	১	২	৩	৪	৫	৬	৭	৮	৯	১০	১১	১২	১৩	১৪	১৫	১৬	১৭	১৮	১৯	২০	২১	২২	২৩	২৪	২৫	২৬	২৭	২৮	২৯	৩০				
১১	K	L	M	N	১২	K	L	M	N	১৩	K	L	M	N	১৪	K	L	M	N	১৫	K	L	M	N	১৬	K	L	M	N	১৭	K	L	M	N
২১	K	L	M	N	২২	K	L	M	N	২৩	K	L	M	N	২৪	K	L	M	N	২৫	K	L	M	N	২৬	K	L	M	N	২৭	K	L	M	N

১	M	২	N	৩	M	৪	L	৫	L	৬	L	৭	K	৮	L	৯	K	১০	M	১১	L	১২	L	১৩	K	১৪	N	১৫	N
১৬	M	১৭	K	১৮	N	১৯	M	২০	L	২১	N	২২	N	২৩	M	২৪	M	২৫	M	২৬	N	২৭	N	২৮	K	২৯	L	৩০	N

১০ ডাকা বোর্ড ২০২২

বিষয় কোড : 141

অর্থনীতি বহুনির্বাচনী অভীক্ষা

পূর্ণমান : ১৫

সময় : ২০ মিনিট

বিশেষ দৃষ্টব্য : সরবরাহকৃত বহুনির্বাচনী অভীক্ষার উত্তরপত্রে প্রশ্নের ক্রমিক নম্বরের বিপরীতে প্রদত্ত বর্ণসংবলিত বৃত্তসমূহ হতে সঠিক/ সর্বোৎকৃষ্ট উত্তরের বৃত্তটি বল পয়েন্ট কলম দ্বারা সম্পূর্ণ ভরাট কর। প্রতিটি প্রশ্নের মান ১। যেকোনো ১৫টি প্রশ্নের উত্তর দাও।

১. 'ক' দেশ কৃষিনির্ভরশীল হলেও মাথাপিছু আয় বৃদ্ধি পচ্ছে এবং শিল্পে উন্নয়নের ধারা অব্যাহত রয়েছে। 'ক' দেশটি হলো—  
K উন্নত L অনুন্নত  
M মধ্যম আয়ের দেশ N উন্নয়নশীল
- নিচের উদ্দীপকটি পড়ে ২ ও ৩নং প্রশ্নের উত্তর দাও :  
প্রেক্ষাপট-১ : কোনো একটি দেশের ২০২১ সালের মোট দেশজ উৎপাদন (GDP) ৪৯ কোটি টাকা এবং বছরের মধ্যবর্তী সময়ের মোট জনসংখ্যা ৫ লক্ষ।  
প্রেক্ষাপট-২ : রহমত আলী ১ম বছর তার জমিতে নিজের উৎপাদিত বীজ ব্যবহার করে যে পরিমাণ উৎপাদন পান পরের বছর বন্ধুর পরামর্শে উন্নত বীজ ব্যবহার করে তার চেয়ে বেশি পরিমাণ উৎপাদন পান।
২. উদ্দীপকে প্রেক্ষাপট-১-এ মাথাপিছু জিডিপি কত হবে?  
K ৭৮০ L ৮৮০  
M ৯৮০ N ১০৮০
৩. উদ্দীপকে প্রেক্ষাপট-২-এ উৎপাদন ক্ষেত্রের এরূপ পরিবর্তনের ফলে—  
i. NNLহ্রাস পাবে  
ii. GDP বৃদ্ধি পাবে  
iii. GNI বৃদ্ধি পাবে  
নিচের কোনটি সঠিক?  
K i ও ii L i ও iii  
M ii ও iii N i, ii ও iii
৪. নিচের কোনটি মানবিক সম্পদ?  
K বনভূমি L শিক্ষা প্রতিষ্ঠান  
M কলকারখানা N সাংগঠনিক দক্ষতা
৫. প্রান্তিক উপযোগ যখন শূন্য তখন মোট উপযোগ কত?  
K সর্বোচ্চ L সর্বনিম্ন  
M বাড়বে N কমবে
৬. গড় উৎপাদনের সূত্র কোনটি?  
K  $AP = TP \times L$  L  $AP = TP - L$   
M  $AP = TP + L$  N  $AP = TP \div L$
৭. মানবসম্পদ উন্নয়নের ফলে—  
i. অর্থনৈতিক উন্নয়ন হবে  
ii. সামাজিক বৈষম্য সৃষ্টি হবে  
iii. বেকারত্ব হ্রাস পাবে  
নিচের কোনটি সঠিক?  
K i ও ii L i ও iii  
M ii ও iii N i, ii ও iii
- নিচের উদ্দীপকটি পড়ে ৮ ও ৯নং প্রশ্নের উত্তর দাও :  
আলী মিয়া একজন কৃষক। তার একখণ্ড জমি আছে যেখানে তিনি ধান চাষ করেন। সম্প্রতি ওই জমিতে পুকুর খনন করায় মাছ চাষ করতে পারলেও ধান চাষ থেকে বঞ্চিত হয়েছেন। এভাবে সারা দেশে ক্রমেই ফসলি জমির পরিমাণ কমে যায়। তিনি লক্ষ করলেন, ধানসহ অন্যান্য শস্যের দাম এই কারণে প্রতিনিয়ত বৃদ্ধি পাচ্ছে।
৮. উদ্দীপকে আলী মিয়ার ধান চাষ থেকে বঞ্চিত হওয়ার ঘটনায় অর্থনীতির কোন ধারণাটি প্রতিফলিত হয়েছে?  
K সুযোগ ব্যয় L উৎপাদন ব্যয়  
M প্রকাশ্য ব্যয় N অপ্রকাশ্য ব্যয়
৯. উদ্দীপকে দাম বৃদ্ধির ফলে—  
i. মুদ্রাস্ফীতি সৃষ্টি হবে  
ii. জীবনযাত্রার মান উন্নত হবে  
iii. বেকারত্ব দেখা দিবে  
নিচের কোনটি সঠিক?  
K i ও ii L i ও iii  
M ii ও iii N i, ii ও iii

১০. CCA-এর পূর্ণরূপ কী?  
K Capital Commodity Allowance  
L Capital Commercial Allowance  
M Capital Consumption Allowance  
N Capital Consuming Allowance
১১. একটি দেশের জনশক্তিকে মানবসম্পদে রূপান্তরিত করতে হলে—  
i. পুষ্টি জ্ঞান থাকতে হবে  
ii. রাজনৈতিক দলকে সচেতন হতে হবে  
iii. বিভিন্ন পেশার লোকদের সচেতন হতে হবে  
নিচের কোনটি সঠিক?  
K i ও ii L i ও iii  
M i ও iii N i, ii ও iii
১২. প্রান্তিক উপযোগ—  
i. ধনাত্মক হতে পারে  
ii. ঋণাত্মক হতে পারে  
iii. শূন্য হতে পারে না  
নিচের কোনটি সঠিক?  
K i ও ii L i ও iii  
M ii ও iii N i, ii ও iii
- নিচের চিত্রটি দেখে ১৩ ও ১৪নং প্রশ্নের উত্তর দাও :  
AP, MP
- 
১৩. শ্রমের নিয়োগ যখন  $OL_1$  তখন নিচের কোনটি সঠিক?  
K  $AP = MP$  L  $MP > AP$   
M  $AP > MP$  N AP সর্বোচ্চ
১৪. উদ্দীপকে E বিন্দুতে—  
i.  $AP = MP$   
ii. AP সর্বোচ্চ  
iii. MP নিম্নগামী  
নিচের কোনটি সঠিক?  
K i ও ii L i ও iii  
M ii ও iii N i, ii ও iii
১৫. নিচের কোনটি সমাজতান্ত্রিক অর্থব্যবস্থার বৈশিষ্ট্য?  
K অবাধ প্রতিযোগিতা থাকবে  
L সম্পদের রাষ্ট্রীয় মালিকানা থাকবে  
M ভোক্তার স্বাধীনতা থাকবে  
N আয়ের বৈষম্য থাকবে
১৬. যোগান বিধির আলোকে যোগান রেখা কেমন হবে?  
K বাম থেকে ডানে নিম্নগামী  
L বাম থেকে ডানে উর্ধ্বগামী  
M ভূমি অক্ষের সমান্তরাল  
N লম্ব অক্ষের সমান্তরাল
১৭. লোক প্রশাসন ও প্রতিরক্ষা খাতের GDP হিসাব করা হয় কোন পদ্ধতিতে?  
K ব্যয় L আয় M উৎপাদন N সেবা
- নিচের উদ্দীপকটি পড়ে ১৮নং প্রশ্নের উত্তর দাও :  
হারকুর রশিদ একটি বেসরকারি উন্নয়ন সংস্থায় কর্মরত, যা বাংলাদেশের সর্ববৃহৎ বেসরকারি ক্ষুদ্র ঋণদানকারী সংস্থা। এ সংস্থায় বিশেষ করে নারীর ক্ষমতায়নে কাজ করে।
১৮. উদ্দীপকে হারকুর রশিদের কর্মরত সংস্থাটির নাম কী?  
K ত্র্যাক L আশা  
M টিএমএসএস N এসএসএস

১৯. সরকারি ঋণের সুদ GDP তে অন্তর্ভুক্ত করা হয় না কেন?  
K জাতীয় উৎপাদনে অবদান রাখার কারণে  
L সুদের পরিমাণ বেশি হওয়ার কারণে  
M বাধ্যতামূলকভাবে প্রদান করার কারণে  
N হস্তান্তর পাওনা হিসেবে বিবেচিত হওয়ার কারণে
২০. আর্থ থেকে চিনি তৈরি করা হলে কোন ধরনের উপযোগ সৃষ্টি হবে?  
K সময়গত L সেবাগত  
M রূপগত N স্থানগত
২১. বাংলাদেশে পানির উৎস প্রধান কয়টি?  
K ২ L ৩ M ৪ N ৫
২২. নদীর পানি আবাহলভ্য দ্রব্য। কারণ—  
i. বিনিময় মূল্য নেই  
ii. উপযোগ নেই  
iii. উন্মুক্ত প্রবেশাধিকার  
নিচের কোনটি সঠিক?  
K i ও ii L ii ও iii  
M i ও iii N i, ii ও iii
২৩.  $S = Y - C$  যখন—  
K  $Y > C$  L  $Y < C$   
M  $Y = C$  N  $Y \neq C$
২৪. পেশা পরিবর্তনের সময় যে বেকারত্ব তৈরি হয় তাকে কী বলে?  
K মৌসুমি বেকারত্ব L ছদ্মবেশি বেকারত্ব  
M প্রচ্ছন্ন বেকারত্ব N সাময়িক বেকারত্ব
২৫. নিচের কোনটি মৌলিক অর্থনৈতিক সমস্যা?  
K অসীম সম্পদ L অসীম অভাব  
M সম্পদের প্রাচুর্যতা N সীসম অভাব
- নিচের উদ্দীপকটি পড়ে ২৭ ও ২৮নং প্রশ্নের উত্তর দাও :  
মাশরাফি বিন মর্জুজার নেতৃত্বের গুণাবলিকে অর্থনীতিতে সম্পদ বলা যাবে না কেন?  
K উপযোগ নেই  
L বাহ্যিকতা রয়েছে  
M হস্তান্তর করা যায় না  
N প্রাচুর্যতা রয়েছে
- | দ্রব্যের দাম (টাকায়) | ১ম ব্যক্তির চাহিদার পরিমাণ (কেজি) | ২য় ব্যক্তির চাহিদার পরিমাণ (কেজি) |
|-----------------------|-----------------------------------|------------------------------------|
| ৫                     | ৫০                                | ৪০                                 |
| ১০                    | ৪০                                | ৩০                                 |
| ১৫                    | ৩০                                | ২০                                 |
২৭. উদ্দীপকে ১০ টাকা দামে বাজার চাহিদার পরিমাণ কত?  
K ৭০ L ৪০ M ৩০ N ১০
২৮. উদ্দীপকে ১ম ব্যক্তির ক্ষেত্রে—  
i. চাহিদা বিধি কার্বকর  
ii. চাহিদা রেখা ডানদিকে নিম্নগামী  
iii. দামের সাথে চাহিদার সম্পর্ক সমমুখী  
নিচের কোনটি সঠিক?  
K i ও ii L i ও iii  
M ii ও iii N i, ii ও iii
২৯. উৎপাদনের উপকরণ কয়টি?  
K ৩ L ৪ M ৫ N ৬
৩০. মানুষকে নির্বাচন বা বাছাই করতে হয়। কারণ—  
i. অভাব অসীম  
ii. সম্পদ সীমিত  
iii. সম্পদের দুঃপ্রাপ্যতা  
নিচের কোনটি সঠিক?  
K i ও ii L i ও iii  
M ii ও iii N i, ii ও iii

Self test	১	২	৩	৪	৫	৬	৭	৮	৯	১০	১১	১২	১৩	১৪	১৫
১১	K	L	M	N	K	L	M	N	K	L	M	N	K	L	M
২১	K	L	M	N	K	L	M	N	K	L	M	N	K	L	M
১৬	L	১৭	K	১৮	K	১৯	N	২০	M	২১	L	২২	M	২৩	K
২৬	L	২৭	K	২৮	K	২৯	L	৩০	N	২৫	L	২৬	M	২৭	K
২৮	K	২৯	L	৩০	N	২৫	L	২৬	M	২৭	K	২৮	K	২৯	L

## ১১ রাজসাহী বোর্ড ২০২২

### অর্থনীতি বহুনির্বাচনী অভীক্ষা

বিষয় কোড : 141

পূর্ণমান : ১৫

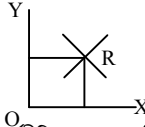
সময় : ২০ মিনিট

[বিশেষ দৃষ্টব্য : সরবরাহকৃত বহুনির্বাচনী অভীক্ষার উত্তরপত্রে প্রশ্নের ক্রমিক নম্বরের বিপরীতে প্রদত্ত বর্ণসংবলিত বৃত্তসমূহ হতে সঠিক/ সর্বোৎকৃষ্ট উত্তরের বৃত্তটি বল পয়েন্ট কলম দ্বারা সম্পূর্ণ ভরাট কর। প্রতিটি প্রশ্নের মান ১। যেকোনো ১৫টি প্রশ্নের উত্তর দাও।]

১. 'আশা' কত সাল থেকে ক্ষুদ্রঋণ কর্মসূচি পরিচালনা করে আসছে?  
K ১৯৯২ সাল L ১৯৮৬ সাল  
M ১৯৮০ সাল N ১৯৭৫ সাল
২. রুটি তৈরির জন্য আটা ক্রয় কোন ধরনের ব্যয়?  
K সামাজিক ব্যয়  
L অপ্রকাশ্য ব্যয়  
M প্রকৃত ব্যয়  
N প্রকাশ্য ব্যয়
৩. কোনটি সঞ্চয়ের সমীকরণ?  
K  $S = Y - C$   
L  $S = C - Y$   
M  $S = C > Y$   
N  $S = Y < C$
৪. কামাল তার কৃষিকাজে সনাতন পদ্ধতির পরিবর্তে ট্রাক্টর ব্যবহার শুরু করায় খরচ কমান পাশাপাশি উৎপাদন বেড়েছে। এটি জিডিপির কোন নির্ধারক?  
K ভূমি L শ্রম  
M মূলধন N প্রযুক্তি
৫. মিশ্র অর্থব্যবস্থায় বিদ্যমান—  
i. ব্যক্তিগত মুনাফার অনুপস্থিতি  
ii. সামাজিক কল্যাণ  
iii. ভোক্তার স্বাধীনতা  
নিচের কোনটি সঠিক?  
K i ও ii L i ও iii  
M ii ও iii N i, ii ও iii
৬. আসিফ মাসিক আয়ের টাকা থেকে একটা অংশ ব্যাংকে জমা রাখেন। এক্ষেত্রে ব্যাংকে টাকা জমা রাখাকে বলে—  
K আয় L সঞ্চয়  
M ব্যয় N বিনিয়োগ
- নিচের উদ্দীপকটি পড়ে ৭ ও ৮নং প্রশ্নের উত্তর দাও :  
জাইম কঠোর পরিশ্রমী। সে বুদ্ধি, শারীরিক যোগ্যতা, দক্ষতা, সাংগঠনিক ক্ষমতা ইত্যাদি দ্বারা নিজেকে অর্থনৈতিকভাবে প্রতিষ্ঠিত করেছে। এখন সে অনেক সম্পদের মালিক।
৭. উৎসের দিক থেকে জাইমের গুণগুলো কোন সম্পদের সাথে সাদৃশ্যপূর্ণ?  
K প্রাকৃতিক সম্পদ  
L মানবিক সম্পদ  
M উৎপাদিত সম্পদ  
N ব্যক্তিগত সম্পদ
৮. জাইমের গুণাবলিকে যে বৈশিষ্ট্যের অভাবে অর্থনীতিতে সম্পদ বলা যায় না—  
i. হস্তান্তরযোগ্যতা  
ii. বাহ্যিকতা  
iii. অপ্রাচুর্যতা  
নিচের কোনটি সঠিক?  
K i ও ii L i ও iii  
M ii ও iii N i, ii ও iii
৯. মানবসম্পদ উন্নয়নে কোনটি বেশি প্রয়োজন?  
K চিকিৎসার সুযোগ বৃদ্ধি  
L শিক্ষা ও প্রশিক্ষণ  
M নারীর ক্ষমতায়ন  
N আবাসন সুবিধা বৃদ্ধি

১০. দীপ্তর মোটর সাইকেল ক্রয়ের আকাঙ্ক্ষা, সামর্থ ও ইচ্ছা আছে। এ বিষয়টি অর্থনীতির কোন ধারণার সাথে সামঞ্জস্যপূর্ণ?  
K চাহিদা L যোগান  
M উপযোগ N ভোগ
১১. বাংলাদেশের কোথায় 'গন্ধক' পাওয়া যায়?  
K দিনাজপুর L রংপুর  
M চট্টগ্রাম N জামালপুর

■ নিচের চিত্রটি দেখে ১২ ও ১৩নং প্রশ্নের উত্তর দাও :



১২. 'R' বিন্দুতে অর্থনীতির কোন ধারণাটি নির্দেশ করছে?  
K বাজার চাহিদা L বাজার যোগান  
M ক্রম-হ্রাস প্রান্তিক উপযোগ  
N ভারসাম্য দাম ও পরিমাণ
১৩. 'R' বিন্দুতে—  
i. দ্রব্যের দাম নির্ধারিত হয়  
ii. চাহিদা ও যোগান সমান হয়  
iii. দাম-হ্রাস-বৃদ্ধির প্রবণতা থাকে না  
নিচের কোনটি সঠিক?  
K i ও ii L i ও iii  
M ii ও iii N i, ii ও iii
১৪. একটি সরল অর্থনীতিতে কয় ধরনের প্রতিনিধি থাকে?  
K ২ ধরনের L ৩ ধরনের  
M ৪ ধরনের N ৫ ধরনের
১৫. অর্থনীতিকে সম্পদের বিজ্ঞান বলেছেন কে?  
K অ্যারিস্টটল  
L অ্যাডাম স্মিথ  
M মার্শাল  
N এল. রবিন্স
১৬. ভূমিবিদ ধারণাটি জন্ম হয় কোন দেশে?  
K ইংল্যান্ডে  
L ভারতে  
M ফ্রান্সে  
N জার্মানিতে
১৭. কোনো দ্রব্যের অভাব পূরণের ক্ষমতাকে কী বলে?  
K ভোগ L উপযোগ  
M চাহিদা N উৎপাদন
১৮. চাহিদা রেখা কোন দিকে নিম্নগামী হয়?  
K বাম থেকে ডান দিকে  
L নিম্ন থেকে উপরের দিকে  
M উপর থেকে নিচ দিকে  
N ডান থেকে বাম দিকে
১৯. দারিদ্রের দৃষ্টচক্র ধারণাটির প্রবর্তক কে?  
K অ্যাডাম স্মিথ  
L অধ্যাপক মার্শাল  
M অধ্যাপক র্যাগনার নার্কস  
N এল. রবিন্স
২০. বাংলাদেশের অর্থনীতিকে মোট কতটি খাতে ভাগ করা হয়েছে?  
K ১০টি L ১২টি  
M ১৫টি N ১৮টি

২১. সুদবিহীন অর্থব্যবস্থা কোনটি?  
K পুঁজিবাদী  
L মিশ্র  
M সমাজতান্ত্রিক  
N ইসলামি
২২. কোন বৈশিষ্ট্যের অভাবে সমুদ্রের পানি সম্পদ নয়?  
K উপযোগ  
L অপ্রাচুর্যতা  
M হস্তান্তরযোগ্যতা  
N বাহ্যিকতা
২৩. উন্নত দেশের মানুষের মাথাপিছু আয় বেশি কারণ—  
i. পর্যাপ্ত মূলধনের যোগান  
ii. উন্নত কারিগরি ব্যবস্থা  
iii. রাজনৈতিক স্থিতিশীলতা  
নিচের কোনটি সঠিক?  
K i ও ii L ii ও iii  
M i ও iii N i, ii ও iii
২৪. কোনো দ্রব্যের চাহিদা কীসের ওপর নির্ভর করে?  
K যোগান L উৎপাদন  
M দাম N উপযোগ
২৫. জ্ঞান তাসিন একটি কোম্পানির ব্যবস্থাপক। তিনি উৎপাদনের কোন উপকরণ হিসেবে বিবেচিত হবেন?  
K ভূমি L শ্রম  
M মূলধন N সংগঠন
২৬. দাম ও যোগানের সম্পর্ক—  
i. সমমুখী  
ii. ঋণাত্মক  
iii. ধনাত্মক  
নিচের কোনটি সঠিক?  
K i ও ii L i ও iii  
M ii ও iii N i, ii ও iii
- নিচের উদ্দীপকটি পড়ে ২৭ ও ২৮ নং প্রশ্নের উত্তর দাও :  
'ক' দেশে ২০২০-২১ অর্থবছরে ভোগ ব্যয় ১০০ কোটি টাকা, বিনিয়োগ ব্যয় ৫০ কোটি টাকা, সরকারি ব্যয় ৪০ কোটি টাকা, আমদানি ব্যয় ৩০ কোটি টাকা এবং রপ্তানি আয় ৪০ কোটি টাকা।
২৭. 'ক' দেশের ২০২০-২১ সালের GDP কত?  
K ১০০ কোটি টাকা  
L ১৫০ কোটি টাকা  
M ২০০ কোটি টাকা  
N ২৫০ কোটি টাকা
২৮. উক্ত দেশের আমদানি ব্যয় ৬০ কোটি টাকা হলে—  
i. জাতীয় আয় কমবে  
ii. রপ্তানি আয় কমবে  
iii. মাথাপিছু আয় কমবে  
নিচের কোনটি সঠিক?  
K i ও ii L i ও iii  
M ii ও iii N i, ii ও iii
২৯. দ্রব্যের মূল্য বৃদ্ধি পেলে যোগান কেমন হয়?  
K বৃদ্ধি পায় L সর্বোচ্চ হয়  
M হ্রাস পায় N একই থাকে
৩০. মোট দেশজ উৎপাদন কতভাবে পরিমাপ করা যায়—  
K দুইভাবে L তিনভাবে  
M চারভাবে N পাঁচভাবে

Self test	১	K	L	M	N	২	K	L	M	N	৩	K	L	M	N	৪	K	L	M	N	৫	K	L	M	N	৬	K	L	M	N	৭	K	L	M	N	৮	K	L	M	N	৯	K	L	M	N	১০	K	L	M	N
	১১	K	L	M	N	১২	K	L	M	N	১৩	K	L	M	N	১৪	K	L	M	N	১৫	K	L	M	N	১৬	K	L	M	N	১৭	K	L	M	N	১৮	K	L	M	N	১৯	K	L	M	N	২০	K	L	M	N
	২১	K	L	M	N	২২	K	L	M	N	২৩	K	L	M	N	২৪	K	L	M	N	২৫	K	L	M	N	২৬	K	L	M	N	২৭	K	L	M	N	২৮	K	L	M	N	২৯	K	L	M	N	৩০	K	L	M	N

১	K	২	N	৩	K	৪	N	৫	M	৬	L	৭	L	৮	K	৯	L	১০	K	১১	M	১২	N	১৩	N	১৪	K	১৫	L
১৬	M	১৭	L	১৮	K	১৯	M	২০	M	২১	N	২২	L	২৩	N	২৪	M	২৫	N	২৬	L	২৭	M	২৮	L	২৯	K	৩০	L

**১২** ✓ **যশোর বোর্ড ২০২২**  
**অর্থনীতি** ● **বহুনির্বাচনী অভীক্ষা**

বিষয় কোড : **141**

সময় : ২০ মিনিট

পূর্ণমান : ১৫

[বিশেষ দ্রষ্টব্য : সরবরাহকৃত বহুনির্বাচনী অভীক্ষার উত্তরপত্রে প্রশ্নের ক্রমিক নম্বরের বিপরীতে প্রদত্ত বর্ণসংবলিত বৃত্তসমূহ হতে সঠিক/ সর্বোৎকৃষ্ট উত্তরের বৃত্তটি বল পয়েন্ট কলম দ্বারা সম্পূর্ণ ভরাট কর। প্রতিটি প্রশ্নের মান ১। যেকোনো ১৫টি প্রশ্নের উত্তর দাও।]

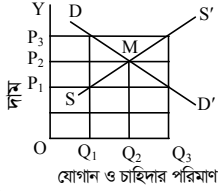
১. বাংলাদেশের সমগ্র বনভূমিকে কয়ভাগে ভাগ করা যায়?

- K চার L পাঁচ  
M ছয় N সাত

২. উৎসের দিক থেকে সম্পদ কত প্রকার?

- K দুই L তিন  
M চার N পাঁচ

■ নিচের চিত্রটি দেখে ৩ ও ৪নং প্রশ্নের উত্তর দাও :



৩. রেখাচিত্রে ভারসাম্য দাম কত?

- K OP<sub>1</sub> L OQ<sub>2</sub>  
M OP<sub>2</sub> N P<sub>2</sub>M

৪. যদি চাহিদা রেখাটি ডানদিকে স্থানান্তরিত হয় তবে—

- i. যোগান বৃদ্ধি পায়  
ii. দাম কমে যাবে  
iii. চাহিদা কমে যাবে

নিচের কোনটি সঠিক?

- K i L ii  
M iii N i, ii ও iii

৫. 'শৃঙ্খলহীন মনে হলেও শৃঙ্খলহীন নয়'— কোন অর্থ ব্যবস্থায়?

- K ইসলামি L সমাজতান্ত্রিক  
M মিশ্র N ধনতান্ত্রিক

৬. নিচের কোনটি একটি বিশেষ সময়ে ঋণাত্মক হতে পারে?

- K চাহিদা  
L যোগান  
M মোট উৎপাদন  
N প্রান্তিক উপযোগ

■ নিচের উদ্দীপকটি পড়ে ৭ ও ৮নং প্রশ্নের উত্তর দাও :  
জনাব রহিম একটি পোশাক কারখানা স্থাপন করে অনেক নারী-পুরুষ নিয়োগ করেন। তার কারখানায় উৎপাদিত পণ্য বিদেশে রপ্তানি করে তিনি অনেক টাকা আয় করেন।

৭. উৎপাদন প্রক্রিয়ায় জনাব রহিমের ভূমিকা কী?

- K উৎপাদক L সংগঠক  
M নীতি নির্ধারক N হিসাবরক্ষক

৮. জনাব রহিম তার প্রতিষ্ঠানে নির্ধারণ করেন—

- i. কর্তব্য বন্টন  
ii. কার্যবলি নির্ধারণ  
iii. শ্রমিক মালিক বৈষম্যকরণ

নিচের কোনটি সঠিক?

- K i ও ii L i ও iii  
M ii ও iii N i, ii ও iii

৯. চাহিদা বিধি কার্যকর হওয়ার জন্য অপরিবর্তনীয় থাকা প্রয়োজন—

- i. ক্রেতার আয়  
ii. ক্রেতার রুচি  
iii. সংশ্লিষ্ট দ্রব্যের দাম

নিচের কোনটি সঠিক?

- K i ও ii L ii ও iii  
M i ও iii N i, ii ও iii

১০. ঠাকুরগাঁও তাপ বিদ্যুৎ কেন্দ্রে জ্বালানি হিসেবে ব্যবহৃত হয়—

- K প্রাকৃতিক গ্যাস  
L খনিজ কয়লা  
M খনিজ তেল  
N আণবিক শক্তি

১১. যে দ্রব্য অন্য দ্রব্য উৎপাদনে সাহায্য করে তাকে কী বলে?

- K ভোগ্য দ্রব্য L মূলধনী দ্রব্য  
M চূড়ান্ত দ্রব্য N স্থায়ী দ্রব্য

১২. কারিতাস কী?

- K একটি সরকারি সংস্থা  
L একটি আধা-সরকারি সংস্থা  
M একটি ব্যক্তিগত সংস্থা  
N একটি বেসরকারি সংস্থা

১৩. কোন ধরনের দেশের মানুষের গড় আয়ুষ্কাল বেশি?

- K উন্নত দেশে  
L অনন্নত দেশে  
M উন্নয়নশীল দেশে  
N জনবহুল দেশে

১৪. চাহিদা বিধি অনুযায়ী চাহিদার সাথে কীসের সম্পর্ক রয়েছে?

- K আয়ের L পছন্দের  
M দামের N রুচির

১৫. "অর্থনীতি মানবজীবনের সাধারণ কার্যাবলি আলোচনা করে"— উক্তিটি কার?

- K অধ্যাপক মার্শাল  
L অধ্যাপক এল. রবিন্স  
M অ্যাডাম স্মিথ  
N ডেভিড রিকার্ডো

১৬. কোনটি নির্দেশমূলক অর্থনীতির বৈশিষ্ট্য?

- K সম্পদের ব্যক্তিমালিকানা  
L সম্পদের রাষ্ট্রীয় মালিকানা  
M ভোক্তার সার্বভৌমত্ব  
N উৎপাদকের সার্বভৌমত্ব

১৭. অর্থনীতির জনক কে?

- K প্লেটো L মার্শাল  
M এল. রবিন্স N অ্যাডাম স্মিথ

১৮. রাসায়নিক সার তৈরিতে কাঁচামাল হিসেবে কোনটি ব্যবহৃত হয়?

- K প্রাকৃতিক গ্যাস L চুনাপাথর  
M গন্ধক N সিলিকা

১৯. নিচের কোনটি উৎপাদিত সম্পদ?

- K খনিজ সম্পদ L প্রতিভা  
M কাঁচামাল N উদ্যোগ

২০. অধ্যাপক মার্শালের মতে অর্থনীতির মূল উদ্দেশ্য হলো—

- i. সম্পদ আহরণ করা  
ii. মানুষের কল্যাণ সাধন করা  
iii. বেকারদের কর্মসংস্থান করা

নিচের কোনটি সঠিক?

- K i L ii  
M iii N i, ii ও iii

২১. বাজারব্যবস্থা চলে 'অদৃশ্য হাতের' ইশারায়। এর ব্যতিক্রম ঘটলে—

- K সরকারি হস্তক্ষেপের প্রয়োজন হয়  
L উৎপাদন বাড়াতে হয়  
M ভর্তুকির ব্যবস্থা করতে হয়  
N ব্যবসায়ীদের প্রণোদনার ব্যবস্থা করতে হয়

■ নিচের উদ্দীপকটি পড়ে ২২ ও ২৩নং প্রশ্নের উত্তর দাও :  
জাহিদ 'ক' দেশে ব্যবসায় করে। সেখানে উৎপাদন, ভোগ, বন্টন কেন্দ্রীয় পরিকল্পনা কর্তৃপক্ষ কর্তৃক পরিচালিত।

২২. 'ক' দেশে কোন অর্থব্যবস্থা বিদ্যমান?

- K ইসলামি L ধনতান্ত্রিক  
M মিশ্র N সমাজতান্ত্রিক

২৩. 'ক' দেশের অর্থব্যবস্থায়—

- i. স্বাধীনভাবে দ্রব্য সামগ্রী ভোগ করা যায়  
ii. উদ্যোক্তা ইচ্ছামতো শিল্পকারখানা স্থাপন করতে পারে না  
iii. আয় বৈষম্য নেই বললেই চলে

নিচের কোনটি সঠিক?

- K i ও ii L ii ও iii  
M i ও iii N i, ii ও iii

২৪. মোট উপযোগ সর্বাধিক হলে প্রান্তিক উপযোগ কী হয়?

- K শূন্য হয় L ধনাত্মক  
M ঋণাত্মক N স্থির থাকে

■ নিচের উদ্দীপকটি পড়ে ২৫ ও ২৬নং প্রশ্নের উত্তর দাও :  
রাগিব স্নাতক পাস করে একটি ওয়ুথ কোম্পানিতে চাকরি করেন। সেখানে ভালো না লাগায় তিনি চাকরি ছেড়ে দিয়ে কিছুদিন বেকার থেকে পরবর্তীতে স্থানীয় ব্যাংক থেকে ঋণ নিয়ে পোলট্রি খামার স্থাপন করেন।

২৫. রাগিবের বেকারত্বের ধরন নিচের কোনটি?

- K মৌসুমি L ছন্নবেশী  
M সাময়িক N প্রচলন

২৬. খামার স্থাপনের মাধ্যমে—

- i. জিডিপি বৃদ্ধি পাবে  
ii. ভোগ বৃদ্ধি পাবে  
iii. মূলধন গঠন হবে

নিচের কোনটি সঠিক?

- K i ও ii L ii ও iii  
M i ও iii N i, ii ও iii

২৭. বাংলাদেশে শিক্ষাখাতে জিডিপি হিসাব করা হয়—

- K শিক্ষার্থীর দিক থেকে  
L শিক্ষাপ্রতিষ্ঠানের দিক থেকে  
M আয়ের দিক থেকে  
N ব্যয়ের দিক থেকে

২৮. উৎপাদন ক্ষেত্রে ব্যবহৃত মূলধনের জন্য প্রদত্ত সুদ কোন ধরনের হয়?

- K প্রকাশ্য ব্যয়  
L অপ্রকাশ্য ব্যয়  
M ব্যক্তিগত ব্যয়  
N সামাজিক ব্যয়

২৯. 'ব্র্যাক' কবে প্রতিষ্ঠিত হয়?

- K ১৯৭২ সালে L ১৯৭৫ সালে  
M ১৯৮০ সালে N ১৯৯২ সালে

৩০. খাদ্য ও দুর্যোগ ব্যবস্থাপনা মন্ত্রণালয়ের অধীনে চালু আছে—

- i. কাজের বিনিময়ে খাদ্য কর্মসূচি  
ii. ভিজিডি  
iii. ভিজিএফ

নিচের কোনটি সঠিক?

- K i ও ii L ii ও iii  
M i ও iii N i, ii ও iii

Self test	১	K L M N	২	K L M N	৩	K L M N	৪	K L M N	৫	K L M N	৬	K L M N	৭	K L M N	৮	K L M N	৯	K L M N	১০	K L M N
	১১	K L M N	১২	K L M N	১৩	K L M N	১৪	K L M N	১৫	K L M N	১৬	K L M N	১৭	K L M N	১৮	K L M N	১৯	K L M N	২০	K L M N
	২১	K L M N	২২	K L M N	২৩	K L M N	২৪	K L M N	২৫	K L M N	২৬	K L M N	২৭	K L M N	২৮	K L M N	২৯	K L M N	৩০	K L M N

১	L	২	L	৩	M	৪	K	৫	M	৬	N	৭	L	৮	K	৯	K	১০	M	১১	L	১২	N	১৩	K	১৪	M	১৫	K
১৬	L	১৭	N	১৮	K	১৯	M	২০	L	২১	K	২২	N	২৩	L	২৪	K	২৫	M	২৬	N	২৭	N	২৮	K	২৯	K	৩০	M

## ১৩ কুমিল্লা বোর্ড ২০২২

### অর্থনীতি বহনবিচনি অভীক্ষা

বিষয় কোড : 141

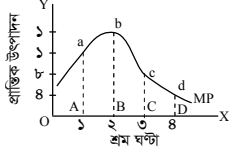
সময় : ২০ মিনিট

পূর্ণমান : ১৫

বিশেষ দ্রষ্টব্য : সরবরাহকৃত বহনবিচনি অভীক্ষার উত্তরপত্রে প্রশ্নের ক্রমিক নম্বরের বিপরীতে প্রদত্ত বর্ণসংবলিত বৃত্তসমূহ হতে সঠিক/সর্বোৎকৃষ্ট উত্তরের বৃত্তটি বল পয়েন্ট কলম দ্বারা সম্পূর্ণ ভরাট কর। প্রতিটি প্রশ্নের মান ১। যেকোনো ১৫টি প্রশ্নের উত্তর দাও।

১. উৎপাদনের উপকরণ কত প্রকার?  
K ৩ L ৪ M ৮ N ১০
২. হাসপাতালের ডাক্তারের কার্যক্রম কেমন উৎপাদন নির্দেশ করে?  
K সময়গত L স্থানগত  
M সেবাগত N রূপগত
৩. নিচের কোনটি গড় উৎপাদনের সঠিক সূত্র?  
K গড় উৎপাদন =  $\frac{\text{মোট উপকরণ}}{\text{মোট উৎপাদন}}$   
L গড় উৎপাদন =  $\frac{\text{মোট শ্রম উপকরণ}}{\text{মোট খরচ}}$   
M গড় উৎপাদন =  $\frac{\text{মোট উৎপাদন}}{\text{মোট উৎপাদন}}$   
N গড় উৎপাদন =  $\frac{\text{মোট উৎপাদন}}{\text{মোট খরচ}}$

■ নিচের চিত্রটি দেখে ৪ ও ৫ নং প্রশ্নের উত্তর দাও :



৪. চিত্রটি তোমার পঠিত কোন বিষয়কে নির্দেশ করে?  
K চাহিদা ও যোগান রেখা  
L মোট উৎপাদন  
M ক্রমহ্রাসমান প্রান্তিক উৎপাদন রেখা  
N গড় ও প্রান্তিক উৎপাদন রেখা
৫. চিত্রের MP রেখার ক্ষেত্রে প্রযোজ্য হলো—  
i. ডান দিকে নিম্নগামী হয়েছে  
ii. মোট উৎপাদনকে নির্দেশ করছে  
iii. ক্রমহ্রাসমান প্রান্তিক উৎপাদন বিধি কার্যকর হয়েছে  
নিচের কোনটি সঠিক?  
K i ও ii L i ও iii M ii ও iii N i, ii ও iii
৬. CCA-এর পূর্ণরূপ কী?  
K Capital Cost Arrangement  
L Capital Cost Allowance  
M Cost Capital Allowance  
N Capital Consumption Allowance
৭. কোন পদ্ধতিতে জাতীয় আয় হলো উৎপাদনের কাজে ব্যবহৃত উপকরণসমূহের প্রাপ্ত আয়ের সমষ্টি?  
K উৎপাদন পদ্ধতি L আয় পদ্ধতি  
M ব্যয় পদ্ধতি N ভোগ পদ্ধতি
৮. বাংলাদেশের অর্থনীতিকে কয়টি খাতে বিভক্ত করা হয়?  
K ৮টি L ১০টি M ১৩টি N ১৫টি
৯. “অর্থনীতি মানবজীবনের সাধারণ কার্যাবলি আলোচনা করে”— উক্তি কার?  
K অধ্যাপক এল. রবিন্স  
L অ্যাডাম স্মিথ  
M অধ্যাপক আলফ্রেড মার্শাল  
N জন স্টুয়ার্ট মিল
১০. অতি প্রয়োজনীয় অভাবগুলো অগ্রাধিকার ভিত্তিতে পূরণ করাকে কী বলে?  
K অভাবের গুরুত্ব বোঝা  
L অভাব বাছাই করা  
M অভাবের মূল্যায়ন করা  
N অভাবের প্রভাব বোঝা
- নিচের উদ্দীপকটি পড়ে ১১ ও ১২নং প্রশ্নের উত্তর দাও :  
সিফাতের বাড়িতে একটি মহিলা সমিতি আছে। সেখানে তার মা কাশিয়ার। সিফাতের মা নিজের অসুস্থতার কারণে সমিতি থেকে সুদমুক্ত টাকা ঋন নেন। এক বছর পর সমিতির টাকাটা ফেরত দেন।

১১. সিফাতের মা সমিতি থেকে যে ঋণ নিয়েছিল তার কার্যক্রম কেমন অর্থ ব্যবস্থার সঙ্গে সম্পৃক্ত?  
K মিশ্র অর্থব্যবস্থা  
L পুঁজিবাদী অর্থব্যবস্থা  
M সমাজতান্ত্রিক অর্থব্যবস্থা  
N ইসলামি অর্থব্যবস্থা
১২. উক্ত অর্থ ব্যবস্থায় দারিদ্র্য দূর করার জন্য যে সকল পন্থা অবলম্বন করা হয় তা হলো—  
i. ব্যক্তিগত মর্যাদা প্রদান করা  
ii. যাকাত ও ফিতরার ব্যবস্থা  
iii. ন্যায়ভিত্তিক বন্টন ব্যবস্থা  
নিচের কোনটি সঠিক?  
K i ও ii L i ও iii M ii ও iii N i, ii ও iii
১৩. যেকোনো ব্যক্তির সঞ্চয় নির্ভর করে মূলত—  
i. বিনিয়োগের পরিমাপের উপর  
ii. সুদের হারের উপর  
iii. আয়ের পরিমাপের উপর  
নিচের কোনটি সঠিক?  
K i ও ii L i ও iii M ii ও iii N i, ii ও iii
১৪. বর্তমান জাতীয় আয়ের কত শতাংশ কৃষি থেকে আসে?  
K প্রায় ১৪.১০% L প্রায় ১৩.৩৫%  
M প্রায় ১৪.৩৫% N প্রায় ১৫.৩৫%
- নিচের উদ্দীপকটি পড়ে ১৫ ও ১৬নং প্রশ্নের উত্তর দাও :  
তহমিনাকে তার বাবা ৫০০ টাকা দিয়েছিল বন্ধুদের সাথে শিক্ষা সফরে যাওয়ার জন্য কিন্তু তহমিনা সেই টাকা দিয়ে তার লেখা পড়ার জন্য কলম ও খাতা কিনল।
১৫. শিক্ষা সফরে যাওয়ার বদলে তহমিনার কলম ও খাতা ক্রয়কে অর্থনীতির ভাষায় কী বলে?  
K সুযোগ ব্যয়  
L ব্যক্তিগত ব্যয়  
M মোট ব্যয়  
N প্রান্তিক ব্যয়
১৬. অর্থনীতির এই পদ্ধতি ব্যবহার করে কোন দ্রব্য নির্বাচন আমাদের উচিত হবে—  
i. সীমিত সম্পদের অপচয় না করা  
ii. অধিক সম্পদের ব্যবহার করা  
iii. সমাজের সর্বোচ্চ উপকার সাধন করা  
নিচের কোনটি সঠিক?  
K i ও ii L i ও iii M ii ও iii N i, ii ও iii
১৭. “স্বনির্ভর বাংলাদেশ” কত সালে আত্মপ্রকাশ করে?  
K ১৯৭২ L ১৯৭৩  
M ১৯৭৪ N ১৯৭৫
- নিচের উদ্দীপকটি পড়ে ১৮ ও ১৯নং প্রশ্নের উত্তর দাও :  
রহিম তার ১ বিঘা জমিতে সাধারণ জাতের পাটের বিজ বপন করে। ১ম বছর যে পরিমাণ পাটের ফলন পান পরের বছর উন্নতজাতের পাটের বিজ ব্যবহার করে তার চেয়ে বেশি ফলন পায়।
১৮. রহিম উৎপাদনের বৃদ্ধির ক্ষেত্রে কোনটির ব্যবহার পরিবর্তন করেছেন?  
K ভূমি L প্রযুক্তি  
M শ্রম N মূলধন
১৯. এরূপ পরিবর্তন উৎপাদন ক্ষেত্রে—  
i. GDP বৃদ্ধি করে  
ii. GNI বৃদ্ধি করে  
iii. NNI হ্রাস করে  
নিচের কোনটি সঠিক?  
K i ও ii L i ও iii M ii ও iii N i, ii ও iii
২০. কোনটি এশিয়া মহাদেশের একমাত্র উন্নত দেশের উদাহরণ?  
K ভারত L নেপাল  
M চীন N জাপান

২১. বাংলাদেশ প্রতিকূল বাণিজ্য শর্তের সম্মুখীন হয়। কারণ—  
i. বিদেশি ব্যবসায়ীদের নানামুখী শর্ত  
ii. রপ্তানি অপেক্ষা আমদানি খরচ কম  
iii. আন্তর্জাতিক বাণিজ্যে অসম প্রতিযোগিতা  
নিচের কোনটি সঠিক?  
K i ও ii L i ও iii  
M ii ও iii N i, ii ও iii
২২. গ্রামীণ বেকারত্ব দূরীকরণে কী করণীয়?  
K বৃহৎ শিল্প স্থাপন  
L ক্ষুদ্র ও কুটির শিল্প স্থাপন  
M চাষাবাদ বাড়ানো  
N মূলধন বাড়ানো
২৩. মানবসম্পদ উন্নয়নের জন্য কোনটি বেশি প্রয়োজন?  
K পরিকল্পনা  
L প্রশিক্ষণ  
M শিক্ষা  
N অবকাঠামো উন্নয়ন
২৪. 'Wealth of Nations' গ্রন্থটি কত সালে প্রকাশিত হয়?  
K ১৮৫৪ L ১৮২০  
M ১৭৭৬ N ১৭৭০
২৫. কৃষি অন্তর্ভুক্ত অর্থনৈতিক কার্যাবলি হচ্ছে—  
i. বিজ বপন  
ii. পোশাক শিল্পের কাজ  
iii. মাছ চাষ  
নিচের কোনটি সঠিক?  
K i ও ii L i ও iii M ii ও iii N i, ii ও iii
২৬. প্রান্তিক উপযোগ ঋণাত্মক হলে মোট উপযোগ কী হয়?  
K শূন্য L ক্রমহ্রাসমান  
M স্থির N ক্রমবর্ধমান
- নিচের সূচিটি দেখ এবং ২৭ ও ২৮নং প্রশ্নের উত্তর দাও :
- | প্রতিটি একক দ্রব্যের দাম (টাকা) | দ্রব্যের পরিমাণ (একক) |
|---------------------------------|-----------------------|
| ১০                              | ১০০                   |
| ১৫                              | ৭৫                    |
| ২০                              | ৫০                    |
২৭. উপরের সূচিটি দ্বারা কী বোঝানো হয়েছে?  
K যোগান বিধি L চাহিদা রেখা  
M চাহিদা সূচি N যোগান রেখা
২৮. উপরের সূচিটি থেকে রেখা অঙ্কন করলে রেখাটি হবে—  
i. বাম থেকে ডান দিকে নিম্নগামী  
ii. বাম থেকে ডান দিকে উর্ধ্বগামী  
iii. ভূমি অক্ষের সমান্তরাল  
নিচের কোনটি সঠিক?  
K i L ii M iii N i, ii ও iii
২৯. যোগানের ক্ষেত্রে বিবেচ্য বিষয় হলো—  
i. একটি নির্দিষ্ট দ্রব্য  
ii. একটি নির্দিষ্ট দাম  
iii. একটি নির্দিষ্ট সময়  
নিচের কোনটি সঠিক?  
K i ও ii L i ও iii M ii ও iii N i, ii ও iii
- নিচের চিত্রটি দেখে ৩০নং প্রশ্নের উত্তর দাও:
- 
৩০. উপরের চিত্রে কোন বিন্দুতে ভারসাম্য দাম নির্ধারিত হয়?  
K Q L R M S N D

Self test	১	K	L	M	N	২	K	L	M	N	৩	K	L	M	N	৪	K	L	M	N	৫	K	L	M	N	৬	K	L	M	N	৭	K	L	M	N	৮	K	L	M	N	৯	K	L	M	N	১০	K	L	M	N
১১	K	L	M	N	১২	K	L	M	N	১৩	K	L	M	N	১৪	K	L	M	N	১৫	K	L	M	N	১৬	K	L	M	N	১৭	K	L	M	N	১৮	K	L	M	N	১৯	K	L	M	N	২০	K	L	M	N	
২১	K	L	M	N	২২	K	L	M	N	২৩	K	L	M	N	২৪	K	L	M	N	২৫	K	L	M	N	২৬	K	L	M	N	২৭	K	L	M	N	২৮	K	L	M	N	২৯	K	L	M	N	৩০	K	L	M	N	

১	L	২	M	৩	L	৪	M	৫	L	৬	N	৭	L	৮	N	৯	M	১০	L	১১	N	১২	M	১৩	M	১৪	L	১৫	K
১৬	L	১৭	N	১৮	L	১৯	K	২০	N	২১	L	২২	L	২৩	L	২৪	M	২৫	L	২৬	L	২৭	M	২৮	K	২৯	N	৩০	L



**১৪ চট্টগ্রাম বোর্ড ২০২২**  
**অর্থনীতি বহুনির্বাচনী অভীক্ষা**

বিষয় কোড : **141**

সময় : ২০ মিনিট

পূর্ণমান : ১৫

**বিশেষ দ্রষ্টব্য :** সরবরাহকৃত বহুনির্বাচনী অভীক্ষার উত্তরপত্রে প্রশ্নের ক্রমিক নম্বরের বিপরীতে প্রদত্ত বর্ণসংবলিত বৃত্তসমূহ হতে সঠিক/ সর্বোৎকৃষ্ট উত্তরের বৃত্তটি বল পয়েন্ট কলম দ্বারা সম্পূর্ণ ভরাট কর। প্রতিটি প্রশ্নের মান ১। যেকোনো ১৫টি প্রশ্নের উত্তর দাও।

১. বাংলাদেশে কোথায় কঠিন শিলা পাওয়া যায়?

- K সুনামগঞ্জ L চট্টগ্রাম  
M দিনাজপুর N ময়মনসিংহ

২. পাউরুটি কোন ধরনের দ্রব্য?

- K অবাধলভ্য দ্রব্য  
L মধ্যবর্তী দ্রব্য  
M চূড়ান্ত দ্রব্য  
N মূলধনী দ্রব্য

৩. উপযোগ সূচি :

কমলার একক	মোট উপযোগ (টাকায়)	প্রান্তিক উপযোগ (টাকায়)
১ম	১০	১০
২য়	১৮	—
৩য়	২৪	৬

২য় কমলার প্রান্তিক উপযোগ কত?

- K ৮ L ১০  
M ১৮ N ২৪

৪. ভারসাম্য দাম ও পরিমাণ নির্ণয়ের ক্ষেত্রে চিত্রে কোন কোন রেখা পাওয়া যায়?

- K উপযোগ ও চাহিদা রেখা  
L চাহিদা ও উৎপাদন রেখা  
M চাহিদা ও যোগান রেখা  
N উপযোগ ও যোগান রেখা

৫. TMSS কতসালে প্রতিষ্ঠিত হয়?

- K ১৯৭২ L ১৯৭৫  
M ১৯৮০ N ১৯৮৬

৬. একটি নির্দিষ্ট সময় ও দামে বিক্রিতা যে পরিমাণ দ্রব্য বিক্রয় করতে ইচ্ছুক তাকে কী বলে?

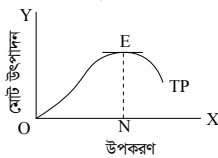
- K উৎপাদন L যোগান  
M মজুদ N চাহিদা

৭. লতা একটি পোশাক কারখানা স্থাপন করেছেন। তিনি কারখানার সকল প্রকার উৎপাদন কার্যক্রম তার ম্যানেজার রেখে শ্রমিকদের দিয়ে পরিচালনা করেন। তিনি একজন—

- K মালিক  
L মালিক ও উৎপাদক  
M মালিক ও সংগঠক  
N মালিক, উৎপাদক ও সংগঠক

৮. কোন ব্যয়ের হিসাব ফার্মের বই-এ থাকে না?

- K মূলধনের সুদ  
L কাচামাল ক্রয়ের ব্যয়  
M গুদামঘর ভাড়া ব্যয়  
N নিজের শ্রমের মূল্য



৯. চিত্রের কোন বিন্দুতে মোট উৎপাদন সর্বোচ্চ?

- K E L N  
M TP N O

১০. উৎপাদনের উপযোগ সূচি কয়টি ভাগে দেখানো যায়?

- K ৪ L ৫  
M ৬ N ৭

১১. আয় পদ্ধতিতে কোনটি সঠিক?

- K  $\Sigma =$  খাজনা L  $\Sigma =$  সমষ্টি  
M  $\Sigma =$  সুদ N  $\Sigma =$  মজুরি

১২. মোট দেশজ উৎপাদন (GDP) পরিমাপের জন্য বাংলাদেশের অর্থনীতিকে মোট কতটি প্রধান খাতে ভাগ করেছে?

- K ২৫টি L ২০টি  
M ১৫টি N ১০টি

১৩. 'ক' দেশের মোট GDP ১,০০,০০,০০০ টাকা (এক কোটি) ও মোট জনসংখ্যা ১০,০০০ জন হলে মাথা পিছু GDP কত?

- K ১০০ টাকা  
L ১,০০০ টাকা  
M ১০,০০০ টাকা  
N ১,০০,০০০ টাকা

১৪. বাংলাদেশে কয় ধরনের বেকারত্ব দেখা যায়?

- K ৩ L ৪  
M ৫ N ৬

১৫. GNI-এর পূর্ণরূপ কোনটি?

- K Gross Net Income  
L Government National Income  
M Gross National Investment  
N Gross National Income

১৬. কোন বেকারত্বে প্রান্তিক উৎপাদনশীলতা শূন্য হয়?

- K ছন্নবেশী বেকারত্ব  
L মৌসুমি বেকারত্ব  
M সাময়িক বেকারত্ব  
N প্রচ্ছন্ন বেকারত্ব

১৭. অর্থনৈতিক উন্নয়ন বলতে বোঝায়—

- i. জিডিপি ও মাথাপিছু আয় বৃদ্ধির হার  
ii. নাগরিকের সামগ্রিক জীবন মান বৃদ্ধি  
iii. অর্থনৈতিক অবস্থার গুণগত পরিবর্তন

নিচের কোনটি সঠিক?

- K i ও ii L i ও iii  
M ii ও iii N i, ii ও iii

১৮. মানবসম্পদ কারা?

- K সকল জনগণ  
L শিক্ষিত ও দক্ষ জনসংখ্যা  
M যুবক, নারী-পুরুষ  
N শিক্ষিত নারী

১৯. বাংলাদেশের সর্ববৃহৎ এনজিও (NGO) কোনটি?

- K ত্র্যাক L স্বনির্ভর বাংলাদেশ  
M প্রশিকা N আশা

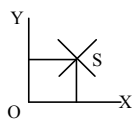
২০. রপ্তানি আয় বেড়ে গেলে—

- i. বিনিয়োগ বৃদ্ধি পায়  
ii. আমদানি ব্যয় কমে যাবে  
iii. অর্থনীতির গুণগত মান বৃদ্ধি পাবে

নিচের কোনটি সঠিক?

- K i ও ii L i ও iii  
M ii ও iii N i, ii ও iii

■ নিচের চিত্রটি দেখে ২১ ও ২২নং প্রশ্নের উত্তর দাও :



২১. S বিন্দুতে কোনটি নির্দেশ করে?

- K উপযোগ  
L ভারসাম্য দাম ও পরিমাণ  
M ক্রমহ্রাসমান প্রান্তিক উৎপাদন  
N ক্রমহ্রাসমান প্রান্তিক উপযোগ

২২. S বিন্দুতে—

- i. চাহিদা ও দাম সমান হয়  
ii. দ্রব্যের দাম নির্ধারিত হয়  
iii. দ্রব্যের দাম, হ্রাস-বৃদ্ধির সুযোগ থাকে না

- নিচের কোনটি সঠিক?  
K i ও ii L i ও iii  
M ii ও iii N i, ii ও iii

২৩. কাকে অর্থনীতি শাস্ত্রের জনক বলা হয়?

- K জন স্টুয়ার্ট মিল L ডেভিড রিকার্ডো  
M অ্যাডাম স্মিথ N এরিস্টটল

২৪. সুদ গ্রহণের স্বীকৃতি নেই কোন অর্থব্যবস্থা?

- K ধনতান্ত্রিক অর্থব্যবস্থা  
L সমাজতান্ত্রিক অর্থব্যবস্থা  
M মিশ্র অর্থব্যবস্থা  
N ইসলামি অর্থব্যবস্থা

২৫. কোন অর্থনীতিবিদের পুস্তকে অর্থনীতির দশটি মৌলিক নীতির কথা বলা হয়েছে?

- K গ্রেগরি ম্যানকিউ  
L অ্যাডাম স্মিথ  
M আলফ্রেড মার্শাল  
N ডেভিড রিকার্ডো

২৬. একটি সরল অর্থনীতিতে কত ধরনের প্রতিনিধি থাকে?

- K এক ধরনের L দুই ধরনের  
M তিন ধরনের N চার ধরনের

২৭. কোনটি প্রণোদনা?

- K ফলন ভালো হওয়ার জন্য সার প্রদান  
L মাস শেষে শ্রমিকের বেতন প্রদান  
M বেশি পড়াশুনা করে GPA-5 পাওয়া  
N কাজ বেশি করলে ১০% বেতন বৃদ্ধির ঘোষণা

২৮. মিশ্র অর্থব্যবস্থায় সরকারি হস্তক্ষেপ জরুরি, কারণ—

- i. অভ্যন্তরীণ শৃঙ্খলা রক্ষার জন্য  
ii. অধিক মুনাফা অর্জন বন্ধ করার জন্য  
iii. অতি প্রয়োজনীয় দ্রব্যের সরবরাহ ঠিক রাখার জন্য

নিচের কোনটি সঠিক?

- K i ও ii L i ও iii  
M ii ও iii N i, ii ও iii

২৯. কৃষি সংক্রান্ত কার্যাবলি হচ্ছে—

- i. গরুর খামার করা  
ii. ক্ষেত থেকে ফসল সংগ্রহ করা  
iii. মাছ চাষ করা

নিচের কোনটি সঠিক?

- K i ও ii L i ও iii  
M ii ও iii N i, ii ও iii

৩০. চাহিদা রেখা ডান দিকে উর্ধ্বগামী হবে যদি—

- i. ক্রেতার আয় বেড়ে যায়  
ii. দ্রব্যের দাম কমে যায়  
iii. ক্রেতার অভ্যাস ও রুচির পরিবর্তন হয়

নিচের কোনটি সঠিক?

- K i ও ii L i ও iii  
M ii ও iii N i, ii ও iii

Self test	১	K	L	M	N	২	K	L	M	N	৩	K	L	M	N	৪	K	L	M	N	৫	K	L	M	N	৬	K	L	M	N	৭	K	L	M	N	৮	K	L	M	N	৯	K	L	M	N	১০	K	L	M	N
১১	K	L	M	N	১২	K	L	M	N	১৩	K	L	M	N	১৪	K	L	M	N	১৫	K	L	M	N	১৬	K	L	M	N	১৭	K	L	M	N	১৮	K	L	M	N	১৯	K	L	M	N	২০	K	L	M	N	
২১	K	L	M	N	২২	K	L	M	N	২৩	K	L	M	N	২৪	K	L	M	N	২৫	K	L	M	N	২৬	K	L	M	N	২৭	K	L	M	N	২৮	K	L	M	N	২৯	K	L	M	N	৩০	K	L	M	N	

১	M	২	M	৩	K	৪	M	৫	M	৬	L	৭	N	৮	N	৯	K	১০	L	১১	L	১২	M	১৩	L	১৪	K	১৫	N
১৬	K	১৭	M	১৮	L	১৯	K	২০	L	২১	L	২২	M	২৩	M	২৪	N	২৫	K	২৬	L	২৭	N	২৮	L	২৯	N	৩০	L

১৫ সিলেট বোর্ড ২০২২

বিষয় কোড : 141

সময় : ২০ মিনিট

অর্থনীতি বহুনির্বাচনী অভীক্ষা

পূর্ণমান : ১৫

[বিশেষ দ্রষ্টব্য : সরবরাহকৃত বহুনির্বাচনী অভীক্ষার উত্তরপত্রে প্রশ্নের ক্রমিক নম্বরের বিপরীতে প্রদত্ত বর্ণসংবলিত বৃত্তসমূহ হতে সঠিক/ সর্বোৎকৃষ্ট উত্তরের বৃত্তটি বল পয়েন্ট কলম দ্বারা সম্পূর্ণ ভরাট কর। প্রতিটি প্রশ্নের মান ১। যেকোনো ১৫টি প্রশ্নের উত্তর দাও।]

- একজন ব্যক্তির একই সাথে রঙিন টিভি, মোবাইল ফোন, চাল এবং হাতঘড়ি প্রয়োজন। সে কোন প্রয়োজনটি আগে পূরণ করবে?
  - চাল
  - হাতঘড়ি
  - রঙিন টিভি
  - মোবাইল ফোন
- নিচের কোনটি অপ্রকাশ্য ব্যয়?
  - বাড়ি ভাড়া
  - মূলধনের সুদ
  - নিজের বাড়িতে ব্যবসায় প্রতিষ্ঠান
  - মধ্যবর্তী দ্রব্যের জন্য ব্যয়
- যদি চাল থেকে চালের রুটি বানানো হয় তা কোন ধরনের উপযোগ সৃষ্টি করে?
  - সময়গত
  - সেবাগত
  - স্থানগত
  - রূপগত
- ভূমি থেকে প্রাপ্ত আয় কোনটি?
  - সুদ
  - খাজনা
  - মজুরি
  - মুনাফা
- কোনো দ্রব্যের অভাব মোচনের ক্ষমতাকে কী বলে?
  - ভোগ
  - চাহিদা
  - উৎপাদন
  - উপযোগ
- অর্থনৈতিক সমীক্ষা-২০১৮ অনুযায়ী দেশে আবিষ্কৃত মোট গ্যাসক্ষেত্র কয়টি?
  - ২৭টি
  - ২৮টি
  - ২৯টি
  - ৩০টি
- অর্থনীতিতে উৎপাদনের ফলে সৃষ্ট উপযোগের কী থাকতে হবে?
  - প্রকৃত মূল্য
  - বিনিময় মূল্য
  - ব্যবহারিক মূল্য
  - অদৃশ্য মূল্য
- আন্তর্জাতিক বাণিজ্যবাদের প্রসার ঘটে কোন দেশে?
  - ডেনমার্ক
  - ব্রাজিলে
  - ফ্রান্সে
  - পর্তুগালে
- কোন ধরনের দেশ ভূমি ও প্রাকৃতিক সম্পদের সঠিক ব্যবহার ও সুলভ সংরক্ষণ করে?
  - উন্নত
  - অনুন্নত
  - সম্মেল্লত
  - উন্নয়নশীল
- উন্নয়নশীল দেশের বৈদেশিক বাণিজ্যের বৈশিষ্ট্য কোনটি?
  - উদ্বৃত্ত থাকে
  - ঘাটতি থাকে
  - অধিক আয়
  - অধিক ব্যয়
- নিচের কোনটি উৎপাদিত সম্পদ?
  - শারীরিক যোগ্যতা
  - খনিজ সম্পদ
  - শিক্ষা প্রতিষ্ঠান
  - সাংগঠনিক ক্ষমতা
- কোনটি সমাজতান্ত্রিক অর্থব্যবস্থার বৈশিষ্ট্য?
  - কেন্দ্রীয় পরিকল্পনা
  - আয় বৈষম্য
  - ব্যক্তিগত উদ্যোগ
  - মুনাফা অর্জন

- নিচের উদ্দীপকটি পড়ে ১৩ ও ১৪নং প্রশ্নের উত্তর দাও :
 

সকল দ্রব্যসামগ্রী উৎপাদন ও বণ্টন হয় সরকারের পরিকল্পনা অনুসারে জনগণ ইচ্ছামতো কোনো দ্রব্য ভোগ করতে পারে না জনাব রহিম ব্যবসায় করে প্রচুর মুনাফা অর্জন করে

সরকার বিদ্যুৎ ও প্রাকৃতিক গ্যাস উৎপাদন ও বণ্টন করে
- 'B' দেশে কোন অর্থব্যবস্থা বিদ্যমান?
  - মিশ্র
  - ইসলামি
  - ধনতান্ত্রিক
  - সমাজতান্ত্রিক
- উভয় দেশের অর্থব্যবস্থায় সামঞ্জস্য রয়েছে—
  - সরকারি নিয়ন্ত্রণ আছে
  - উৎপাদন ব্যবস্থায় সরকারি পরিকল্পনা বিদ্যমান
  - বণ্টন ব্যবস্থায় সরকারি পরিচালনা করে
- নিচের কোনটি সঠিক?
  - i ও ii
  - i ও iii
  - ii ও iii
  - N i, ii ও iii
- NNI এর পূর্ণরূপ কী?
  - Net National Investment
  - Net National Income
  - Net Nation Investment
  - Net Nationalization Income
- অর্থনীতিতে সম্পদের বৈশিষ্ট্য কয়টি?
  - ৩টি
  - ৪টি
  - ৫টি
  - ৬টি
- উন্নয়ন হলো—
  - আংশিকভাবে মান উন্নয়ন
  - অর্থনৈতিক অবস্থার গুণগত পরিবর্তন
  - প্রবৃদ্ধির হার বৃদ্ধি
- নিচের কোনটি সঠিক?
  - i ও ii
  - i ও iii
  - ii ও iii
  - N i, ii ও iii
- বাংলাদেশে নারী উন্নয়নে সবচেয়ে বড় সংগঠন কোনটি?
  - ব্র্যাক
  - আশা
  - এসএসএস
  - টিএমএসএস
- মোট জাতীয় আয় হিসাব করতে কোন সময়টি বিবেচনায় আনতে হয়?
  - ১ বছর
  - ২ বছর
  - ৩ বছর
  - ৪ বছর
- দুস্থাপ্যতার সৃষ্টি হয় না কীভাবে?
  - অভাব বেশি হলে
  - অভাব কম হলে
  - সম্পদ বেশি হলে
  - সম্পদ কম হলে
- সিলেটের বনভূমিতে জন্মে—
  - বনজাম, কড়ই
  - শাল, গজারি
  - বনজাম, শিমুল
  - নেপেগুন, জারুল
- প্রান্তিক উপযোগ কখন শূন্য হয়?
  - মোট উপযোগ বাড়তে থাকলে
  - মোট উপযোগ সর্বনিম্ন হলে
  - মোট উপযোগ সর্বোচ্চ হলে
  - মোট উপযোগ কমতে থাকলে

- ব্যয় পদ্ধতিতে জাতীয় আয় নির্ণয়ের সূত্র কোনটি?
 
$$K C + I + G$$

$$L C + I + M$$

$$M C + I + X + (G - M)$$

$$N C + I + G + (X - M)$$
- নিচের কোনটি বেকারত্বের বৈশিষ্ট্য?
  - আয় উপার্জন থেকে বঞ্চিত
  - মজুরিভিত্তিক কাজের প্রাপ্তি
  - প্রচলিত মজুরিতে কাজে অসম্মত
  - আর্থিক ও মানসিক যন্ত্রণামুক্ত
- নিচের উদ্দীপকটি পড়ে ২৫ ও ২৬নং প্রশ্নের উত্তর দাও :
 

চৌধুরী সাহেব একজন সফল ব্যবসায়ী। তিনি তার শিক্ষাগত যোগ্যতা ও ব্যক্তিগত প্রচেষ্টায় ব্যবসায় সফলতা অর্জন করেছেন।
- চৌধুরী সাহেবের যোগ্যতাটি কোন ধরনের সম্পদ?
  - ব্যক্তিগত সম্পদ
  - মানবিক সম্পদ
  - প্রাকৃতিক সম্পদ
  - উৎপাদিত সম্পদ
- চৌধুরী সাহেবের দক্ষতায় রয়েছে—
  - উপযোগ
  - বাহ্যিকতা
  - হস্তান্তরযোগ্যতা
- নিচের কোনটি সঠিক?
  - i ও ii
  - i ও iii
  - ii ও iii
  - N i, ii ও iii
- [\* বি. দ্র : সঠিক উত্তর।]
- অর্থনীতিতে সব ধরনের প্রাকৃতিক সম্পদকে কী বলে?
  - ভূমি
  - শ্রম
  - মূলধন
  - সংগঠন
- নিজ জাতীয় আয় কোনটি?
  - চূড়ান্ত পর্যায়ের দ্রব্য ও সেবা থাকে
  - মূলধনের ক্ষয়ক্ষতিজনিত ব্যয় থাকে
  - আমদানি ব্যয় থাকে
  - রপ্তানি আয়
- নিচের চিত্রটি দেখে ২৯ ও ৩০নং প্রশ্নের উত্তর দাও :
- চিত্র : বাজারের দর কষাকষির মাধ্যমে দাম নির্ধারণ চিত্রে PP<sub>1</sub> রেখা হলো কোনটি?
  - প্রান্তিক উপযোগ রেখা
  - বাজার রেখা
  - যোগান রেখা
  - চাহিদা রেখা
- চিত্রের 'D' বিন্দুতে—
  - চাহিদা ও যোগানের পরিমাণ সমান
  - ভারসাম্য দাম ও ভারসাম্য পরিমাণ
  - চাহিদা ও যোগানের একক ভিন্ন
- নিচের কোনটি সঠিক?
  - i ও ii
  - i ও iii
  - ii ও iii
  - N i, ii ও iii

Self test	১	K	L	M	N	২	K	L	M	N	৩	K	L	M	N	৪	K	L	M	N	৫	K	L	M	N	৬	K	L	M	N	৭	K	L	M	N	৮	K	L	M	N	৯	K	L	M	N	১০	K	L	M	N
	১১	K	L	M	N	১২	K	L	M	N	১৩	K	L	M	N	১৪	K	L	M	N	১৫	K	L	M	N	১৬	K	L	M	N	১৭	K	L	M	N	১৮	K	L	M	N	১৯	K	L	M	N	২০	K	L	M	N
	২১	K	L	M	N	২২	K	L	M	N	২৩	K	L	M	N	২৪	K	L	M	N	২৫	K	L	M	N	২৬	K	L	M	N	২৭	K	L	M	N	২৮	K	L	M	N	২৯	K	L	M	N	৩০	K	L	M	N

১	K	২	M	৩	N	৪	L	৫	N	৬	K	৭	L	৮	M	৯	K	১০	K	১১	M	১২	K	১৩	K	১৪	K	১৫	L
১৬	L	১৭	M	১৮	N	১৯	K	২০	M	২১	M	২২	M	২৩	N	২৪	K	২৫	L	২৬	*	২৭	K	২৮	L	২৯	N	৩০	K

**১৬** বরিশাল বোর্ড ২০২২  
অর্থনীতি বহুনির্বাচনী অভীক্ষা

বিষয় কোড : 141

সময় : ২০ মিনিট

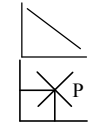
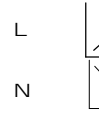
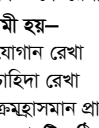
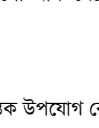
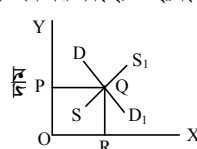
পূর্ণমান : ১৫

বিশেষ দৃষ্টব্য : সরবরাহকৃত বহুনির্বাচনী অভীক্ষার উত্তরপত্রে প্রশ্নের ক্রমিক নম্বরের বিপরীতে প্রদত্ত বর্ণসংবলিত বৃত্তসমূহ হতে সঠিক/ সর্বোৎকৃষ্ট উত্তরের বৃত্তটি বল পয়েন্ট কলম দ্বারা সম্পূর্ণ ভরাট কর। প্রতিটি প্রশ্নের মান ১। যেকোনো ১৫টি প্রশ্নের উত্তর দাও।

- অর্থনীতির দশটি মৌলিক নীতির কথা কে বলেছেন?  
K অ্যাডাম স্মিথ  
L গ্রেগরি মানকিউ  
M অধ্যাপক র্যাগনার নার্কস  
N পল স্যামুয়েলসন
- মূলধনের সুদ কী ধরনের ব্যয়?  
K প্রকাশ্য ব্যয় L অ-প্রকাশ্য ব্যয়  
M ব্যক্তিগত ব্যয় N সামাজিক ব্যয়
- নিচের উদ্দীপকটি পড়ে ৩ ও ৪নং প্রশ্নের উত্তর দাও :  
'ক' দেশে ২০২০-২১ অর্থবছরে ভোগ ব্যয় ১০০ কোটি টাকা, বিনিয়োগ ব্যয় ৫০ কোটি টাকা, সরকারি ব্যয় ৪০ কোটি টাকা, আমদানি ব্যয় ৩০ কোটি টাকা, রপ্তানি আয় ৪০ কোটি টাকা।
- 'ক' দেশে ২০২০-২১ সালের GDP কত?  
K ১০০ কোটি টাকা  
L ১৫০ কোটি টাকা  
M ২০০ কোটি টাকা  
N ২৫০ কোটি টাকা
- উক্ত দেশের আমদানি ব্যয় ৬০ কোটি টাকা হলে—  
i. জাতীয় আয় কমবে  
ii. রপ্তানি আয় কমবে  
iii. মাথা পিছু আয় কমবে  
নিচের কোনটি সঠিক?  
K i ও ii L i ও iii  
M ii ও iii N i, ii ও iii
- ব্যবসয়ে ঝুঁকি গ্রহণ থেকে প্রাপ্ত আয়কে কী বলে?  
K খাজনা L মজুরি  
M সুদ N মুনাফা
- নিচের কোনটি সামাজিক ব্যয়?  
K গুদাম ঘর ভাড়া  
L নিজের ব্যবসাকে অফিস বানানো  
M ব্যবস্থাপকের বেতন প্রদান  
N পরিবেশ দূষণের ফলে স্বাস্থ্য খাতে ব্যয়
- নিচের কোনটি জিডিপি'র হিসাব বহির্ভূত?  
K জমির খাজনা L সরকারি ঋণের সুদ  
M সংগঠনের মুনাফা N মূলধনের সুদ
- "একটি দেশ দরিদ্র কারণ সে দেশ দরিদ্র"—  
কথাটি কে বলেছেন?  
K অধ্যাপক নার্কস  
L অধ্যাপক মার্শাল  
M অধ্যাপক এল. রবিন্স  
N জন স্টুয়ার্ট মিল
- মোট জাতীয় আয় প্রকাশ করা হয় কোনটি দ্বারা?  
K GDP L GNI  
M NNI N CCA
- কী কারণে মৌসুমি বেকারত্ব দেখা দেয়?  
K অর্থনৈতিক L প্রাকৃতিক  
M সামাজিক N ব্যক্তিগত
- পেশা পরিবর্তনের ফলে কোন ধরনের বেকারত্ব সৃষ্টি হয়?  
K মৌসুমি L ছদ্মবেশী  
M সাময়িক N প্রচ্ছন্ন
- কোন মহাদেশের অধিকাংশ দেশ অনুন্নত?  
K এশিয়া L আফ্রিকা  
M ইউরোপ N আমেরিকা

[\* বি. দ্র : সঠিক উত্তর ক ও খ]

- উদ্দীপকটি পড়ে ১৩ ও ১৪নং প্রশ্নের উত্তর দাও :  
স্বাধীনতার ঠিক এক বছর পর একটি এনজিও বাংলাদেশে প্রতিষ্ঠা লাভ করে। বর্তমানে এটি দেশ ও দেশের বাইরে কাজ করছে।
- উদ্দীপকটিতে কোন এনজিও এর কথা বলা হয়েছে?  
K প্রশিকা L ব্র্যাক  
M আশা N টিএমএসএস
- উক্ত এনজিও এর কার্যক্রম হলো—  
i. ক্ষুদ্র ঋণ প্রদান করা  
ii. নারীর ক্ষমতায়নে কাজ করা  
iii. আত্মকর্মসংস্থানের সুযোগ সৃষ্টি করা  
নিচের কোনটি সঠিক?  
K i ও ii L ii ও iii  
M i ও iii N i, ii ও iii
- মুদ্রাস্ফীতি বাড়লে কী হয়?  
K বেকারত্ব বৃদ্ধি পায়  
L দ্রব্য মূল্য কমে যায়  
M ক্রয় ক্ষমতা বৃদ্ধি পায়  
N বেকারত্ব কমে যায়
- বাংলাদেশে কোন ধরনের অর্থব্যবস্থা চালু আছে?  
K মিশ্র অর্থ ব্যবস্থা  
L ধনতান্ত্রিক অর্থ ব্যবস্থা  
M সমাজতান্ত্রিক অর্থ ব্যবস্থা  
N ইসলামি অর্থ ব্যবস্থা
- ষোড়শ শতাব্দীর শেষ ভাগ থেকে অষ্টাদশ শতাব্দীর শেষ ভাগ পর্যন্ত যেসব দেশের বাণিজ্যের প্রসার ঘটে তা হলো—  
i. ইংল্যান্ড  
ii. ফ্রান্স  
iii. ইতালি  
নিচের কোনটি সঠিক?  
K i ও ii L ii ও iii  
M i ও iii N i, ii ও iii
- ভূমিবাড় মতবাদ প্রচার করেন কারা?  
K ফরাসিরা  
L ইতালিয়ানরা  
M ইংল্যান্ডের ব্যবসায়ীরা  
N গ্রিসের অধিবাসীরা
- "অর্থশাস্ত্র" গ্রন্থের লেখক কে?  
K এল. রবিন্স  
L স্যামুয়েলসন  
M কোটিল্য  
N অ্যাডাম স্মিথ
- জাতীয় কবি কাজী নজরুল ইসলামের প্রতিভা অর্থনীতির ভাষায় সম্পদ নয়। কারণ—  
i. প্রাচুর্যতার অভাব  
ii. বাহ্যিকতা নেই  
iii. হস্তান্তর যোগ্যতা নেই  
নিচের কোনটি সঠিক?  
K i ও ii L ii ও iii  
M i ও iii N i, ii ও iii

- শারীরিক যোগ্যতা কোন ধরনের সম্পদ?  
K ব্যক্তিগত সম্পদ L মানবিক সম্পদ  
M প্রাকৃতিক সম্পদ N সমষ্টিগত সম্পদ
- সুন্দরবনের আয়তন কত বর্গকিলোমিটার?  
K ৬০১৭ L ১০৬৪  
M ১০৪০ N ১০৩৯
- কোনো দ্রব্যের অভাব মোচনের ক্ষমতাকে কী বলে?  
K উৎপাদন L ভোগ  
M উপযোগ N চাহিদা
- নিচের কোনটি ক্রমহাসমান প্রান্তিক উপযোগ রেখা?  
K  L   
M  N 
- সাধারণত যে রেখাগুলো বাম থেকে ডান দিকে নিম্নগামী হয়—  
i. যোগান রেখা  
ii. চাহিদা রেখা  
iii. ক্রমহাসমান প্রান্তিক উপযোগ রেখা  
নিচের কোনটি সঠিক?  
K i ও ii L i ও iii  
M ii ও iii N i, ii ও iii
- কোনো দ্রব্যের ব্যবহারের মাধ্যমে উপযোগ নিঃশেষ করাকে কী বলা হয়?  
K ভোগ L বিনিয়োগ  
M সম্বল N চাহিদা
- চাহিদার সাথে কোনটি সরাসরি সম্পৃক্ত?  
K উৎপাদন L দাম  
M উপযোগ N বিনিয়োগ
- চিহ্নটি লক্ষ কর এবং ২৮ ও ২৯নং প্রশ্নের উত্তর দাও:  
  
চাহিদা ও যোগানের পরিমাণ
- চিহ্নটির Q বিন্দুতে কোনটি নির্দেশ করছে?  
K বাজার যোগান রেখা  
L বাজার চাহিদা রেখা  
M ভারসাম্য দাম ও পরিমাণ  
N প্রান্তিক উৎপাদন রেখা
- Q বিন্দুতে—  
i. দ্রব্যের দাম নির্ধারিত হয়  
ii. চাহিদা ও যোগান সমান হয়  
iii. ক্রেতা ও বিক্রেতা একমত হয়  
নিচের কোনটি সঠিক?  
K i ও ii L ii ও iii  
M i ও iii N i, ii ও iii
- একজন ভূমি মালিকের আয় কোনটি?  
K খাজনা L মজুরি  
M মুনাফা N সুদ

Self test	১	K	L	M	N	২	K	L	M	N	৩	K	L	M	N	৪	K	L	M	N	৫	K	L	M	N	৬	K	L	M	N	৭	K	L	M	N	৮	K	L	M	N	৯	K	L	M	N	১০	K	L	M	N	১১	K	L	M	N	১২	K	L	M	N	১৩	K	L	M	N	১৪	K	L	M	N	১৫	K	L	M	N
-----------	---	---	---	---	---	---	---	---	---	---	---	---	---	---	---	---	---	---	---	---	---	---	---	---	---	---	---	---	---	---	---	---	---	---	---	---	---	---	---	---	---	---	---	---	---	----	---	---	---	---	----	---	---	---	---	----	---	---	---	---	----	---	---	---	---	----	---	---	---	---	----	---	---	---	---

১	L	২	K	৩	M	৪	L	৫	N	৬	N	৭	L	৮	K	৯	L	১০	L	১১	M	১২	*	১৩	L	১৪	N	১৫	N
১৬	K	১৭	N	১৮	K	১৯	M	২০	L	২১	L	২২	K	২৩	M	২৪	N	২৫	M	২৬	K	২৭	L	২৮	M	২৯	N	৩০	K

## ১৭ দিনাজপুর বোর্ড ২০২২

### অর্থনীতি বহুনির্বাচনী অভীক্ষা

বিষয় কোড : 141

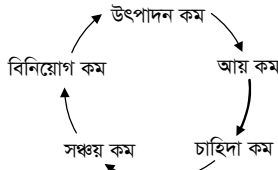
পূর্ণমান : ১৫

সময় : ২০ মিনিট

[বিশেষ দ্রষ্টব্য : সরবরাহকৃত বহুনির্বাচনী অভীক্ষার উত্তরপত্রে প্রশ্নের ক্রমিক নম্বরের বিপরীতে প্রদত্ত বর্ণসংবলিত বৃত্তসমূহ হতে সঠিক/ সর্বোৎকৃষ্ট উত্তরের বৃত্তটি বল পয়েন্ট কলম দ্বারা সম্পূর্ণ ভরাট কর। প্রতিটি প্রশ্নের মান ১। যেকোনো ১৫টি প্রশ্নের উত্তর দাও।]

১. জিডিপির নির্ধারক কয়টি?  
K ২টি L ৩টি M ৪টি N ৫টি
২. ২০২১ সালে 'ক' দেশে GNI-এর পরিমাণ ৮৮,৮৮০ কোটি টাকা এবং মূলধন অপচয়জনিত ব্যয় ৪৫০ কোটি টাকা।  
২০২১ সালের 'ক' দেশের NNI কত কোটি টাকা?  
K ৮৮,৪২০ কোটি টাকা  
L ৮৮,৪৩০ কোটি টাকা  
M ৮৮,৪৪০ কোটি টাকা  
N ৮৮,৪৫০ কোটি টাকা
৩. নিয়াজ সাহেবের কারখানায় সুতা থেকে কাপড় তৈরি করা হয়। এক্ষেত্রে সুতা কোন ধরনের দ্রব্য?  
K প্রাথমিক L মাধ্যমিক  
M চূড়ান্ত N ভোগ্য

নিচের চিত্রটি দেখে ৪ ও ৫নং প্রশ্নের উত্তর দাও :



৪. উদ্দীপকে উল্লিখিত চক্রটির প্রবর্তক কে?  
K অধ্যাপক নার্কস  
L অধ্যাপক মার্শাল  
M অ্যাডাম স্মিথ  
N এল. রবিন্স
৫. উদ্দীপকে উল্লিখিত চক্রটি থেকে বের হয়ে আসার উপায়—  
i. মূলধন বৃদ্ধি করা  
ii. চাহিদা হ্রাস করা  
iii. কর্মসংস্থান সৃষ্টি করা  
নিচের কোনটি সঠিক?  
K i ও ii L ii ও iii  
M i ও iii N i, ii ও iii
৬. খনিজ ও খনন অর্থনীতির কোন খাতের অন্তর্ভুক্ত?  
K কৃষি L সেবা  
M নির্মাণ N শিল্প
৭. বেসরকারি সংস্থা 'ব্র্যাক' বাংলাদেশের কতটি বস্তিতে কাজ করে?  
K ৫০০ L ১,০০০  
M ১,৫০০ N ২,০০০
৮. বাংলাদেশে মৌসুমি বেকারত্ব দেখা যায়—  
i. ফসল কাটার পর  
ii. সারা বছর  
iii. বিশেষ বিশেষ সময়ে  
নিচের কোনটি সঠিক?  
K i ও ii L i ও iii  
M ii ও iii N i, ii ও iii
৯. ২০১৬ সালের জরিপ অনুসারে বাংলাদেশের দারিদ্র্যের হার কত শতাংশ?  
K ২২.০৩% L ২৪.০৩%  
M ২৬.০৩% N ২৮.০৩%
১০. কোনটি দারিদ্র্য বিমোচন কর্মসূচি?  
K TR L GR  
M VGD N VGP

১১. পৃথিবীর কোন মহাদেশের অধিকাংশ দেশ অনন্নত?  
K এশিয়া L ইউরোপ  
M উত্তর আমেরিকা N অস্ট্রেলিয়া
১২. আদিম সমাজে মানুষের জীবনযাপন কেমন ছিল?  
K ভীতিকর L সংগ্রামবিহীন  
M সহজ-সরল N কঠিন
১৩. কোন খাতকে ভূমিাবাদীরা অনুৎপাদনশীল খাত বলে মনে করতেন?  
K শিল্প ও বাণিজ্য  
L কৃষি ও শিল্প  
M মৎস্য ও শিল্প  
N খনি ও বাণিজ্য
১৪. একটি অর্থনীতিতে কয় ধরনের প্রতিনিধি থাকে?  
K ২ L ৩ M ৪ N ৫
- নিচের উদ্দীপকটি পড়ে ১৫ ও ১৬নং প্রশ্নের উত্তর দাও :  
'X' দেশে বেশির ভাগ সম্পদ ও শিল্প কারখানার মালিক জনগণ। কিছু গণদ্রব্য ও সেবা উৎপাদনকারী প্রতিষ্ঠান সরকার পরিচালনা করে। 'X' দেশের অর্থব্যবস্থায় ব্যাংক থেকে মূলধন প্রদানের বিনিময়ে সুদ নেওয়া হয় না। এ অর্থব্যবস্থায় ধনীরা বিভিন্নভাবে দরিদ্রদের সহায়তা করেন।
১৫. উদ্দীপকে উল্লিখিত 'X' দেশে কোন ধরনের অর্থব্যবস্থা প্রচলিত হয়েছে?  
K ধনতান্ত্রিক L ইসলামি  
M সমাজতান্ত্রিক N মিশ্র
১৬. 'Y' দেশের অর্থব্যবস্থায় ধনীদের কাছ থেকে অর্থ আদায় করে দরিদ্রদের মধ্যে বন্টন করার ফলে—  
i. আয় বৈষম্য বৃদ্ধি পাবে  
ii. দারিদ্র্য হ্রাস পাবে  
iii. সম্পদের সুখম বন্টন হবে  
নিচের কোনটি সঠিক?  
K i ও ii L i ও iii  
M ii ও iii N i, ii ও iii
১৭. সুন্দরবনের আয়তন কত বর্গকিলোমিটার?  
K ৫,০১৭ L ৬,০১৭  
M ৭,০১৭ N ৮,০১৭
১৮. অবস্ফগত দ্রব্য হলো—  
i. প্রাকৃতিক বাতাস  
ii. নার্সের সেবা  
iii. কাঁচামাল  
নিচের কোনটি সঠিক?  
K i ও ii L i ও iii  
M ii ও iii N i, ii ও iii
১৯. সংখ্যের গাণিতিক সূত্র কোনটি?  
K S=Y+C L S=C-Y  
M S=C+Y N S=Y-C
২০. সংগঠকের প্রাণ্ড আয়কে কী বলে?  
K খাজনা L মজুরি  
M সুদ N মুনাফা
২১. উৎপাদিত সম্পদ হলো—  
i. হাসপাতাল  
ii. বনভূমি  
iii. শিশুপার্ক  
নিচের কোনটি সঠিক?  
K i ও ii L i ও iii  
M ii ও iii N i, ii ও iii

- নিচের উদ্দীপকটি পড়ে ২২ ও ২৩নং প্রশ্নের উত্তর দাও :  
জনাব মনিরের একটি পাটকল ছিল। গত কয়েক বছর যাবত তার কারখানা থেকে কোনো লাভ হচ্ছিল না। তাই তিনি কারখানাটি বিক্রয় করে একটি কৃষি খামার গড়ে তোলেন। বর্তমানে খামারটি থেকে তার বেশ লাভ হচ্ছে।
২২. জনাব মনিরের পাটকল থেকে কৃষি খামার দেওয়া জিডিপির কোন নির্ধারকের অন্তর্ভুক্ত?  
K ভূমি L শ্রম  
M সচলতা N প্রযুক্তি
২৩. জনাব মনিরের কাজের মাধ্যমে—  
i. জিডিপি বৃদ্ধি পাবে  
ii. কৃষিখাত সমৃদ্ধ হবে  
iii. শিল্পখাত ক্ষতিগ্রস্ত হবে  
নিচের কোনটি সঠিক?  
K i ও ii L i ও iii  
M ii ও iii N i, ii ও iii
২৪. চাহিদার শর্ত কয়টি?  
K ৩টি L ৪টি  
M ৫টি N ৬টি
২৫. দামের সাথে যোগানের সম্পর্ক কেমন?  
K সমমুখী  
L বিপরীত  
M সম্পর্ক নেই  
N ঋণাত্মক
২৬. আনিস পর পর তিনটি কলা ক্রয় করল। ১ম কলার দাম ৮ টাকা, ২য় ও ৩য় কলার দাম যথাক্রমে ৬ ও ৪ টাকা। আনিসের মোট উপযোগ কত হবে?  
K ৬ টাকা L ৮ টাকা  
M ১০ টাকা N ১৮ টাকা
২৭. সংগঠনের কার্যাবলির অন্তর্ভুক্ত হলো—  
i. শ্রমিক-কর্মী নিয়োগ  
ii. ক্রয়-বিক্রয়  
iii. অর্থের সংস্থান  
নিচের কোনটি সঠিক?  
K i ও ii L i ও iii  
M ii ও iii N i, ii ও iii
২৮. আধুনিক বিশ্বে কোন শক্তির ওপর বিশেষ গুরুত্ব দেওয়া হচ্ছে?  
K জৈবশক্তি L সৌরশক্তি  
M আণবিক শক্তি N বায়ুশক্তি
- নিচের চিত্রটি দেখে ২৯নং প্রশ্নের উত্তর দাও :
- 
২৯. চিত্রের কোন বিন্দুতে গড় ও প্রান্তিক উৎপাদন সমান?  
K P L Q MR NS
৩০. ব্যবসায়ের মৌলিক বিষয় কোনটি?  
K মূলধন L সংগঠন  
M ভূমি N শ্রম

Self-test	১	K	L	M	N	২	K	L	M	N	৩	K	L	M	N	৪	K	L	M	N	৫	K	L	M	N	৬	K	L	M	N	৭	K	L	M	N	৮	K	L	M	N	৯	K	L	M	N	১০	K	L	M	N
	১১	K	L	M	N	১২	K	L	M	N	১৩	K	L	M	N	১৪	K	L	M	N	১৫	K	L	M	N	১৬	K	L	M	N	১৭	K	L	M	N	১৮	K	L	M	N	১৯	K	L	M	N	২০	K	L	M	N
	২১	K	L	M	N	২২	K	L	M	N	২৩	K	L	M	N	২৪	K	L	M	N	২৫	K	L	M	N	২৬	K	L	M	N	২৭	K	L	M	N	২৮	K	L	M	N	২৯	K	L	M	N	৩০	K	L	M	N

১	N	২	L	৩	L	৪	K	৫	M	৬	N	৭	N	৮	L	৯	L	১০	M	১১	K	১২	M	১৩	K	১৪	K	১৫	N
১৬	M	১৭	L	১৮	K	১৯	N	২০	N	২১	L	২২	M	২৩	K	২৪	K	২৫	K	২৬	N	২৭	N	২৮	M	২৯	L	৩০	L

**১৮** ময়মনসিংহ বোর্ড ২০২২  
অর্থনীতি বহুনির্বাচনী অভীক্ষা

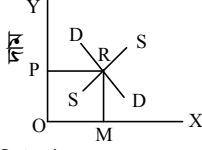
বিষয় কোড : 141

সময় : ২০ মিনিট

পূর্ণমান : ১৫

[বিশেষ দ্রষ্টব্য : সরবরাহকৃত বহুনির্বাচনী অভীক্ষার উত্তরপত্রে প্রশ্নের ক্রমিক নম্বরের বিপরীতে প্রদত্ত বর্ণসংবলিত বৃত্তসমূহ হতে সঠিক/ সর্বোৎকৃষ্ট উত্তরের বৃত্তটি বল পয়েন্ট কলম দ্বারা সম্পূর্ণ ভরাট কর। প্রতিটি প্রশ্নের মান ১। যেকোনো ১৫টি প্রশ্নের উত্তর দাও।]

■ নিচের চিত্রটি লক্ষ কর এবং ১ ও ২নং প্রশ্নের উত্তর দাও :



- চিত্রটি কী নির্দেশ করে?  
K বাজার যোগান রেখা  
L বাজার চাহিদা রেখা  
M ভারসাম্য দাম ও পরিমাণ  
N চাহিদা থেকে যোগান বেশি
- R বিন্দুতে চাহিদা ও যোগান নির্দেশ করে—  
i. ভারসাম্য দাম ও পরিমাণ  
ii. চাহিদা = যোগান  
iii. উক্ত বিন্দুতে বাজারে স্বাভাবিক দাম থাকে  
নিচের কোনটি সঠিক?  
K i ও ii L i ও iii  
M ii ও iii N i, ii ও iii
- ক্রেতা ও বিক্রেতার মধ্যবর্তী অবস্থানে কী থাকে?  
K বাজার L পণ্য  
M দাম N উৎপাদক
- অর্থনীতিতে সব ধরনের প্রাকৃতিক সম্পদকে কী বলে?  
K ভূমি L শ্রম  
M মূলধন N সংগঠন
- প্রকাশ্য ব্যয় কোনটি?  
K অফিস তৈরি  
L মালিকের আয়  
M মালিকের ব্যয়  
N মূলধনের সুদ
- মোট শ্রম উপকরণ দ্বারা মোট উৎপাদনকে ভাগ করলে কী পাওয়া যায়?  
K প্রান্তিক উৎপাদন  
L মোট উৎপাদন  
M গড় উৎপাদন  
N প্রকৃত উৎপাদন
- প্রান্তিক উৎপাদন রেখা গড় উৎপাদন রেখার কোন বিন্দুতে হবে?  
K সর্বনিম্ন বিন্দুতে ছেদ করে  
L সর্বোচ্চ বিন্দুতে ছেদ করে  
M ভূমি অক্ষে ছেদ করে  
N লব্ধ অক্ষে ছেদ করে
- মোট দেশজ উৎপাদন নির্ভর করে কয়টি বিষয়ের উপর?  
K দুইটি L তিনটি  
M চারটি N পাঁচটি
- অর্থনীতির অধিকতর গ্রহণযোগ্য সংজ্ঞা দিয়েছেন কোন অর্থনীতিবিদ?  
K ডেভিড রিকার্ডো  
L অ্যাডাম স্মিথ  
M অধ্যাপক এল. রবিন্স  
N অধ্যাপক মার্শাল
- অর্থনীতির ভাষায় মানুষ সাধারণত কোন পর্যায় চিন্তা করে?  
K প্রারম্ভিক পর্যায়  
L প্রান্তিক পর্যায়  
M মধ্যম পর্যায়

- অর্থনীতির মূল আলোচ্য বিষয় হলো—  
i. অভাব পূরণের জন্য অর্থ ব্যয়  
ii. অর্থ উপার্জন  
iii. চাহিদা পূরণ  
নিচের কোনটি সঠিক?  
K i ও ii L i ও iii  
M ii ও iii N i, ii ও iii
- বেকারত্ব কমলে কী ঘটে?  
K মুদ্রাস্ফীতি কমে  
L মুদ্রাস্ফীতি বাড়ে  
M দ্রব্যমূল্য বৃদ্ধি পায়  
N দ্রব্যমূল্য কমে যায়
- নিচের উদ্দীপকটি পড়ে ১৩ ও ১৪নং প্রশ্নের উত্তর দাও :  
মামুন সাহেব বাজারে টিভি কিনতে গিয়ে দেখেন একই দামে ফ্রিজও পাওয়া যায়। তাই তিনি ফ্রিজ কিনে নিয়ে আসেন।  
১৩. অনুচ্ছেদে অর্থনীতির কোন ধারণার প্রকাশ ঘটেছে?  
K প্রান্তিক ব্যয় L দুষ্প্রাপ্যতা  
M সুযোগ ব্যয় N অভাব
- উক্ত ধারণাটি মামুন সাহেব তখনই গ্রহণ করবে যখন—  
i. প্রয়োজনীয় জিনিস ক্রয়ে অগ্রাধিকার দেবে  
ii. অভাবের অগ্রাধিকার দেবে  
iii. বাজারে দ্রব্যের দাম কমে যাবে  
নিচের কোনটি সঠিক?  
K i ও ii L i ও iii  
M ii ও iii N i, ii ও iii
- শারীরিক যোগ্যতা কোন ধরনের সম্পদ?  
K ব্যক্তিগত L প্রাকৃতিক  
M সমষ্টিগত N মানবিক
- জাতীয় আয় গণনার সময় নিচের কোনটি ধরা হয়?  
K চূড়ান্ত দ্রব্য ও সেবার মূল্য  
L মাধ্যমিক দ্রব্য ও সেবার মূল্য  
M দুর্নীতির মাধ্যমে অর্জিত আয়  
N সরকারি ঋণের অংশ
- কৃষি উৎপাদনের জন্য কোনটি পর্যাপ্ত থাকলে দেশের উৎপাদন বৃদ্ধি পাবে?  
K উর্বর ভূমি L সার  
M কীটনাশক N বীজ
- জাফর সাহেব নিজ সন্তানদের পাঠদান করেন। এটি জিডিপি হিসাব বহির্ভূত কোন খাতের অন্তর্গত?  
K বিনামূল্যে সেবা L বাণিজ্য  
M লোক প্রশাসন N উৎপাদন
- কোনটি অর্থনৈতিক উন্নয়নের প্রাথমিক শর্ত?  
K দক্ষ জনশক্তি L মূলধন গঠন  
M শিক্ষা বিস্তার N দক্ষ প্রশাসন
- ব্র্যাক ব্যাংক কত সালে প্রতিষ্ঠিত হয়?  
K ১৯৭৫ সালে L ১৯৮০ সালে  
M ১৯৯২ সালে N ১৯৭২ সালে
- খাদ্য নিরাপত্তা কর্মসূচির আওতায় পড়ে—  
i. ভিজিডি  
ii. কাবিখা  
iii. ভিজি এফ  
নিচের কোনটি সঠিক?  
K i ও ii L i ও iii  
M ii ও iii N i, ii ও iii

- নিচের উদ্দীপকটি পড়ে ২২ ও ২৩নং প্রশ্নের উত্তর দাও :  
জনাব শফিক দেশের সর্ববৃহৎ সংস্থায় কাজ করে। তার সংস্থাটি নারীর ক্ষমতায়নের জন্য ৭০ হাজার গ্রাম ও ২০০০টি বস্তিতে কাজ করছে।  
২২. জনাব শফিক কোন সংস্থায় কর্মরত আছেন?  
K প্রশিকা  
L আশা  
M ব্র্যাক  
N স্বনির্ভর বাংলাদেশ  
২৩. জনাব শফিক যে সংস্থাটিতে কাজ করেন সেটি ঋণদান ছাড়াও অন্য ক্ষেত্রে কাজ করে তা হলো—  
i. দারিদ্র্য বিমোচন  
ii. স্বাস্থ্য উন্নয়ন  
iii. শিক্ষা ও সামাজিক উন্নয়ন  
নিচের কোনটি সঠিক?  
K i ও ii L i ও iii  
M ii ও iii N i, ii ও iii
- বাংলাদেশের চূনাপাথর কোথায় মজুদ রয়েছে?  
K মধ্যপাড়ায়  
L বিজয়পুরে  
M বড় পুকুরিয়ায়  
N সেন্টমার্টিন দ্বীপে
- নিচের কোন সম্পদের উন্নয়ন ও সঠিক ব্যবহার নিশ্চিত করা গেলে আমাদের অর্থনৈতিক উন্নয়নের গতি বাড়বে?  
K বিদ্যুৎ L পানি  
M উফসী বীজ N আণবিক শক্তি
- মধ্যবর্তী দ্রব্য হলো—  
i. দুধ ও চিনি  
ii. ভাত ও রুটি  
iii. আটা ও ময়দা  
নিচের কোনটি সঠিক?  
K i ও ii L i ও iii  
M ii ও iii N i, ii ও iii
- নিচের উদ্দীপকটি পড়ে ২৭নং প্রশ্নের উত্তর দাও :  
রিমি মামার সাথে গত ঈদের ছুটিতে একটি বনভূমি দেখতে গেল। সেখানকার প্রধান বৃক্ষ শাল, গজারী, বনজাম, কড়ই।  
২৭. রিমি মামার সাথে কোন বনভূমি দেখতে গিয়েছিল?  
K মধুপুর ও ভাওয়াল বনভূমি  
L সিলেটের বনভূমি  
M দিনাজপুর ও রংপুরের বনভূমি  
N সুন্দরবন
- চাহিদা রেখা চাহিদা সূচির কীসের প্রকাশ?  
K গাণিতিক  
L জ্যামিতিক  
M সাংখ্যিক  
N ত্রিকোনমিতিক
- দাম কমে গেলে যোগান কেমন হয়?  
K বৃদ্ধি পায় L হ্রাস পায়  
M সর্বোচ্চ হয় N স্থির হয়
- বিক্রয়যোগ্য একটি দ্রব্যের মোট পরিমাণকে কী বলে?  
K যোগান L বিনিয়োগ  
M মজুদ N মুনাফা

Self test	১	K	L	M	N	২	K	L	M	N	৩	K	L	M	N	৪	K	L	M	N	৫	K	L	M	N	৬	K	L	M	N	৭	K	L	M	N	৮	K	L	M	N	৯	K	L	M	N	১০	K	L	M	N
	১১	K	L	M	N	১২	K	L	M	N	১৩	K	L	M	N	১৪	K	L	M	N	১৫	K	L	M	N	১৬	K	L	M	N	১৭	K	L	M	N	১৮	K	L	M	N	১৯	K	L	M	N	২০	K	L	M	N
	২১	K	L	M	N	২২	K	L	M	N	২৩	K	L	M	N	২৪	K	L	M	N	২৫	K	L	M	N	২৬	K	L	M	N	২৭	K	L	M	N	২৮	K	L	M	N	২৯	K	L	M	N	৩০	K	L	M	N

১	M	২	N	৩	K	৪	K	৫	N	৬	M	৭	L	৮	N	৯	M	১০	L	১১	N	১২	L	১৩	M	১৪	K	১৫	N
১৬	K	১৭	K	১৮	K	১৯	K	২০	N	২১	N	২২	M	২৩	N	২৪	N	২৫	L	২৬	L	২৭	K	২৮	L	২৯	L	৩০	M



## প্রশ্নের ধরন ও মানের ধারণার জন্য প্রদত্ত এসএসসি পরীক্ষার প্রশ্নপত্র : সৃজনশীল

১৯ চাকা বোর্ড ২০২৩

বিষয় কোড : 141

সময় : ২ ঘণ্টা ৩০ মিনিট

অর্থনীতি সৃজনশীল প্রশ্ন

পূর্ণমান : ৭০

দ্রষ্টব্য : ডান পাশের সংখ্যা প্রশ্নের পূর্ণমান জ্ঞাপক। প্রদত্ত উদ্দীপকগুলো মনোযোগসহকারে পড় এবং সংশ্লিষ্ট প্রশ্নের উত্তর দাও। যেকোনো সাতটি প্রশ্নের উত্তর দিতে হবে।

১) নিচের ছকটি লক্ষ কর এবং প্রশ্নগুলোর উত্তর দাও :

দেশের নাম	অর্থনৈতিক অবস্থা
'ক'	রাষ্ট্রের উদ্দেশ্য হলো জনগণের কল্যাণ ও উন্নয়ন সাধন করা। ভোক্তা বাজারকে প্রভাবিত করতে পারে না। সরকারি উদ্যোগে উৎপাদন ও বন্টন পরিচালিত হয়।
'খ'	উৎপাদন ও ব্যবসা বাণিজ্যের ক্ষেত্রে সরকারের পাশাপাশি ব্যক্তিগত উদ্যোগ গ্রহণ করা হয়। ভোক্তা স্বাধীনভাবে দ্রব্য ক্রয়-বিক্রয় ও ভোগ করতে পারে।

- ক. অধ্যাপক মার্শাল প্রদত্ত অর্থনীতির সংজ্ঞা দাও। ১
- খ. বাণিজ্যে সবাই উপকৃত হয় কীভাবে? ২
- গ. উদ্দীপকে উল্লিখিত 'ক' দেশে কোন ধরনের অর্থব্যবস্থা বিদ্যমান? ব্যাখ্যা কর। ৩
- ঘ. 'ক' ও 'খ' দেশের অর্থব্যবস্থার মধ্যে কোনটি অধিক গ্রহণযোগ্য বলে তুমি মনে কর? মতামত দাও। ৪
- ২) 'X' কোম্পানির মালিক রাকিব সাহেব ঘোষণা দেন যে, কোনো শ্রমিক নির্ধারিত সময়ের বাইরে অতিরিক্ত শ্রম দিলে তার উৎপাদনশীলতার ওপর তাকে দ্বিগুণ পারিশ্রমিক দেয়া হবে। এতে শ্রমিকদের মধ্যে আনন্দ ও উদ্দীপনার সৃষ্টি হয়। পাশাপাশি তিনি শ্রমিকদের উৎপাদন ক্ষমতা বৃদ্ধির জন্য প্রয়োজনীয় প্রশিক্ষণের ব্যবস্থা গ্রহণ করেন।
- ক. প্রাকৃতিক সম্পদ কাকে বলে? ১
- খ. অভাব নির্বাচন বলতে কী বোঝায়? ২
- গ. রাকিব সাহেবের ঘোষণার সাথে অর্থনীতির কোন নীতির সাদৃশ্য রয়েছে? ব্যাখ্যা কর। ৩
- ঘ. রাকিব সাহেবের দ্বিতীয় পদক্ষেপ পণ্যের মান ও উৎপাদনের হার বৃদ্ধিতে সহায়ক- মতামত দাও। ৪
- ৩) সেজান সাহেবের মালামাল সংরক্ষণের জন্য সদরঘাটে একটি গুদামঘর আছে। কিন্তু তিনি যদি এটাকে আলু সংরক্ষণ করে রাখেন তাহলে পেঁয়াজ রাখতে পারবেন না। আবার পেঁয়াজ সংরক্ষণ করলে আলু রাখতে পারবেন না। অনেক চিন্তাভাবনা করে, ঘরটির অর্ধেক অংশে আলু ও বাকি অর্ধেক অংশে পেঁয়াজ সংরক্ষণ করার সিদ্ধান্ত নিলেন।
- ক. আয় কী? ১
- খ. বোতল বন্দি পানিকে সম্পদ বলা হয় কেন? ২
- গ. উদ্দীপকে উল্লিখিত বিষয়টি অর্থনীতির কোন ধারণার সাথে সংগতিপূর্ণ? ব্যাখ্যা কর। ৩
- ঘ. উদ্দীপকে উল্লিখিত সেজান সাহেবের সিদ্ধান্তের যৌক্তিকতা বিশ্লেষণ কর। ৪
- ৪) দৃশ্যকল্প-১ : 'ক' ব্যক্তির একটি পোশাক তৈরির কারখানা আছে। সেখানে তিনি বিভিন্ন ডিজাইনের শার্ট, প্যান্টসহ অনেক সুন্দর পোশাক তৈরি করেন।
- দৃশ্যকল্প-২ : 'খ' ব্যক্তি গ্রামে বাস করেন। তিনি বিভিন্ন ধরনের শাকসবজিসহ, পশুপালন ও মাছ চাষ করেন।
- ক. উপযোগ কাকে বলে? ১
- খ. সঞ্চয় বলতে কী বোঝায়? ২
- গ. দৃশ্যকল্প-১ এ উল্লিখিত 'ক' ব্যক্তির কাজ কোন ধরনের অর্থনৈতিক কার্যবালির অন্তর্ভুক্ত? ব্যাখ্যা কর। ৩
- ঘ. দৃশ্যকল্প-২ এ উল্লিখিত সম্পদগুলো চিহ্নিতপূর্বক অর্থনীতিতে এর অবদান মূল্যায়ন কর। ৪
- ৫) নিচে 'X' দ্রব্যের চাহিদা সূচি দেয়া হলো—

প্রতি একক পণ্যের দাম (টাকায়)	চাহিদার পরিমাণ (একক)
১৬	২
১২	৪
৮	৬
৪	৮

- ক. ভোগ কাকে বলে? ১
- খ. মোট ও প্রান্তিক উপযোগের প্রধান দুটি পার্থক্য লেখ। ২
- গ. উদ্দীপকে উল্লিখিত সূচি থেকে চাহিদা রেখা অঙ্কন কর। ৩
- ঘ. উদ্দীপকের আলোকে দাম ও চাহিদার সম্পর্ক বিশ্লেষণ কর। ৪
- ৬) নিচের সূচিটি লক্ষ কর এবং প্রশ্নগুলোর উত্তর দাও :

ক	খ	গ
দ্রব্যের একক	মোট উপযোগ (টাকায়)	প্রান্তিক উপযোগ (টাকায়)
১ম	৯	৯
২য়	১৩	?
৩য়	১৬	?
৪র্থ	১৮	?
৫ম	১৯	১
৬ষ্ঠ	১৯	০
৭ম	১৮	- ১

- ক. চাহিদা কাকে বলে? ১
- খ. যোগান রেখা ডানদিকে উর্ধ্বগামী কেন? ২
- গ. উপরের 'গ' ছকে (?) এর স্থানে প্রান্তিক উপযোগের পরিমাণ নির্ণয় কর। ৩
- ঘ. উদ্দীপকের আলোকে ভোক্তা কোন পর্যায়ে দ্রব্যটি আর ক্রয় করবে না? সপক্ষে যুক্তি দাও। ৪
- ৭) রমিজ সাহেবের কারখানার উৎপাদনের একটি সূচি দেওয়া হলো—
- | ভূমি     | শ্রমিকের সংখ্যা | মোট উৎপাদন | প্রান্তিক উৎপাদন |
|----------|-----------------|------------|------------------|
| ১ হেক্টর | ১               | ৬          | ৬                |
| ১ ,,     | ২               | ১৮         | ?                |
| ১ ,,     | ৩               | ২৮         | ?                |
| ১ ,,     | ৪               | ৩৪         | ?                |
- ক. শ্রম কাকে বলে? ১
- খ. উৎপাদনের উপকরণ বলতে কী বোঝায়? ২
- গ. সূচিতে ? চিহ্নিত স্থানসমূহে যথাযথ প্রান্তিক উৎপাদনের পরিমাণ নির্ণয় কর। ৩
- ঘ. উপরের সূচিতে অর্থনীতির যে বিধিটি নির্দেশ করে তা রেখাচিত্রের সাহায্যে বিশ্লেষণ কর। ৪
- ৮) রাহেলা বেগমের ছয়টি সেলাই মেশিন ছিল। কিন্তু লোকবল ও পুঁজির অভাবে তিনি সেগুলো পরিচালনা করতে না পেরে নাজমা বেগমের কাছে পাঁচটি সেলাই মেশিন বিক্রি করে দেন। নাজমা বেগম এই পাঁচটি সেলাই মেশিন দিয়ে একটি পোশাক তৈরি কারখানা গড়ে তোলেন, সেখানে ছয় জন লোক নিয়োগ দেন। নিয়োগের ক্ষেত্রে শ্রমিকদের স্ব-স্ব দক্ষতা ও যোগ্যতাকে তিনি প্রাধান্য দেন। এক্ষেত্রে শ্রমিকরা কাজ শেষে বেতন পায়। কারখানাটির লাভক্ষতির দায় সবকিছু নাজমা বেগমের। যোগ্যতার সাথে কাজ করে তিনি অর্থনৈতিকভাবে সফলতাও লাভ করেন।
- ক. উৎপাদক কাকে বলে? ১
- খ. সময়গত উপযোগ বলতে কী বোঝায়? ২
- গ. রাহেলা বেগমের সেলাই মেশিন বিক্রি করাকে কোন ধরনের উপযোগ বলা যায়? ব্যাখ্যা কর। ৩
- ঘ. উদ্দীপকের আলোকে নাজমা বেগমকে কি একজন সফল উদ্যোক্তা বলা যায়? তোমার উত্তরের পক্ষে যুক্তি দাও। ৪
- ৯) রিয়াদ জাপানে কর্মরত। প্রতিমাসে পরিবারের জন্য বাংলাদেশে প্রায় ত্রিশ হাজার টাকা পাঠায়। অন্যদিকে, মি. জ্যাক একজন চীনা নাগরিক। তিনি বাংলাদেশে একটি বেসরকারি সংস্থায় কর্মরত। প্রতিমাসে তিনিও তার আয়ের বাংলা অংশ চীনে পাঠিয়ে দেন।
- ক. GDP-এর পূর্ণরূপ কী? ১
- খ. মাথাপিছু মোট দেশজ উৎপাদন বলতে কী বোঝায়? ২
- গ. রিয়াদের অর্থ বাংলাদেশের জাতীয় আয়ে কীভাবে সম্পৃক্ত হবে? ব্যাখ্যা কর। ৩
- ঘ. মি. জ্যাকের আয় বাংলাদেশের জাতীয় আয় পরিমাপের সময় কীভাবে প্রভাব ফেলবে? মতামত দাও। ৪
- ১০) দৃশ্যকল্প-১ : ইয়াসিন সাহেব একটি বেসরকারি কোম্পানিতে ম্যানেজার পদে কর্মরত ছিলেন, কিন্তু তিনি ব্যবসার উদ্দেশ্যে চাকরি ছেড়ে দেন এবং এক মাস পর একটি মুরগির খামার ও গরুর খামার স্থাপন করেন।
- দৃশ্যকল্প-২ : 'ক' ব্যক্তি একজন প্রান্তিক কৃষক, বছরের একটি নির্দিষ্ট সময়ে তার কোনো কাজ না থাকায় সে বেকার থাকে।
- ক. মানবসম্পদ কাকে বলে? ১
- খ. অর্থনৈতিক উন্নয়ন বলতে কী বোঝায়? ২
- গ. দৃশ্যকল্প-১ এর ইয়াসিন সাহেবকে কোন ধরনের বেকার বলা হয়? ব্যাখ্যা কর। ৩
- ঘ. দৃশ্যকল্প-২ এ যে ধরনের বেকারত্বের চিত্র ফুটে উঠেছে তা উল্লেখপূর্বক উক্ত বেকারত্ব নিরসনের উপায়গুলো বিশ্লেষণ কর। ৪
- ১১) সোহাগ ও রুমানা স্বামী-স্ত্রী দুজনে দুটি বেসরকারি সংস্থায় কর্মরত। উভয় সংস্থাই দেশের দারিদ্র্য দূরীকরণে কাজ করে। সোহাগ যে সংস্থায় কর্মরত সেটা ১৯৯২ সাল হতে ক্ষুদ্রঋণ কর্মসূচি পরিচালনা করে আসছে। অপরদিকে, রুমানার কর্মরত সংস্থাটি সামাজিক উন্নয়ন ঘটাতে ১৯৮৬ সালে এর কার্যক্রম শুরু করে।
- ক. ছদ্মবেশী বেকার কাকে বলে? ১
- খ. দারিদ্র্যের দুইচক্র বলতে কী বোঝায়? ২
- গ. সোহাগের কর্মরত সংস্থাটির ধরন ব্যাখ্যা কর। ৩
- ঘ. রুমানার কর্মরত প্রতিষ্ঠানটি "দেশের দারিদ্র্য নিরসনে গুরুত্বপূর্ণ ভূমিকা পালন করছে"— বিশ্লেষণ কর। ৪

২০✓ রাজসাহী বোর্ড ২০২৩

বিষয় কোড : 141

সময় : ২ ঘণ্টা ৩০ মিনিট

অর্থনীতি সৃজনশীল প্রশ্ন

পূর্বমান : ৭০

দ্রষ্টব্য : ডান পাশের সংখ্যা প্রশ্নের পূর্বমান জ্ঞাপক। প্রদত্ত উদ্দীপকগুলো মনোযোগসহকারে পড় এবং সংশ্লিষ্ট প্রশ্নের উত্তর দাও। যেকোনো সাতটি প্রশ্নের উত্তর দিতে হবে।

- ১▶ মি. রফিক 'ক' দেশের নাগরিক। এ দেশে সরকারি ও বেসরকারি উদ্যোগে উৎপাদন, ভোগ ও বণ্টন পরিচালিত হয়। অন্যদিকে, মি. শফিকের দেশের উৎপাদন, ভোগ ও বণ্টন রাষ্ট্রীয় উদ্যোগে পরিচালিত হয়।
  - ক. অধ্যাপক মার্শাল প্রদত্ত অর্থনীতির সংজ্ঞা দাও। ১
  - খ. মানুষ প্রণোদনায় সাড়া দেয় কেন? ২
  - গ. মি. রফিক যে দেশে বাস করেন সেই দেশে কোন অর্থব্যবস্থা বিদ্যমান? ব্যাখ্যা কর। ৩
  - ঘ. তুমি কি মি. শফিকের দেশের অর্থব্যবস্থাকে সমর্থন কর? তোমার উত্তরের সপক্ষে যুক্তি দাও। ৪
- ২▶ দরিদ্র পরিবারের সন্তান সাগরের বই ও ঘড়ি ক্রয় করা প্রয়োজন। তার পিতা তাকে এক হাজার টাকা বই ও ঘড়ি ক্রয়ের জন্য দিলেন। কিন্তু উভয় দ্রব্য এক সাথে এই টাকা দিয়ে ক্রয় করা সম্ভব নয়। তাই কোন দ্রব্যটি আগে ক্রয় করবে এ নিয়ে সে চিন্তিত।
  - ক. অসীম অভাব কী? ১
  - খ. বাণিজ্য দ্বারা মানুষ কীভাবে উপকৃত হয়? ব্যাখ্যা কর। ২
  - গ. উদ্দীপকে সাগর কেন তার প্রয়োজনীয় দুটি দ্রব্য একত্রে কিনতে পারছে না? ব্যাখ্যা কর। ৩
  - ঘ. সাগর কোন দ্রব্যটি আগে ক্রয় করবে? এ বিষয়টি অর্থনীতির যে ধারণার সাথে সংগতিপূর্ণ— তা বিশ্লেষণ কর। ৪
- ৩▶ আনিকা ও ফাতেমা দুই বান্ধবী একই কলেজে পড়াশোনা শেষ করে দুজনই দুটি বেসরকারি সংস্থা (এনজিও) তে চাকরি নেন। আনিকার কর্মরত সংস্থাটি ১৯৮৬ সালে প্রতিষ্ঠিত হয়। জনগণের দারিদ্র্য বিমোচন ও সাহায্য-সহযোগিতা করাই সংস্থাটির মূল লক্ষ্য। অন্যদিকে, ফাতেমার সংস্থাটি ১৯৭৫ সালে প্রতিষ্ঠিত হয়। এ সংস্থাটি গ্রামের জনগণকে ক্ষুদ্রঋণের মাধ্যমে সহযোগিতা করে।
  - ক. অর্থনৈতিক উন্নয়ন কী? ১
  - খ. সাময়িক বেকারত্ব কেন সৃষ্টি হয়? ২
  - গ. আনিকার কর্মরত সংস্থাটি কোন ধরনের? ব্যাখ্যা কর। ৩
  - ঘ. “ফাতেমার কর্মরত প্রতিষ্ঠানটি দেশের অর্থনৈতিক উন্নয়নে গুরুত্বপূর্ণ ভূমিকা পালন করছে।”— বিশ্লেষণ কর। ৪
- ৪▶ মিনা বার্ষিক পরীক্ষার পর বাবা-মায়ের সাথে তার নানার বাড়ি বেড়াতে যায়। সেখানে বনাঞ্চলে সুন্দরী, গরান প্রভৃতি মূল্যবান গাছপালা দেখে মুগ্ধ হয়। মিনার নানা বলেন, এখানের নদ-নদী ও বঙ্গোপসাগরে বিভিন্ন রকম মাছ পাওয়া যায় যা আমাদের পুষ্টির চাহিদা পূরণ করে।
  - ক. অবাধলভ্য দ্রব্য কাকে বলে? ১
  - খ. গদামঘরকে মূলধনী দ্রব্য বলা হয় কেন? ২
  - গ. উদ্দীপকে মিনার নানার বাড়ির দৃশ্য কোন সম্পদকে নির্দেশ করে? ব্যাখ্যা দাও। ৩
  - ঘ. আমাদের পুষ্টির চাহিদা পূরণে যে সম্পদ অবদান রাখে তা উদ্দীপকের আলোকে বিশ্লেষণ কর। ৪
- ৫▶ নিচের সূচিটি লক্ষ কর এবং প্রশ্নগুলোর উত্তর দাও :
 

প্রতি কমলার দাম (টাকায়)	চাহিদা (একক)
৮	৬
৬	১২
৪	১৬

- ক. উপযোগ কাকে বলে? ১
- খ. যোগানবিধি বলতে কী বোঝ? ব্যাখ্যা কর। ২
- গ. উপরের সূচি থেকে চাহিদা রেখা অঙ্কন কর। ৩
- ঘ. উদ্দীপকের আলোকে দাম ও চাহিদার পরিমাণের সম্পর্ক বিশ্লেষণ কর। ৪
- ৬▶ রহিম মিয়া তার এলাকায় একটি তাঁতশিল্প চালু করেন। পরবর্তীতে কাঁচামাল ও যন্ত্রপাতির সুবিধা পাওয়ায় তিনি আরও একটি তাঁতশিল্প চালু করেন। ফলে অনেক শ্রমিক কাজ করার সুযোগ পায়। তিনি শ্রমিকদের সাথে খুব ভালো ব্যবহার করেন। দক্ষতার সাথে উনার কার্যক্রম পরিচালনা করেন। এতে শ্রমিক ও মালিক উভয়ের মধ্যে সুসম্পর্ক গড়ে ওঠে এবং উভয়ই লাভবান হন।
  - ক. উপযোগ কাকে বলে? ১
  - খ. যোগানবিধি বলতে কী বোঝ? ব্যাখ্যা কর। ২
  - গ. উপরের সূচি থেকে চাহিদা রেখা অঙ্কন কর। ৩
  - ঘ. উদ্দীপকের আলোকে দাম ও চাহিদার পরিমাণের সম্পর্ক বিশ্লেষণ কর। ৪

- ক. প্রকাশ্য ব্যয় কাকে বলে? ১
- খ. কীভাবে মালিকানাগত উপযোগ সৃষ্টি হয়? ব্যাখ্যা কর। ২
- গ. উদ্দীপকের রহিম মিয়াকে কি সংগঠক বলা যায়? ব্যাখ্যা কর। ৩
- ঘ. উদ্দীপকের আলোকে সংগঠকের বৈশিষ্ট্যগুলো বিশ্লেষণ কর। ৪
- ৭▶ রাজিব একজন দরিদ্র কৃষক। অনেক কষ্ট করে ছেলেকে লেখাপড়া শিখিয়ে কানাডা পাঠিয়েছেন। কানাডা থেকে তার ছেলে প্রতিমাসে দেশে তার বাবাকে টাকা পাঠান। অন্যদিকে, যুক্তরাষ্ট্রের নাগরিক হ্যারিস বাংলাদেশের একটি গার্মেন্টস কারখানায় কর্মরত। তিনি আয়ের কিছু অংশ তার দেশে পাঠান।
  - ক. মোট জাতীয় আয় কাকে বলে? ১
  - খ. মূলধন ব্যবহারজনিত অবচয় ব্যয় বলতে কী বোঝ? ২
  - গ. রাজিবের ছেলের পাঠানো টাকা জাতীয় আয়ের কোন ধারণার সাথে সম্পৃক্ত? ব্যাখ্যা কর। ৩
  - ঘ. হ্যারিসের আয় বাংলাদেশের মোট জাতীয় আয়ের অন্তর্ভুক্ত হবে কি? তোমার মতামত দাও। ৪

৮▶ নিচে কৃষক জামাল মিয়ার গম উৎপাদনের একটি সূচি দেওয়া হলো—

ভূমি	শ্রমিকের সংখ্যা	উপকরণ সর্বমিশ্রণ	মোট উৎপাদন	প্রান্তিক উৎপাদন
১ হেক্টর	১	A	৮	৮
১ ”	২	B	২০	?
১ ”	৩	C	৩০	?
১ ”	৪	D	৩৬	?

- ক. অধিকার ও ভার বণ্টন কী? ১
- খ. মূলধনকে উৎপাদনের উপাদিত উপকরণ বলা হয় কেন? ২
- গ. সচিতে ? চিহ্নিত স্থানসমূহে যথাযথ প্রান্তিক উৎপাদনের পরিমাণ নির্ণয় কর। ৩
- ঘ. উপরের সূচিতে অর্থনীতির যে বিধিটি নির্দেশ করে তা রেখাচিত্রের সাহায্যে বিশ্লেষণ কর। ৪
- ৯▶
 

ছক-১	ছক-২
চূনাপাথর, চীনা মাটি, কয়লা।	প্রতিভা, দক্ষতা, সাংগঠনিক ক্ষমতা।

  - ক. চূড়ান্ত দ্রব্য কাকে বলে? ১
  - খ. অর্থনৈতিক উন্নয়ন বিনিয়োগের ওপর নির্ভরশীল? ব্যাখ্যা কর। ২
  - গ. ছক-১ এ কোন ধরনের সম্পদকে নির্দেশ করে? ব্যাখ্যা কর। ৩
  - ঘ. ছক-২ এ উল্লিখিত সম্পদগুলোকে অর্থনীতির ভাষায় সম্পদ বলা যায় কি? তোমার মতামত দাও। ৪
- ১০▶ অন্তরার দেশে এক বছরের উৎপাদিত চূড়ান্ত দ্রব্য ও সেবার মূল্য যোগ করে জিডিপি নির্ধারণ করা হয়। অপরদিকে, ফরিদার দেশে উৎপাদনের মৌলিক উপকরণের প্রাপ্ত আয় যোগ করে জিডিপি নির্ধারণ করা হয়।
  - ক. GDP-এর পূর্ণরূপ কী? ১
  - খ. প্রযুক্তি কীভাবে দেশজ উৎপাদন বাড়াতে সাহায্য করে? ব্যাখ্যা কর। ২
  - গ. উদ্দীপকে অন্তরার দেশে মোট দেশজ উৎপাদন কোন পদ্ধতিতে পরিমাপ করা হয়? ব্যাখ্যা কর। ৩
  - ঘ. উদ্দীপকের অন্তরা ও ফরিদার দেশে জিডিপি পরিমাপের পদ্ধতির মধ্যে তুলনামূলক পার্থক্য বিশ্লেষণ কর। ৪
- ১১▶ ঘটনা-১ : রাতুল তার জমিতে ফসল উৎপাদন করে। কিন্তু প্রাকৃতিক কারণে দেখা যায় বছরের কোনো বিশেষ বিশেষ সময়ে তার কোনো কাজ থাকে না। ঘটনা-২ : অল্প শিক্ষিত তানিয়া বেগম বিভিন্ন ধরনের হস্তজাত শিল্পপণ্য উৎপাদনের কাজ করেন। কিন্তু তার পণ্যের গুণগত মান ভালো না হওয়ায় বাজারে কম বিক্রি হয়।
  - ক. মানবসম্পদ কাকে বলে? ১
  - খ. অর্থনৈতিক উন্নয়ন বলতে কী বোঝ? ২
  - গ. ঘটনা-১ এ কোন ধরনের বেকারত্ব প্রতিফলিত হয়েছে? ব্যাখ্যা কর। ৩
  - ঘ. ঘটনা-২ এ তানিয়া বেগমের উৎপাদিত পণ্যের গুণগত মান বৃদ্ধির জন্য কোন ধরনের পদক্ষেপ গ্রহণ করা যেতে পারে? মতামত দাও। ৪

## ২১ ✓ যশোর বোর্ড ২০২৩

বিষয় কোড : 141

সময় : ২ ঘণ্টা ৩০ মিনিট

## অর্থনীতি সৃজনশীল প্রশ্ন

পূর্ণমান : ৭০

**দ্রষ্টব্য :** ডান পাশের সংখ্যা প্রশ্নের পূর্ণমান জ্ঞাপক। প্রদত্ত উদ্দীপকগুলো মনোযোগসহকারে পড় এবং সংশ্লিষ্ট প্রশ্নের উত্তর দাও। যেকোনো সাতটি প্রশ্নের উত্তর দিতে হবে।

- ১▶ জনাব মোছলেহ উদ্দীনের বড় ছেলে সরকারি প্রকৌশল বিশ্ববিদ্যালয়ে অধ্যয়নরত। তার পরিবারের সকল সদস্যদের ইচ্ছা ছোট ছেলেকে মেডিকেল কলেজে পড়াবেন। কিন্তু কোনো সরকারি মেডিকেল কলেজে চাপ না পাওয়ায় ছোট ছেলেকে তিনি একটি প্রাইভেট মেডিকেল কলেজে ভর্তির পরিকল্পনা করলেও আর্থিক সংকটের কারণে তা আর সম্ভব হয়নি। ফলে পরিবারের সকলেই আশাহত হয়।

- ক. অধ্যাপক এল. রবিল প্রদত্ত অর্থনীতির সংজ্ঞাটি লেখ। ১  
খ. সমাজতান্ত্রিক অর্থনীতিকে নির্দেশমূলক অর্থনীতি বলা হয় কেন? ব্যাখ্যা কর। ২  
গ. জনাব মোছলেহ উদ্দীনের দেশে কোন ধরনের অর্থব্যবস্থা বিদ্যমান? ব্যাখ্যা কর। ৩  
ঘ. উদ্দীপকে আলোচিত পরিবারের সকলেই আশাহত হওয়ার পিছনে অর্থনীতির কোন সমস্যাটি দায়ী বলে তুমি মনে কর? মতামত দাও। ৪

- ২▶ **উদ্দীপক-১ :** জনাব দিদার একজন স্কুল শিক্ষক। তিনি তার বিদ্যালয়ে শিক্ষার্থীদের বাংলা পড়ান। বিকাল বেলা অবসরে তিনি বিনা পারিশ্রমিকে পাড়ার ছেলেদের ফুটবল কোচ হিসেবে কাজ করেন।

**উদ্দীপক-২ :** ইঞ্জিনিয়ার শওকত সাহেব একটা সফটওয়্যার ফার্মের মালিক। তিনি তার কর্মীদের ঈদ বোনাস ছাড়াও প্রতি ছয় মাস অন্তর ফার্মের লভ্যাংশ থেকে বোনাস দিয়ে থাকেন। এতে কর্মীরা ফার্মের উন্নয়নের জন্য কঠোর পরিশ্রম করতে দ্বিধা করেন না।

- ক. ইসলামি অর্থব্যবস্থা কাকে বলে? ১  
খ. মানুষ কেন প্রান্তিক পর্যায়ে চিন্তা করে? ব্যাখ্যা কর। ২  
গ. উদ্দীপক-১ এ উল্লিখিত জনাব দিদারের কাজগুলো কোন ধরনের? ব্যাখ্যা কর। ৩  
ঘ. উদ্দীপক-২ এ জনাব শওকত অর্থনীতির যে মৌলিক নীতি অনুসরণ করেছেন তা অর্থনৈতিক উন্নয়নকে ত্বরান্বিত করতে সহায়ক। তুমি কি একমত? মতামত দাও। ৪

- ৩▶ **উদ্দীপক-১ :** ২০২১-২০২২ অর্থবছরে 'ক' দেশের মোট জিডিপির পরিমাণ ১৪০ হাজার কোটি মার্কিন ডলার এবং জনসংখ্যা ১৪ কোটি।

**উদ্দীপক-২ :** আনিছ সাহেব একটি বন্ধ কারখানা ত্রয় করে প্রথমে স্টোকে সংস্কার করলেন। কিছুদিন পর তিনি কারখানাটিতে উৎপাদন কাজ শুরু করলেন। বর্তমানে কারখানাটি একটি লাভজনক প্রতিষ্ঠান।

- ক. নিট জাতীয় আয় কাকে বলে? ১  
খ. জিডিপি গণনার ক্ষেত্রে মূলধনী লাভ-ক্ষতি হিসাব করা হয় না কেন? ব্যাখ্যা কর। ২  
গ. উদ্দীপক-১ এ উল্লিখিত 'ক' দেশের মাথাপিছু জিডিপি সূত্রের সাহায্যে নির্ণয় কর। ৩  
ঘ. উদ্দীপক-২ এ উল্লিখিত আনিছ সাহেবের ত্রয়কৃত কারখানাটির মূল্য জিডিপিতে অন্তর্ভুক্ত হবে কি? উত্তরের সপক্ষে যুক্তি দাও। ৪

- ৪▶ **দৃশ্যকল্প-১ :** মিসেস লিমা পেশায় একজন ব্যাংকার। গৃহ পরিচারিকার হাতে তার ১ বছরের সন্তানের লালন-পালনের দায়িত্ব দিয়ে তিনি নিয়মিত অফিসে যান। এই সময়টুকু বাচ্চার দেখাশোনা থেকে বিরত থাকতে হয় বিধায় তার খুব মন খারাপ হয়।

**দৃশ্যকল্প-২ :** জাহেদ চৌধুরী তার সখিত্ব অর্থের সিংহভাগ ব্যয় করে তার ছোট দোকানটি সুপারশপে পরিণত করেন। এতে অনেক লোকের কর্মসংস্থানের সুযোগ সৃষ্টি হয়।

- ক. আয় কাকে বলে? ১  
খ. 'হস্তান্তরযোগ্য' বলতে কী বোঝায়? ব্যাখ্যা কর। ২  
গ. দৃশ্যকল্প-১ এ লিমার ক্ষেত্রে অর্থনীতির কোন ধারণার প্রতিফলন ঘটেছে? ব্যাখ্যা কর। ৩  
ঘ. বাংলাদেশের অর্থনৈতিক উন্নয়নে জাহেদ চৌধুরীর কাজের ভূমিকা বিশ্লেষণ কর। ৪

- ৫▶ রুমকির কমলা ভোগের উপযোগ সৃষ্টি :

কমলার একক	মোট উপযোগ (টাকায়)	প্রান্তিক উপযোগ (টাকায়)
১ম	৬	৬
২য়	৯	৩
৩য়	১১	২
৪র্থ	১২	১
৫ম	১২	০
৬ষ্ঠ	১১	- ১

- ক. উপযোগ কাকে বলে? ১  
খ. ভারসাম্য দাম বলতে কী বোঝায়? ব্যাখ্যা কর। ২  
গ. প্রদত্ত সৃষ্টি অনুসারে ক্রমহ্রাসমান প্রান্তিক উপযোগ রেখা অঙ্কন কর। ৩  
ঘ. রুমকি কোন পর্যায়ে দ্রব্যটি আর ভোগ করবে না? বিশ্লেষণ কর। ৪

- ৬▶ নিচে একটি যোগানসূচি দেয়া হলো—

প্রতি একক দ্রব্যের দাম (টাকায়)	যোগানের পরিমাণ (কুইন্টাল)
৫.০০	৫০
১০.০০	৬০
১৫.০০	৭০
২০.০০	৮০
২৫.০০	৯০

- ক. ভোজ্য কাকে বলে? ১  
খ. “ভোজ্য দ্রব্যের উপযোগ নিঃশেষ করে, দ্রব্যটি নয়।” ব্যাখ্যা কর। ২  
গ. উদ্দীপকে উল্লিখিত যোগান সূচি থেকে যোগান রেখা অঙ্কন কর। ৩  
ঘ. উপকরণের দাম ও উৎপাদন খরচ বৃদ্ধি পেলে উদ্দীপকে উল্লিখিত বিধিটি কার্যকর হবে কি? উত্তরের সপক্ষে যুক্তি দাও। ৪

৭▶ নিচের তালিকাটি লক্ষ কর এবং প্রশ্নগুলোর উত্তর দাও :

ভূমি (হেক্টর)	শ্রম উপকরণ (শ্রমঘণ্টা)	উপকরণ সংমিশ্রণ	মোট উৎপাদন (কুইন্টাল)	প্রান্তিক উৎপাদন (কুইন্টাল)
১	১	A	৮	৮
১	২	B	১৮	১০
১	৩	C	২৪	৬
১	৪	D	৩০	৪

- ক. ভূমি কাকে বলে? ১  
খ. “শ্রমিক শ্রম বিক্রয় করে নিজেকে নয়”— ব্যাখ্যা কর। ২  
গ. উদ্দীপকের আলোকে প্রান্তিক উৎপাদন রেখা অঙ্কন কর। ৩  
ঘ. উদ্দীপকে উল্লিখিত বিধিটি শিল্প ক্ষেত্রে কি সমানভাবে কার্যকর হবে? মতামত দাও। ৪

- ৮▶ জনাব ওয়াহিদ সাহেব নিজস্ব চারতলা ভবনে একটি প্রসাধনী সামগ্রী তৈরির কারখানা স্থাপন করেন। তিনি পণ্য উৎপাদনের কাঁচামাল সংগ্রহ করা, যোগ্যতা অনুসারে শ্রমিকদের দায়িত্ব বন্টন করা এবং চূড়ান্ত পণ্য বাজারে সরবরাহ করা পর্যন্ত সকল কাজের তদারকি করেন। নিজে উপস্থিত থেকে শ্রমিকদের বেতন প্রদান করেন। নিজেও পারিশ্রমিক হিসাবে মুনাফা গ্রহণ করেন। তাই প্রতিষ্ঠানটি নিয়ম-শৃঙ্খলায় পরিপূর্ণ।

- ক. ব্যক্তিগত ব্যয় কাকে বলে? ১  
খ. “মূলধন হলো মানুষ কর্তৃক উৎপাদিত উৎপাদনের উপকরণ”— ব্যাখ্যা কর। ২  
গ. জনাব ওয়াহিদের কারখানার ব্যয়সমূহ অর্থনীতিতে কোন ধরনের ব্যয়ের অন্তর্ভুক্ত? ব্যাখ্যা কর। ৩  
ঘ. উৎপাদন ক্ষেত্রে জনাব ওয়াহিদের কাজের গুরুত্ব মূল্যায়ন কর। ৪

- ৯▶ জনাব নাজিম বিগত ১০ বছর ধরে ইটালিতে কর্মরত। তিনি প্রতিমাসে নিজ দেশে টাকা পাঠান। মি. ইয়ান একজন চীনা ইঞ্জিনিয়ার। তিনি বাংলাদেশে পদ্মা সেতু নির্মাণে নিয়োজিত ছিলেন। প্রতিমাসে তিনিও তার দেশে অর্থ প্রেরণ করতেন।

- ক. মোট জাতীয় আয় কাকে বলে? ১  
খ. প্রযুক্তি কীভাবে মোট দেশজ উৎপাদনকে প্রভাবিত করে? ব্যাখ্যা কর। ২  
গ. জনাব নাজিমের প্রেরিত অর্থ বাংলাদেশের জাতীয় আয় পরিমাপে কীভাবে সম্পৃক্ত হয়? ব্যাখ্যা কর। ৩  
ঘ. মি. ইয়ানের আয় বাংলাদেশের জাতীয় আয়কে প্রভাবিত করবে কি? উত্তরের সপক্ষে যুক্তি দাও। ৪

- ১০▶ কাশপিয়া ও নাছিমা দুই বান্ধবী চাকরির সুবাদে দুই দেশে বসবাস করছেন। দু'জনের বসবাসরত দেশ সম্পর্কে ফোনে কথোপকথনের সারমর্ম তুলে ধরা হলো—  
কাশপিয়া : এ দেশের মাথাপিছু আয় ৩৩,৫৫০ মার্কিন ডলার এবং অর্থনৈতিক উন্নয়ন দীর্ঘ মেয়াদে অব্যাহতভাবে চলছে। তাছাড়া এদেশের জনগণ দক্ষ ও কারিগরি জ্ঞানসম্পন্ন।  
নাছিমা : বর্তমানে আমার দেশের মাথাপিছু আয় ১৭৫১ মার্কিন ডলার এবং অর্থনৈতিক উন্নয়নের সূচকগুলো ক্রমশ ইতিবাচক পরিবর্তন ঘটছে। এদেশে দক্ষ উদ্যোক্তাদের অভাবে উন্নয়ন ব্যাহত হচ্ছে।

- ক. সাময়িক বেকারত্ব কাকে বলে? ১  
খ. “দারিদ্র্য উন্নয়নের ভিত্তিকে দুর্বল করে”— ব্যাখ্যা কর। ২

- গ. উন্নয়নের ধারার ভিত্তিতে কাশপিয়ার দেশ কোন ধরনের? উক্ত দেশের বৈশিষ্ট্য ব্যাখ্যা কর। ৩  
ঘ. নাছিমার দেশের অর্থনৈতিক উন্নয়নে প্রতিবন্ধকতাসমূহ দূরীকরণে কী পদক্ষেপ গ্রহণ করা যায়? মতামত দাও। ৪

- ১১▶ জহির ও তার স্ত্রী নুসাইবা ইটভাটায় দৈনিক মজুরির ভিত্তিতে কাজ করেন। প্রতিদিন কাজ শেষে মজুরি নিতে গেলে নারী শ্রমিক অজুহাতে জহিরের চেয়ে নুসাইবাকে কম বেতন দেয়া হয়। এতে তিনি নিতাই মনে খুব দুঃখ পান। পরবর্তীতে একটি বেসরকারি সংস্থার সহযোগিতায় নারী বলে যে অবহেলার শিকার হয়েছেন সে সম্পর্কে অবগত হয়ে তার অধিকার ও ন্যায্য পাওনা আদায়ে সক্ষম হন।

- ক. অর্থনৈতিক প্রবৃদ্ধি কাকে বলে? ১  
খ. “অর্থনৈতিক উন্নয়ন একটি বহুমাত্রিক ধারণা” ব্যাখ্যা কর। ২  
গ. নুসাইবাকে সাহায্যকারী সংস্থার কার্যক্রম ব্যাখ্যা কর। ৩  
ঘ. জহির দম্পতির মতো জনশক্তিকে কীভাবে দক্ষ জনসম্পদে পরিণত করা যায়? অর্থনীতির ধারণার আলোকে বিশ্লেষণ কর। ৪



২২ ✓ কুমিল্লা বোর্ড ২০২০

বিষয় কোড : 141

সময় : ২ ঘণ্টা ৩০ মিনিট

অর্থনীতি সৃজনশীল প্রশ্ন

পূর্ণমান : ৭০

দ্রষ্টব্য : ডান পাশের সংখ্যা প্রশ্নের পূর্ণমান জ্ঞাপক। প্রদত্ত উদ্দীপকগুলো মনোযোগসহকারে পড় এবং সংশ্লিষ্ট প্রশ্নের উত্তর দাও। যেকোনো সাতটি প্রশ্নের উত্তর দিতে হবে।

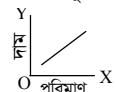
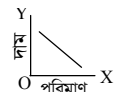
- ১ ▶ ঘটনা-১ : করিম সাহেবের বেতন অল্প। তাই বেতনের বেশিরভাগ পরিবারের ভার-পোষণের কাজেই শেষ হয়ে যায়। কোনো অর্থ জমা থাকে না। স্বপ্নের চিন্তাও করতে পারেন না। ফলে আয়ও বাড়তে পারেন না। পরিবারের কেউ অসুস্থ হলে ঋণ করতে হয়।  
ঘটনা-২ : জমির মিয়া কেশরের একজন কৃষক। ফেরির বদলে সেতু হওয়াতে তার কৃষিপণ্যের পরিবহন খরচ কমেছে। খামারে উন্নত বীজ ও আধুনিক যন্ত্রপাতি ব্যবহার করার পরও তার খামারের সবটুকু জমি ও সম্পদের পূর্ণ ব্যবহার হয় না। তার উৎপন্ন কৃষিপণ্য বিদেশে রপ্তানি হয়, দেশেও কৃষিনির্ভর শিল্প গড়ে উঠেছে।  
ক. দ্রব্য বলতে কী বোঝায়? ১  
খ. বিনিয়োগের মাধ্যমে কীভাবে অর্থনৈতিক উন্নয়ন হয়? ২  
গ. করিম সাহেবের আর্থিক অবস্থা অর্থনীতির কোন ধারণার সাথে সম্পর্কিত? ব্যাখ্যা কর। ৩  
ঘ. তুমি কি মনে কর উদ্দীপকের জমির মিয়া একজন উন্নয়নশীল দেশের কৃষক? তোমার উত্তরের সপক্ষে যুক্তি দাও। ৪
- ২ ▶ সমির বিশ্ববিদ্যালয় থেকে এম. এ. পাশ করে। চাকরি খোঁজার পাশাপাশি অগ্রহায়ণ মাসে বাবার কৃষিকাজে সাহায্য করে। অন্য সময় তার কোনো কাজ থাকে না। তাই এলাকায় ভোকেশনার ট্রেনিং নিয়ে পোল্ট্রি ফার্ম দেয়।  
ক. উন্নয়ন কী? ১  
খ. উন্নত দেশের জনগণের গড় আয়ুষ্কাল বেশি হয় কেন? ২  
গ. উদ্দীপকে প্রথম অবস্থায় সমিরের ক্ষেত্রে কোন ধরনের বেকারত্ব সৃষ্টি হয়েছে? ব্যাখ্যা কর। ৩  
ঘ. সমির মিয়ার দক্ষতা বৃদ্ধিতে কোন পদ্ধতি কাজ করেছে? এরূপ আরও দুটি পদ্ধতি উল্লেখ করে ব্যাখ্যা কর। ৪
- ৩ ▶ মি. 'X' বলেন, ইহা জাতির সম্পদের ধরন ও কারণ অনুসন্ধান করে।  
মি. 'Y' বলেন, ইহা মানব জীবনের সাধারণ কার্যাবলি নিয়ে আলোচনা করে।  
মি. 'Z' বলেন, ইহা অসীম অভাব এবং সীমিত সম্পদের মধ্যে সমন্বয় কার্যাবলি আলোচনা করে।  
ক. মন্দ্রাস্থিতি বলতে কী বোঝায়? ১  
খ. দক্ষপ্রাপ্যতা সৃষ্টি হয় কেন? ২  
গ. 'Z' ব্যক্তি যে সংজ্ঞাটি দিয়েছেন তা উল্লেখ করে সংজ্ঞাটির বৈশিষ্ট্য লেখ। ৩  
ঘ. 'X' ও 'Y' মতবাদের পার্থক্য বিশ্লেষণ কর। ৪
- ৪ ▶ প্রবাসী জাফর সাহেব বিদেশে একটি সরকারি বিশ্ববিদ্যালয়ের অধ্যাপক, সেখানে সবকিছু সরকারি পরিচালনা পরিচালিত হয়। ব্যক্তিগত মুনাফার কোনো সুযোগ নেই। জাফর সাহেবের ছোট ভাই দেশে একটি সাবান ফ্যাক্টরির মালিক। তিনি অধিক মুনাফার জন্য উৎপাদন করেন। উৎপন্ন সাবানের দাম বাজারে স্বয়ংক্রিয়ভাবে উঠানামা করে।  
ক. আদিম সমাজের মূলমন্ত্র কী? ১  
খ. অধ্যাপক এল. রবিন্স প্রদত্ত অর্থনীতির সংজ্ঞার অধিক গ্রহণযোগ্যতার কারণ কী? ব্যাখ্যা কর। ২  
গ. উদ্দীপকে উল্লিখিত জাফর সাহেব যে দেশে চাকরি করেন সে দেশে প্রচলিত অর্থব্যবস্থা কোনটি? ব্যাখ্যা কর। ৩  
ঘ. উদ্দীপকে শোষণ দেশে কোন অর্থব্যবস্থা বিদ্যমান? দুটি দেশের মধ্যে ভোক্তার স্বাধীনতা ও আয় বৈষম্য তুলনা করে ব্যাখ্যা কর। ৪
- ৫ ▶ জহির মিয়া একজন কৃষক। তিনি পেঁয়াজের কেজি যখন ৩০ টাকা, তখন ১০ কুইন্টাল পেঁয়াজ বিক্রি করেন। দাম বেড়ে ৩৫ টাকা হলে বিক্রির পরিমাণ বাড়িয়ে ১৫ কুইন্টাল করেন। পেঁয়াজের দাম যখন আরও বেড়ে ৪০ টাকা হয়, তখন সরবরাহ আরও বাড়িয়ে ২০ কুইন্টাল করেন। অতঃপর বাজারে পেঁয়াজের দাম কমেতে শুরু করে। বাজারে কিছু পেঁয়াজ অবিক্রীত থেকে যায়।  
ক. ভোক্তা বলতে কি বুঝায়? ১  
খ. উপযোগকে কীভাবে ভোগ্যপণ্য থেকে আলাদা করবে? ২  
গ. জহির মিয়ার পেঁয়াজের যোগান রেখা অঙ্কন করে ব্যাখ্যা কর। ৩  
ঘ. উদ্দীপকে বাজারে দাম কমে থাকলে জহির মিয়ার পেঁয়াজের যোগানে কি পরিবর্তন হবে? যোগান রেখার প্রকৃতি বিশ্লেষণের মাধ্যমে ব্যাখ্যা কর। ৪
- ৬ ▶ একজন ভোক্তার আপেলের মোট উপযোগ ও প্রান্তিক উপযোগ সূচিতে দেখানো হলো—

আপেলের একক	মোট উপযোগ (টাকায়)	প্রান্তিক উপযোগ (টাকায়)
১ম	৭	৭
২য়	১১	—
৩য়	১৪	—
৪র্থ	১৬	—
৫ম	১৭	—
৬ষ্ঠ	১৭	—

- ক. ভারসাম্য দাম বলতে কী বোঝায়? ১
- খ. একটি নতুন গ্লাস পড়ে ভেঙে যায়। একে ভোগ বলা যাবে না কেন? ২
- গ. উদ্দীপকের সূচিটির ফাঁকা অংশ পূরণ কর এবং উক্ত কলামে কার্যকর বিধিটি পাঠ্যবই-এর আলোকে ব্যাখ্যা কর। ৩
- ঘ. উদ্দীপকে ৭ম একক ভোগের পর মোট উপযোগ ও প্রান্তিক উপযোগ কীরূপ হবে? ৬ষ্ঠ একক ভোগের পর আর আপেল ভোগ করবে কি? তোমার উত্তরের সপক্ষে যুক্তি দাও। ৪
- ৭ ▶ সবুর মিয়া ১ বিঘা জমিতে ২০ জন শ্রমিক নিয়োগ করে ৬০ কুইন্টাল গম পান। পরবর্তী বছরগুলোতে অধিক শ্রমিক নিয়োগ করে যে উৎপাদন পান তা সূচিতে দেখানো হলো—

ভূমি	শ্রম উপকরণ	মোট উৎপাদন (কুইন্টাল)	প্রান্তিক উৎপাদন (কুইন্টাল)
১ বিঘা	২০	৬০	৬০
১ বিঘা	২১	১২৫	৬৫
১ বিঘা	২২	১৮০	৫৫
১ বিঘা	২৩	২২৫	৪৫
১ বিঘা	২৪	২৫০	২৫

- ক. ভার অর্পণ বলতে কী বোঝায়? ১
- খ. বাংলাদেশে উৎপাদনের কোন উপকরণের গুরুত্ব বেশি এবং কেন? ২
- গ. সবুর মিয়ার গম উৎপাদন অর্থনীতির কোন বিধিকে নির্দেশ করেছে? ব্যাখ্যা কর। ৩
- ঘ. উদ্দীপকের সূচিতে গড় উৎপাদন হিসাব কর এবং গড় উৎপাদন ও প্রান্তিক উৎপাদনের মধ্যে সম্পর্ক দেখাও। ৪
- ৮ ▶ ঘটনা-১ : সরকারি কর্মকর্তা জাফির সাহেব ওয়ারীতে নতুন ফ্ল্যাটে উঠেছেন। তার স্ত্রী সন্তান লালন-পালন থেকে শুরু করে রান্নাবান্না করা পর্যন্ত সংসারের যাবতীয় কাজকর্ম সম্পাদন করেন।  
ঘটনা-২ : জাফির সাহেবের বাবা গ্রামে কৃষিজমিতে সাধারণ বীজ বপন করে প্রথম বছর যে সবজি পান পরের বছর উন্নত জাতের বীজ ব্যবহার করে তার চেয়ে বেশি সবজি পান। আধুনিক কৃষি যন্ত্রপাতি ক্রয় করেন। ফলে শ্রমিক খরচ কম হয়।  
ক. মাথাপিছু জিডিপি নির্ণয়ের সূত্রটি লেখ। ১  
খ. একটি উৎপাদনী প্রতিষ্ঠানের প্রকাশ্য ও অপ্রকাশ্য ব্যয় জানা গুরুত্বপূর্ণ কেন? ব্যাখ্যা কর। ২  
গ. উদ্দীপকে ঘটনা-১ এ উল্লিখিত ফ্ল্যাট ও সাংসারিক কাজকর্ম জিডিপির হিসাবে অন্তর্ভুক্ত হবে? ব্যাখ্যা কর। ৩  
ঘ. জাফির সাহেবের উৎপাদন বৃদ্ধির ক্ষেত্রে কোনটির ব্যবহার পরিবর্তন করেছেন? জিডিপি নির্ধারণে এর ভূমিকা ব্যাখ্যা কর। ৪
- ৯ ▶ A → পর্যাপ্ত মূলধন, উন্নত কারিগরি জ্ঞান, স্থিতিশীল রাজনৈতিক অবস্থা  
B → স্বল্প মূলধন, উদ্যোক্তার অভাব, দুর্বল অর্থনৈতিক অবকাঠামো  
ক. অর্থনৈতিক প্রবৃদ্ধি বলতে কী বোঝায়? ১  
খ. অর্থনৈতিক উন্নয়নে দক্ষ মানবশক্তি প্রয়োজন কেন? ২  
গ. 'A' দেশ উন্নয়নের মাপকাঠিতে কোন ধরনের ব্যাখ্যা কর। ৩  
ঘ. দেশের অর্থনৈতিক উন্নয়নে 'B' দেশের অবস্থান উল্লেখ কর এবং অবস্থার উন্নয়নের প্রতিবন্ধকতা দূরীকরণের উপায় বিশ্লেষণ কর। ৪
- ১০ ▶ রাহিজ সাহেবের মাসিক বেতন ২০,০০০। তিনি মাসে ১০,০০০ খরচ করেন এবং ১০,০০০ জমা করেন। দুই বছর পরে তিনি ১,০০,০০০ দিয়ে একটি ক্ষুদ্র শিল্পের যন্ত্রপাতি ক্রয় করে উৎপাদন কাজ শুরু করেন। পরের বছর উৎপাদন বাড়ানোর জন্য আরও ৫০,০০০ টাকার যন্ত্রপাতি ক্রয় করেন।  
ক. স্ফোয় ব্যয় বলতে কী বোঝায়? ১  
খ. 'সকল সেবা পণ্য নয়, কিন্তু সকল অর্থনৈতিক সেবাই পণ্য'। ব্যাখ্যা কর। ২  
গ. উদ্দীপকে অর্থনীতির কোন কোন ধারণার প্রতিফলন ঘটেছে? ব্যাখ্যা কর। ৩  
ঘ. রাহিজ সাহেবের শোষণ কাজ কি অর্থনীতিতে সমৃদ্ধি আনে? এরূপ আরও দুটি ক্ষেত্র উল্লেখ করে দেশে অর্থনীতিতে ভূমিকা ব্যাখ্যা কর। ৪
- ১১ ▶



- ক. বাজার চাহিদা কী? ১
- খ. চাহিদা রেখা ও চাহিদা সূচির মধ্যে দুটি পার্থক্য লেখ। ২
- গ. উদ্দীপকের রেখাচিত্র দুটি অর্থনীতির কোন দুটি ধারণাকে নির্দেশ করেছে? ব্যাখ্যা কর। ৩
- ঘ. ভারসাম্য দাম নির্ধারণে উক্ত রেখা দুটির কোনো ভূমিকা আছে কী? একটি চিত্রে রেখা দুটি সমন্বয় করে ব্যাখ্যা কর। ৪

## ২৩ চট্টগ্রাম বোর্ড ২০২০

বিষয় কোড : 141

সময় : ২ ঘণ্টা ৩০ মিনিট

## অর্থনীতি সৃজনশীল প্রশ্ন

পূর্ণমান : ৭০

**দ্রষ্টব্য :** ডান পাশের সংখ্যা প্রশ্নের পূর্ণমান জ্ঞাপক। প্রদত্ত উদ্দীপকগুলো মনোযোগসহকারে পড় এবং সংশ্লিষ্ট প্রশ্নের উত্তর দাও। যেকোনো সাতটি প্রশ্নের উত্তর দিতে হবে।

- ১ ▶ গণি মিয়া একজন ক্ষুদ্র ব্যবসায়ী। সে তার ব্যবসা থেকে প্রতিমাসে ৪০,০০০ টাকা আয় করেন। সমস্ত খরচ মিটিয়ে তিনি প্রতিমাসে ১৫,০০০ টাকা ব্যাংকে জমা রাখেন। ব্যাংকে জমাকৃত অর্থ দিয়ে তিনি এবছর নিজেই একটি মুরগির খামার স্থাপন করেন।
- ক. অ্যাডাম স্মিথের প্রদত্ত অর্থনীতির সংজ্ঞা দাও। ১
- খ. ধনতান্ত্রিক অর্থব্যবস্থা বলতে কী বোঝায়? ২
- গ. গণি মিয়ার জমাকৃত অর্থকে অর্থনীতির ভাষায় কী বলে? সমীকরণসহ ব্যাখ্যা কর। ৩
- ঘ. গণি মিয়ার শেখোক্ত কাজটি অর্থনীতির কোন ধারণাকে নির্দেশ করে তা বিশ্লেষণ কর। ৪
- ২ ▶ 'A' ও 'B' দুটি দেশ। 'A' দেশে স্বয়ংক্রিয় দামব্যবস্থার মাধ্যমে সমস্ত অর্থনৈতিক কর্মকাণ্ড পরিচালিত হয়। অপরদিকে, 'B' দেশে স্বয়ংক্রিয় দাম ব্যবস্থার পাশাপাশি অনেক ক্ষেত্রে সরকার নিয়ন্ত্রিত দামব্যবস্থাও পরিলক্ষিত হয়।
- ক. সফযোগ ব্যয় কী? ১
- খ. কাজের উৎসাহ বৃদ্ধির জন্য কোন নীতিটি ভূমিকা রাখে? ব্যাখ্যা কর। ২
- গ. 'A' দেশে কোন ধরনের অর্থব্যবস্থা বিদ্যমান? ব্যাখ্যা কর। ৩
- ঘ. “বাংলাদেশের মতো দেশের জন্য 'B' দেশের অর্থব্যবস্থা অধিক যুক্তিযুক্ত”— উক্তিটির সপক্ষে যুক্তি দাও। ৪
- ৩ ▶ কবিতা ঢাকা শিশু হাসপাতালে চাকরি করেন। তিনি দিনের বেশির ভাগ সময় হাসপাতালে অসুস্থ শিশুদের দেখাশোনা করেন। দিনশেষে বাসায় ফিরে তিনি তার দুই সন্তানকে লালন-পালন ও দেখাশোনা করেন।
- ক. দ্রব্য কাকে বলে? ১
- খ. কবির প্রতিভা মানবিক সম্পদ কেন? ২
- গ. কবিতার শেষের কাজটি অর্থনীতির কোন ধরনের কার্যাবলিকে নির্দেশ করে? ব্যাখ্যা কর। ৩
- ঘ. কবিতার প্রথম কাজটি ছাড়াও আমাদের দেশে এ ধরনের আরও কার্যাবলি রয়েছে— ব্যাখ্যা কর। ৪
- ৪ ▶ মফিজ মিয়া নিজের জমিতে চাষাবাদ করে বিভিন্ন ধরনের খাদ্যশস্য উৎপাদন করেন। সংসারের চাহিদা মিটিয়ে বাকিটা বিক্রি করেন। টাকা জমা করে তিনি ছেলের জন্য একটি অটো রিকশা কিনে দেন। সেটি চালিয়ে তার ছেলে প্রতিদিন বেশকিছু টাকা আয় করে।
- ক. বিনিয়োগ কী? ১
- খ. নদীর পানি কী ধরনের দ্রব্য? ব্যাখ্যা কর। ২
- গ. উদ্দীপকে মফিজ মিয়া কী ধরনের অর্থনৈতিক কাজ করেন? ব্যাখ্যা কর। ৩
- ঘ. মফিজ মিয়ার কাজের সাথে তার ছেলের কাজের কোনো পার্থক্য আছে কি? তোমার মতামত দাও। ৪
- ৫ ▶
- | দ্রব্যের একক | মোট উপযোগ (টাকায়) | প্রান্তিক উপযোগ (টাকায়) |
|--------------|--------------------|--------------------------|
| A            | B                  | C                        |
| ১ম           | ৩                  | ৩                        |
| ২য়          | ৫                  | ?                        |
| ৩য়          | ৬                  | ?                        |
| ৪র্থ         | ৬                  | ?                        |
| ৫ম           | ৫                  | ?                        |
- ক. যোগান কাকে বলে? ১
- খ. বাজার চাহিদা বলতে কী বোঝায়? ২
- গ. উপরের সূচিতে (?) চিহ্নের স্থলে যথাযথ প্রান্তিক উপযোগের পরিমাণ নির্ণয় কর। ৩
- ঘ. উপরের সূচিটি অর্থনীতির কোন বিধি নির্দেশ করে এবং কোন স্তরে ভোক্তা তার ভোগ বন্ধ করবে? মতামত দাও। ৪
- ৬ ▶ রহমান মিয়া শেখের বসে দুই বিঘা জমিতে কমলা বাগান করেন এবং কমলার ফলন অনেক বেশি হওয়ায় তার এলাকায় কমলার দাম কমে যায়। তিনি ঢাকায় এনে কমলা বিক্রয় করেন এবং লাভবান হন। পরবর্তীতে তিনি একটি জুস ফ্যাক্টরি দেন যার কাঁচামাল হিসেবে ব্যবহার করা হয় কমলা। তিনি জুস ফ্যাক্টরিতে অনেক শ্রমিক নিয়োগ দেন এবং তাদের যোগ্যতা ও দক্ষতা অনুযায়ী কাজ বন্টন করেন।
- ক. গড় উৎপাদন কাকে বলে? ১
- খ. উন্নয়নশীল দেশে ভূমিকে উৎপাদনের অন্যতম উপকরণ বলা হয় কেন? ২
- গ. রহমান মিয়ার কমলা ঢাকায় এনে বিক্রয় করায় কোন ধরনের উপযোগ সৃষ্টি করেছে? ব্যাখ্যা কর। ৩
- ঘ. রহমান মিয়ার শেখোক্ত কাজটি কি তাকে দক্ষ সংগঠক হিসাবে নির্দেশ করে? সপক্ষে যুক্তি দাও। ৪
- ৭ ▶ রমিজ কৃষিকাজ করে। তার এলাকায় প্রচুর সরিষা চাষ হয়। তাই সে মধু চাষ করে। মধু বিক্রি করে সে ভালো দাম পায় না। তার এক বন্ধুর পরামর্শে সে মধু ঢাকায় বিক্রি করতে শুরু করে এবং ভালো দাম পেতে থাকে।
- ক. সামাজিক ব্যয় কী? ১
- খ. রূপগত উপযোগ বলতে কী বোঝায়? ২
- গ. রমিজের ঢাকায় মধু বিক্রি যে ধরনের উপযোগ সৃষ্টি করে তা ব্যাখ্যা কর। ৩
- ঘ. মধু উৎপাদনের ক্ষেত্রে রমিজের কর্মকাণ্ড অর্থনীতিতে কতটুকু প্রভাব ফেলবে বলে তুমি মনে কর? পাঠ্যবইয়ের আলোকে বিশ্লেষণ কর। ৪
- ৮ ▶
- ছক-১ : জিডিপি = Σখাজনা + Σমজুরি + Σসুদ + Σমুনাফা
- ছক-২ : ΣC + ΣI + ΣG + Σ(X - M) = ""
- ক. NNI এর পূর্ণরূপ কী? ১
- খ. CCA বলতে কী বোঝায়? ব্যাখ্যা কর। ২
- গ. ছক-১ এ জিডিপি পরিমাপের কোন পদ্ধতিকে নির্দেশ করে? ব্যাখ্যা কর। ৩
- ঘ. ছক-২ : এর “?” বিষয়ের নির্ধারকসমূহ বর্ণনা কর। ৪
- ৯ ▶ “জাতীয় আয় পরিমাণ”
- ↓
- (১) উৎপাদন পদ্ধতি (২) আয় পদ্ধতি (৩) ব্যয় পদ্ধতি
- ক. নিট জাতীয় আয় কাকে বলে? ১
- খ. সকল দেশের জিডিপি বৃদ্ধির জন্য মূলধন আবশ্যিক কেন? ব্যাখ্যা কর। ২
- গ. ছকে ১নং পদ্ধতিতে কীভাবে জাতীয় আয় নির্ণয় করা যায়? ব্যাখ্যা কর। ৩
- ঘ. বাংলাদেশের মতো দেশে ছক ২নং পদ্ধতি কতটা কার্যকর বলে তুমি মনে কর? বিশ্লেষণ কর। ৪
- ১০ ▶ সালমান এম. এ. পাস করেও চাকরি না পেয়ে বেকার বসে আছে। এমতাবস্থায় সে একটি চাকরি নিয়ে ‘ক’ দেশে যায়। সে দেশে দক্ষ জনশক্তিসহ উন্নত কারিগরি জ্ঞান ও সুষ্ঠু পরিকল্পনার মাধ্যমে অর্থনীতির সকল খাতে সাফল্য দেখতে পায়।
- ক. বেকারত্ব কাকে বলে? ১
- খ. মানবসম্পদ বলতে কী বোঝায়? ব্যাখ্যা কর। ২
- গ. ‘ক’ দেশটি উন্নয়নের মাত্রায় কোন শ্রেণিভুক্ত? ব্যাখ্যা কর। ৩
- ঘ. বাংলাদেশকে ‘ক’ দেশের পর্যায়ে উন্নীত করতে কী কী পদক্ষেপ গ্রহণ করা প্রয়োজন বলে তুমি মনে কর? যুক্তিসহ বিশ্লেষণ কর। ৪
- ১১ ▶ মর্জিনা বেগম দুটি সেলাই মেশিন ক্রয় করেন। এর থেকে তার সাপ্তাহিক আয় পাঁচ হাজার টাকা। তিনি পারিবারিক ভরণপোষণ, ছেলেমেয়েদের শিক্ষা ব্যয় বাদে বাকি টাকা সঞ্চয় করেন। সঞ্চয়ের অর্থ থেকে এ বছর তিনি আরও দুটি সেলাই মেশিন ক্রয় করেছেন।
- ক. সঞ্চয় কী? ১
- খ. শক্তি সম্পদ বলতে কী বোঝায়? ব্যাখ্যা কর। ২
- গ. মর্জিনার নতুন সেলাই মেশিন ক্রয়কে অর্থনীতিতে কী বলে? ব্যাখ্যা কর। ৩
- ঘ. মর্জিনার শেখোক্ত কাজের মাধ্যমে কি অর্থনৈতিক উন্নয়ন সম্ভব? উত্তরের সপক্ষে যুক্তি দাও। ৪

২৪ ✓ সিলেট বোর্ড ২০২০

বিষয় কোড : 141

সময় : ২ ঘণ্টা ৩০ মিনিট

অর্থনীতি সৃজনশীল প্রশ্ন

পূর্ণমান : ৭০

দ্রষ্টব্য : ডান পাশের সংখ্যা প্রশ্নের পূর্ণমান জ্ঞাপক। প্রদত্ত উদ্দীপকগুলো মনোযোগসহকারে পড় এবং সংশ্লিষ্ট প্রশ্নের উত্তর দাও। যেকোনো সাতটি প্রশ্নের উত্তর দিতে হবে।

- ১ ▶ উদ্দীপক-১ : রোমান 'ক' দেশে বসবাস করেন। সে তার ইচ্ছানুযায়ী সম্পদ ভোগ করে থাকেন। শিল্প ও ব্যবসা ক্ষেত্রে কোন সরকারি বিধি-নিষেধ নেই।  
উদ্দীপক-২ : সুমন ও সাহেদ 'খ' দেশে বসবাস করেন। সুমন সরকারি উদ্যোগে পরিচালিত ব্যবসা প্রতিষ্ঠানে কাজ করেন। অন্যদিকে, সাহেদ বেসরকারি উদ্যোগে পরিচালিত প্রতিষ্ঠানে কর্মে নিয়োজিত।

- ক. অ্যাডাম স্মিথের অর্থনীতির সংজ্ঞাটি লেখ। ১  
খ. সলযোগ ব্যয় বলতে কী বোঝায়? ২  
গ. উদ্দীপকে 'ক' দেশের অর্থব্যবস্থা কোন ধরনের? ব্যাখ্যা কর। ৩  
ঘ. উদ্দীপকে-২ এর অর্থব্যবস্থাকে কি উন্নত অর্থব্যবস্থা বলা যায়, তোমার মতামতের আলোচনা কর। ৪

- ২ ▶ মি. 'X' বলেন, ইহা জাতির সম্পদের ধরন ও কারণ অনুসন্ধান করে।  
মি. 'Y' বলেন, ইহা মানবজীবনের সাধারণ কার্যাবলি নিয়ে আলোচনা করে।  
মি. 'Z' বলেন, ইহা অসীম অভাব এবং সীমিত সম্পদের মধ্য সমন্বয় কার্যাবলি আলোচনা করে।  
ক. মন্দ্রাস্থিতি বলতে কী বোঝায়? ১  
খ. দক্ষপ্রাপ্যতা সৃষ্টি হয় কেন? ২  
গ. 'Z' ব্যক্তি যে সংজ্ঞাটি দিয়েছেন তা উল্লেখ করে সংজ্ঞাটির বৈশিষ্ট্য লেখ। ৩  
ঘ. 'X' ও 'Y' মতবাদের পার্থক্য বিশ্লেষণ কর। ৪

- ৩ ▶ জহির মিয়া একজন কৃষক। তিনি পেঁয়াজের কেজি যখন ৩০ টাকা, তখন ১০ কুইন্টাল পেঁয়াজ বিক্রি করেন। দাম বেড়ে ৩৫ টাকা হলে বিক্রির পরিমাণ বাড়ায়ে ১৫ কুইন্টাল করেন। পেঁয়াজের দাম যখন আরও বেড়ে ৪০ টাকা হয়, তখন সরবরাহ আরও বাড়ায়ে ২০ কুইন্টাল করেন। অতঃপর বাজারে পেঁয়াজের দাম কমতে শুরু করে। বাজারে কিছু পেঁয়াজ অবিক্রীত থেকে যায়।  
ক. ভোজ্য বলতে কী বোঝায়? ১  
খ. উপযোগকে কীভাবে ভোগ্যপণ্য থেকে আলাদা করবে? ২  
গ. জহির মিয়ার পেঁয়াজের যোগান রেখা অঙ্কন করে ব্যাখ্যা কর। ৩  
ঘ. উদ্দীপকে বাজারে দাম কমতে থাকলে জহির মিয়ার পেঁয়াজের যোগানে কী পরিবর্তন হবে? যোগান রেখার প্রকৃতি বিশ্লেষণের মাধ্যমে ব্যাখ্যা কর। ৪

- ৪ ▶ A → পর্যাপ্ত মূলধন, উন্নত কারিগরি জ্ঞান, স্থিতিশীল রাজনৈতিক অবস্থা।  
B → স্বল্প মূলধন, উদ্যোক্তার অভাব, দুর্বল অর্থনৈতিক অবকাঠামো।  
ক. অর্থনৈতিক প্রবৃদ্ধি বলতে কী বোঝায়? ১  
খ. অর্থনৈতিক উন্নয়নে দক্ষ মানবশক্তি প্রয়োজন কেন? ২  
গ. 'A' দেশ উন্নয়নের মাপকাঠিতে কোন ধরনের ব্যাখ্যা কর। ৩  
ঘ. দেশের অর্থনৈতিক উন্নয়নে 'B' দেশের অবস্থান উল্লেখ কর এবং অবস্থার উন্নয়নের প্রতিবন্ধকতা দূরীকরণের উপায় বিশ্লেষণ কর। ৪

৫ ▶

এভারেস্ট শৃঙ্গ, কীর্তিনাশা, মেঘনা	রেশমি কাপড়, সেলাই মেশিন	কবিতা লিখতে পারা, শিল্প উদ্যোগের সাংগঠনিক ক্ষমতা
X	Y	Z

- ক. আয় কী? ১  
খ. মানুষের অভাব পূরণে সমস্যা হয় কেন? ২  
গ. 'Y' সম্পদ কোন ধরনের? অর্থনৈতিক কার্যাবলিতে এর ভূমিকা বর্ণনা কর। ৩  
ঘ. 'X' ও 'Z' এর সম্পদগুলোর প্রকৃতি নির্ণয় করে অর্থনৈতিক উন্নয়নে এদের প্রয়োজনীয়তা ব্যাখ্যা কর। ৪
- ৬ ▶ নিচে করিমের গম উৎপাদনের একটি সূচি দেওয়া হলো—

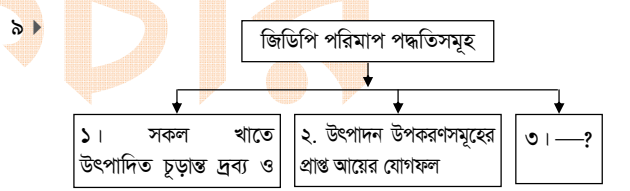
ভূমি (হেক্টর)	শ্রমিকের সংখ্যা	উপকরণ সংমিশ্রণ	মোট উৎপাদন (কুইন্টাল)	প্রান্তিক উৎপাদন (কুইন্টাল)
২	১	P	৩০	৩০
২	২	Q	৫৪	?
২	৩	R	৭০	?
২	৪	S	৭৮	?
২	৫	T	৭৮	?

- ক. বিনিয়োগ কী? ১  
খ. সেবাগত উপযোগ কী? ব্যাখ্যা কর। ২  
গ. সচিতে '?' চিহ্নিত স্থানে প্রান্তিক উৎপাদনের পরিমাণ নির্ণয় কর। ৫ম শ্রমিক নিয়োগে প্রান্তিক উৎপাদন ব্যাখ্যা কর। ৩  
ঘ. সচিটির প্রান্তিক উৎপাদনের ক্ষেত্রে কার্যকর বিধিটি চিত্রের মাধ্যমে বিশ্লেষণ কর। ৪

৭ ▶  $GDP = C + I + G + (X - M)$  — (১)  
(s) (r)  
 $NNI = GNI - \boxed{?}$  — (২)

- ক. মাথাপিছু জিডিপি কাকে বলে? ১  
খ. জিডিপি নির্ধারণে মাধ্যমিক দ্রব্য অন্তর্ভুক্ত নয় কেন? ২  
গ. '২' নং সমীকরণের ? ধারণাটি ব্যাখ্যা কর। ৩  
ঘ. তুমি কি মনে কর ১নং সমীকরণে 's' এর জন্য 'r' অত্যাবশ্যক? (r) অংশের মান ঋণাত্মক হলে কী হবে? ব্যাখ্যা কর। ৪

- ৮ ▶ ৮ম শ্রেণির শিক্ষার্থীরা গাজীপুরে অবস্থিত ন্যাশনাল পার্কে শিক্ষা সফরে যায়। সেখানে তারা শাল-গজারি বৃক্ষ দেখতে পায়। অপরপক্ষে বিদ্যালয়ের ৯ম শ্রেণির শিক্ষার্থীরা সমুদ্র উপকূলে একটি বনাঞ্চলে শিক্ষা সফরে যায়। যেখানে পৃথিবী বিখ্যাত পশু বাস করে। বন কর্মকর্তার যোগ্যতা ও দক্ষতা লক্ষণীয়। তারা কিছু যন্ত্রপাতি ও প্রশিক্ষণ কেন্দ্র পরিদর্শন করে।  
ক. উপযোগ কাকে বলে? ১  
খ. উৎপাদিত সম্পদ বলতে কী বোঝায়? ২  
গ. উদ্দীপকে ৮ম শ্রেণির শিক্ষার্থীদের দেখা বৃক্ষ কোন ধরনের সম্পদ? যুক্তিসহ ব্যাখ্যা কর। ৩  
ঘ. উদ্দীপকে ইস্তিকৃত ৯ম শ্রেণির শিক্ষার্থীদের দেখা বনাঞ্চলের বিবরণ দাও এবং তাদের দেখা সম্পদের উৎপত্তিস্থল শ্রেণিবিভাগ কর। ৪



- ক. মাথাপিছু আয় কাকে বলে? ১  
খ. মোট জাতীয় আয় বলতে কী বোঝায়? ২  
গ. উদ্দীপকের ৩নং পদ্ধতি চিহ্নিত করে ব্যাখ্যা কর। ৩  
ঘ. উদ্দীপকে ১নং ও ২নং পদ্ধতিতে পরিমাপকৃত একই হবে না ভিন্ন ভিন্ন হবে? উত্তরের পক্ষে যুক্তি দাও। ৪
- ১০ ▶ নিচের সূচিটি লক্ষ কর :

দ্রব্যের দাম (টাকায়)	যোগানের পরিমাণ (একক)
১০০	১০০০
১৫০	২০০০
২০০	৩০০০

- ক. ভোগ কাকে বলে? ১  
খ. চাহিদা বলতে কী বোঝায়? ২  
গ. উদ্দীপকের সূচি থেকে একটি যোগান রেখা অঙ্কন কর। ৩  
ঘ. উদ্দীপকে উল্লিখিত দাম ও যোগান উৎপাদন ও বাজারের ওপর কীভাবে প্রভাব ফেলবে তা বিশ্লেষণ কর। ৪

- ১১ ▶ অর্থনীতিবিদ মি. জনসন বিশ বছর পর আবার বাংলাদেশে বেড়াতে আসেন। তিনি লক্ষ করেন যে, বাংলাদেশের কৃষিতে এখন আধুনিক প্রযুক্তির বিকাশ পরিলক্ষিত এবং শিল্পের প্রসার ঘটেছে। যদিও তার নিজের দেশের মূলধনের যোগান পর্যাপ্ত, প্রাকৃতিক সম্পদে সমৃদ্ধ এবং রাজনৈতিক স্থিতিশীল অবস্থা বিদ্যমান।  
ক. অর্থনৈতিক প্রবৃদ্ধি কী? ১  
খ. দারিদ্র্যের দৃষ্টচক্র বলতে কী বোঝায়? ২  
গ. মি. জনসনের দেশটি কোন ধরনের দেশের অন্তর্ভুক্ত? ব্যাখ্যা কর। ৩  
ঘ. বাংলাদেশ একটি উন্নয়নশীল দেশ— উদ্দীপকের আলোকে বিশ্লেষণ কর। ৪

## ২৫ বরিশাল বোর্ড ২০২৩

বিষয় কোড : 141

সময় : ২ ঘণ্টা ৩০ মিনিট

## অর্থনীতি সৃজনশীল প্রশ্ন

পূর্ণমান : ৭০

দ্রষ্টব্য : ডান পাশের সংখ্যা প্রশ্নের পূর্ণমান জ্ঞাপক। প্রদত্ত উদ্দীপকগুলো মনোযোগসহকারে পড় এবং সংশ্লিষ্ট প্রশ্নের উত্তর দাও। যেকোনো সাতটি প্রশ্নের উত্তর দিতে হবে।

- ১▶ **প্রশ্নাপট-১** : জনাব আকাশ একজন সরকারি কর্মকর্তা। চলতি বছর তিনি চাকরি থেকে অবসর নেন। অবসর গ্রহণের পর তিনি যে পনশন পান তা দ্বারা গ্রাম ও শহরে বাড়ি নির্মাণের পরিকল্পনা করেন। কিন্তু তার নিকট যে অর্থ আছে তা দ্বারা গ্রাম ও শহর উভয় জায়গায় বাড়ি নির্মাণ সম্ভব নয়। তাই তিনি গ্রামে বাড়ি নির্মাণ না করে শহরে বাড়ি নির্মাণের সিদ্ধান্ত নিলেন।
- প্রশ্নাপট-২** : জনাব রাফিন পড়াশোনা শেষ করে চাকরি না পেয়ে বিদেশ চলে যান। সেখানে গিয়ে তিনি একটি ব্যবসায় প্রতিষ্ঠান খোলেন। এর জন্য তাকে কর্তৃপক্ষের কোনো অনুমতি নিতে হয় না। স্বাধীনভাবে তিনি ব্যবসা পরিচালনা করে অল্প সময়ে প্রচুর অর্থের মালিক হয়ে গেলেন। তার লক্ষ্য ব্যবসাকে আরও সম্প্রসারিত করা।

- ক. বেকার কাকে বলে? ১  
খ. সরকার কখন অদৃশ্য বাজার ব্যবস্থায় হস্তক্ষেপ করে? ব্যাখ্যা কর। ২  
গ. প্রশ্নাপট-১ এ অর্থনীতির কোন মৌলিক নীতিটি প্রকাশ পেয়েছে? ব্যাখ্যা কর। ৩  
ঘ. প্রশ্নাপট-২ এ নির্দেশিত অর্থব্যবস্থাটি চিহ্নিত করে উক্ত অর্থব্যবস্থার দ্রব্যের দাম নির্ধারণ প্রক্রিয়া সম্পর্কে লেখ। ৪
- ২▶ রাফিন ও সাফিন দুই ভাই। রাফিন উচ্চ শিক্ষার জন্য এমন একটি দেশে গেলেন যেখানে নিজ উদ্যোগের কোন স্বাধীনতা নেই। সবকিছু পরিচালিত হয় পরিকল্পনা কমিশনের সিদ্ধান্তে। অন্যদিকে, সাফিন এমন একটি দেশে গেলেন যেখানে ব্যক্তি মালিকানাধীন প্রতিষ্ঠানের আধিক্য রয়েছে। এছাড়া ভারী শিল্প ও জাতীয় নিরাপত্তা প্রতিষ্ঠানসমূহ সরকারের অধীনে পরিচালিত হয়।
- ক. ইসলামি অর্থব্যবস্থা কাকে বলে? ১  
খ. 'দুস্তাপ্যতার জন্যই মানুষকে নির্বাচন করতে হয়'— ব্যাখ্যা কর। ২  
গ. রাফিন যে দেশে গেলেন সে দেশে কোন ধরনের অর্থব্যবস্থা বিরাজমান? ব্যাখ্যা কর। ৩  
ঘ. সাফিন যে দেশে গেলেন সে দেশের অর্থব্যবস্থা চিহ্নিত করে বাংলাদেশের অর্থব্যবস্থার সাথে এর তুলনা কর। ৪

কলাম A	কলাম B
Y = ? S = ১০০০ টাকা C = ২৫০০ টাকা	করুতর, ইলিশ, কোয়েল, ভেড়া

- ক. উৎপাদিত সম্পদ কাকে বলে? ১  
খ. শব্দ উপযোগ থাকলেই কি সম্পদ হয়? ব্যাখ্যা কর। ২  
গ. কলাম A হতে Y এর মান নির্ণয় কর। ৩  
ঘ. কলাম B দ্বারা নির্দেশিত সম্পদটি বাংলাদেশের অর্থনীতিতে গুরুত্বপূর্ণ অবদান রাখে— মন্তব্যটির যথার্থতা মূল্যায়ন কর। ৪
- ৪▶ জনাব শরীফ একটি বেসরকারি অফিসে চাকরি করেন। তিনি প্রতি মাসে যে বেতন পান তা দ্বারা যাবতীয় খরচ মিটিয়ে কিছু টাকা ব্যাংকে জমা রাখেন। অন্যদিকে, তার ভাই হোসেন চাকরি না করে এলাকায় একটি দোকান দিয়ে ব্যবসা শুরু করেন। ব্যবসার পাশাপাশি মাঠে সবজি চাষ, পুকুরে মাছ চাষ ও বাড়িতে গরু-ছাগল লালন-পালন করেন।
- ক. চূড়ান্ত দ্রব্য কাকে বলে? ১  
খ. সপযোগ ব্যয় ও চয়ন দুটি পৃথক ধারণা— ব্যাখ্যা কর। ২  
গ. হোসেনের কাজগুলো অর্থনীতির কোন ধরনের কার্যাবলিকে নির্দেশ করে? ব্যাখ্যা কর। ৩  
ঘ. উদ্দীপকে শরীফের ক্ষেত্রে অর্থনীতির যে ধারণাটি প্রতিফলিত হয়েছে তা চিহ্নিত করে এর নির্ধারকগুলোর বর্ণনা দাও। ৪
- ৫▶ কলিম উদ্দিন মিষ্টির দোকানের গিয়ে ১ম মিষ্টির জন্য ২০ টাকা দেয়। দোকানদার তাকে আরেকটি মিষ্টি খেতে বললে সে ১৫ টাকা দিতে রাজি থাকে। এভাবে পরবর্তী দুটি মিষ্টির জন্য সে যথাক্রমে ১০ ও ৫ টাকা দিতে রাজি থাকে। কিন্তু ৫ম মিষ্টির জন্য সে কোনো টাকা দিতে রাজি ছিল না।
- ক. ভোক্তা কাকে বলে? ১  
খ. শব্দ উপযোগ নিঃশেষ করাই ভোগ নয়— ব্যাখ্যা কর। ২  
গ. উদ্দীপকের আলোকে মোট উপযোগ সূচি তৈরি কর। ৩  
ঘ. "উদ্দীপকটি যে বিধিকে নির্দেশ করে তা কিছু শর্ত মেনে চলে"— তুমি কি উক্তির সাথে একমত? তোমার উত্তরের সপক্ষে যুক্তি দাও। ৪

দাম (টাকা)	চাহিদার পরিমাণ (কেজি)	যোগানের পরিমাণ (কেজি)
৪	২৪	৮
৮	১৬	১৬
১২	৮	২৪

- ক. যোগান কাকে বলে? ১  
খ. চাহিদা বিধি কি সবসময় কার্যকর? ব্যাখ্যা কর। ২  
গ. উদ্দীপকের আলোকে চাহিদা রেখা অঙ্কন কর। ৩  
ঘ. চিত্রের সাহায্যে উদ্দীপকে উল্লিখিত তথ্য ব্যবহার করে ভারসাম্য দাম ও পরিমাণ নির্ণয় কর। ৪
- ৭▶ প্রবিন ঘোষণ একজন ফুল ব্যবসায়ী। তিনি যশোরের গদখালী থেকে ফুল এনে কুমিল্লায় বিক্রি করেন। ফুলের চাহিদা ক্রমাগত বৃদ্ধি পাওয়ায় তিনি নিজ এলাকায় ফুল চাষের পরিকল্পনা গ্রহণ করেন। এ লক্ষ্যে তিনি ২ একর জমি লিজ নিয়ে ফুল চাষ শুরু করেন। ফুল বাগান দেখাশোনার জন্য ৫ জন লোক নিয়োগ দেন। তাদের মধ্যে ২ জনের দায়িত্ব হলো গাছে পানি দেয়া, ২ জনের দায়িত্ব হলো ফুল তুলে বাজারে বিক্রি করা, বাকি ১ জনের দায়িত্ব হলো পাহারা দেয়া।
- ক. উৎপাদন কাকে বলে? ১  
খ. ফটোকপি মেশিন উৎপাদনের কোন ধরনের উপকরণ? ব্যাখ্যা কর। ২  
গ. প্রবিন ঘোষণের ফুল বিক্রির ক্ষেত্রে কোন ধরনের উপযোগ সৃষ্টি হয়েছে? ব্যাখ্যা কর। ৩  
ঘ. উদ্দীপকের প্রবিন ঘোষণকে দক্ষ সংগঠক বলা যায় কি? তোমার উত্তরের সপক্ষে যুক্তি দাও। ৪

ভূমির পরিমাণ (হেক্টর)	শ্রম (ঘণ্টা)	মোট উৎপাদন (মণ)
১	১	৮
১	২	২০
১	৩	৩০
১	৪	৩৬
১	৫	৪০
১	৬	৪২
১	৭	৪২
১	৮	৪০

- ক. প্রান্তিক উৎপাদন কাকে বলে? ১  
খ. জাপানে ভূমি ও শ্রমের তুলনায় মূলধনের গুরুত্ব বেশি কেন? ব্যাখ্যা কর। ২  
গ. উদ্দীপকের আলোকে মোট উৎপাদন রেখা অঙ্কন কর। ৩  
ঘ. উদ্দীপক হতে প্রান্তিক উৎপাদন নির্ণয় করে মোট ও প্রান্তিক উৎপাদনের সম্পর্ক দেখাও। ৪
- ৯▶ A দেশের মোট ভোগ ব্যয় ৫০০ কোটি টাকা, মোট বিনিয়োগ ব্যয় ১০০ কোটি টাকা, মোট সরকারি ব্যয় ৫০ কোটি টাকা, প্রবাসে কর্মরত দেশীয় নাগরিকদের আয় ২০ কোটি টাকা এবং দেশে অবস্থানরত বিদেশিদের আয় ১০ কোটি টাকা।
- ক. আয় পদ্ধতিতে জাতীয় আয় নির্ণয়ের সূত্রটি লেখ। ১  
খ. মাথাপিছু জিডিপি হলো একটি দেশের অর্থনৈতিক উন্নয়ন ও জীবনযাত্রার মানের প্রধান সূচক— ব্যাখ্যা কর। ২  
গ. উদ্দীপকের আলোকে নিট উপাদান আয় নির্ণয় কর। ৩  
ঘ. যদি দেশে অবস্থানরত বিদেশিদের আয় দ্বিগুণ হয় তাহলে জাতীয় আয় কি একই থাকবে? গাণিতিকভাবে বিশ্লেষণ কর। ৪
- ১০▶ আবুল হাশেম একজন বাংলাদেশের নাগরিক। তিনি বহুদিন ধরে ওমানে অবস্থান করেন। সেখানে তার একটি দোকান রয়েছে। দোকান থেকে তিনি যে আয় করেন তার কিছু অংশ নিজের ভরণ-পোষণের জন্য রেখে বাকিটা নিজ দেশে প্রেরণ করেন, যা দিয়ে তার পরিবারের সদস্যরা সুখে-শান্তিতে জীবনযাপন করে।
- ক. দ্বৈত গণনা সমস্যা বলতে কী বোঝায়? ১  
খ. মূলধনী লাভক্ষতি জিডিপি পরিমাপে অন্তর্ভুক্ত হয় না কেন? ব্যাখ্যা কর। ২  
গ. আবুল হাশেমের প্রেরিত অর্থ বাংলাদেশের জাতীয় আয়ের কোন ধারণার অন্তর্ভুক্ত হবে? ব্যাখ্যা কর। ৩  
ঘ. আবুল হাশেমের দোকান থেকে প্রাপ্ত আয় উভয় দেশের জিডিপিকে প্রভাবিত করবে কি? উত্তরের সপক্ষে যুক্তি দাও। ৪

'ক' দেশ	'খ' দেশ
১। প্রাকৃতিক সম্পদের যথাযথ ব্যবহার নিশ্চিত করা হয়।	১। আমদানির পরিমাণ রপ্তানির চেয়ে বেশি।
২। শান্তিপূর্ণভাবে সরকার পরিবর্তন।	২। অর্থনীতির প্রধান চালিকাশক্তি কৃষি।
৩। প্রযুক্তিজ্ঞানে স্বনির্ভর।	৩। ছদ্মবেশি বেকারত্বের উপস্থিতি।

- ক. মানবসম্পদ কাকে বলে? ১  
খ. শিক্ষা কীভাবে মানবসম্পদ উন্নয়নে ভূমিকা রাখে? ব্যাখ্যা কর। ২  
গ. 'ক' দেশটি উন্নয়নের মাপকাঠিতে কোন ধরনের দেশ? ব্যাখ্যা কর। ৩  
ঘ. 'খ' দেশটিকে 'ক' দেশে রূপান্তরকরণে তোমার সুপারিশ লেখ। ৪

২৬ ✓ দিনাজপুর বোর্ড ২০২৩

বিষয় কোড : 141

সময় : ২ ঘণ্টা ৩০ মিনিট

অর্থনীতি সৃজনশীল প্রশ্ন

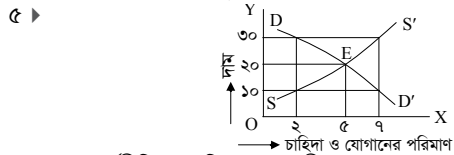
পূর্ণমান : ৭০

দ্রষ্টব্য : ডান পাশের সংখ্যা প্রশ্নের পূর্ণমান জ্ঞাপক। প্রদত্ত উদ্দীপকগুলো মনোযোগসহকারে পড় এবং সংশ্লিষ্ট প্রশ্নের উত্তর দাও। যেকোনো সাতটি প্রশ্নের উত্তর দিতে হবে।

- ১ ▶ জনাব জামাল 'ক' দেশের নাগরিক। তিনি বাজারে নিত্যপ্রয়োজনীয় সামগ্রী যেমন— চাল, ডাল, তৈল কিনতে গিয়ে দেখেন যে বাজারে দ্রব্যগুলোর দাম কিছুটা কম। এই বিষয়ে তিনি বিক্রেতাকে জিজ্ঞাসা করলে সে জানায় সরকার বাজার মূল্যের চেয়ে কম দামে দ্রব্যগুলো বিক্রি করায় এগুলোর দাম কিছুটা কমেছে। কিন্তু 'খ' দেশের সরকার দ্রব্যের দাম কমানোর জন্য কোনো পদক্ষেপ নেয় না। চাহিদা ও যোগানের সমতার ভিত্তিতে দ্রব্যের দাম নির্ধারিত হয়।
- ক. বাণিজ্যবাদ বলতে কী বোঝায়? ১  
খ. "স্বল্পকালে বেকারত্ব ও মুদ্রাস্ফীতির মধ্যে সম্পর্ক বিপরীত"— ব্যাখ্যা কর। ২  
গ. উদ্দীপকের আলোকে জনাব জামালের দেশের বিদ্যমান অর্থব্যবস্থার স্বরূপ ব্যাখ্যা কর। ৩  
ঘ. মৌলিক অর্থনৈতিক সমস্যা সমাধানে উদ্দীপকের কোন দেশের প্রচলিত অর্থব্যবস্থা বেশি কার্যকর বলে তুমি মনে কর? বিশ্লেষণ কর। ৪
- ২ ▶ জনাব রহিম একজন স্বল্পবেতনভুক্ত কর্মচারী। তার দুই ছেলে ও এক মেয়ে প্রতিমাসে সংসারের ব্যয় নির্বাহ করার পর তার নিকট কোনো অতিরিক্ত অর্থ থাকে না। ছেলে-মেয়েরা তার নিকট থেকে অনেক চায় কিন্তু বেশিরভাগ ক্ষেত্রে তিনি তা দিতে ব্যর্থ হন। তিনি অনেক হিসাব-নিকাশ করে সংসার পরিচালনা করেন এবং কিছু অভাব পরে পূরণ করবেন বলে তার সন্তানদের বোঝান।
- ক. 'অর্থশাস্ত্র' বইয়ের লেখক কে? ১  
খ. "মানুষ প্রগোদনায় সাড়া দেয়"— ব্যাখ্যা কর। ২  
গ. উদ্দীপকে জনাব রহিম কোন ধরনের সমস্যার সম্মুখীন হয়েছেন? ব্যাখ্যা কর। ৩  
ঘ. "অর্থনীতি একটি নির্বাচনের বিজ্ঞান"— উদ্দীপকের আলোকে উক্তিটি বিশ্লেষণ কর। ৪

ছক-ক	ছক-খ
বৃষ্টিপাত, ভূগর্ভস্থ পানি	কম্পিউটারের দক্ষতা
নদী ও সমুদ্রের পানি	কবির কাব্য প্রতিভা

- ক. ফলধনী দ্রব্য কাকে বলে? ১  
খ. শক্তি সম্পদ বলতে কী বোঝায়? ২  
গ. বাংলাদেশের অর্থনৈতিক উন্নয়নে 'ক' ছকের বিষয়টির গুরুত্ব বর্ণনা কর। ৩  
ঘ. ছক-খ এর বিষয়গুলো অর্থনীতির পরিভাষায় সম্পদ কি? পাঠ্যপুস্তকের আলোকে ব্যাখ্যা কর। ৪
- ৪ ▶ দশ হাজার টাকা মূলধন নিয়ে রহিমা বেগম নিজ বাড়িতে ক্ষুদ্র হস্তশিল্পজাত দ্রব্য তৈরির কারখানা স্থাপন করেন। তার তৈরিকৃত দ্রব্য বাজারে বিক্রি করে তিনি মুনাফা করেন। ছোট ভাই করিমের পরামর্শে তিনি উদ্বৃত্ত অর্থ বাড়ির পাশে একটি ব্যাংক জমা রাখেন। দুই বছর পর জমাকৃত অর্থ দিয়ে তিনি একটি মেশিন ক্রয় করেন এতে তার উৎপাদন এবং মুনাফা বহুগুণ বৃদ্ধি পায়।
- ক. আয় বলতে কী বোঝায়? ১  
খ. "অর্থনৈতিক উন্নয়নে কৃষির ভূমিকা অপরিসীম"— ব্যাখ্যা কর। ২  
গ. রহিমা বেগমের ব্যাংক টাকা রাখার বিষয়টি অর্থনীতিতে কী নামে পরিচিত? কোন কোন বিষয় দ্বারা এটি প্রভাবিত হয়? উদ্দীপকের আলোকে বিশ্লেষণ কর। ৩  
ঘ. রহিমা বেগমের ক্রয়কৃত দ্রব্যটির তাৎপর্য অর্থনীতির আলোকে বিশ্লেষণ কর। ৪



- ক. অর্থনীতিতে চাহিদা বলতে কী বোঝায়? ১  
খ. ভোক্তা বলতে কী বোঝায়? ২  
গ. উদ্দীপকে উল্লিখিত চিত্রের সাহায্যে একটি চাহিদা সূচি তৈরি করে ব্যাখ্যা কর। ৩  
ঘ. উদ্দীপকের আলোকে বাজার ভারসাম্য সূচি তৈরি করে ব্যাখ্যা কর। ৪
- ৬ ▶ একজন ভোক্তার কমলালেবুর ক্রয় থেকে প্রাপ্ত মোট ও প্রান্তিক উপযোগের তথ্য নিম্নরূপ—

দ্রব্যের পরিমাণ	মোট উপযোগ (টাকা)	প্রান্তিক উপযোগ (টাকা)
১ম	২০	২০
২য়	৩৫	১৫
৩য়	৪৫	১০
৪র্থ	৫০	৫
৫ম	৫০	০
৬ষ্ঠ	৪৫	-৫

- ক. অর্থনীতিতে উপযোগ বলতে কী বোঝায়? ১  
খ. চাহিদা বিধি কি সর্বদা কার্যকর হয়? ব্যাখ্যা কর। ২  
গ. উদ্দীপকের আলোকে ভোক্তার প্রান্তিক উপযোগ রেখা অঙ্কন কর। ৩  
ঘ. উদ্দীপকে কোন বিধিটি কার্যকর হয়েছে বলে তুমি মনে কর? উত্তরের পক্ষে যুক্তি দাও। ৪
- ৭ ▶ জনাব টিপু তার কৃষি খামারে অন্যান্য উপকরণ ও কলাকৌশল ঠিক রেখে শুধুমাত্র শ্রমিক বৃদ্ধি করেন। উৎপাদন বৃদ্ধি হার নিচে টেবিলে প্রকাশ করা হলো—

শ্রম ও মূলধন	মোট উৎপাদন (কুইন্টাল)	প্রান্তিক উৎপাদন (কুইন্টাল)
১ জন ও ১০০ টাকা	১৪	
২ জন ও ১০০ টাকা	২৪	
৩ জন ও ১০০ টাকা	৩১	
৪ জন ও ১০০ টাকা	৩৫	

- ক. উৎপাদন কাকে বলে? ১  
খ. ব্যক্তিগত খরচ বলতে কী বোঝায়? ২  
গ. প্রান্তিক উৎপাদন নির্ণয় কর এবং রেখাচিত্রের সাহায্যে তা ব্যাখ্যা কর। ৩  
ঘ. উদ্দীপকে যে বিধিটি কার্যকর হয়েছে তা কি শুধুমাত্র কৃষিক্ষেত্রে প্রযোজ্য? মতামত দাও। ৪
- ৮ ▶
- | উৎপাদন (একক) | মোট উৎপাদন (টাকা) | গড় উৎপাদন (টাকা) | প্রান্তিক উৎপাদন (টাকা) |
|--------------|-------------------|-------------------|-------------------------|
| ১            | ১০                | ১০                | ১০                      |
| ২            | ২৪                | ১২                | ১৪                      |
| ৩            | ৩৬                | ১২                | ১২                      |
| ৪            | ৪৬                | ১১.৫              | ১০                      |
| ৫            | ৫৪                | ১০.৮              | ৮                       |
| ৬            | ৬০                | ১০                | ৬                       |

- ক. শ্রম বলতে কী বোঝায়? ১  
খ. সংগঠনকে সমন্বয়কারী বলা হয় কেন? ব্যাখ্যা কর। ২  
গ. উদ্দীপকের আলোকে মোট উৎপাদন রেখা অঙ্কন কর এবং ব্যাখ্যা কর। ৩  
ঘ. গড় উৎপাদন ও প্রান্তিক উৎপাদনের মধ্যে সম্পর্ক উদ্দীপকের আলোকে রেখাচিত্রের সাহায্যে ব্যাখ্যা কর। ৪
- ৯ ▶ আবেদ অর্থনীতির ওপর একটি সেমিনারে অংশগ্রহণ করেন। তিনি লক্ষ করেন অধিকাংশ বক্তা মাথাপিছু আয়কে উন্নয়নের একটি গুরুত্বপূর্ণ নির্দেশক হিসেবে ব্যাখ্যা করেন। বক্তারা মোট দেশজ উৎপাদন বৃদ্ধির ওপর গুরুত্ব আরোপ করেন। তারা মোট দেশজ উৎপাদন বৃদ্ধির কয়েকটি নির্ধারকেরও আলোচনা করেন।
- ক. অর্থনীতিতে ভূমি কী? ১  
খ. দ্বৈত গণনা সমস্যা বলতে কী বোঝায়? ২  
গ. মাথাপিছু আয় কেন একটি দেশের অর্থনৈতিক উন্নয়নের অন্যতম গুরুত্বপূর্ণ নির্দেশক? উদ্দীপকের আলোকে ব্যাখ্যা কর। ৩  
ঘ. উদ্দীপকে উল্লিখিত বক্তাদের আলোচনাকৃত নির্ধারকগুলো তোমার পাঠ্যবইয়ের আলোকে বিশ্লেষণ কর। ৪
- ১০ ▶ দীর্ঘ বিশ বছর পর দেশে এসে গ্রামের বাড়িতে যাওয়ার সময় সুমন লক্ষ করল অনেক পরিবর্তন। ব্যাপকভাবে রাস্তাঘাট, স্কুল, হাসপাতাল, সেতু নির্মিত হয়েছে। মানুষও আগের চেয়ে সচেতন ও শিক্ষিত হয়েছে। এদেশের অর্থনীতিতে গতিশীলতা এসেছে। স্কুল শিক্ষক বন্ধুকে এই বিষয় জিজ্ঞাসা করলে সে বলে এখনো যে প্রতিবন্ধকতাগুলো আছে তা দূর করলে দেশটি দ্রুত উন্নত দেশে পরিণত হবে।
- ক. উন্নত দেশ বলতে কী বোঝায়? ১  
খ. অর্থনৈতিক উন্নয়ন বলতে কী বোঝায়? ২  
গ. সন্মত দেশটি অর্থনৈতিক উন্নয়নের দিক থেকে কোন শ্রেণিভুক্ত? তার বৈশিষ্ট্যগুলো বর্ণনা কর। ৩  
ঘ. উদ্দীপকে ইঙ্গিতকৃত প্রতিবন্ধকতাগুলো পাঠ্যবইয়ের আলোকে আলোচনা কর। ৪
- ১১ ▶ জনাব হালিম একজন শিক্ষক। তিনি ক্লাসে বলেন যে, চীন, ভারত প্রভৃতি দেশ জনসংখ্যার গুণগত মান বৃদ্ধিতে সফল হয়েছে। আমাদের দেশে ১৬ কোটি মানুষ বাস করে কিন্তু বেশিরভাগ মানুষই নিজ দক্ষতা বৃদ্ধিতে তৎপর নয়। তবে এই বিপুল জনগোষ্ঠীকে দক্ষ হিসেবে গড়ে তুলতে পারলে তারা মানবসম্পদে পরিণত হবে এবং দেশের উন্নয়নে সহায়ক ভূমিকা পালন করতে পারবে।
- ক. NGO-এর পূর্ণরূপ কী? ১  
খ. দারিদ্র্য বলতে কী বোঝায়? ২  
গ. উপরোক্ত উদ্দীপকের আলোকে মানবসম্পদ উন্নয়নের গুরুত্ব ব্যাখ্যা কর। ৩  
ঘ. কোন পদক্ষেপগুলো দ্রুত মানবসম্পদ উন্নয়নে ভূমিকা রাখে বলে তুমি মনে কর? উদ্দীপকের আলোকে বিশ্লেষণ কর। ৪

২৭✓ ময়মনসিংহ বোর্ড ২০২৩

বিষয় কোড : 141

সময় : ২ ঘণ্টা ৩০ মিনিট

অর্থনীতি সৃজনশীল প্রশ্ন

পূর্ণমান : ৭০

দ্রষ্টব্য : ডান পাশের সংখ্যা প্রশ্নের পূর্ণমান জ্ঞাপক। প্রদত্ত উদ্দীপকগুলো মনোযোগসহকারে পড় এবং সংশ্লিষ্ট প্রশ্নের উত্তর দাও। যেকোনো সাতটি প্রশ্নের উত্তর দিতে হবে।

- ১ ▶ মি. হাইটস-এর দেশে ক্রেতা-বিক্রেতার প্রতিযোগিতার মাধ্যমে দ্রব্যের দাম নির্ধারিত হয়। উৎপাদনের উপকরণসহ সকল সম্পদের ব্যক্তিগত মালিকানা রয়েছে। সরকার শুধু সার্বভৌমত্ব ও নিরাপত্তার দায়িত্ব পালন করে। অন্যদিকে, আকাশের দেশে সরকারি ও বেসরকারি শিক্ষা প্রতিষ্ঠান, বিমান ও রেল রয়েছে। সেখানে ভোক্তার স্বাধীনতা বিদ্যমান।
- ক. অর্থনীতির সংজ্ঞা দাও। ১
- খ. 'কাজ ভালো হলো শ্রমিকের বেতন বৃদ্ধির ঘোষণা' অর্থনীতির কোন মৌলিক নীতির অনুসরণ করে? বুঝিয়ে লেখ। ২
- গ. মি. হাইটস-এর দেশের অর্থব্যবস্থার স্বরূপ ব্যাখ্যা কর। ৩
- ঘ. আকাশ-এর দেশের অর্থব্যবস্থার সাথে তোমার দেশের অর্থব্যবস্থার তুলনামূলক আলোচনা কর। ৪

- ২ ▶
- 
- ক. অবাধলভ্য দ্রব্য কাকে বলে? ১
- খ. কাপড় তৈরিতে সুতা কী ধরনের দ্রব্য? বুঝিয়ে লেখ। ২
- গ. উদ্দীপকে ছক-ক' যে ধারণাকে নির্দেশ করে তার বৈশিষ্ট্য ব্যাখ্যা কর। ৩
- ঘ. কোনো দেশের অর্থনীতিতে ছক-খ' এ নির্দেশিত বিষয়টির গুরুত্ব বিশ্লেষণ কর। ৪

- ৩ ▶ রাজন তার কথার মাধ্যমে সহজেই মানুষকে উদ্বুদ্ধ করতে পারেন। মানুষকে সংগঠিত করার দক্ষতা তার অপরিণীম। দেশের বিভিন্ন স্থান থেকে আসা মালামাল সংরক্ষণের জন্য খুলনায় তার একটি ঘর আছে। এখান থেকে তার কর্মচারীরা তার কথামতো দেশের বিভিন্ন স্থানে মালামাল সরবরাহ করে।
- ক. দ্রব্য কী? ১
- খ. 'শিক্ষা প্রতিষ্ঠান' কোন ধরনের সম্পদ? ব্যাখ্যা কর। ২
- গ. রাজনের খুলনার ঘরটি অর্থনীতিতে কী ধরনের দ্রব্য? ব্যাখ্যা কর। ৩
- ঘ. রাজনের গুণাবলি কি সম্পদ? উত্তরের সপক্ষে যুক্তি দাও। ৪

- ৪ ▶ 'ক' ও 'খ' ব্যক্তির 'M' দ্রব্যের যোগান সূচি দেওয়া হলো—

দ্রব্যের দাম (হাজার টাকায়)	'ক' বিক্রেতার যোগান (কুইন্টাল)	'খ' বিক্রেতার যোগান (কুইন্টাল)	বাজার যোগান (কুইন্টাল)
২	১৫	১০	২৫
৩	২০	১০	৩০
৪	২৫	১০	৩৫

- ক. ব্যক্তিগত যোগান কাকে বলে? ১
- খ. কোনো দ্রব্যের উপযোগ শেষ করা হলেও তাকে ভোগ বলা যায় না কেন? ব্যাখ্যা কর। ২
- গ. 'M' দ্রব্যের বাজার যোগান রেখা অঙ্কন করে ব্যাখ্যা কর। ৩
- ঘ. তুমি কি মনে কর উভয় বিক্রেতার ক্ষেত্রে যোগান বিধি কার্যকর হয়েছে? মতামতের সপক্ষে যুক্তি দাও। ৪

- ৫ ▶ নিচে একটি সমন্বিত চাহিদা ও যোগান সূচি দেওয়া হলো—

দ্রব্যের দাম (টাকায়)	দ্রব্যের চাহিদা (একক)	দ্রব্যের যোগান (একক)
৫	৬	২
১০	৪	৪
১৫	২	৬

- ক. সাধারণ কথায় উপযোগ কী? ১
- খ. প্রান্তিক উপযোগ মোট উপযোগের একটি অংশ। ব্যাখ্যা কর। ২
- গ. উপরের সূচি থেকে চাহিদা রেখা অঙ্কন করে ব্যাখ্যা কর। ৩
- ঘ. উপরের সূচি থেকে বাজার ভারসাম্যের চিত্র অঙ্কন করে বিশ্লেষণ কর। ৪

- ৬ ▶ করিম একজন আসবাবপত্র ব্যবসায়ী দেশের বিভিন্ন স্থানে তার কয়েকটি আসবাবপত্রের দোকান আছে। তিনি বিশ জন কর্মচারীর সাহায্যে কাঠ থেকে বিভিন্ন ধরনের আসবাবপত্র তৈরি করে দোকানে সরবরাহ করেন। প্রতিটি দোকানের জন্য তিনি আলাদা লোক নিয়োগ করেন। পণ্যের বাজার বিস্তৃত করার জন্য তিনি বিভিন্ন প্রদর্শনীতে অংশ নিয়ে থাকেন। বাজারে তার আসবাবপত্রের চাহিদা দিন দিন বেড়েই চলেছে।

- ক. প্রকৃত উৎপাদন ব্যয় কী? ১
- খ. সামাজিক ব্যয় বলতে কী বোঝায়? ২
- গ. করিমের উপযোগ সৃষ্টির প্রক্রিয়াটি তোমার পাঠ্যবইয়ের আলোকে ব্যাখ্যা কর। ৩
- ঘ. করিমকে কি একজন সফল সংগঠক বলা যায়? তোমার উত্তরের সপক্ষে যুক্তি দাও। ৪
- ৭ ▶ মালয়েশিয়া প্রবাসী রহিম তার উপার্জিত টাকার কিছু অংশ দেশে পাঠায়। আবার কানাডার নাগরিক রিচার্ড বাংলাদেশে প্রতিষ্ঠান পরিচালনা করে প্রচুর অর্থ উপার্জন করে।
- ক. মাথাপিছু জিডিপির সূত্রটি লেখ। ১
- খ. মূলধনী লাভ-ক্ষতি বলতে কী বোঝায়? ব্যাখ্যা কর। ২
- গ. রিচার্ডের আয় আমাদের দেশে যে ধরনের আয়ের অন্তর্গত সেটি ব্যাখ্যা কর। ৩
- ঘ. উদ্দীপকে উল্লিখিত দুজন ব্যক্তির আয়ের তুলনামূলক চিত্র বিশ্লেষণ কর। ৪

- ৮ ▶ ছক-১ : জিডিপি =  $\Sigma$ খাজনা +  $\Sigma$ মজুরি +  $\Sigma$ সুদ +  $\Sigma$ মুনাফা
- ছক-১ :  $\Sigma C + \Sigma I + \Sigma G + \Sigma(X - M) = ?$
- ক. NNI এর পূর্ণরূপ কী? ১
- খ. CCA বলতে কী বোঝায়? ব্যাখ্যা কর। ২
- গ. ছক-১ এ জিডিপি পরিমাপের কোন পদ্ধতিকে নির্দেশ করে? ব্যাখ্যা কর। ৩
- ঘ. ছক-২ : এর "?" বিষয়ের নির্ধারণকসমূহ বর্ণনা কর। ৪
- ৯ ▶ শহিদ একটি ভাড়া করা অটো ড্যান চালান। তিনি এর মাধ্যমে যা আয় করেন তাতে তার সংসার চালিয়ে কোনো অর্থ জমা থাকে না। দীর্ঘদিন ধরে একটি অটোড্যান কিনতে অর্থ সঞ্চয় তিনি ব্যর্থ হয়েছেন। অবশেষে ব্যাংক ঋণের মাধ্যমে তিনি নিজের জন্য নতুন একটি অটোড্যান ক্রয় করেন।
- ক. অর্থনৈতিক উন্নয়ন কী? ১
- খ. নারীর ক্ষমতায়ন বলতে কী বোঝায়? ২
- গ. শহিদের অবস্থানটি অর্থনীতির কোন ধারণার সাথে সম্পর্কিত? ব্যাখ্যা কর। ৩
- ঘ. শহিদের নতুন অটোড্যান ক্রয়ের মাধ্যমে তার আর্থিক অবস্থার পরিবর্তন সম্ভব?— তোমার পাঠ্যবইয়ের আলোকে ব্যাখ্যা কর। ৪

- ১০ ▶ সালমান এম. এ পাস করেও চাকরি না পেয়ে বেকার বসে আছে। এমতাবস্থায় সে একটি চাকরি নিয়ে 'ক' দেশে যায়। যে দেশে দক্ষ জনশক্তিসহ উন্নত কারিগরি জ্ঞান ও সুষ্ঠু পরিকল্পনার মাধ্যমে অর্থনীতির সকল খাতে সাফল্য দেখতে পায়।

- ক. বেকারত্ব কাকে বলে? ১
- খ. মানবসম্পদ বলতে কী বোঝায়? ব্যাখ্যা কর। ২
- গ. 'ক' দেশটি উন্নয়নের মাত্রায় কোন শ্রেণিভুক্ত? ব্যাখ্যা কর। ৩
- ঘ. বাংলাদেশকে 'ক' দেশের পর্যায়ে উন্নীত করতে কী কী পদক্ষেপ গ্রহণ করা প্রয়োজন বলে তুমি মনে কর? যুক্তিসহ বিশ্লেষণ কর। ৪

- ১১ ▶ মর্জিনা বেগম দুটি সেলাই মেশিন ক্রয় করেন। এর থেকে তাঁর সাপ্তাহিক আয় ৫,০০০ টাকা। তিনি পারিবারিক ভরণপোষণ, ছেলেমেয়েদের শিক্ষা ব্যয় বাদে বাকি টাকা সঞ্চয় করেন। সঞ্চয়ের অর্থ থেকে এ বছর তিনি আরও দুটি সেলাই মেশিন ক্রয় করেছেন।

- ক. বিনিয়োগ কী? ১
- খ. শক্তি সম্পদ বলতে কী বোঝায়? ব্যাখ্যা কর। ২
- গ. মর্জিনার নতুন সেলাই মেশিন ক্রয়ে অর্থনীতিতে কী বলে? ব্যাখ্যা কর। ৩
- ঘ. মর্জিনার শেখোক্ত কাজের মাধ্যমে কি অর্থনৈতিক উন্নয়ন সম্ভব? উত্তরের সপক্ষে যুক্তি দাও। ৪

২৮ ডাকা বোর্ড ২০২২

বিষয় কোড : 141

সময় : ১ ঘণ্টা ৪০ মিনিট

অর্থনীতি সৃজনশীল প্রশ্ন

পূর্ণমান : ৪০

দ্রষ্টব্য : ডান পাশের সংখ্যা প্রশ্নের পূর্ণমান জ্ঞাপক। প্রদত্ত উদ্দীপকগুলো মনোযোগ সহকারে পড় এবং সংশ্লিষ্ট প্রশ্নগুলোর উত্তর দাও। যে কোনো চারটি প্রশ্নের উত্তর দিতে হবে।

- ১▶ জনাব রহিম একজন অটোরিকশাচালক। অটোরিকশা ছাড়া তার অন্য কোনো সম্পদ নেই। কোভিড পরিস্থিতির কারণে তার আয় কমে গেছে। অন্যদিকে বাজারে মুদ্রা সরবরাহ বেড়ে যাওয়ায় দ্রব্যসামগ্রীর মূল্য বৃদ্ধি পেয়েছে। তার অল্প আয়ে পরিবারের ভরণপোষণ চালাতে তাকে হিমশিম খেতে হয়। ফলে পরিবারের সবার চাহিদা পূরণ করা তার পক্ষে সম্ভব হয় না।
- ক. ভোক্তা কাকে বলে? ১  
খ. মানুষ প্রণোদনায় সাড়া দেয় কেন? ২  
গ. উদ্দীপকে দ্রব্যসামগ্রীর দাম বৃদ্ধি পাওয়ার অবস্থাকে অর্থনীতিতে কী বলা হয়? ব্যাখ্যা কর। ৩  
ঘ. জনাব রহিম কীভাবে তার সমস্যা সমাধান করবে বলে তুমি মনে কর? অর্থনীতির আলোকে বিশ্লেষণ কর। ৪
- ২▶ জুয়েল সেন একটি কারখানার শ্রমিক। তার কারখানার উৎপাদন সংক্রান্ত সমস্ত বিষয়াবলি সরকার নিয়ন্ত্রণ করে থাকে। অপরদিকে, তার বন্ধু শ্যামলের দেশে সমস্ত উৎপাদন সংক্রান্ত কার্যাবলি ব্যক্তিগত উদ্যোগে পরিচালিত হয়। উৎপাদন ও ভোগের ক্ষেত্রে সরকার কোনো নিয়ন্ত্রণ আরোপ করে না।
- ক. Oikonomia শব্দের অর্থ কী? ১  
খ. সম্পদের দুস্তাপ্যতা বলতে কী বোঝায়? ২  
গ. “উদ্দীপকে বর্ণিত জুয়েল সেনের দেশে কোন ধরনের অর্থব্যবস্থা বিদ্যমান? ব্যাখ্যা কর। ৩  
ঘ. “উদ্দীপকে শ্যামলের দেশের প্রত্যেকে নিজ নিজ স্বার্থে অর্থনৈতিক কার্যাবলি সম্পাদন করে”— বিশ্লেষণ কর। ৪
- ৩▶ জমিলা একজন গৃহিণী। তিনি সন্তান লালন-পালনের পাশাপাশি সকল গৃহস্থালি কাজ করেন। তার স্বামী একজন ফেরিওয়ালা। তিনি গ্রামে গ্রামে ঘুরে বিভিন্ন ধরনের জিনিসপত্র বিক্রয় করেন। এতে তার যে আয় হয় তা দিয়ে তিনি সংসার চালায়।
- ক. বিনিয়োগ কাকে বলে? ১  
খ. উৎপাদিত সম্পদ বলতে কী বোঝায়? ২  
গ. “জমিলার কাজ কোন ধরনের কার্যাবলির অন্তর্ভুক্ত? ব্যাখ্যা কর। ৩  
ঘ. “জমিলা ও তার স্বামীর কাজের ধরন এক নয়”— বিশ্লেষণ কর। ৪
- ৪▶ আয়েশা একজন এনজিও কর্মী। তিনি প্রতি মাসে ১৫,০০০ টাকা বেতন পান। তা থেকে তিনি সংসারের জন্য ১২,০০০ টাকা খরচ করে বাকি ৩,০০০ টাকা ব্যাংকে জমা রাখেন। তার ইচ্ছা বেশ কিছু টাকা জমিয়ে গ্রামে তার বাবাকে পাঠাবেন একটি গরুর খামার প্রতিষ্ঠার জন্য। এভাবে তিনি ভবিষ্যতে সমৃদ্ধির স্বপ্ন দেখেন।
- ক. অর্থনৈতিক দ্রব্য কী? ১  
খ. সাগরের পানিকে অর্থনৈতিক সম্পদ বলা যায় না কেন? ২  
গ. আয়েশার প্রতি মাসে জমাকৃত অর্থ অর্থনীতিতে কী নির্দেশ করে? ব্যাখ্যা কর। ৩  
ঘ. আয়েশা কর্তৃক গরুর খামার প্রতিষ্ঠা করার মতো কর্মকাণ্ডের ফলেই আর্থসামাজিক উন্নয়ন সাধিত হয়।— বিশ্লেষণ কর। ৪
- ৫▶ নিম্নে একটি দ্রব্যের চাহিদা ও যোগান সূচি দেওয়া হলো :
- | দ্রব্যের নাম (টাকা) | চাহিদার পরিমাণ (একক) | যোগানের পরিমাণ (একক) |
|---------------------|----------------------|----------------------|
| ০৫                  | ৪০                   | ২০                   |
| ১০                  | ৩০                   | ৩০                   |
| ১৫                  | ২০                   | ৪০                   |
- ক. অর্থনীতিতে মানবিক সম্পদ কী? ১  
খ. মালিকানাগত উপযোগ কীভাবে সৃষ্টি হয়? ২  
গ. উপরের চাহিদা সূচি থেকে চাহিদা রেখা অঙ্কন করে ব্যাখ্যা কর। ৩  
ঘ. বাজারে ভারসাম্য দাম ও পরিমাণ কীভাবে নির্ধারিত হয় তা উদ্দীপকের আলোকে বিশ্লেষণ কর। ৪
- ৬▶ মনি ও মুক্তা দুই বান্ধবী। বাজারে ৮ টাকা দরে মনি ১০ কেজি এবং মুক্তা ১৫ কেজি আলু ক্রয় করে। আলুর দাম বেড়ে ১২ টাকা হলে মনি ৫ কেজি এবং মুক্তা ১০ কেজি ক্রয় করে। দাম কমে কেজি ৮ টাকা হলে মনি ১০ কেজি এবং মুক্তা ২০ কেজি ক্রয় করে।

- ক. চূড়ান্ত দ্রব্য কী? ১  
খ. মানুষ প্রণোদনায় সাড়া দেয় কেন? ২  
গ. উদ্দীপকের আলোকে বাজার চাহিদা সূচি তৈরি কর। ৩  
ঘ. উদ্দীপকের আলোকে বাজার চাহিদা রেখা অঙ্কন করে তা বিশ্লেষণ কর। ৪
- ৭▶ রহিম সাহেব একটি কারখানার মালিক। ১০ জন শ্রমিক নিয়োগ করে তিনি ৮০০ একক পণ্য উৎপাদন করেন। পরের বছর একজন অতিরিক্ত শ্রমিক নিয়োগ করার পর ৮৭ একক পণ্য বেশি উৎপাদিত হয়। এর পরের বছর আরও ১ জন শ্রমিক নিয়োগ করার ফলে তার ৯৩ একক পণ্য বেশি উৎপাদিত হয়।
- ক. উৎপাদন কী? ১  
খ. উপযোগ সৃষ্টির প্রক্রিয়াটি কী? ২  
গ. উদ্দীপকের সাহায্যে রহিম সাহেবের কারখানার শ্রমিকের গড় উৎপাদন নির্ণয় কর। ৩  
ঘ. উদ্দীপকে নির্দেশিত উৎপাদন বিধিটি কি কৃষিক্ষেত্রে প্রযোজ্য? তোমার মত বিশ্লেষণ কর। ৪
- ৮▶ সজিব উত্তরাধিকার সূত্রে একটি ইটের ভাঁটার মালিকানা লাভ করেন। সম্প্রতি দেশে পাকা ইমারত নির্মাণের কাজ বৃদ্ধি পাওয়ায় ইটের চাহিদা অনেক বেড়ে যায়। এ বাড়তি চাহিদা পূরণের জন্য প্রথম পর্যায়ে সে ইট পাড়ানোর কয়লার ব্যবহার বৃদ্ধি করে। সবশেষে তার সঞ্চিত অর্থ ব্যয় করে আরও কিছু নতুন মেশিন ক্রয় করে ইটভাটায় সংযোজন করে।
- ক. প্রকাশ্য ব্যয় কী? ১  
খ. কাঠ দিয়ে খাট তৈরি কোন ধরনের উপযোগ সৃষ্টি করে? ২  
গ. সজিবের ক্রয়কৃত মেশিনটি উৎপাদনের কোন উপকরণ নির্দেশ করে? ব্যাখ্যা কর। ৩  
ঘ. উৎপাদন ক্ষেত্রে সজিবের ভূমিকাই মুখ্য— বিশ্লেষণ কর। ৪
- ৯▶ বাংলাদেশের প্রচুর শ্রমিক মধ্যপ্রাচ্যে কর্মরত আছেন। তারা প্রতি মাসে বিপুল পরিমাণ বৈদেশিক মুদ্রা দেশে পাঠান। অন্যদিকে অনেক বিদেশি শ্রমিক বাংলাদেশের বিভিন্ন সংস্থায় কাজ করেন। তারাও তাদের আয়ের একটি অংশ তাদের দেশে প্রেরণ করেন। তবে বিদেশিদের প্রেরিত অর্থ আমাদের দেশের শ্রমিক কর্তৃক প্রেরিত অর্থের চেয়ে কম।
- ক. CCA-এর পূর্ণরূপ কী? ১  
খ. মৌসুমি বেকারত্ব কীভাবে সৃষ্টি হয়? ২  
গ. উদ্দীপকে উল্লিখিত কাদের আয় GDP-এর অন্তর্ভুক্ত হবে? ব্যাখ্যা কর। ৩  
ঘ. বাংলাদেশে বর্তমানে মোট জাতীয় আয় মোট দেশজ উৎপাদনের চেয়ে বেশি কি? উদ্দীপকের আলোকে তোমার মতামত দাও। ৪
- ১০▶
- GDP পরিমাপ পদ্ধতিসমূহ

```

    graph TD
      A[GDP পরিমাপ পদ্ধতিসমূহ] --> B[১. উৎপাদন পদ্ধতি]
      A --> C[২. '?' ]
      A --> D[৩. ব্যয় পদ্ধতি]
    
```
- ক. খাজনা কী? ১  
খ. মাধ্যমিক পর্যায়ের দ্রব্য সেবাকে জিডিপি গণনার সময় বিবেচনা করা হয় না কেন? ব্যাখ্যা কর। ২  
গ. ‘?’ চিহ্নিত স্থানে GDP পরিমাপ পদ্ধতি কোনটি হবে? এ পদ্ধতি ব্যবহার করে কীভাবে GDP পরিমাপ করা হয়? ব্যাখ্যা কর। ৩  
ঘ. উদ্দীপকে উল্লিখিত কোন পদ্ধতিতে বাংলাদেশের GDP পরিমাপ করা সহজ? তোমার মতামত দাও। ৪
- ১১▶ জনাব লিটন গত বছর তার এক বিধা জমিতে ৬ কুইন্টাল গম উৎপাদন করেন। এ বছর তার ছোট ভাই রতন তার সঙ্গে কৃষিকাজে যোগ দেয়। ওই এক বিধা জমিতে তারা পুনরায় গম উৎপাদন করেন। কিন্তু গমের উৎপাদন এই থাকে। ফলে রতন কৃষিকাজ ছেড়ে দেয় এবং কাজের খোঁজে শহরে চলে যায়।
- ক. অর্থনৈতিক প্রবৃদ্ধি কী? ১  
খ. অর্থনৈতিক উন্নয়ন বলতে কী বোঝায়? ২  
গ. রতনের বেকারত্বের ধরন ব্যাখ্যা কর। ৩  
ঘ. এ ধরনের বেকারত্ব নিরসনে কী ধরনের পদক্ষেপ গ্রহণ করা যেতে পারে? তোমার মতামত দাও। ৪

## ২৯ রাজসাহী বোর্ড ২০২২

বিষয় কোড : 141

সময় : ১ ঘণ্টা ৪০ মিনিট

## অর্থনীতি সৃজনশীল প্রশ্ন

পূর্ণমান : ৪০

দ্রষ্টব্য : ডান পাশের সংখ্যা প্রশ্নের পূর্ণমান জ্ঞাপক। প্রদত্ত উদ্দীপকগুলো মনোযোগ সহকারে পড় এবং সংশ্লিষ্ট প্রশ্নগুলোর উত্তর দাও। যে কোনো চারটি প্রশ্নের উত্তর দিতে হবে।

১ &gt; ২টি দেশের অর্থনৈতিক বৈশিষ্ট্য দেওয়া হলো—

‘ক’ দেশের উৎপাদনের উদ্দেশ্য বেশি লাভ করা, গরিব ও ধনী লোকদের আয়ের মধ্যে পার্থক্য অনেক বেশি। রাষ্ট্র শুধু গুরুত্বপূর্ণ বিষয়গুলো দেখাশোনা করে। অপরদিকে, ‘খ’ রাষ্ট্রে ব্যক্তিগত কোনো প্রতিষ্ঠান থাকে না। রাষ্ট্রের উদ্দেশ্য হলো জনগণের কল্যাণ সাধন করা।

- ক. অর্থনীতিবিদ অ্যাডাম স্মিথের বিখ্যাত বইটি কত সালে রচিত হয়? ১  
খ. সুযোগ ব্যয় বলতে কী বোঝায়? ২  
গ. উদ্দীপকে ‘ক’ দেশে কোন ধরনের অর্থব্যবস্থা বিদ্যমান? ব্যাখ্যা কর। ৩  
ঘ. ‘খ’ দেশের অর্থব্যবস্থা দেশের জনগণের আর্থসামাজিক উন্নয়নে কতটুকু সহায়ক বলে তুমি মনে কর? ৪

২ &gt; ‘X’: শারীরিক যোগ্যতা, প্রতিভা, উদ্যোগ, দক্ষতা, সাংগঠনিক ক্ষমতা।

- ‘Y’: কাচামাল, যন্ত্রপাতি, কলকারখানা।  
ক. উৎপত্তির দিক থেকে সম্পদ কয় প্রকার? ১  
খ. হস্তান্তরযোগ্যতা বলতে কী বোঝায়? ২  
গ. ‘Y’ তালিকাভুক্ত বিষয়গুলো অর্থনীতিতে কোন ধরনের সম্পদ? ব্যাখ্যা কর। ৩  
ঘ. “‘X’ ও ‘Y’ তালিকার সম্পদগুলো সৃষ্টি সমন্বয়ের মাধ্যমে দেশের অর্থনৈতিক উন্নয়ন ত্বরান্বিত করা সম্ভব”— উক্তিটিতে তোমার মতামত দাও। ৪

৩ >

প্রতিটি একক পণ্যের দাম (টাকায়)	চাহিদার পরিমাণ (একক)
৮	১৪
৬	১৮
৪	২২
২	২৬

- ক. ভোগ কাকে বলে? ১  
খ. যোগান বিধিটি ব্যাখ্যা কর। ২  
গ. উদ্দীপকে উল্লিখিত চাহিদা সূচি থেকে চাহিদা রেখা অঙ্কন করে ব্যাখ্যা কর। ৩  
ঘ. ‘ভোক্তার আয় ও রুচির পরিবর্তন হলে উদ্দীপকে উল্লিখিত বিধিটি কার্যকর হয় না’— বিশ্লেষণ কর। ৪

৪ > পরাগ মাঝি নদীতে মাছ ধরে। এ মৌসুমে প্রচুর মাছ পাওয়া গেলেও সে স্বস্তিতে নেই। মধ্যস্থত্বভোগীদের দৌরাটোর কারণে সে মাছের ভালো দাম পায় না। রফিক সাহেবের পরামর্শে পরাগ মাঝি মাছ নিয়ে ঢাকায় যাওয়ার সিদ্ধান্ত নেয় এবং ঢাকায় মাছ বিক্রি করে পরাগ মাঝি এ বছর বেশ লাভবান হয়।

- ক. উৎপাদনের উপকরণ কতটি? ১  
খ. প্রকাশ্য ব্যয় বলতে কী বোঝায়? ২  
গ. পরাগ মাঝির কাজটি কোন ধরনের উপযোগ সৃষ্টি করেছে তা ব্যাখ্যা কর। ৩  
ঘ. ন্যায্য মজুরি পেতে পরাগ মাঝির সিদ্ধান্তটির গুরুত্ব মূল্যায়ন কর। ৪

৫ > সাদিয়া ও শিখন অসুস্থ থাকায় বেশ কয়েক দিন স্কুলে যেতে পারেনি। এ সময় ক্লাসে শিক্ষক জাতীয় আয় সম্পর্কিত অধ্যয়ন আলোচনা করেছেন। এ বিষয়টি তারা দুজনে সহপাঠি এ্যানির নিকট থেকে আলোচনা শুনে ভালো ধারণা লাভ করে। এ্যানি তাদের বুঝিয়ে দেয় যে, উৎপাদনের চারটি উপকরণের আয় একত্র করে মোট দেশজ উৎপাদন নির্ণয় সম্ভব।

- ক. GNI-এর পূর্ণরূপ লেখ। ১  
খ. মোট জাতীয় আয় ও নিট জাতীয় আয়ের মধ্যে পার্থক্য কী? ২  
গ. এ্যানি জাতীয় আয় নির্ণয়ের যে পদ্ধতির কথা বলেছে তা ব্যাখ্যা কর। ৩  
ঘ. “উদ্দীপকে উল্লিখিত পদ্ধতি জাতীয় আয় পরিমাপের একমাত্র পদ্ধতি নয়”— উক্তিটি ব্যাখ্যা কর। ৪

৬ > মজনু মিয়া একজন গরিব কৃষক। জীবিকা নির্বাহের জন্য একমাত্র কৃষিকাজই তার পেশা। সারাবছর কৃষিকাজ না থাকায় একটি নির্দিষ্ট সময় সে বেকার থাকে। মজনু মিয়ার দেশের মোট জাতীয় আয়ের বড় অংশ কৃষি খাত থেকে আসে। কিন্তু এদেশে এখনও সনাতন পদ্ধতিতে জমি চাষাবাদ করা হয়। ফলে দেশটির উন্নয়ন সম্ভাব্যজনক নয় এবং মাথাপিছু আয় কম।

- ক. বেকারত্ব কাকে বলে? ১  
খ. অর্থনৈতিক প্রবৃদ্ধি বলতে কী বোঝায়? ২  
গ. মজনু মিয়ার বেকারত্বের ধরন উল্লেখ করে বিশ্লেষণ কর। ৩  
ঘ. মজনু মিয়ার অবস্থানকৃত দেশটির অর্থনৈতিক অবস্থার পরিবর্তন কী কী পদক্ষেপ গ্রহণ করা আবশ্যিক বলে তুমি মনে কর? ৪

৭ >

ছক-ক	ছক-খ
১. বন্ধুদের গান শোনানো	১. হকারি করা
২. শখের বশে ছবি আঁকা	২. শ্রমিকের কাজ
৩. গল্প-উপন্যাস পড়া	৩. চাষাবাদ করা

- ক. মধ্যবর্তী দ্রব্য কাকে বলে? ১  
খ. সঞ্চয় বলতে কী বোঝায়? ২  
গ. ছক-ক-এ উল্লিখিত বিষয়গুলো কোন ধরনের কার্যাবলিকে নির্দেশ করছে? ব্যাখ্যা কর। ৩  
ঘ. “ছক-খ-এ বর্ণিত কাজগুলো দেশের অর্থনীতির চাকাকে সচল রাখছে”— উক্তিটি বিশ্লেষণ কর। ৪

৮ &gt; চিত্রে আলুর যোগান সূচি দেখানো হলো :

আলুর দাম (টাকায়)	X ব্যক্তির যোগানের পরিমাণ (কেজি)	Y ব্যক্তির যোগানের পরিমাণ (কেজি)
৩০	৫ কেজি	৭ কেজি
৪০	১০ কেজি	১২ কেজি
৪৫	১৫ কেজি	১৮ কেজি
৫০	২০ কেজি	২২ কেজি

- ক. ভোগ কাকে বলে? ১  
খ. বাজার চাহিদা বলতে কী বোঝায়? ২  
গ. উদ্দীপকের তথ্যের আলোকে ‘X’ ব্যক্তির যোগান রেখা অঙ্কন কর। ৩  
ঘ. আলুর বাজার যোগান রেখা অঙ্কন করে ‘Y’ ব্যক্তির যোগান রেখার সাথে তুলনা কর। ৪

৯ > রনি এ বছর ৬ষ্ঠ শ্রেণিতে ভর্তি হয়েছে। সে স্কুল ড্রেস, স্কুল ব্যাগসহ একটি নতুন সাইকেল ক্রয় করে দেওয়ার জন্য বাবাকে বলল। পর্যাপ্ত টাকা না থাকায় বাবা ছেলে রনিকে বুঝিয়ে স্কুল ড্রেস এবং স্কুল ব্যাগ ক্রয় করে দিলেন এবং সাইকেল পরে ক্রয় করে দিবেন বললেন। রনিও বাবার সাথে সহমত পোষণ করল।

- ক. অধ্যাপক মার্শাল প্রদত্ত অর্থনীতির সংজ্ঞাটি লেখ। ১  
খ. মিশ্র অর্থব্যবস্থা বলতে কী বোঝায়? ২  
গ. উদ্দীপকের ঘটনাটি কোন অর্থনীতিবিদের সংজ্ঞার অনুরূপ? ব্যাখ্যা কর। ৩  
ঘ. “আমাদের দেশের অর্থনীতির প্রধান সমস্যা উদ্দীপকের মধ্যে নিহিত”— উক্তিটি বিশ্লেষণ কর। ৪

১০ > বাংলাদেশের অনেক নাগরিক কর্মসংস্থানের জন্য পৃথিবীর বিভিন্ন দেশে কাজ করছেন। মাসে মাসে তাদের উপার্জিত অর্থের একটা বড় অংশ দেশে বসবাসরত পরিবারের কাছে পাঠান। আবার বিদেশি অনেক নাগরিকও বাংলাদেশে ব্যবসায় পরিচালনা ও বিভিন্ন পেশায় কর্মরত আছেন। তাদের আয়ের একটি অংশ তারাও তাদের দেশে পাঠান।

- ক. CCA-এর পূর্ণরূপ লেখ। ১  
খ. মোট দেশজ উৎপাদন বলতে কী বোঝায়? ২  
গ. পৃথিবীর বিভিন্ন দেশে কর্মরত বাংলাদেশিদের আয়কৃত প্রেরিত অর্থ দেশের কোন খাতের অন্তর্ভুক্ত হবে? ব্যাখ্যা কর। ৩  
ঘ. বাংলাদেশে কর্মরত বিদেশিদের আয় GDP-এর অন্তর্ভুক্ত হবে কিনা? তোমার মতামত দাও। ৪

১১ > দৃশ্য-১ : জামাল সাহেব একটি বেসরকারি কোম্পানিতে চাকরি করতেন। কিন্তু করোনা মহামারির কারণে তার চাকরি চলে যায়। ফলে তিনি পরিবার নিয়ে গ্রামে চলে আসেন এবং কিছুদিন কর্মহীন থাকার পর স্থানীয় বাজারে একটি ব্যবসায় শুরু করেন।

দৃশ্য-২ : জরিলা বেগম একজন শিক্ষিত নারী। তিনি হস্তশিল্পে প্রশিক্ষিত ও দক্ষ হওয়ায় ক্ষুদ্র ঋণ নিয়ে তার বাড়িতে হস্তশিল্প কারখানা গড়ে তুলেছেন এবং উৎপাদিত দ্রব্য বিদেশে রপ্তানি করে বেশ আয় করছেন।

- ক. ব্র্যাক কত সালে প্রতিষ্ঠিত হয়? ১  
খ. মানবসম্পদ বলতে কী বোঝায়? ২  
গ. দৃশ্য-১-এ জামাল সাহেবের কর্মহীন অবস্থা অর্থনীতিতে কোন ধরনের বেকারত্বের নির্দেশ করছে? ব্যাখ্যা কর। ৩  
ঘ. দৃশ্য-২-এ “জরিলা বেগমের মতো নারীদের কর্মকাণ্ড দেশের অর্থনীতির চাকাকে সচল রাখছে”— উক্তিটি বিশ্লেষণ কর। ৪



৩০✓ যশোর বোর্ড ২০২২

বিষয় কোড : 141

সময় : ১ ঘণ্টা ৪০ মিনিট

অর্থনীতি সৃজনশীল প্রশ্ন

পূর্ণমান : ৪০

দ্রষ্টব্য : ডান পাশের সংখ্যা প্রশ্নের পূর্ণমান জ্ঞাপক। প্রদত্ত উদ্দীপকগুলো মনোযোগ সহকারে পড় এবং সংশ্লিষ্ট প্রশ্নগুলোর উত্তর দাও। যে কোনো চারটি প্রশ্নের উত্তর দিতে হবে।

- ১) সায়েম ইউরোপের 'A' রাষ্ট্রের একটি প্রতিষ্ঠানে দীর্ঘদিন যাবৎ কর্মরত আছেন। কথা প্রসঙ্গে তিনি বললেন, ওই দেশে শিল্প প্রতিষ্ঠান প্রতিষ্ঠা করতে সরকারের অনুমতির প্রয়োজন হয় না। আবার নিজের ইচ্ছামতো ভোগ্যপণ্য উৎপাদন করতে পারেন। এদেশে আয় বৈষম্য বিদ্যমান।
- ক. অধ্যাপক মার্শাল প্রদত্ত অর্থনীতির সংজ্ঞা দাও। ১
- খ. মানুষ প্রণোদনায় সাড়া দেয় কেন? ২
- গ. উদ্দীপকে বর্ণিত 'A' রাষ্ট্রে কোন ধরনের অর্থব্যবস্থা বিদ্যমান? ব্যাখ্যা কর। ৩
- ঘ. 'A' রাষ্ট্রের অর্থব্যবস্থার সাথে বাংলাদেশের অর্থব্যবস্থার কি কোনো মিল রয়েছে? তোমার উত্তরের সপক্ষে যুক্তি দাও। ৪

- ২) নিচের ছকটি লক্ষ কর এবং প্রশ্নগুলোর উত্তর দাও :

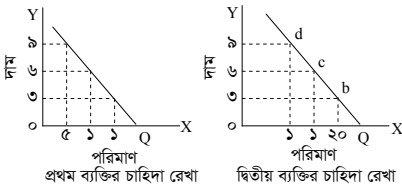
ছক-১	ছক-২
যাতায়াত ও যোগাযোগ ব্যবস্থা	প্রাকৃতিক গ্যাস
সাংগঠনিক দক্ষতা	সুন্দরবন
খনিজ সম্পদ	ভূগর্ভস্থ পানি

- ক. আয় কী? ১
- খ. হস্তান্তরযোগ্যতা বলতে কী বোঝায়? ২
- গ. ছক-১-এ নির্দেশিত সম্পদগুলোর ধরন ব্যাখ্যা কর। ৩
- ঘ. বাংলাদেশের অর্থনীতিতে ছক-২-এ নির্দেশিত সম্পদগুলোর গুরুত্ব ব্যাখ্যা কর। ৪
- ৩) সাবের আলী একজন চা বিক্রেতা। বটতলা বাজারে প্রতিদিন চা বিক্রয় করে জীবিকা নির্বাহ করে। তার সন্তানেরা প্রতিদিন টিভি দেখার জন্য পাশের বাড়িতে যায়। এতে সাবেরের মন খারাপ হয়। শীতের জন্য গত কয়েকদিন ভালো চা বিক্রি হওয়ায় তার সন্তানেরা টিভির জন্য বায়না ধরে। সে একটি টিভি ক্রয় করে।
- ক. মধ্যবর্তী দ্রব্য কী? ১
- খ. সুযোগ ব্যয় বলতে কী বোঝায়? ২
- গ. উদ্দীপকের সাবের আলীর কাজ কোন ধরনের? ব্যাখ্যা কর। ৩
- ঘ. উদ্দীপকে বর্ণিত ক্রয়কৃত টিভিটি কি অর্থনীতিতে সম্পদ? যুক্তিসহ উপস্থাপন কর। ৪

- ৪) নিচের সূচিটি লক্ষ কর এবং প্রশ্নগুলোর উত্তর দাও :

ভোগের একক	মোট উপযোগ (টাকায়)	প্রান্তিক উপযোগ
১ম	c	—
২য়	১৬	—
৩য়	২২	—
৪র্থ	২৬	—
৫ম	২৮	—
৬ষ্ঠ	২৮	—
৭ম	২৭	—

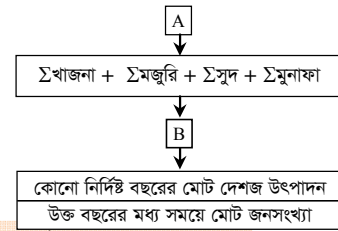
- ক. উপযোগ কাকে বলে? ১
- খ. চাহিদা বিধিটি ব্যাখ্যা কর। ২
- গ. উপরের সূচিটি পূরণ করে ব্যাখ্যা কর। ৩
- ঘ. উপরের সূচিতে ক্রমহ্রাসমান প্রান্তিক উপযোগ বিধিটি কার্যকর হয়েছে কি? চিত্রসহ ব্যাখ্যা কর। ৪
- ৫) নিচের চিত্র দেখ এবং উত্তর দাও :



- ক. ভারসাম্য দাম কী? ১
- খ. চাহিদা বলতে কী বোঝায়? ২
- গ. উদ্দীপকের আলোকে প্রথম ব্যক্তির চাহিদা সূচি তৈরি কর। ৩
- ঘ. উদ্দীপকের আলোকে বাজার চাহিদা রেখা অঙ্কন করে বিশ্লেষণ কর। ৪
- ৬) নিচের ছকটি লক্ষ কর এবং প্রশ্নগুলোর উত্তর দাও :

ভূমি	শ্রমিক নিয়োগ	উপকরণের সংমিশ্রণ	মোট উৎপাদন (মণ)	প্রান্তিক উৎপাদন (মণ)
১ বিঘা	১	A	১০	১০
১ বিঘা	২	B	২২	১২
১ বিঘা	৩	C	৩০	৮
১ বিঘা	৪	D	৩৫	৫

- ক. উৎপাদন কাকে বলে? ১
- খ. সংগঠনকে সমন্বয়কারী বলা হয় কেন? ২
- গ. উদ্দীপকে উল্লিখিত ছকের আলোকে মোট উৎপাদন ও প্রান্তিক উৎপাদনের সম্পর্ক বিশ্লেষণ কর। ৩
- ঘ. উপরের ছক থেকে চিত্রের সাহায্যে ক্রমহ্রাসমান প্রান্তিক উৎপাদন বিধিটির কার্যকারিতা ব্যাখ্যা কর। ৪
- ৭) মনিন্দ্র কুমার সোমপুর গ্রামের একজন কৃষক। তার জমিতে প্রচুর সবজি ও পিয়াজ উৎপন্ন হয়। সে মধ্যস্থত্বভোগীদের দৌরাতে ভালো দাম পায় না। তাই মনিন্দ্র কুমার হতাশায় ভোগে। একদিন উপজেলা কৃষি কর্মকর্তার পরামর্শে মনিন্দ্র কুমার সবজি ও পিয়াজ ঢাকায় নিয়ে যায় এবং ভালো দামে বিক্রয় করে। বর্তমানে সে একজন সফল কৃষক।
- ক. উৎপাদনের উপকরণ কী? ১
- খ. প্রকাশ্য ও অপ্রকাশ্য ব্যয় বলতে কী বোঝায়? ২
- গ. মনিন্দ্র কুমারের বেশি দাম পাওয়ার ক্ষেত্রে কোন ধরনের উৎপাদনের উপযোগ সৃষ্টি করছে? ব্যাখ্যা কর। ৩
- ঘ. তুমি কি মনে কর, মনিন্দ্র কুমারের ঢাকায় সবজি ও পিয়াজ বিক্রয়ের সিদ্ধান্তটি সঠিক ছিল? যুক্তিসহ আলোচনা কর। ৪
- ৮) নিচের ছকটি লক্ষ কর এবং প্রশ্নগুলোর উত্তর দাও :



- ক. CCA-এর পূর্ণরূপ লেখ। ১
- খ. উৎপাদনের উপকরণের সচলতা বলতে কী বোঝায়? ২
- গ. উদ্দীপকে 'A' অংশ GDP পরিমাপের কোন পদ্ধতিকে নির্দেশ করে? ব্যাখ্যা কর। ৩
- ঘ. উদ্দীপকে 'B' দ্বারা যা নির্দেশ করা হয় তা একটি দেশের অর্থনৈতিক উন্নয়নের গুরুত্বপূর্ণ সূচক হিসেবে ভূমিকা পালন করে।— বিশ্লেষণ কর। ৪

- ৯) ছক-১ →  $\Sigma C + \Sigma I + \Sigma G + \Sigma (X - M)$
- ছক-২ → মৎস্য সম্পদ, স্বাস্থ্য ও সামাজিক সেবা, বিদ্যুৎ, গ্যাস ও পানিসম্পদ

- ক. মোট জাতীয় আয় কী? ১
- খ. অসীম অভাব বলতে কী বোঝায়? ২
- গ. উদ্দীপকে ছক-১ দ্বারা মোট দেশজ উৎপাদন নির্ণয়ের কোন পদ্ধতিকে নির্দেশ করে? ব্যাখ্যা কর। ৩
- ঘ. উদ্দীপকে ছক-২-এর খাতগুলো বাংলাদেশের মোট দেশজ আয় পরিমাপ পদ্ধতিতে কীভাবে সম্পৃক্ত হয়? বিশ্লেষণ কর। ৪

- ১০) আসলাম তার কৃষি জমিতে প্রায় ৪০ মণ ধান উৎপাদন করতে পারে। তার বড় ছেলে কনক অন্য কোনো কাজ না পেয়ে তার সাথেই ধান উৎপাদনের কাজে নিয়োজিত হয়। কিন্তু তাতে উৎপাদনের পরিমাণ একই থেকে যায়। তাই কনক যুব উন্নয়ন প্রশিক্ষণ কেন্দ্র থেকে প্রশিক্ষণ নিয়ে একটি গরুর খামার স্থাপন করে। সে খামারে আরও পাঁচজন লোক নিয়োগ দেয়।

- ক. অর্থনৈতিক প্রবৃদ্ধি কী? ১
- খ. দক্ষ জনশক্তি বলতে কী বোঝায়? ২
- গ. কনকের প্রথম দিকের বেকারত্বের প্রকৃতি ব্যাখ্যা কর। ৩
- ঘ. “কনকের পরবর্তী কার্যক্রমটি দেশের অর্থনীতিতে গুরুত্বপূর্ণ ভূমিকা রাখতে সক্ষম”— বিশ্লেষণ কর। ৪

- ১১) দৃশ্যকল্প-১ : রানা যে দেশে বাস করে সে দেশের মাথাপিছু আয় ছিল খুবই কম, যোগাযোগ ব্যবস্থা অনুন্নত এবং সে দেশের শিল্প খাতও পিছিয়ে।

- দৃশ্যকল্প-২ : রফিকের দেশের আর্থসামাজিক অবস্থা উন্নতির দিকে অগ্রসর হচ্ছে। তার দেশে শিল্পের ক্রমাগত উন্নতি। প্রাকৃতিক সম্পদের অপূর্ণ ব্যবহার ও উদ্যোক্তার অভাব বিদ্যমান।

- ক. দারিদ্র্য কী? ১
- খ. দারিদ্র্যের দুস্তচক্রের ধারণাটি ব্যাখ্যা কর। ২
- গ. দৃশ্যকল্প-১-এ রানার দেশটি অর্থনৈতিক উন্নয়নের কোন শ্রেণির দেশ? ব্যাখ্যা কর। ৩
- ঘ. রানার দেশকে রফিকের দেশের পর্যায়ে উন্নীত করতে কী কী পদক্ষেপ গ্রহণ করা প্রয়োজন বলে তুমি মনে কর? যুক্তিসহ বিশ্লেষণ কর। ৪

## ৩১ কুমিল্লা বোর্ড ২০২২

বিষয় কোড : I 4 I

সময় : ১ ঘণ্টা ৪০ মিনিট

অর্থনীতি সৃজনশীল প্রশ্ন

পূর্ণমান : ৪০

দ্রষ্টব্য : ডান পাশের সংখ্যা প্রশ্নের পূর্ণমান জ্ঞাপক। প্রদত্ত উদ্দীপকগুলো মনোযোগ সহকারে পড় এবং সংশ্লিষ্ট প্রশ্নগুলোর উত্তর দাও। যে কোনো চারটি প্রশ্নের উত্তর দিতে হবে।

- ১ ▶ ঘটনা-১ : রীমাকে তার আশু বলল, এবার যদি পরীক্ষায় ভালো করতে পার তবে তোমাকে একটা ল্যাপটপ কিনে দেব। স্কুলের অনলাইন ক্লাসগুলো ভালোভাবে করার আনন্দে রীমা খেলা ও টিভি দেখা কমিয়ে বেশি লেখাপড়া শুরু করে। পাশের বাসা থেকে ল্যাপটপ ধার আনতে তার মোটেও ভালো লাগে না।
- ঘটনা-২ : রিকশাচালক মজনুর মুখে মাস্ক ছিল না বলে ট্রাফিক পুলিশ তার কাছ থেকে পঞ্চাশ টাকা জরিমানা আদায় করে। জরিমানার ভয়ে মজনু বাজারে গেল তার পরিবারের সকলের জন্য মাস্ক কিনতে। বাজারে গিয়ে দেখল, বিক্রেতারা সরকারি নীতির কথা শুনে মাস্কের দাম কয়েকগুণ বাড়িয়ে দিয়েছে। সে জনপ্রতি ৭টা মাস্ক কিনে বাসায় ফিরল।
- ক. অধ্যাপক মার্শাল কর্তৃক প্রদত্ত অর্থনীতির সংজ্ঞাটি লেখ। ১
- খ. সীমিত সম্পদ দিয়ে মানুষের সব অভাব পূরণ হয় না কেন? ব্যাখ্যা কর। ২
- গ. ঘটনা-১-এ অর্থনীতির কোন নীতিটি প্রকাশ পেয়েছে? ব্যাখ্যা কর। ৩
- ঘ. ঘটনা-২-এর সমস্যাটি নিরসনে সরকার কীভাবে মজনু মিয়াদের সাহায্য করতে পারে? মতামত দাও। ৪
- ২ ▶ পলি ঈদে পঞ্চাশ হাজার টাকা বোনাস পেয়েছে। এই টাকা দিয়ে সে নিজে ব্যবহার করার জন্য স্মার্টফোন কিনতে পারে। আবার সন্তানদের জন্য একটি ২০ ইঞ্চি স্মার্ট টিভি কিনতে পারে। অনেক ভেবেচিন্তে সে সন্তানদের জন্য স্মার্ট টিভি কিনল।
- ক. আয় কাকে বলে? ১
- খ. মানুষ আয়ের একটা অংশ আর্থিক প্রতিষ্ঠানে রেখে দেয় কেন? ব্যাখ্যা কর। ২
- গ. সম্পদের শ্রেণিবিন্যাস অনুযায়ী পলি ঈদে কোন শ্রেণির সম্পদ ক্রয় করেছে? ব্যাখ্যা কর। ৩
- ঘ. তুমি কি মনে কর, পলির দ্রব্য ক্রয়ের ঘটনাটি 'সম্পদের স্বল্পতার ধারণাকে সমর্থন করে? যুক্তি দাও। ৪
- ৩ ▶ নিচের সূচিতে বিভিন্ন দামে চালের চাহিদার পরিমাণ দেওয়া হলো :
- | প্রতি একক চালের দাম (টাকায়) | রনির চাহিদার (Q <sub>1</sub> ) পরিমাণ (কুইন্টাল) | জনির চাহিদার (Q <sub>2</sub> ) পরিমাণ (কুইন্টাল) | বাজার চাহিদা (Q <sub>1</sub> + Q <sub>2</sub> ) দ্রব্যের পরিমাণ (কুইন্টাল) |
|------------------------------|--------------------------------------------------|--------------------------------------------------|----------------------------------------------------------------------------|
| ৩০                           | ৫                                                | ৬                                                | ১১                                                                         |
| ২৫                           | ১০                                               | ১০                                               | ২০                                                                         |
| ২০                           | ১৫                                               | ১৪                                               | ২৯                                                                         |
- ক. অর্থনীতিতে ভোগ কাকে বলে? ১
- খ. মোট উপযোগ কীভাবে বাড়বে? ব্যাখ্যা কর। ২
- গ. চালের চাহিদা সৃষ্টি থেকে রনির চাহিদা রেখা অঙ্কন কর। ৩
- ঘ. চালের বাজার চাহিদা রেখা অঙ্কন করে রনির চাহিদা রেখার সাথে তুলনা কর। ৪
- ৪ ▶ শামীম সাহেব 'ক' দেশে একটি কোম্পানির মালিক। উৎপাদন ব্যবস্থায় সরকারের কোনো নিয়ন্ত্রণ নেই। তার ছোট ভাই 'খ' দেশে একটি চিনির কলের মালিক। দেশে বর্তমানে সরকারি মালিকানায চিনির কলও রয়েছে।
- ক. অধ্যাপক এল. রবিন প্রদত্ত অর্থনীতির সংজ্ঞা দাও। ১
- খ. সম্পদের দুঃস্বাপ্যতা বলতে কী বোঝায়? ২
- গ. শামীম সাহেব যে দেশে বাস করে সে দেশের অর্থব্যবস্থার ধরন উল্লেখ করে ব্যাখ্যা কর। ৩
- ঘ. উদ্দীপকে উল্লিখিত 'ক' এবং 'খ' দেশের অর্থনৈতিক ব্যবস্থার তুলনা কর। ৪
- ৫ ▶ আকিবের দেশে নির্দিষ্ট সময়ে উৎপাদিত কৃষি, শিল্প ও সেবা খাতের মোট মূল্য যোগ করে জাতীয় আয় নির্ধারণ করা হয়। অন্যদিকে সাকিবের দেশে নির্দিষ্ট সময়ে উৎপাদিত পণ্যের খরচ যোগ করে জাতীয় আয় নির্ধারণ করা হয়।
- ক. জাতীয় আয় কী? ১
- খ. অর্থনৈতিক প্রবৃদ্ধি বলতে কী বোঝায়? ২
- গ. আকিবের দেশে জাতীয় আয় পরিমাপ পদ্ধতি ব্যাখ্যা কর। ৩
- ঘ. উদ্দীপকে উল্লিখিত দুই দেশের জাতীয় আয় পরিমাপ পদ্ধতির মধ্যে কোনটিকে তুমি সমর্থন কর? মতামত বিশ্লেষণ কর। ৪
- ৬ ▶ 'X' দেশে এক বছরে দুই লক্ষ কুইন্টাল ধান, ২০ হাজার কুইন্টাল পাট, দুই লক্ষ পোশাক উৎপাদিত হয়। উৎপাদিত দ্রব্যগুলোর বাজার দাম নিম্নরূপ :
- | ধান প্রতি কুইন্টাল | ২ হাজার টাকা। | পাট প্রতি কুইন্টাল | ২ হাজার টাকা। | পোশাক প্রতিটি | ২ হাজার টাকা। |
|--------------------|---------------|--------------------|---------------|---------------|---------------|
|--------------------|---------------|--------------------|---------------|---------------|---------------|

- ক. মোট দেশজ উৎপাদন কী? ১
- খ. মোট জাতীয় আয় ও নিট জাতীয় আয়ের মধ্যে পার্থক্য কী? ২
- গ. উদ্দীপকে উল্লিখিত তথ্যের ভিত্তিতে কীভাবে 'X' দেশটির মোট দেশজ উৎপাদন নিরূপণ করা যায়? ব্যাখ্যা কর। ৩
- ঘ. উদ্দীপকে উল্লিখিত কোন দ্রব্যগুলোর খাত বাংলাদেশের অর্থনীতিতে অধিকতর ভূমিকা রাখে? বিশ্লেষণ কর। ৪
- ৭ ▶ মনির দেশের বিভিন্ন এলাকা থেকে ভালো কাঠ নিয়ে ফার্নিচার তৈরি করে। তার নেটে একটি পেজ রয়েছে। নাম 'মনির ডটকম'। তার সাথে ২০ জন কর্মচারী ফার্নিচার তৈরি করে। দিন দিন তার ফার্নিচার তৈরির চাহিদা বৃদ্ধির ফলে আরও কর্মচারী বাড়াতে হয়। 'ফার্নিচার মেলায়' তার স্টলটি প্রথম পুরস্কার পায়।
- ক. শ্রম কাকে বলে? ১
- খ. বাংলাদেশে উৎপাদন ব্যবস্থায় মূলধনের তুলনায় ভূমি ও শ্রমের গুরুত্ব বেশি কেন? ব্যাখ্যা কর। ২
- গ. মনির কাঠের কোন ধরনের উপযোগ সৃষ্টি করে? ব্যাখ্যা কর। ৩
- ঘ. "মনির একজন সফল সংগঠক"— মতামত দাও। ৪
- ৮ ▶ মিসেস সাদিয়া একটি বেসরকারি স্কুলে পাঠদান করেন এবং একটি বুটিক্‌স্‌ শপ পরিচালনা করেন। মিসেস আফিয়া বাসায় রান্না করেন। সন্তানকে লেখাপড়ার কাজে সাহায্য করেন। কাজের ফাঁকে টিভি দেখেন। ছুটির দিনে সন্তানকে নিয়ে পার্কে ঘুরতে যান।
- ক. অর্থনৈতিক দ্রব্য কী? ১
- খ. সুযোগ ব্যয় বলতে কী বোঝায়? ২
- গ. মিসেস সাদিয়ার কাজগুলো কোন ধরনের ব্যাখ্যা কর। ৩
- ঘ. মিসেস সাদিয়া ও মিসেস আফিয়া কর্তৃক সম্পাদিত কাজের তুলনামূলক বিশ্লেষণ কর। ৪
- ৯ ▶
- | বেকারত্ব | ১ | → রহমান মিয়া ৫টি বেতের চেয়ার তৈরি করেন।<br>→ রহমান মিয়া, তার স্ত্রী ও দুই মেয়ে মিলে ও<br>→ ৫টি বেতের চেয়ার তৈরি করেন।<br>→ মা ও দুই মেয়ের উৎপাদনশীলতা শূন্য। |
|----------|---|--------------------------------------------------------------------------------------------------------------------------------------------------------------------|
| বেকারত্ব | ২ | → সামি একটি বেসরকারি স্কুলের শিক্ষক।<br>→ কোভিড-১৯ মহামারির কারণে বেতন বন্ধ হয়ে<br>→ গেলে কিছুদিন পর সামি ফল বিক্রি শুরু                                          |
- ক. মানবসম্পদ কাকে বলে? ১
- খ. দেশে কারিগরি শিক্ষার প্রসার ঘটানো দরকার কেন? ব্যাখ্যা কর। ২
- গ. ২নং বেকারত্ব কোন ধরনের ব্যাখ্যা কর। ৩
- ঘ. ১নং বেকারত্বের সঙ্গে ২নং বেকারত্বের তুলনামূলক আলোচনা কর। ৪
- ১০ ▶ আব্বাস দীর্ঘদিন সৌদি আরবে নির্মাণ শ্রমিক হিসেবে কাজ করে। সে তার উপার্জনের টাকা পরিবারের জন্য দেশে পাঠায়। আব্বাসের পরিবারের বসবাসের এলাকায় একটি বেসরকারি প্রতিষ্ঠানে কোরিয়ার অধিবাসী সুমুকি কাজ করে। সেও তার উপার্জিত টাকা কোরিয়ায় পাঠিয়ে দেয়।
- ক. GDP-এর পূর্ণরূপ কী? ১
- খ. সরকারি খণ্ডের বিপরীতে যে সুদ দেওয়া হয় তা জিডিপি থেকে বাদ দেওয়া হয় কেন? ২
- গ. আব্বাসের প্রেরিত অর্থ কীভাবে জাতীয় আয়ে সংযুক্ত হবে? ব্যাখ্যা কর। ৩
- ঘ. তুমি কি মনে কর, সুমুকির আয় বাংলাদেশের জাতীয় আয় বাড়াবে? মতামত দাও। ৪
- ১১ ▶ করিম মিয়া একজন পিয়াজ ব্যবসায়ী। তিনি বিভিন্ন দামে পিয়াজের বিভিন্ন পরিমাণ বাজারে যোগান দেন। করিম মিয়ার পিয়াজের যোগান ও চাহিদা সূচি নিম্নরূপ :
- | প্রতি একক দ্রব্যের দাম (টাকায়) | যোগানের পরিমাণ (কুইন্টালে) | চাহিদার পরিমাণ (একক) |
|---------------------------------|----------------------------|----------------------|
| ৩০.০০                           | ৩০                         | ১০                   |
| ৪০.০০                           | ৪০                         | ৮                    |
| ৫০.০০                           | ৫০                         | ৬                    |
| ৬০.০০                           | ৬০                         | ৪                    |
- ক. ভারসাম্য দাম কী? ১
- খ. উপযোগকে কীভাবে ভোগ্যপণ্য থেকে পৃথক করবে? ২
- গ. করিম মিয়ার পিয়াজের যোগান রেখা অঙ্কন করে ব্যাখ্যা কর। ৩
- ঘ. "করিম মিয়ার আচরণে দাম ও চাহিদার মধ্যে বিপরীতমুখী সম্পর্ক প্রকাশ পেয়েছে।"— বিশ্লেষণ কর। ৪

৩২ চতুর্থাম বোর্ড ২০২২

বিষয় কোড : 141

সময় : ১ ঘণ্টা ৪০ মিনিট

অর্থনীতি সৃজনশীল প্রশ্ন

পূর্ণমান : ৪০

দ্রষ্টব্য : ডান পাশের সংখ্যা প্রশ্নের পূর্ণমান জ্ঞাপক। প্রদত্ত উদ্দীপকগুলো মনোযোগ সহকারে পড় এবং সংশ্লিষ্ট প্রশ্নগুলোর উত্তর দাও। যে কোনো চারটি প্রশ্নের উত্তর দিতে হবে।

১। 'P' ব্যক্তির ইলিশ মাছের চাহিদার একটি ছক নিচে দেওয়া হলো :

প্রতি কেজি ইলিশের দাম (টাকায়)	চাহিদার পরিমাণ (কেজি)
৮০০	১
৭০০	২
৬০০	৩
৫০০	৪

- ক. অর্থনীতিতে চাহিদার শর্ত কতটি? ১
- খ. মোট উপযোগ ও প্রান্তিক উপযোগ বলতে কী বোঝায়? ২
- গ. উদ্দীপকের তথ্য ব্যবহার করে 'P' ব্যক্তির ইলিশের চাহিদা রেখা অঙ্কন কর। ৩
- ঘ. উদ্দীপকে উল্লিখিত ব্যক্তির আয় বৃদ্ধি পেলে চাহিদা রেখার কোনো পরিবর্তন হবে কি? মতামত দাও। ৪
- ২। নিহাল ও নাহিদ দুই ভাই। নিহাল একটি সরকারি প্রতিষ্ঠানে চাকরি করেন। নাহিদ একটি বেসরকারি প্রতিষ্ঠানে চাকরি করেন। নিহালের চেয়ে নাহিদ বেশি টাকা বেতন পান। নিহাল ও নাহিদের চাচাতো ভাই অন্য একটি দেশে পড়ালেখা করে সেখানেই চাকরি করেন। সেখানে উৎপাদন ও বন্টন কেন্দ্রীয়ভাবে পরিচালিত হয় এবং ভোক্তার স্বাধীনতার অভাব পরিলক্ষিত হয়।
- ক. 'অর্থশাস্ত্র' গ্রন্থটি কার লেখা? ১
- খ. ইসলামি অর্থব্যবস্থার বৈশিষ্ট্যগুলো লেখ। ২
- গ. উদ্দীপকে নিহাল ও নাহিদের দেশে কোন ধরনের অর্থব্যবস্থা বিদ্যমান? ব্যাখ্যা কর। ৩
- ঘ. নিহাল ও নাহিদের চাচাতো ভাইয়ের কর্মরত দেশের বিদ্যমান অর্থব্যবস্থা জনসাধারণের আর্থসামাজিক উন্নয়নে কতটুকু সহায়ক বলে তুমি মনে কর? ৪
- ৩। চার সন্তানের জননী রহিমা বেগম পারিবারিক যাবতীয় কাজ দেখাশোনা করতেন। তার পরিবারের একমাত্র উপার্জনকারী স্বামী কোভিড-১৯-এ আক্রান্ত হয়ে মৃত্যুবরণ করেন। রহিমা বেগম আর্থিক সংকট দূর করার জন্য সেলাই কাজের প্রশিক্ষণ নিয়ে অর্থ উপার্জনের মাধ্যমে সংসার পরিচালনা করেন।
- ক. মূলধনী দ্রব্য কাকে বলে? ১
- খ. 'সুযোগ ব্যয়'-এর ধারণাটি ব্যাখ্যা কর। ২
- গ. রহিমা বেগমের প্রথমদিকে কাজগুলো অর্থনীতিতে কোন ধরনের কাজ নির্দেশ করে? ব্যাখ্যা কর। ৩
- ঘ. "রহিমা বেগমের শেষের কাজটি পারিবারিক নিরাপত্তা ও কর্মসংস্থান সৃষ্টিতে সহায়ক ভূমিকা পালন করবে" - উক্তিটিতে তোমার মতামত দাও। ৪
- ৪। ঘটনা-১ : মিষ্টি ব্যবসায়ী মানিক মিয়া ময়মনসিংহের মুক্তাগাছা থেকে বিখ্যাত 'মণ্ডা' টাকায় নিয়ে বিক্রি করেন এবং আর্থিকভাবে সচ্ছল হয়ে ওঠেন।
- ঘটনা-২ : এ বছর ধানের মৌসুমে বাম্পার ফলন হওয়ায় বাজারে ধানের দাম কম। তাই কৃষক সাজন মিয়া ধান বিক্রি না করে কিছুদিন মজুত করে রাখেন। পরে দাম বাড়লে ধান বিক্রি করে তিনি বেশি টাকা লাভবান হন।
- ক. উৎপাদনের উপকরণ কতটি? ১
- খ. কর্তব্য বন্টন বলতে কী বোঝায়? ২
- গ. ঘটনা-২-এ সৃষ্ট কাজটি অর্থনীতিতে উৎপাদনের কোন ধরনের উপযোগ সৃষ্টি করে? ব্যাখ্যা দাও। ৩
- ঘ. "উদ্দীপকের মানিক মিয়া ও সাজন মিয়ার কর্মকাণ্ড দেশের অর্থনীতিকে সমৃদ্ধ করছে" - উক্তিটির যথার্থতা নিরূপণ কর। ৪
- ৫। দৃশ্য-১ : একটি দেশের ১ বছরের কাগনিক চিত্র দেখানো হলো :  
ভোগ = ১০০ কোটি, বিনিয়োগ = ৫০০ কোটি, সরকারি ব্যয় = ৭০০ কোটি, রপ্তানি আয় = ২০০ কোটি, আমদানি ব্যয় = ৩০০ কোটি টাকা।
- দৃশ্য-২ : জনাব তানজিল সাহেব অর্থনীতি ক্লাসে জিডিপি নির্ণয়ের পদ্ধতি নিয়ে আলোচনা করেন। তিনি শিক্ষার্থীদের উদ্দেশ্যে বলেন, যদি তোমরা উৎপাদনের উপকরণগুলোর আয় যোগ কর তবে সহজেই আমাদের দেশের জিডিপি নির্ণয় করতে পারবে।
- ক. নিট জাতীয় আয় কাকে বলে? ১
- খ. দারিদ্র্যের দুইচক্র ধারণাটি ব্যাখ্যা কর। ২
- গ. জনাব তানজিল সাহেব জিডিপি নির্ণয়ের কোন পদ্ধতির কথা বলেছেন? ব্যাখ্যা কর। ৩
- ঘ. দৃশ্য-১ দেশের আমদানি ব্যয় ৩০০ কোটি টাকার বদলে ৭০০ কোটি টাকা হলে দেশের অর্থনীতিতে কোনো প্রভাব পড়বে কি? আলোচনা কর। ৪
- ৬। আব্দুল মজিদ একজন কৃষক। তার ৩ ছেলে রয়েছে যারা শিক্ষিত কিন্তু বেকার। আব্দুল মজিদ ১ বিঘা জমিতে ধান চাষ করে ৫০ মণ ধান উৎপাদন করেন। তিনি ৩ ছেলেকে চাষের কাজে সম্পৃক্ত করায় ওই একই পরিমাণ জমিতে ৫০ মণ ধানই উৎপাদন হয়। তাতে তার কোনো বিশেষ লাভ হয় না।

- ক. অর্থনৈতিক প্রবৃদ্ধি কাকে বলে? ১
- খ. অর্থনৈতিক উন্নয়ন বলতে কী বোঝায়? ২
- গ. উদ্দীপকে আব্দুল মজিদের ছেলের মাঝে কোন ধরনের বেকারত্ব পরিলক্ষিত হয়? ব্যাখ্যা কর। ৩
- ঘ. উক্ত বেকারত্ব দূরীকরণে কোন কোন পদক্ষেপ গ্রহণ করা যেতে পারে? তোমার পরামর্শ দাও। ৪
- ৭। 'R' দ্রব্যের যোগান সূচি নিম্নরূপ :
- | দ্রব্যের দাম (টাকায়) | যোগানের পরিমাণ (একক) |
|-----------------------|----------------------|
| ২                     | ৮                    |
| ৪                     | ১২                   |
| ৬                     | ১৬                   |
| ৮                     | ২৯                   |
- ক. ভোক্তা কাকে বলে? ১
- খ. জিডিপি নির্ণয়ে কোন মাধ্যমিক দ্রব্যকে বিবেচনা করা হয় না? ব্যাখ্যা কর। ২
- গ. 'R' দ্রব্যের যোগান রেখা অঙ্কন করে ব্যাখ্যা কর। ৩
- ঘ. তোমার অঙ্কিত যোগান রেখাটি সবসময় কি একই রকম থাকবে? মতামত দাও। ৪
- ৮। দৃশ্যকল্প-১ : মি. সেলিম কাতারে একটি প্রতিষ্ঠানে কর্মরত। তিনি বাংলাদেশে তার পরিবারের জন্য মাসে ৫০,০০০ হাজার টাকা প্রেরণ করেন।
- দৃশ্যকল্প-২ : মি. জন একজন কোরিয়ান প্রকৌশলী। তিনি বাংলাদেশের নির্মাণাধীন বড় বড় স্থাপনায় কাজ করেন। তিনি ও তার পরিবারের জন্য আয়ের একটি অংশ নিজ দেশে পাঠিয়ে দেন।
- ক. GNI-এর পূর্ণরূপ লেখ। ১
- খ. মোট দেশজ উৎপাদন বলতে কী বোঝায়? ২
- গ. মি. সেলিমের প্রেরিত অর্থ জাতীয় আয় পরিমাপে কোন খাতের অন্তর্ভুক্ত হবে? ব্যাখ্যা কর। ৩
- ঘ. মি. জন-এর আয় বাংলাদেশের জাতীয় আয়ে সম্পৃক্ত হবে কি? তোমার মতামত দাও। ৪
- ৯। দৃশ্য-১ : 'ক' নামক রাষ্ট্র প্রাকৃতিক সম্পদে সমৃদ্ধ, পর্যাপ্ত মূলধন আছে এবং স্থিতিশীল রাজনৈতিক অবস্থা বিদ্যমান।
- দৃশ্য-২ : 'খ' নামক রাষ্ট্রে 'ক' নামক রাষ্ট্রের ঠিক বিপরীত অবস্থা বিরাজ করছে। তবে পরিকল্পিত কর্মসূচির মাধ্যমে কোনো কোনো ক্ষেত্রে ক্রমান্বিত হচ্ছে।
- ক. বেকারত্ব কাকে বলে? ১
- খ. কীভাবে মানবসম্পদ উন্নয়ন করা যায়? ব্যাখ্যা কর। ২
- গ. 'খ' নামক দেশটি উন্নয়নের মাপকাঠিতে কোন শ্রেণির দেশের অন্তর্ভুক্ত? ব্যাখ্যা দাও। ৩
- ঘ. 'খ' দেশকে 'ক' দেশের পর্যায়ে উন্নীত করতে হলে কী কী পদক্ষেপ গ্রহণ করতে হবে বলে তুমি মনে কর? আলোচনা কর। ৪
- ১০। সাগর পাড়ে অরনির দাদুর বাড়ি। সাগরের পানি, মুক্ত মাঠের হাওয়া, সূর্যের আলো প্রভৃতি দেখে সে মুগ্ধ হয়। অরনি দাদুকে বলে, এই প্রকৃতির উপাদানগুলো আমাদের সম্পদ। প্রত্যন্তরে তার দাদু বলেন, এগুলো সম্পদ হলেও অর্থনৈতিক দৃষ্টিকোণ থেকে সম্পদ নয়।
- ক. চূড়ান্ত দ্রব্য কাকে বলে? ১
- খ. বাংলাদেশের প্রাণিজসম্পদ সম্পর্কে বর্ণনা দাও। ২
- গ. উল্লিখিত প্রকৃতির উপাদানগুলো অর্থনৈতিক দৃষ্টিকোণ থেকে সম্পদ নয় কেন? ব্যাখ্যা কর। ৩
- ঘ. উদ্দীপকে উল্লিখিত অরনির বর্ণনাকৃত প্রকৃতির উপাদানগুলোকে কীভাবে সম্পদে পরিণত করা সম্ভব বলে তুমি মনে কর? ৪
- ১১। রবিন কৃষি বিশ্ববিদ্যালয় থেকে লেখাপড়া শেষ করে চাকরির খোঁজ না করে নিজে কিছু করবেন বলে সিদ্ধান্ত নেন। তিনি বেশ কিছু ছেলেমেয়েদেরকে যুব উন্নয়ন প্রশিক্ষণ কেন্দ্র থেকে প্রশিক্ষণ নেওয়ার ব্যবস্থা করেন। প্রশিক্ষণ শেষে তাদেরকে কাজে লাগিয়ে তিনি কয়েকটি পুকুরে মাছ চাষ করান, গরু মোটাজাকরণের একটি খামার গড়ে তোলেন এবং মেয়েদের দিয়ে তিনি সেলাই মেশিনের একটি ছোট কারখানা স্থাপন করেন। তার এই উদ্যোগে তিনি নিজে সফলতার পাশাপাশি অন্যদেরকেও প্রতিষ্ঠিত করছেন।
- ক. উৎপাদন কাকে বলে? ১
- খ. প্রকাশ্য ব্যয় ও অপ্রকাশ্য ব্যয় বলতে কী বোঝায়? ২
- গ. উৎপাদন ক্ষেত্রে রবিন কোন ভূমিকা পালন করছেন? ব্যাখ্যা কর। ৩
- ঘ. দেশের আর্থসামাজিক অবস্থার উন্নয়নে রবিনের কাজের মূল্যায়ন কর। ৪

## ৩৩ সিলেট বোর্ড ২০২২

বিষয় কোড : 141

সময় : ১ ঘণ্টা ৪০ মিনিট

## অর্থনীতি সৃজনশীল প্রশ্ন

পূর্ণমান : ৪০

দ্রষ্টব্য : ডান পাশের সংখ্যা প্রশ্নের পূর্ণমান জ্ঞাপক। প্রদত্ত উদ্দীপকগুলো মনোযোগ সহকারে পড় এবং সংশ্লিষ্ট প্রশ্নগুলোর উত্তর দাও। যে কোনো চারটি প্রশ্নের উত্তর দিতে হবে।

১▶ শামীম সাহেব 'ক' দেশে একটি কোম্পানির মালিক। উৎপাদন ব্যবস্থায় সরকারের কোনো নিয়ন্ত্রণ নেই। তার ছোট ভাই 'খ' দেশে একটি চিনির কলের মালিক। দেশে বর্তমানে সরকারি মালিকানায চিনির কলও রয়েছে।

- ক. অধ্যাপক এল. রবিন প্রদত্ত অর্থনীতির সংজ্ঞা দাও। ১  
খ. সম্পদের দুঃস্বাপত্য বলতে কী বোঝায়? ২  
গ. শামীম সাহেব যে দেশে বাস করেন সে দেশের অর্থব্যবস্থার ধরন উল্লেখ করে ব্যাখ্যা কর। ৩  
ঘ. উদ্দীপকে উল্লিখিত 'ক' এবং 'খ' দেশের অর্থনৈতিক ব্যবস্থার তুলনা কর। ৪

২▶ স্কয়ার ফার্মসিউটিক্যালস, রহমান সাহেবের পরিবার, ওষুধের বাজার, ডাক্তারের চিকিৎসাসেবা, উৎপাদনের উপকরণের বাজার।

- ক. মুদ্রাস্ফীতি কী? ১  
খ. বাজারে কীভাবে দ্রব্যের দাম নির্ধারিত হয়? ২  
গ. উদ্দীপকের বিষয়গুলো তোমার পাঠ্যবইয়ের কোন প্রবাহের সাথে সম্পর্কিত? চিত্রটি অঙ্কন করে ব্যাখ্যা কর। ৩  
ঘ. “উল্লিখিত বিষয়গুলোর মধ্যে আন্তর্জাতিক বা বাংলাদেশের অর্থনীতিকে সচল রাখে।” – মতামত দাও। ৪

৩▶ মিসেস সাদিয়া একটি বেসরকারি স্কুলে পাঠদান করেন এবং একটি কুটিকস্ শপ পরিচালনা করেন। মিসেস আফিয়া বাসায় রান্না করেন, সন্তানকে লেখাপড়ার কাজে সাহায্য করেন, কাজের ফাঁকে টিভি দেখেন। ছুটির দিনে সন্তানকে নিয়ে পার্কে ঘুরতে যান।

- ক. অর্থনৈতিক দ্রব্য কী? ১  
খ. সুযোগ ব্যয় বলতে কী বোঝায়? ২  
গ. মিসেস সাদিয়ার কাজগুলো কোন ধরনের? ব্যাখ্যা কর। ৩  
ঘ. মিসেস সাদিয়া ও মিসেস আফিয়া কর্তৃক সম্পাদিত কাজের তুলনামূলক বিশ্লেষণ কর। ৪

৪▶ সেলিম সাহেব ৩০,০০০ টাকা বেতনে একটি প্রাইভেট ফার্মে চাকরি করেন। পরিবারের ভরণপোষণ মেটানোর পর প্রতি মাসে ৫,০০০ টাকা করে ব্যাংকে রাখেন। ৫ বছর পর তিনি জমাকৃত অর্থ ব্যবসায় খাটানোর পরিকল্পনা করেন।

- ক. অর্থনীতিতে পণ্য কী? ১  
খ. অধ্যাপক এল. রবিন প্রদত্ত অর্থনীতির সংজ্ঞা সবচেয়ে বেশি গ্রহণযোগ্য কেন? ব্যাখ্যা কর। ২  
গ. সেলিম সাহেবের ব্যাংকে টাকা রাখার বিষয়টি অর্থনীতির কোন ধারণাকে নির্দেশ করে? ব্যাখ্যা কর। ৩  
ঘ. “সেলিম সাহেবের ব্যবসায় খাটানো অর্থ অর্থনৈতিক সমৃদ্ধি আনতে সহায়ক” – ব্যাখ্যা কর। ৪

৫▶ করিম মিয়া একজন পিয়াজ ব্যবসায়ী। তিনি বিভিন্ন দামে পিয়াজের বিভিন্ন পরিমাণ বাজারে যোগান দেন। করিম মিয়ার পিয়াজের যোগান ও চাহিদা সূচি নিম্নরূপ :

প্রতি একক দ্রব্যের দাম (টাকায়)	যোগানের পরিমাণ (কুইন্টাল)	চাহিদার পরিমাণ (একক)
৩০.০০	৩০	১০
৪০.০০	৪০	৮
৫০.০০	৫০	৬
৬০.০০	৬০	৪

- ক. ভারসাম্য দাম কী? ১  
খ. উপযোগকে কীভাবে ভোগ্যপণ্য থেকে পৃথক করবে? ২  
গ. করিম মিয়ার পিয়াজের যোগান রেখা অঙ্কন করে ব্যাখ্যা কর। ৩  
ঘ. “করিম মিয়ার আচরণে দাম ও চাহিদার মধ্যে বিপরীতমুখী সম্পর্ক প্রকাশ পেয়েছে।” – বিশ্লেষণ কর। ৪

৬▶ রহিম মিয়া একজন কাঠ ব্যবসায়ী। তিনি খুলনা থেকে কাঠ কিনে এনে ঢাকা শহরে বিক্রি করেন। সম্প্রতি তিনি কাঠ থেকে বিভিন্ন রকমের ফার্নিচার তৈরি করে বিক্রি করার জন্য ঢাকার শাহজাহানপুরে ফার্নিচারের দোকান দিয়েছেন। তার দোকানের ফার্নিচার বিক্রি সম্প্রসারণের জন্য তিনি বাণিজ্য মেলায় স্টলও দিয়েছেন। এভাবে তিনি দেশের অর্থনৈতিক উন্নয়নে গুরুত্বপূর্ণ ভূমিকা রাখেন।

- ক. অর্থনীতিতে ভূমি কী? ১  
খ. বাংলাদেশকে কেন উন্নয়নশীল দেশ বলা হয়? ২  
গ. রহিম মিয়ার প্রথম কাজে কোন ধরনের উপযোগ সৃষ্টি হয়েছে? তোমার পাঠ্যবইয়ের আলোকে ব্যাখ্যা কর। ৩  
ঘ. দেশের অর্থনীতিতে রহিম মিয়ার মতো ব্যক্তিদের অবদান মূল্যায়ন কর। ৪

৭▶ 'X' দেশে এক বছরে দুই লক্ষ কুইন্টাল ধান, ২০ হাজার কুইন্টাল পাট, দুই লক্ষ পোশাক উৎপাদিত হয়। উৎপাদিত দ্রব্যগুলোর বাজার দাম নিম্নরূপ :

- ধান প্রতি কুইন্টাল ২ হাজার টাকা  
পাট প্রতি কুইন্টাল ২ হাজার টাকা  
পোশাক প্রতিটি ২ হাজার টাকা  
ক. মোট দেশজ উৎপাদন কী? ১  
খ. মোট জাতীয় আয় ও নিট জাতীয় আয়ের মধ্যে পার্থক্য কী? ২  
গ. উদ্দীপকে উল্লিখিত তথ্যের ভিত্তিতে কীভাবে 'X' দেশটির মধ্যে দেশজ উৎপাদন নিরূপণ করা যায়? ব্যাখ্যা কর। ৩  
ঘ. উদ্দীপকে উল্লিখিত কোন দ্রব্যগুলোর খাত বাংলাদেশের অর্থনীতিতে অধিকতর ভূমিকা রাখে? বিশ্লেষণ কর। ৪

৮▶

দেশ	বৈশিষ্ট্য
A	১। আধুনিক যন্ত্রপাতি দিয়ে চাষ করে। ২। কোনো প্রাকৃতিক দুর্যোগই শিল্প বা কৃষি খাতে প্রভাব ফেলতে পারে না।
B	১। A দেশের চেয়ে আয় কম। ২। রপ্তানি আয়ের চেয়ে আমদানি আয় বেশি।

- ক. বেকারত্ব কাকে বলে? ১  
খ. কৃষি শ্রমিককে মৌসুমি বেকার বলা হয় কেন? ব্যাখ্যা কর। ২  
গ. অর্থনৈতিক বৈশিষ্ট্য অনুযায়ী 'A' দেশ কোন ধরনের? ব্যাখ্যা কর। ৩  
ঘ. 'B' দেশটির সাথে 'A' দেশটির অর্থনৈতিক বৈশিষ্ট্যের তুলনামূলক আলোচনা কর। ৪

৯▶ হালিম সাহেবের একটি ফার্নিচার তৈরির কারখানা আছে। তিনি বন থেকে কাঠ ক্রয় করে কারখানায় নিয়ে আসেন। ১০ জন প্রশিক্ষিত কর্মচারী আছে। সেখানে উন্নতমানের যন্ত্রপাতি ব্যবহার করে বিভিন্ন আসবাবপত্র তৈরি হয়। প্রতিটি কাজে হালিম সাহেব নিজে তার দক্ষতা ও অভিজ্ঞতা কাজে লাগিয়ে দৃষ্টিনন্দন আসবাবপত্র তৈরি করে বিক্রি করেন।

- ক. উৎপাদন বলতে কী বোঝায়? ১  
খ. রূপগত উপযোগ বলতে কী বোঝায়? ২  
গ. উদ্দীপকে হালিম সাহেবের উৎপাদন প্রতিষ্ঠানে প্রথম দুটি উৎপাদনের উপকরণ চিহ্নিত করে ব্যাখ্যা কর। ৩  
ঘ. উদ্দীপকে উৎপাদন প্রক্রিয়ায় হালিম সাহেবের ভূমিকা মূল্যায়ন কর। ৪

১০▶ আকিবের দেশে নির্দিষ্ট সময়ে উৎপাদিত কৃষি, শিল্প ও সেবা খাতের মোট মূল্য যোগ করে জাতীয় আয় নির্ধারণ করা হয়। অন্যদিকে সাকিবের দেশে নির্দিষ্ট সময়ে উৎপাদিত পণ্যের খরচ যোগ করে জাতীয় আয় নির্ধারণ করা হয়।

- ক. নিট জাতীয় আয় কী? ১  
খ. অর্থনৈতিক প্রবৃদ্ধি বলতে কী বোঝায়? ২  
গ. আকিবের দেশে জাতীয় আয় পরিমাপ পদ্ধতি ব্যাখ্যা কর। ৩  
ঘ. উদ্দীপকে উল্লিখিত দুই দেশের জাতীয় আয় পরিমাপ পদ্ধতির মধ্যে কোনটিকে ভূমি সমর্থন কর? মতামত দাও। ৪

১১▶ বাকি অর্থনীতিতে উচ্চতর ডিগ্রি নিয়ে বেশ কিছু ইন্টারভিউ দিয়েও চাকরি পায়নি। তাই সে বাবার মুদি দোকানে বসে বাবাকে কাজে সাহায্য করে। এতে তার বাবার আয়ের কোনো পরিবর্তন হয়নি। এ অবস্থায় বাকির মামা তাকে যুব উন্নয়ন অধিদপ্তরে নিয়ে যায় এবং মাছ চাষ ও বৃক্ষরোপণের ওপর প্রশিক্ষণের ব্যবস্থা করে।

- ক. দরিদ্র বলে গণ্য করা হয় কাদেরকে? ১  
খ. বাংলাদেশের উৎপাদন ব্যবস্থায় উন্নত প্রযুক্তি প্রয়োগ করা যায় না কেন? ব্যাখ্যা কর। ২  
গ. বাকির মধ্যে কোন ধরনের বেকারত্ব ছিল? ব্যাখ্যা কর। ৩  
ঘ. “মামার গ্রহণকৃত ব্যবস্থাই পারে বাকির মতো বেকারদের বেকারত্ব দূর করতে” – মতামত দাও। ৪

৩৪ বরিশাল বোর্ড ২০২২

বিষয় কোড : 141

সময় : ১ ঘণ্টা ৪০ মিনিট

অর্থনীতি সৃজনশীল প্রশ্ন

পূর্ণমান : ৪০

দ্রষ্টব্য : ডান পাশের সংখ্যা প্রশ্নের পূর্ণমান জ্ঞাপক। প্রদত্ত উদ্দীপকগুলো মনোযোগ সহকারে পড় এবং সংশ্লিষ্ট প্রশ্নগুলোর উত্তর দাও। যে কোনো চারটি প্রশ্নের উত্তর দিতে হবে।

- ১৮ মারুফ তার দেশে একটি পোশাক কারখানা স্থাপন করেন। পোশাক কারখানা স্থাপন করতে সরকারের কোনো অনুমতির প্রয়োজন হয়নি। অপরদিকে, মিজান তার দেশে একটি ওয়ুথ তৈরির কারখানা স্থাপন করতে চাইলেন, কিন্তু সরকার থেকে কোনো অনুমতি পেলেন না। কেননা এই দেশে অর্থনৈতিক কার্যক্রম সরকারের নিয়ন্ত্রণে পরিচালিত হয়।
- ক. ইসলামি অর্থব্যবস্থা কাকে বলে? ১
- খ. “একটি দ্রব্য পেতে হলে অপর একটি দ্রব্য ত্যাগ করতে হয়”— উক্তিটি ব্যাখ্যা কর। ২
- গ. মারুফের দেশে কোন ধরনের অর্থব্যবস্থা বিদ্যমান? ব্যাখ্যা কর। ৩
- ঘ. মিজানের দেশে অর্থব্যবস্থার সাথে বাংলাদেশের অর্থব্যবস্থা সাদৃশ্যপূর্ণ কি? উত্তরের সপক্ষে যুক্তি দাও। ৪

দ্রব্যের একক	মোট উপযোগ (টাকায়)	প্রান্তিক উপযোগ (টাকায়)
১ম	৩	৩
২য়	৫	২
৩য়	৬	১
৪র্থ	৬	০
৫ম	৫	-১

- ক. ভোগ কাকে বলে? ১
- খ. সাধারণত দ্রব্যের দাম ও যোগান সম্মুখী হয় কেন? ব্যাখ্যা কর। ২
- গ. প্রদত্ত সূচিটি কোন বিধি প্রকাশ করেছে? বর্ণনা কর। ৩
- ঘ. একজন ভোক্তা দ্রব্যটির ৪র্থ ও ৫ম একক ক্রয় করবে কি? তোমার উত্তরের সপক্ষে যুক্তি দাও। ৪

- ৩৯ দৃশ্য-১ : জনাব রাফিন সাহেব একজন পাট ব্যবসায়ী। তিনি পাটের মৌসুমে প্রচুর পাট ক্রয় করেন এবং কয়েক মাস পর বেশি দামে বিক্রয় করে অধিক লাভ করেন।
- দৃশ্য-২ : জনাব জসিম একজন গার্মেন্টস ব্যবসায়ী। তিনি তার গার্মেন্টসে শ্রমিকদের কাজ তদারকী ও সমন্বয় সাধনসহ বিভিন্ন ধরনের ঝুঁকি গ্রহণ করেন। দক্ষ পরিচালনার কারণে তিনি এখন ব্যবসায়ে দ্রুত উন্নতি করছেন।
- ক. ভূমি কাকে বলে? ১
- খ. প্রান্তিক উৎপাদন বলতে কী বোঝায়? ব্যাখ্যা কর। ২
- গ. দৃশ্য-১-এ জনাব রাফিন সাহেব কোন ধরনের উপযোগ সৃষ্টি করেছেন? ব্যাখ্যা কর। ৩
- ঘ. “উৎপাদন প্রক্রিয়ায় জনাব জসিম সাহেবের ভূমিকাই মুখ্য”— উক্তিটি বিশ্লেষণ কর। ৪

ছক-ক	ছক-খ
১. বন্ধুদের গান শোনানো	১. হকারী করা
২. শখের বশে ছবি আঁকা	২. শ্রমিকের কাজ
৩. গল্প ও উপন্যাস পড়া	৩. চাষাবাদ করা

- ক. মধ্যবর্তী দ্রব্য কাকে বলে? ১
- খ. সঞ্চয় বলতে কী বোঝায়? ২
- গ. ছক ‘ক’-এ উল্লিখিত বিষয়গুলো কোন ধরনের কার্যাবলিকে নির্দেশ করেছে? ব্যাখ্যা কর। ৩
- ঘ. “ছক ‘খ’-এ বর্ণিত কাজগুলো দেশের অর্থনীতির চাকাকে সচল রাখছে”— উক্তিটি বিশ্লেষণ কর। ৪

- ৪০ সাগর পাড়ে অরনির দাদুর বাড়ি। সাগরের পানি, মুক্ত মাঠের হাওয়া, সূর্যের আলো প্রভৃতি দেখে সে মুগ্ধ হয়। অরনি দাদুকে বলে, এই প্রকৃতির উপাদানগুলো আমাদের সম্পদ। প্রত্যন্তরে তার দাদু বলেন, এগুলো সম্পদ হলেও অর্থনৈতিক দৃষ্টিকোণ থেকে সম্পদ নয়।
- ক. চূড়ান্ত দ্রব্য কাকে বলে? ১
- খ. বাংলাদেশের প্রাণিজ সম্পদ সম্পর্কে বর্ণনা দাও। ২
- গ. উল্লিখিত প্রকৃতির উপাদানগুলো অর্থনৈতিক দৃষ্টিকোণ থেকে সম্পদ নয় কেন? ব্যাখ্যা কর। ৩
- ঘ. উদ্দীপকে উল্লিখিত অরনির বর্ণনাকৃত প্রকৃতির উপাদানগুলোকে কীভাবে সম্পদে পরিণত করা সম্ভব বলে তুমি মনে কর? ৪

- ৪১ রনি এ বছর ৬ষ্ঠ শ্রেণিতে ভর্তি হয়েছে। স্কুল ড্রেস, স্কুল ব্যাগসহ একটি নতুন সাইকেল ক্রয় করে দেওয়ার জন্য বাবাকে বলল। পর্যাপ্ত টাকা না থাকায় বাবা ছেলে রনিকে বুঝিয়ে স্কুল ড্রেস এবং স্কুল ব্যাগ ক্রয় করে দিলেন এবং সাইকেল পরে ক্রয় করে দিবেন বললেন। এতে রনি বাবার সাথে সহমত পোষণ করল।

- ক. অধ্যাপক মার্শাল প্রদত্ত অর্থনীতির সংজ্ঞাটি লেখ। ১
- খ. মিশ্র অর্থব্যবস্থা বলতে কী বোঝায়? ২
- গ. উদ্দীপকের ঘটনাটি কোন অর্থনীতিবিদের সংজ্ঞার অনুরূপ? ব্যাখ্যা কর। ৩
- ঘ. “আমাদের দেশের অর্থনীতির প্রধান সমস্যা উদ্দীপকের মধ্যেই নিহিত”— উক্তিটি বিশ্লেষণ কর। ৪

- ১০ দৃশ্য-১ : ‘ক’ নামক রাষ্ট্রে প্রাকৃতিক সম্পদে সমৃদ্ধ, পর্যাপ্ত মূলধন আছে এবং স্থিতিশীল রাজনৈতিক অবস্থা বিদ্যমান।

- দৃশ্য-২ : ‘খ’ নামক রাষ্ট্রে ‘ক’ নামক রাষ্ট্রের ঠিক বিপরীত অবস্থা বিরাজ করছে। তবে পরিকল্পিত কর্মসূচির মাধ্যমে কোনো কোনো ক্ষেত্রে ক্রমোন্নতি হচ্ছে।

- ক. বেকারত্ব কাকে বলে? ১
- খ. কীভাবে মানবসম্পদ উন্নয়ন করা যায়? ব্যাখ্যা কর। ২
- গ. ‘খ’ নামক দেশটি উন্নয়নের মাপকাঠিতে কোন শ্রেণির দেশের অন্তর্ভুক্ত? ব্যাখ্যা দাও। ৩
- ঘ. ‘খ’ দেশকে ‘ক’ দেশের পর্যায়ে উন্নীত করতে হলে কী কী পদক্ষেপ গ্রহণ করতে হবে বলে তুমি মনে কর? আলোচনা কর। ৪

- ৮ বাংলাদেশের অনেক নাগরিক কর্মসংস্থানের জন্য পৃথিবীর বিভিন্ন দেশে কাজ করছেন। মাসে মাসে তাদের উপার্জিত অর্থের একটি বড় অংশ দেশে বসবাসরত পরিবারের কাছে পাঠান। আবার বিদেশি অনেক নাগরিক বাংলাদেশে ব্যবসায় পরিচালনা ও বিভিন্ন পেশায় কর্মরত আছেন। তাদের আয়ের একটি অংশ তারা তাদের দেশে পাঠান।

- ক. CCA-এর পূর্ণরূপ লেখ। ১
- খ. মোট দেশজ উৎপাদন বলতে কী বোঝায়? ২
- গ. পৃথিবীর বিভিন্ন দেশে কর্মরত বাংলাদেশিদের আয়কৃত প্রেরিত অর্থ দেশের কোন খাতের অন্তর্ভুক্ত হবে? ব্যাখ্যা কর। ৩
- ঘ. বাংলাদেশে কর্মরত বিদেশিদের আয় GDP-এর অন্তর্ভুক্ত হবে কি-না? তোমার মতামত দাও। ৪

- ৯ ঘটনা-১ : মিষ্টি ব্যবসায়ী মানিক মিয়া ময়মনসিংহের মুক্তাগাছা থেকে বিখ্যাত মগা ঢাকায় নিয়ে বিক্রি করেন এবং আর্থিকভাবে সচ্ছল হয়ে ওঠেন।

- ঘটনা-২ : এ বছর ধানের মৌসুমে বাম্পার ফলন হওয়ায় বাজারে ধানের দাম কম। তাই কৃষক সৃজন মিয়া ধান বিক্রি না করে কিছুদিন মজুদ করে রাখেন। পরে দাম বাড়লে ধান বিক্রি করে তিনি বেশি টাকা লাভবান হন।

- ক. উৎপাদনের উপকরণ কয়টি? ১
- খ. কর্তব্য বণ্টন বলতে কী বোঝায়? ২
- গ. ঘটনা-২-এ সৃষ্ট কাজটি অর্থনীতিতে উৎপাদনের কোন ধরনের উপযোগ সৃষ্টি করে? ব্যাখ্যা কর। ৩
- ঘ. “উদ্দীপকে মানিক মিয়া ও সৃজন মিয়ার কর্মকাণ্ড দেশের অর্থনীতিকে সমৃদ্ধ করছে”— উক্তিটির যথার্থতা নিরূপণ কর। ৪

- ১০ দৃশ্য-১ : জমাল সাহেব একটি বেসরকারি কোম্পানিতে চাকরি করতেন; কিন্তু করোনা মহামারির কারণে তার চাকরি চলে যায়। ফলে সে পরিবারে নিয়ে গ্রামে চলে আসে এবং কিছুদিন কর্মহীন থাকার পর স্থানীয় বাজারে একটা ব্যবসায় শুরু করেন।

- দৃশ্য-২ : জরিলা বেগম একজন শিক্ষিত নারী। তিনি হস্তশিল্পে প্রশিক্ষিত ও দক্ষ হওয়ায় ক্ষুদ্র ঋণ নিয়ে তার বাড়িতে হস্তশিল্প কারখানা গড়ে তুলেছেন এবং উৎপাদিত দ্রব্য বিদেশে রপ্তানি করে বেশ আয় করছেন।

- ক. ব্র্যাক কত সালে প্রতিষ্ঠিত হয়? ১
- খ. মানবসম্পদ বলতে কী বোঝায়? ২
- গ. দৃশ্য-১-এ জামান সাহেবের কর্মহীন অবস্থা অর্থনীতিতে কোন ধরনের বেকারত্ব নির্দেশ করেছে? ব্যাখ্যা কর। ৩
- ঘ. “দৃশ্য-২-এ জরিলা বেগমের মতো নারীদের কর্মকাণ্ড দেশের অর্থনীতির চাকাকে সচল রাখছে”— উক্তিটি বিশ্লেষণ কর। ৪

- ১১ দৃশ্য-১ : একটি দেশের ১ বছরের কাঙ্ক্ষিত চিত্র দেখানো হলো।

- ভোগ = ১০০ কোটি, বিনিয়োগ = ৫০০ কোটি, সরকারি ব্যয় = ৭০০ কোটি, রপ্তানি আয় ২০০ কোটি, আমদানি ব্যয় = ৩০০ কোটি টাকা।

- দৃশ্য-২ : জনাব তানজিল সাহেব অর্থনীতি ক্লাসে জিডিপি নির্ণয়ের পদ্ধতি নিয়ে আলোচনা করেন। তিনি শিক্ষার্থীদের উদ্দেশ্যে বলেন, যদি তোমরা উৎপাদনের উপকরণগুলোর আয় যোগ কর তবে সহজেই আমাদের দেশের জিডিপি নির্ণয় করতে পারবে।

- ক. নিট জাতীয় আয় কাক বলে? ১
- খ. দারিদ্র্যের দুস্তচক্র ধারণটি ব্যাখ্যা কর। ২
- গ. জনাব তানজিল সাহেব জিডিপি নির্ণয়ের কোন পদ্ধতির কথা বলেছেন? ব্যাখ্যা কর। ৩
- ঘ. দৃশ্য-১ দেশের আমদানি ব্যয় ৩০০ কোটি টাকার বদলে ৭০০ কোটি টাকা হলে দেশের অর্থনীতিতে কোনো প্রভাব পড়বে কি? মতামত দাও। ৪

## ৩৫ দিনাজপুর বোর্ড ২০২২

বিষয় কোড : 141

সময় : ১ ঘণ্টা ৪০ মিনিট

## অর্থনীতি সৃজনশীল প্রশ্ন

পূর্ণমান : ৪০

দ্রষ্টব্য : ডান পাশের সংখ্যা প্রশ্নের পূর্ণমান জ্ঞাপক। প্রদত্ত উদ্দীপকগুলো মনোযোগ সহকারে পড় এবং সংশ্লিষ্ট প্রশ্নগুলোর উত্তর দাও। যে কোনো চারটি প্রশ্নের উত্তর দিতে হবে।

১৫) মি. X এমন একটি দেশে বাস করে যেখানে রাষ্ট্রের সকল কাজ কেন্দ্রীয়ভাবে পরিচালিত হয়। ভোক্তা স্বাধীনভাবে অর্থ ব্যয় করে উৎপাদন ও ভোগ করতে পারে না। কেন্দ্রীয় পরিকল্পনা অনুসারে দেশের উৎপাদন ও বন্টন পরিচালিত হয়। অপরদিকে, মি. Y যে দেশে বাস করে, সেখানে ভোক্তা ভোগের ক্ষেত্রে অবাধ স্বাধীনতা ভোগ করে। তবে সরকার প্রয়োজনে উৎপাদন ও ভোগ নিয়ন্ত্রণ করতে পারে।

ক. অর্থনীতির মৌলিক নীতি কয়টি? ১  
খ. সুযোগ ব্যয়ের ধারণাটি ব্যাখ্যা কর। ২  
গ. উদ্দীপকে মি. X-এর দেশে কোন ধরনের অর্থব্যবস্থা প্রচলিত? ব্যাখ্যা কর। ৩  
ঘ. মি. Y-এর দেশের সাথে বাংলাদেশের অর্থব্যবস্থার সাদৃশ্য আছে কি? উত্তরের সপক্ষে যুক্তি দাও। ৪

১৬) বসির একজন শ্রমিক। সে একটি কারখানায় অল্প বেতনে কাজ করে। সে যা বেতন পায় তা দিয়ে সংসার চালাতে হিমশিম খেতে হয়। পরিবারে সবসময় অভাব লেগেই থাকে। সে পরিবারের অভাব মেটানোর অনেক চেষ্টা করে। কিন্তু একটি অভাব পূরণের সাথে সাথে আরেকটি নতুন অভাব দেখা দেয়। ফলে অভাব পূরণের ক্ষেত্রে তাকে অনেক হিসাব-নিকাশ করতে হয়।

ক. বাণিজ্যবাদ কাকে বলে? ১  
খ. 'মানুষ প্রণোদনায় সাড়া দেয়'— ধারণাটি ব্যাখ্যা কর। ২  
গ. উদ্দীপকে বসিরকে সীমিত আয়ের জন্য কী কী মৌলিক অর্থনৈতিক সমস্যার সম্মুখীন হতে হয়? ব্যাখ্যা কর। ৩  
ঘ. উদ্দীপকের বসির কীভাবে তার পরিবারের সমস্যা দূর করতে পারবে তা অর্থনীতির ভাষায় বিশ্লেষণ কর। ৪

১৭) নিচের ছকটি লক্ষ কর :

(i)	(ii)
বনভূমি	শারীরিক যোগ্যতা
নদীর বালি	কবির প্রতিভা
খনিজ সম্পদ	সাংগঠনিক যোগ্যতা

ক. মূলধনী দ্রব্য কাকে বলে? ১  
খ. "সঞ্চয় ও বিনিয়োগের মধ্যে সম্মুখী সম্পর্ক বিদ্যমান"— ব্যাখ্যা কর। ২  
গ. উদ্দীপকের (i)-এর সম্পদগুলো কোন ধরনের সম্পদ? ব্যাখ্যা কর। ৩  
ঘ. উদ্দীপকের (ii)-এর সম্পদগুলোকে কি অর্থনীতির ভাষায় সম্পদ বলা যায়? তোমার মতের সপক্ষে যুক্তি দাও। ৪

১৮) জামাল ও কামাল দুই ভাই। জামাল জমি চাষ করে বিভিন্ন প্রকার ফসল ফলায়। বাড়ির পাশের জমিতে বিভিন্ন রকম তরকারি ও ফলমূল উৎপাদন করে। পরিবারের চাহিদা পূরণের পাশাপাশি সেগুলো বাজারে বিক্রি করে। অন্যদিকে তার ভাই কামাল লেখাপড়া শিখে একটি গুণ্ধের দোকান দিয়েছে। গুণ্ধ বিক্রির পাশাপাশি সে গ্রামের মানুষের প্রাথমিক চিকিৎসাও দিয়ে থাকে।

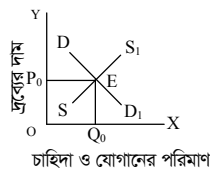
ক. অর্থনৈতিক কার্যবলি কাকে বলে? ১  
খ. মানুষের অভ্যন্তরীণ গুণকে সম্পদ বলা যায় না কেন? ব্যাখ্যা কর। ২  
গ. উদ্দীপকে জামাল কী ধরনের অর্থনৈতিক কাজ সম্পাদন করছে? ব্যাখ্যা কর। ৩  
ঘ. "জামাল ও কামালের কর্মকাণ্ড দেশের অর্থনৈতিক উন্নয়নে ভূমিকা রাখছে"— উক্তিটি বিশ্লেষণ কর। ৪

১৯) নিচের ছকটি লক্ষ কর :

দ্রব্যের একক	মোট উপযোগ	প্রান্তিক উপযোগ
১ম	৪	৪
২য়	৭	৩
৩য়	৯	২
৪র্থ	১০	১
৫ম	১০	০
৬ষ্ঠ	৯	-১

ক. ভোক্তা কাকে বলে? ১  
খ. চাহিদা রেখা ডানদিকে নিম্নগামী হয় কেন? ব্যাখ্যা কর। ২  
গ. প্রদত্ত সূচির সাহায্যে ক্রমহ্রাসমান প্রান্তিক উপযোগ রেখাটি অঙ্কন করে ব্যাখ্যা কর। ৩  
ঘ. প্রদত্ত সূচির দ্বারা যে বিধি প্রকাশ পায় তা কি সবসময় কার্যকর? যুক্তিসহকারে বিশ্লেষণ কর। ৪

২০) নিচের চিত্রটি লক্ষ কর :



চাহিদা ও যোগানের পরিমাণ

ক. যোগান কাকে বলে? ১  
খ. "অর্থনীতিতে শুধুমাত্র উপযোগ নিগ্ণেষ করা কেই ভোগ বলে না"— ব্যাখ্যা কর। ২  
গ. উল্লিখিত চিত্রটি অর্থনীতির কোন ধারণার সাথে সংগতিপূর্ণ? ব্যাখ্যা কর। ৩  
ঘ. উল্লিখিত চিত্রে শুধুমাত্র S S<sub>1</sub> রেখাটি বামে স্থানান্তরিত হলে অর্থনীতিতে এর প্রতিক্রিয়া কীরূপ হবে বলে তুমি মনে কর? ৪

২১) আরজিনা খাতুন সেলাইয়ের ওপর প্রশিক্ষণ নিয়ে বিভিন্ন প্রকার পোশাক তৈরির কাজ করেন। তিনি তৈরি পোশাক শহরের বিভিন্ন দোকানে বিক্রি করে আর্থিক সাফল্য অর্জন করেন। পরবর্তীতে ব্যবসায় প্রসারের জন্য আরও ১৫ জন নারী কর্মী নিয়োগ দেন। তাদের দক্ষতা অনুযায়ী কাজ বিভিন্ন ভাগে বন্টন করে দেন।

ক. উৎপাদন কাকে বলে? ১  
খ. "স্থান পরিবর্তন করে দ্রব্যের উপযোগ বৃদ্ধি করা যায়"— ব্যাখ্যা কর। ২  
গ. আরজিনা খাতুনকে উৎপাদন প্রক্রিয়ার কোন উপকরণ হিসেবে বিবেচনা করবে? ব্যাখ্যা কর। ৩  
ঘ. 'আরজিনার মতো নারীদের কর্মকাণ্ড আমাদের দেশের অর্থনীতিকে সমৃদ্ধ করছে'— উক্তিটি বিশ্লেষণ কর। ৪

২২) নিচের ছকটি লক্ষ কর :

ভূমি	শ্রম উপকরণ	উপকরণ সংমিশ্রণ	মোট উৎপাদন	প্রান্তিক উৎপাদন
১ হেক্টর	১	A	২০	২০
১ হেক্টর	২	B	৪৪	২৪
১ হেক্টর	৩	C	৬০	১৬
১ হেক্টর	৪	D	৬৮	৮

ক. প্রকাশ্য ব্যয় কী? ১  
খ. মূলধন ব্যতীত উৎপাদন সম্ভব নয়— ব্যাখ্যা কর। ২  
গ. উপরের সূচি থেকে একটি প্রান্তিক উৎপাদন রেখা অঙ্কন করে ব্যাখ্যা কর। ৩  
ঘ. উদ্দীপকে উল্লিখিত ছকের আলোকে মোট উৎপাদন ও প্রান্তিক উৎপাদনের মধ্যকার সম্পর্ক বিশ্লেষণ কর। ৪

২৩) ২০২১-২২ অর্থবছরে 'A' দেশে সরকার খাজনা থেকে আয় করেছে ১০,০০০ কোটি টাকা, শ্রমের মজুরি থেকে আয় করেছে ৩০,০০০ কোটি টাকা, সুদ থেকে আয় ১৫,০০০ কোটি টাকা ও মুনাফা হয়েছে ৪০,০০০ কোটি টাকা।

অন্যদিকে 'B' দেশে একই অর্থবছরে ভোগে খরচ হয়েছে ৪৫,০০০ কোটি টাকা, বিনিয়োগ হয়েছে ৩৫,০০০ কোটি টাকা, সরকার খরচ করেছে ২৫,০০০ কোটি টাকা, আমদানি ৫০,০০০ কোটি টাকা এবং রপ্তানি হয়েছে ২৫,০০০ কোটি টাকা।

ক. মোট দেশজ উৎপাদনের সংজ্ঞা দাও। ১  
খ. একবার সুতার মূল্য আবার কাপড়ের মূল্য হিসাব করলে GDP পরিমাপের কী সমস্যা দেখা দেয়? ব্যাখ্যা কর। ২  
গ. 'A' দেশের জাতীয় আয় হিসাবের পদ্ধতি চিহ্নিত করে জাতীয় আয় পরিমাপ কর। ৩

ঘ. সুত্র ব্যবহার করে 'B' দেশের জাতীয় আয় পরিমাপ করে বাংলাদেশে জাতীয় আয় হিসাবে এ পদ্ধতি ব্যবহার করা যায় কিনা? আলোচনা কর। ৪

২৪) আবির উচ্চ শিক্ষার জন্য 'X' দেশে গেল। সে দেখল যে, দেশটির রাষ্ট্রাঘাট, শিক্ষাব্যবস্থা, যাতায়াত ব্যবস্থা অনেক ভালো। জীবনযাত্রার মান অনেক সুন্দর। দেশটি অর্থনৈতিক দিক দিয়ে অনেক এগিয়ে রয়েছে। অন্যদিকে তার নিজ দেশের অবস্থা ঠিক বিপরীত। তবে আবিরের দেশটি পরিকল্পিত কর্মসূচির মাধ্যমে অনেক ক্ষেত্রে অগ্রগতি সাধন করেছে।

ক. ব্র্যাক কতসালে প্রতিষ্ঠিত হয়? ১  
খ. কাজের বিনিময়ে খাদ্য কর্মসূচি ব্যাখ্যা কর। ২  
গ. উদ্দীপকে আবিরের নিজের দেশটি উন্নয়নের মাপকাঠিতে কোন শ্রেণির দেশ? ব্যাখ্যা কর। ৩

ঘ. আবিরের দেশকে 'X' দেশের পর্যায়ে উন্নীত করতে প্রয়োজন অর্থনৈতিক উন্নয়ন— তোমার উত্তরের সপক্ষে যুক্তি দাও। ৪

ক দেশ	খ দেশ
সম্পদের সঠিক ব্যবহার	কৃষিভিত্তিক অর্থনীতি
স্থিতিশীল রাজনীতি	দারিদ্র্যের দৃষ্টচক্রটি সক্রিয়
উন্নত কারিগরি জ্ঞান	অধিক জনসংখ্যা

ক. অর্থনৈতিক প্রবৃদ্ধি কাকে বলে? ১  
খ. মৌসুমি বেকারত্ব বলতে কী বোঝায়? ২  
গ. উন্নয়নের মাপকাঠিতে 'ক' দেশের অবস্থা বর্ণনা কর। ৩  
ঘ. 'খ' দেশকে 'ক' দেশের অবস্থায় পরিণত করতে তোমার সুপারিশগুলো উল্লেখ কর। ৪

৩৬ ময়মনসিংহ বোর্ড ২০২২

বিষয় কোড : 141

সময় : ১ ঘণ্টা ৪০ মিনিট

অর্থনীতি সৃজনশীল প্রশ্ন

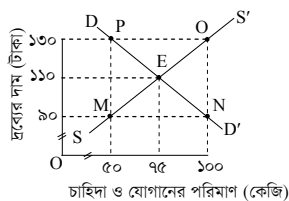
পূর্বমান : ৪০

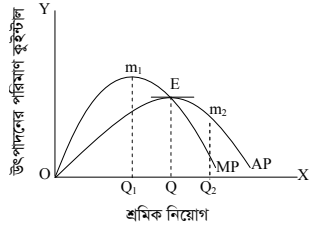
দ্রষ্টব্য : ডান পাশের সংখ্যা প্রশ্নের পূর্ণমান জ্ঞাপক। প্রদত্ত উদ্দীপকগুলো মনোযোগ সহকারে পড় এবং সংশ্লিষ্ট প্রশ্নগুলোর উত্তর দাও। যে কোনো চারটি প্রশ্নের উত্তর দিতে হবে।

- ১) ঘটনা-১ : রীমাকে তার আশু বলল, এবার যদি পরীক্ষায় ভালো করতে পার তবে তোমাকে একটা ল্যাপটপ কিনে দেব। স্কুলের অনলাইন ক্লাসগুলো ভালোভাবে করার আনন্দে খেলা ও টিভি দেখা কমিয়ে বেশি লেখাপড়া শুরু করে। পাশের বাসা থেকে ল্যাপটপ ধার আনতে তার মোটেই ভালো লাগে না।
- ঘটনা-২ : রিকশাচালক মজনুর মুখে মাস্ক ছিল না বলে ট্রাফিক পুলিশ তার কাছ থেকে পঞ্চাশ টাকা জরিমানা আদায় করে। জরিমানার ভয়ে মজনু বাজারে গেল তার পরিবারের সকলের জন্য মাস্ক কিনতে। বাজারে গিয়ে দেখল, বিক্রেতারা সরকারি নীতির কথা শুনে মাস্কের দাম কয়েক গুণ বাড়িয়ে দিয়েছে। সে জন্ম্রতি ৭টা মাস্ক কিনে বাসায় ফিরল।
- ক. অধ্যাপক মার্শাল কর্তৃক প্রদত্ত অর্থনীতির সংজ্ঞাটি লেখ। ১
- খ. সীমিত সম্পদ দিয়ে মানুষের সব অভাব পূরণ হয় না কেন? ব্যাখ্যা কর। ২
- গ. ঘটনা-১-এ অর্থনীতির কোন নীতিটি প্রকাশ পেয়েছে? ব্যাখ্যা কর। ৩
- ঘ. ঘটনা-২-এর সমস্যাটি নিরসনে সরকার কীভাবে মজনু মিয়াদের সাহায্য করতে পারে? মতামত দাও। ৪
- ২) শামীম সাহেব 'ক' দেশে একটি কোম্পানির মালিক। উৎপাদন ব্যবস্থায় সরকারের কোনো নিয়ন্ত্রণ নেই। তার ছোট ভাই 'খ' দেশে একটি চিনির কলের মালিক। দেশে বর্তমানে সরকারি মালিকানায চিনির কলও রয়েছে।
- ক. অধ্যাপক এল. রবিস প্রদত্ত অর্থনীতির সংজ্ঞা দাও। ১
- খ. 'সম্পদের দুস্ত্রাপ্যতা' বলতে কী বোঝায়? ২
- গ. শামীম সাহেব যে দেশে বাস করে সে দেশের অর্থব্যবস্থার ধরন উল্লেখ করে ব্যাখ্যা কর। ৩
- ঘ. উদ্দীপকে উল্লিখিত 'ক' এবং 'খ' দেশের অর্থনৈতিক ব্যবস্থার তুলনা কর। ৪
- ৩) বাকী অর্থনীতিতে উচ্চতর ডিগ্রি নিয়ে বেশ কিছু ইন্টারভিও দিয়েও চাকরি পায়নি। তাই সে বাবার মুদি দোকানে বসে বাবাকে কাজে সাহায্য করে। তাতে তার বাবার আয়ের কোনো পরিবর্তন হয়নি। এ অবস্থায় বাকীর মামা তাকে যুব উন্নয়ন অধিদপ্তরে নিয়ে যায় এবং মাছ চাষ ও বৃক্ষরোপণের ওপর বিশেষ প্রশিক্ষণের ব্যবস্থা করে।
- ক. দরিদ্র বলে গণ্য করা হয় কাদেরকে? ১
- খ. বাংলাদেশে উৎপাদন ব্যবস্থায় উন্নত প্রযুক্তি প্রয়োগ করা যায় না কেন? ব্যাখ্যা কর। ২
- গ. বাকীর মধ্যে কোন ধরনের বেকারত্ব ছিল? ব্যাখ্যা কর। ৩
- ঘ. 'মামার গ্রহণকৃত ব্যবস্থা'ই পারে বাকীর মতো বেকারদের বেকারত্ব দূর করতে।' মতামত দাও। ৪
- ৪) মিসেস সাদিয়া একটি বেসরকারি স্কুলে পাঠদান করেন এবং একটি বুটিক্‌স্‌ শপ পরিচালনা করেন। মিসেস আফিয়া বাসায় রান্না করেন, সন্তানকে লেখাপড়ার কাজে সাহায্য করেন, কাজের ফাঁকে টিভি দেখেন, ছুটির দিনে সন্তানকে নিয়ে পার্কে ঘুরতে যান।
- ক. অর্থনৈতিক দ্রব্য কী? ১
- খ. সুযোগ ব্যয় বলতে কী বোঝায়? ২
- গ. মিসেস সাদিয়ার কাজগুলো কোন ধরনের? ব্যাখ্যা কর। ৩
- ঘ. মিসেস সাদিয়া ও মিসেস আফিয়া কর্তৃক সম্পাদিত কাজের তুলনামূলক বিশ্লেষণ কর। ৪
- ৫) নিচে রূপগঞ্জ বাজারের দুজন ভোক্তার ব্যক্তিগত চাহিদা সূচি প্রদান করা হলো—

দ্রব্যের দাম (টাকা)	প্রথম ভোক্তার চাহিদা দ্রব্যের একক (কুইন্টাল)	দ্বিতীয় ভোক্তার চাহিদা দ্রব্যের একক (কুইন্টাল)
১০.০০	৫	১০
৮.০০	১০	২০
৬.০০	২০	৩০

- ক. উপযোগ কী? ১
- খ. এক ব্যক্তির গাড়ির চাহিদা আছে বলতে চাহিদার কোন কোন শর্ত থাকতে হবে? ২
- গ. উদ্দীপকে উল্লিখিত চাহিদা সূচির আলোকে ১ম ভোক্তার চাহিদা রেখা অঙ্কন করে ব্যাখ্যা কর। ৩
- ঘ. উল্লিখিত চাহিদা সূচি থেকে বাজার চাহিদা সূচি তৈরি করে বাজার চাহিদা রেখা অঙ্কনকরণসহ রেখার বৈশিষ্ট্য বিশ্লেষণ কর। ৪
- ৬) মধ্যনগর বাজারের ভোজ্য তেলের বাজার ভারসাম্যের চিত্র দেওয়া হলো :



- ক. অর্থনীতিতে যোগান বলতে কী বোঝায়? ১
- খ. মোট উপযোগ বলতে কী বোঝায়? ২
- গ. উদ্দীপকে উল্লিখিত চিত্রে ভারসাম্য বিন্দু কোনটি? M বিন্দুতে ভারসাম্য দাম নির্ধারিত হয় না কেন? ব্যাখ্যা কর। ৩
- ঘ. ভোজ্য তেলের যোগান বেড়ে গেলে ভারসাম্য বিন্দু কোন দিকে যাবে? ব্যাখ্যা কর। ৪
- ৭) হালিম সাহেবের একটি ফার্ণিচার তৈরির কারখানা আছে। বন থেকে কাঠ ক্রয় করে কারখানায় নিয়ে আসে। তার ১০ জন প্রশিক্ষিত কর্মচারী আছে। উন্নতমানের যন্ত্রপাতি ব্যবহার করে বিভিন্ন আসবাবপত্র তৈরি করে। প্রতিটি কাজ হালিম সাহেব নিজে তার দক্ষতা ও অভিজ্ঞতা কাজে লাগিয়ে দৃষ্টিনন্দন আসবাবপত্র তৈরি করে বিক্রি করেন।
- ক. উৎপাদন কাকে বলে? ১
- খ. রূপগত উপযোগ বলতে কী বোঝায়? ২
- গ. উদ্দীপকে হালিম সাহেবের উৎপাদন প্রতিষ্ঠানে প্রথম দুটি উৎপাদনের উপকরণ চিহ্নিত করে ব্যাখ্যা কর। ৩
- ঘ. উদ্দীপকে উৎপাদন প্রক্রিয়ায় হালিম সাহেবের ভূমিকা মূল্যায়ন কর। ৪
- ৮) 
- ক. মোট উৎপাদন কাকে বলে? ১
- খ. সামাজিক ব্যয় বলতে কী বোঝায়? ২
- গ. উদ্দীপকে  $Q_1$  বিন্দু পর্যন্ত শ্রমিক নিয়োগে প্রান্তিক উৎপাদন রেখার বৈশিষ্ট্য ব্যাখ্যা কর। ৩
- ঘ. চিত্রে শ্রমিক নিয়োগের  $Q$  থেকে  $Q_2$  বিন্দু পর্যন্ত প্রান্তিক ও গড় উৎপাদন রেখার বিশ্লেষণ কর। ৪
- ৯) 'X' দেশে একই বছরে দুই লক্ষ কুইন্টাল ধান, ২০ হাজার কুইন্টাল পাট, দুই লক্ষ পোশাক উৎপাদিত হয়। উৎপাদিত দ্রব্যগুলোর বাজার দাম নিম্নরূপ :  
ধান প্রতি কুইন্টাল ২ হাজার টাকা  
পাট প্রতি কুইন্টাল ২ হাজার টাকা  
পোশাক প্রতিটি ২ হাজার টাকা
- ক. মোট দেশজ উৎপাদন কী? ১
- খ. মোট জাতীয় আয় ও নিট জাতীয় আয়ের মধ্যে পার্থক্য কী? ২
- গ. উদ্দীপকে উল্লিখিত তথ্যের ভিত্তিতে কীভাবে 'X' দেশটির মধ্যে দেশজ উৎপাদন নিরূপণ করা যায়? ব্যাখ্যা কর। ৩
- ঘ. উদ্দীপকে উল্লিখিত কোন দ্রব্যগুলোর খাত বাংলাদেশের অর্থনীতিতে অধিকতর ভূমিকা রাখে? বিশ্লেষণ কর। ৪
- ১০) আকিবের দেশে নির্দিষ্ট সময়ে উৎপাদিত কৃষি, শিল্প ও সেবা খাতের মোট মূল্য যোগ করে জাতীয় আয় নির্ধারণ করা হয়। অন্যদিকে সাকিবের দেশে নির্দিষ্ট সময়ে উৎপাদিত পণ্যের খরচ যোগ করে জাতীয় আয় নির্ধারণ করা হয়।
- ক. নিট জাতীয় আয় কী? ১
- খ. অর্থনৈতিক প্রবৃদ্ধি বলতে কী বোঝায়? ২
- গ. আকিবের দেশে জাতীয় আয় পরিমাপ পদ্ধতি ব্যাখ্যা কর। ৩
- ঘ. উদ্দীপকে উল্লিখিত দুই দেশের জাতীয় আয় পরিমাপ পদ্ধতির মধ্যে কোনটিকে ভূমি সমর্থন কর? মতামত দাও। ৪
- ১১) দৃশ্যপট-১ : সালমা তার গ্রামের একটি কৃষি খামারে কাজ করে। বন্যার কারণে খামারটি বন্ধ হয়ে যায়। তখন সে পোশাক তৈরির বিষয়ে প্রশিক্ষণ নেয় এবং প্রশিক্ষণ শেষে চাকরি পায়।
- দৃশ্যপট-২ : সালমা তার ছেলেকে একটি ডায়িং মিলের ব্যবস্থাপনা বিষয়ে প্রশিক্ষণের জন্য ভর্তি করে দেয়। প্রশিক্ষণ শেষে সে একটি টেক্সটাইল মিলে কাজে যোগদান করে।
- ক. মানবসম্পদের সংজ্ঞা দাও। ১
- খ. দরিদ্র মানুষের ক্ষমতায়নে ব্র্যাকের ভূমিকা ব্যাখ্যা কর। ২
- গ. উদ্দীপকে সালমার যে বেকারত্ব অবস্থা তৈরি হয় তার প্রকৃতি ব্যাখ্যা কর। ৩
- ঘ. উদ্দীপকের ঘটনা প্রবাহে তুমি কি মনে কর, সালমা এবং তার ছেলে মানবসম্পদে পরিণত হচ্ছে? মূল্যায়ন কর। ৪



## মূল বইয়ের বাইরে আরও শীর্ষস্থানীয় স্কুলের প্রশ্নপত্র ও উত্তরমালা : বহুনির্বাচনি

৩৭ ✓ সামসুল হক খান স্কুল এন্ড কলেজ, ঢাকা

বিষয় কোড : 141

সময় : ৩০ মিনিট

অর্থনীতি বহুনির্বাচনি অভীক্ষা

পূর্ণমান : ৩০

[বিশেষ দ্রষ্টব্য : সরবরাহকৃত বহুনির্বাচনি অভীক্ষার উত্তরপত্রে প্রশ্নের ক্রমিক নম্বরের বিপরীতে প্রদত্ত বর্ণসংখ্যকিত বৃত্তসমূহ হতে সঠিক/সর্বোৎকৃষ্ট উত্তরের বৃত্তটি বল পয়েন্ট কলম দ্বারা সম্পূর্ণ ভরাট কর। প্রতিটি প্রশ্নের মান ১। প্রশ্নপত্রে কোনো প্রকার দাগ/চিহ্ন দেওয়া যাবে না।]

১. মানুষের অর্থনৈতিক কর্মকাণ্ডের মূল প্রেরণা কী?  
K জীবিকা নির্বাহ L অভাব পূরণ  
M অর্থ উপার্জন N সম্পদ আহরণ
২. কোনটি বাংলাদেশের একক বৃহত্তম খাত?  
K কৃষি L শিল্প  
M সেবা N পোশাক
৩. বাজার ধারণার মৌলিক বিষয়গুলো হলো—  
i. চাহিদা  
ii. যোগান  
iii. সময় এবং দাম  
নিচের কোনটি সঠিক?  
K i ও ii L i ও iii M ii ও iii N i, ii ও iii
৪. কোন বাজারে ফার্ম ও শিল্পকে আলাদা করে দেখা হয় না?  
K একচেটিয়া  
L পূর্ণ প্রতিযোগিতা  
M একচেটিয়া প্রতিযোগিতা  
N স্বল্পকালীন
৫. মোট উপযোগ সর্বাধিক হলে প্রান্তিক উপযোগ কী?  
K ধনাত্মক L ঋণাত্মক  
M শূন্য N অপরিবর্তিত
৬. উৎপাদনের জীবন্ত উপকরণ কোনটি?  
K শ্রম L মূলধন  
M ভূমি N কোনটিই নয়
- উদ্দীপকটি পড়ে ৭ ও ৮নং প্রশ্নের উত্তর দাও :  
২০১৪ সালে 'চ' দেশের মোট জাতীয় আয় ১২০০০ কোটি মার্কিন ডলার এবং জনসংখ্যা ১৬ কোটি ছিল।
৭. ২০১৪ সালে 'X' দেশের মাথাপিছু আয় কত মার্কিন ডলার ছিল?  
K ৪০০ L ৫৫০  
M ৬৫০ N ৭৫০
৮. উক্ত সূচক দ্বারা প্রকাশ পায় 'X' দেশের মানুষের—  
i. জীবনযাত্রার মান  
ii. অর্থনৈতিক উন্নয়ন  
iii. অর্থনৈতিক প্রবৃদ্ধি  
নিচের কোনটি সঠিক?  
K i ও ii L i ও iii  
M ii ও iii N i, ii ও iii
৯. 'অর্থশাস্ত্র' গ্রন্থটির রচয়িতা কে?  
K এরিস্টটল L প্লেটো  
M কোটিল্যু N অমর্ত্য সেন
১০. গ্রিক সভ্যতার বিখ্যাত দুইজন চিন্তাবিদ—  
K প্লেটো ও সক্রেটিস  
L প্লেটো ও এরিস্টটল  
M প্লেটো ও আলেকজেন্ডার  
N সক্রেটিস ও কোটিল্যু
১১. অর্থনৈতিক কাজ কোনটি?  
K সন্তানের পরিচর্যা  
L ছিনতাই করা  
M শখ করে বাগান করা  
N শ্রমিকের কাজ
১২. বাংলাদেশের প্রধান খনিজ সম্পদ কোনটি?  
K প্রাকৃতিক গ্যাস L চীনা মাটি  
M কয়লা N কঠিন শিলা
১৩. চূনাপাথর ব্যবহৃত হয়—  
i. স্যানিটারী দ্রব্য তৈরিতে  
ii. ব্লিচিং পাউডার তৈরিতে  
iii. কাগজ উৎপাদনে  
নিচের কোনটি সঠিক?  
K i ও ii L i ও iii M ii ও iii N i, ii ও iii
১৪. শ্রমিকের বেতন কী ধরনের ব্যয়?  
K প্রকাশ্য ব্যয় L অপ্রকাশ্য ব্যয়  
M মোট ব্যয় N প্রকৃত ব্যয়
১৫. নিচের কোনটি একচেটিয়া বাজারের পণ্য?  
K বই L ওষুধ  
M জুতা N তিতাস গ্যাস
১৬. মূলধনের ক্ষতিপূরণের ব্যয়কে বলা হয়—  
K NNI L NNP  
M CCA N GNI
- উদ্দীপকটি পড়ে ১৭ ও ১৮নং প্রশ্নের উত্তর দাও :  
নিলয় একটি দেশে বাস করে। সেদেশের জনগণের স্বপ্নের পরিমাণ কম বলে মূলধন গঠনের পরিমাণ কম এবং জাতীয় আয় বৃদ্ধির তুলনায় জনসংখ্যা বৃদ্ধির হার বেশি।
১৭. নিলয়ের দেশটি কোন ধরনের দেশ?  
K অনুন্নত L উন্নত  
M উন্নয়নশীল N স্বল্পোন্নত
১৮. নিলয়ের দেশটির প্রধান বৈশিষ্ট্য—  
i. অনুন্নত কৃষি  
ii. দক্ষ জনশক্তি  
iii. উদ্যোক্তার অভাব  
নিচের কোনটি সঠিক?  
K i L ii M i ও ii N i ও iii
১৯. ঋণ নিয়ন্ত্রণ করে কোন ব্যাংক?  
K সোনালী ব্যাংক  
L কেন্দ্রীয় ব্যাংক  
M কৃষি ব্যাংক  
N জনতা ব্যাংক
২০. জনসংখ্যার দিক থেকে বাংলাদেশের অবস্থান কত?  
K ৬ষ্ঠ L ৮ম M ৯ম N ১০ম
২১. স্বনির্ভর বাংলাদেশ কত সালে আত্মপ্রকাশ করে?  
K ১৯৭২ L ১৯৭৩  
M ১৯৭৪ N ১৯৭৪
২২. কত সাল থেকে বাংলাদেশে মূল্য সংযোজন কর চালু করা হয়েছে?  
K ১৯৯০-৯১ L ১৯৯১-৯২  
M ১৯৯২-৯৩ N ১৯৯৩-৯৪
২৩. বাংলাদেশে অসীম বিহিত অর্থ কোনটি?  
i. ৫ টাকা  
ii. ১০ টাকা  
iii. ২০ টাকা  
নিচের কোনটি সঠিক?  
K i L iii M i ও iii N i, ii ও iii
২৪. বাংলাদেশে কয়টি গ্যাসক্ষেত্র থেকে গ্যাস উত্তোলন করা হয়?  
K ১৮টি L ১৯টি M ২০টি N ২১টি
২৫. রহিম সাহেব তুলা থেকে সুতা তৈরি করেন। সুতা কোন ধরনের পণ্য?  
K মাধ্যমিক দ্রব্য L প্রাথমিক দ্রব্য  
M জাতীয় দ্রব্য N চূড়ান্ত দ্রব্য
২৬. ওষুধ ও কেরোসিনের ওপর কোন কর ধার্য করা হয়?  
K বাণিজ্য শুল্ক L আয়কর  
M আবগারি শুল্ক N মূল্য সংযোজন কর
- উদ্দীপকটি পড়ে ২৭ ও ২৮নং প্রশ্নের উত্তর দাও :  
শরীফ সাবান কেনার জন্য বাজারে যায়। বাজারে বিক্রেতা তাকে লাইফবয় সাবান দেয়। কিন্তু সাবানের মোড়ক সুন্দর দেখে সে একটি লাঙ্গ সাবান নিয়ে আসে।
২৭. শরীফ যে বাজার থেকে সাবান কিনল সেটি কোন ধরনের বাজার?  
K পূর্ণ প্রতিযোগিতা  
L একচেটিয়া  
M ডুয়োপলি  
N একচেটিয়া প্রতিযোগিতা
২৮. শরীফ যে বাজার থেকে সাবান কেনে সে বাজারের বৈশিষ্ট্য হলো—  
i. বিজ্ঞাপন ও বিক্রয় খরচ  
ii. অসংখ্য ক্রেতা ও বিক্রেতা  
iii. পণ্যের একক সমজাতীয় হলেও অভিন্ন নয়  
নিচের কোনটি সঠিক?  
K i ও ii L i ও iii  
M ii ও iii N i, ii ও iii
২৯. বাংলাদেশে কোন ধরনের অর্থব্যবস্থা চালু আছে?  
K মিশ্র L ধনাত্মক  
M সমাজতান্ত্রিক N ইসলামি
৩০. কোন মহাদেশের অধিকাংশ দেশ অনুন্নত?  
K এশিয়া L আফ্রিকা  
M লাতিন আমেরিকা N সবগুলো

Self test	১   K L M N	২   K L M N	৩   K L M N	৪   K L M N	৫   K L M N	৬   K L M N	৭   K L M N	৮   K L M N	৯   K L M N	১০   K L M N
	১১   K L M N	১২   K L M N	১৩   K L M N	১৪   K L M N	১৫   K L M N	১৬   K L M N	১৭   K L M N	১৮   K L M N	১৯   K L M N	২০   K L M N
	২১   K L M N	২২   K L M N	২৩   K L M N	২৪   K L M N	২৫   K L M N	২৬   K L M N	২৭   K L M N	২৮   K L M N	২৯   K L M N	৩০   K L M N

উত্তরমালা	১   L	২   M	৩   N	৪   K	৫   M	৬   K	৭   N	৮   L	৯   M	১০   L	১১   N	১২   K	১৩   L	১৪   K	১৫   N
	১৬   M	১৭   K	১৮   N	১৯   L	২০   M	২১   N	২২   L	২৩   N	২৪   M	২৫   K	২৬   M	২৭   N	২৮   N	২৯   K	৩০   N



**৩৮** **ইউনিভার্সিটি ল্যাবরেটরি স্কুল এন্ড কলেজ, ঢাকা**

বিষয় কোড : **141**

সময় : ৩০ মিনিট

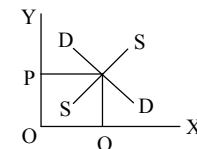
**অর্থনীতি** **বহুনির্বাচনি অভীক্ষা**

পূর্ণমান : ৩০

[বিশেষ দ্রষ্টব্য : সরবরাহকৃত বহুনির্বাচনি অভীক্ষার উত্তরপত্রে প্রশ্নের ক্রমিক নম্বরের বিপরীতে প্রদত্ত বর্ণসংবলিত বৃত্তসমূহ হতে সঠিক/সর্বোৎকৃষ্ট উত্তরের বৃত্তটি বল পয়েন্ট কলম দ্বারা সম্পূর্ণ ভরাট কর। প্রতিটি প্রশ্নের মান ১। প্রশ্নপত্রে কোনো প্রকার দাগ/চিহ্ন দেওয়া যাবে না।]

- মোট দেশজ উৎপাদন বৃদ্ধির গুরুত্বপূর্ণ মৌলিক নির্ধারক কোনটি?  
K ভূমি L শ্রম M মূলধন N প্রযুক্তি
- সসীম বিহিত অর্থ কোনটি?  
K ৫ টাকার নোট  
L ৫ টাকার ধাতব মুদ্রা  
M ১০ টাকার নোট  
N ২০ টাকার নোট
- সমাজতান্ত্রিক অর্থব্যবস্থার বৈশিষ্ট্য কোনটি?  
K সর্বোচ্চ মুনাফা অর্জন  
L ভোক্তার স্বাধীনতার অভাব  
M অবাধ প্রতিযোগিতা  
N আয় বৈষম্য বিদ্যমান
- দ্রব্যসামগ্রীর মূল্য বেড়ে গেলে—  
i. মানুষের ক্রয়ক্ষমতা কমে  
ii. বেকারত্ব হ্রাস পায়  
iii. অর্থের মূল্য বৃদ্ধি পায়  
নিচের কোনটি সঠিক?  
K i ও ii L ii ও iii M i ও iii N i, ii ও iii
- একজন সংগঠকের আয় কোনটি?  
K খাজনা L মজুরি M মুনাফা N সুদ
- মৌমাছি চাষ কোন খাতের অন্তর্গত?  
K কৃষি L সেবা M শিল্প N বাণিজ্য
- বাংলাদেশে কত সাল থেকে মূল্য সংযোজন কর চালু করা হয়েছে?  
K ১৯৯৩ - ৯৪ L ১৯৯২ - ৯৩  
M ১৯৯০ - ৯১ N ১৯৯১ - ৯২
- সরকার একটি বাড়ি একটি খামার প্রকল্পের অংশীদার কোন ব্যাংক?  
K গ্রামীণ ব্যাংক  
L সমবায় ব্যাংক  
M কৃষি ব্যাংক  
N ডেভেলপমেন্ট ব্যাংক
- 'মনোপলি' শব্দের অর্থ কী?  
K একজন বিক্রেতা  
L অল্পসংখ্যক বিক্রেতা  
M অনেক বিক্রেতা  
N একজন বিক্রেতা ও একজন ক্রেতা
- স্বাস্থ্য ও সেবাখাতের বিষয়টি হিসাব করা হয় কোন পদ্ধতিতে?  
K উৎপাদন পদ্ধতিতে  
L আয় পদ্ধতিতে  
M ব্যয় পদ্ধতিতে  
N ব্যক্তিগত হিসাবের মাধ্যমে
- বাংলাদেশের শ্রমশক্তির কত ভাগ শিল্পখাতে নিয়োজিত?  
K ২০.৭০ শতাংশ L ১৭.৬৪ শতাংশ  
M ৩০.৬৪ শতাংশ N ২৩.৬৪ শতাংশ

- অর্থনৈতিক প্রবৃদ্ধি কী?  
K অর্থনৈতিক উন্নয়ন  
L জিডিপি বৃদ্ধির হার  
M অর্থনৈতিক গুণগত পরিবর্তন  
N জীবনযাত্রার মান উন্নয়ন
- উদ্দীপকটি পড়ে ১৩ ও ১৪নং প্রশ্নের উত্তর দাও :  
সফিক পড়াশুনা শেষ করে ব্যাংকিং পেশা হিসেবে নিতে উচ্ছুক। তবে সে দেশের প্রধান ব্যাংকটির ব্যাংকার হতে চায়, যা অন্যান্য ব্যাংকের অভিভাবক।
- সফিক যে ব্যাংকের ব্যাংকার হতে চায় তার নাম কী?  
K বাণিজ্যিক ব্যাংক L কেন্দ্রীয় ব্যাংক  
M শিল্প ব্যাংক N গ্রামীণ ব্যাংক
- সফিকের ব্যাংকটির ঋণ নিয়ন্ত্রণের উদ্দেশ্যগুলো হলো—  
i. মুদ্রাস্ফীতি রোধ করা  
ii. অর্থনৈতিক স্থিতিশীলতা বজায় রাখা  
iii. সঞ্চয় সংগ্রহ করা  
নিচের কোনটি সঠিক?  
K i ও ii L ii ও iii M i ও ii N i, ii ও iii
- বেসরকারিকরণ বোর্ড কত সালে গঠিত হয়?  
K ১৯৮৮ L ১৯৯১  
M ১৯৯২ N ১৯৯৩
- মহিলা ও শিশু বিষয়ক মন্ত্রণালয় কর্তৃক গৃহীত কর্মসূচির নাম কী?  
K ডিজিডি  
L ডিজিএফ  
M টেস্টরিফ  
N কৃত্রিম প্রজনন কর্মসূচি
- চা ও চিনির উৎপাদনের ওপর কোনটি ধার্য করা হয়?  
K বাণিজ্য শুল্ক  
L আমদানি শুল্ক  
M আবগারি শুল্ক  
N মূল্য সংযোজন কর
- দেশের প্রশাসনিক কাজকর্ম পরিচালনায় কোন বাজেট ব্যয় করা হয়?  
K চলতি বাজেট  
L উদ্বৃত্ত বাজেট  
M সুখম বাজেট  
N মূলধনী বাজেট
- মুদ্রাস্ফীতি ঘটলে কী হয়?  
K অর্থের মান কমে  
L দ্রব্যমূল্য কমে  
M অর্থমূল্য বাড়ে  
N অর্থমূল্য অপরিবর্তিত থাকে
- বাসনপত্র, সেনিটারি দ্রব্য তৈরিতে কোনটি ব্যবহৃত হয়?  
K চূনাপাথর L চীনা মাটি  
M গন্ধক N সিলিকাবালু

- প্রান্তিক উপযোগ ঋণাত্মক হলে মোট উপযোগ কী হয়?  
K শূন্য L স্থির  
M ক্রমহ্রাসমান N ক্রমবর্ধমান
- অ-প্রকাশ্য ব্যয় হলো—  
i. কাঁচামাল ক্রয়  
ii. উদ্যোক্তার নিজের শ্রম  
iii. স্বনিয়োজিত সম্পদ  
নিচের কোনটি সঠিক?  
K i ও ii L i ও iii M ii ও iii N i, ii ও iii
- শারীরিক যোগ্যতা কী ধরনের সম্পদ?  
K ব্যক্তিগত L প্রাকৃতিক  
M সমষ্টিগত N মানবিক
- ছত্রবেকারত্ব দেখা যায়—  
K সেবাখাতে L শিল্পখাতে  
M ব্যবসায় N কৃষিখাতে
- কোনটি কর বহির্ভূত রাজস্ব?  
K টোল ও লেভি L আবগারি শুল্ক  
M মাদক শুল্ক N ভূমি রাজস্ব
- জাতীয় আয় = ?  
K খাজনা + মজুরি + মুনাফা  
L সুদ + মুনাফা + মজুরি  
M খাজনা + মজুরি + সুদ + মুনাফা  
N খাজনা + ভোগ + সুদ + রপ্তানি
- মূলধনের সুদকে কী ধরনের ব্যয় বলে?  
K প্রকাশ্য ব্যয় L অপ্রকাশ্য ব্যয়  
M প্রকৃত উৎপাদন ব্যয় N সামাজিক ব্যয়
- উদ্দীপকটি পড়ে ২৮ ও ২৯নং প্রশ্নের উত্তর দাও :  

- রেখাচিত্রটি দ্বারা কী বোঝানো হয়েছে?  
K চাহিদার পরিমাণ  
L যোগানের পরিমাণ  
M উৎপাদনের  
N ভারসাম্য দাম ও পরিমাণ
- চিত্রে E বিন্দুতে চাহিদা ও যোগানের অবস্থা হলো—  
i. চাহিদা > যোগান  
ii. চাহিদা < যোগান  
iii. চাহিদা = যোগান  
নিচের কোনটি সঠিক?  
K i L iii M ii N i, ii ও iii
- পোশাক শিল্পে কর্মরত শ্রমিকদের পরিশ্রম উৎপাদনের কোন উপকরণ?  
K ভূমি L শ্রম M মূলধন N সংগঠন

Self test	১ K L M N	২ K L M N	৩ K L M N	৪ K L M N	৫ K L M N	৬ K L M N	৭ K L M N	৮ K L M N	৯ K L M N	১০ K L M N
	১১ K L M N	১২ K L M N	১৩ K L M N	১৪ K L M N	১৫ K L M N	১৬ K L M N	১৭ K L M N	১৮ K L M N	১৯ K L M N	২০ K L M N
	২১ K L M N	২২ K L M N	২৩ K L M N	২৪ K L M N	২৫ K L M N	২৬ K L M N	২৭ K L M N	২৮ K L M N	২৯ K L M N	৩০ K L M N

উত্তরমালা	১ M	২ L	৩ L	৪ K	৫ M	৬ K	৭ N	৮ L	৯ K	১০ M	১১ K	১২ L	১৩ L	১৪ M	১৫ N
	১৬ K	১৭ M	১৮ K	১৯ K	২০ L	২১ M	২২ M	২৩ N	২৪ N	২৫ K	২৬ M	২৭ K	২৮ N	২৯ L	৩০ L

## ৩৯ উইলস লিটল ফ্লাওয়ার স্কুল এন্ড কলেজ, ঢাকা

বিষয় কোড : 141

সময় : ৩০ মিনিট

## অর্থনীতি বহুনির্বাচনি অভীক্ষা

পূর্ণমান : ৩০

১. অর্থশাস্ত্র গ্রন্থটির রচয়িতা কে?  
K এরিস্টটল L প্লেটো  
M অমর্তা সেন N কোটিল্য
২. স্বয়ংক্রিয় দাম ব্যবস্থায় বা ধনতান্ত্রিক অর্থনীতিতে যে অদৃশ্য শক্তির কথা বলা হয়েছে সে শক্তির উৎস-  
i. দাম ও দ্রব্য  
ii. ক্রেতা ও বিক্রেতা  
iii. চাহিদা ও যোগান  
নিচের কোনটি সঠিক?  
K i ও ii L i ও iii  
M ii ও iii N i, ii ও iii
- উদ্দীপকটি পড়ে ৩ ও ৪নং প্রশ্নের উত্তর দাও :  
রাজিব সম্প্রতি সরকারের প্রশাসনিক বিভাগের একটি গুরুত্বপূর্ণ পদে নিয়োগ পেয়েছেন। কিন্তু আন্তরিক ইচ্ছা থাকা সত্ত্বেও তিনি জাতীয় আয়, দাম ব্যবস্থা, বিনিয়োগ ইত্যাদি বিষয়গুলো যথেষ্ট দক্ষতা দেখাতে পারছেন না। তার সহকর্মী রফিক তাকে সম্পদের বিজ্ঞানের ওপর জ্ঞান অর্জনের পরামর্শ দেন।
৩. রফিক সাহেব সম্পদের বিজ্ঞান বলতে কোন বিষয়কে বুঝিয়েছেন?  
K সমাজবিজ্ঞান L অর্থনীতি  
M রাষ্ট্রবিজ্ঞান N সমাজকল্যাণ
৪. রফিক সাহেবের পরামর্শ রাজিব সাহেবকে সাহায্য করবে-  
i. অর্থনীতির জ্ঞান অর্জন করতে  
ii. অর্থনীতির মৌলিক বিষয়গুলো জানতে  
iii. অর্থনীতির সমালোচনা করতে  
নিচের কোনটি সঠিক?  
K i ও ii L i ও iii  
M ii ও iii N i, ii ও iii
৫. একজন কৃষক ধান চাষ না করে গম চাষ করার সিদ্ধান্ত নেয়। এখানে কৃষক গম চাষের সিদ্ধান্ত নেয় কিসের ভিত্তিতে?  
K উপযোগ L সুযোগ ব্যয়  
M যোগান N চাহিদা
৬. সম্বন্ধের সমীকরণ কোনটি?  
K  $Y = S - C$  L  $S = Y - C$   
M  $C = Y + S$  N  $S = Y + C$
৭. কর্মসংস্থানের দিক দিয়ে কোন খাতটি বাংলাদেশের সবচাইতে বড় খাত?  
K শিল্পখাত L কৃষিখাত  
M বাণিজ্যখাত N সেবাখাত
৮. চাহিদা বিধি কার্যকর হয়, যখন আয়-  
K স্থির থাকে L হ্রাস-বৃদ্ধি হয়  
M বেড়ে যায় N হ্রাস পায়
৯. ন্যূনতম কতজন ব্যক্তির চাহিদা যোগ করলে বাজার চাহিদা পাওয়া যায়?  
K ১ L ২ M ৩ N ৪
১০. যোগান রেখা-  
K ডান দিকে নিম্নগামী  
L বাম দিকে উর্ধ্বগামী  
M ডানদিকে উর্ধ্বগামী  
N ডান দিকে নিম্নগামী
১১. মানুষ কর্তৃক উৎপাদিত একমাত্র উৎপাদনের উপকরণ কোনটি?  
K ভূমি L শ্রম  
M মূলধন N সংগঠন
১২. মানবিক কষ্ট কোন ধরনের ব্যয়?  
K প্রকৃত উৎপাদন ব্যয়  
L পরিবহন বাবদ ব্যয়  
M শ্রমিকের মজুরি  
N আর্থিক উৎপাদন ব্যয়
১৩. বস্তুর রূপগত উপযোগ সৃষ্টি করে-  
i. দ্রব্যের রূপ পরিবর্তন করে  
ii. বস্তুর মালিকানা পরিবর্তন করে  
iii. বস্তুর আকৃতি পরিবর্তন করে  
নিচের কোনটি সঠিক?  
K i ও ii L i ও iii  
M ii ও iii N i, ii ও iii
১৪. ক্রেতা ও বিক্রেতার মধ্যে চিন্তাভাবনার পরিবর্তন দেখা যায় কেন?  
K রুচির পার্থক্য  
L মৌলিক বৈশিষ্ট্যের জন্য  
M অভ্যাসের কারণে  
N আচরণের কারণে
১৫. 'বাংলাদেশ অক্সিজেন' কোন ধরনের উদাহরণ?  
K ডুয়োপলি বাজার  
L অলিগোপলি বাজার  
M একচেটিয়া বাজার  
N মনোপসনি বাজার
১৬. একচেটিয়া প্রতিযোগিতামূলক বাজারে উৎপাদিত দ্রব্য-  
i. পৃথকীকরণ করা যায়  
ii. সমজাতীয় নয়  
iii. গুণগত মানসম্পন্ন  
নিচের কোনটি সঠিক?  
K i ও ii L i ও iii  
M ii ও iii N i, ii ও iii
১৭. নিট জাতীয় আয় নির্ণয় করতে গেলে কোন সূত্রটি ব্যবহার করা হয়?  
K  $NNI = GDP - CCA$   
L  $NNI = GDP + CCA$   
M  $NNI = GNP - GDP$   
N  $NNI = GDP - (X - M)$
- উদ্দীপকটি পড়ে ১৮ ও ১৯নং প্রশ্নের উত্তর দাও :  
জাফর আলী তার ২ একর জমিতে সনাতন পদ্ধতিতে চাষ করে ৬ মণ ধান পায়, পরের বছর একটি প্রশিক্ষণ কর্মসূচিতে অংশ নিয়ে আধুনিক পদ্ধতিতে ধান চাষ করে ৮০ মণ ধান উৎপাদন করে।
১৮. উৎপাদন বৃদ্ধির ক্ষেত্রে জাফর আলী নিচের কোনটির সাহায্য নেয়?  
K ভূমির L শ্রমের  
M মূলধনের N প্রযুক্তির
১৯. জাফল আলীর উৎপাদন বৃদ্ধি অর্থনীতিতে ভূমিকা রাখে-  
i. GDP বৃদ্ধি করে  
ii. রেমিটেন্স বৃদ্ধি করে  
iii. GNP বৃদ্ধি করে  
নিচের কোনটি সঠিক?  
K i ও ii L i ও iii  
M ii ও iii N i, ii ও iii
২০. প্রামাণিক মুদ্রা বলতে কী বোঝায়?  
K যে মুদ্রার দৃশ্যমান মূল্য তার ধাতব মূল্যের চেয়ে বেশি  
L যে মুদ্রার দৃশ্যমান মূল্য তার ধাতব মূল্যের চেয়ে কম  
M যে মুদ্রার দৃশ্যমান মূল্য তার ধাতব মূল্যের সমান  
N যে মুদ্রার দৃশ্যমান মূল্য তার ধাতব মূল্যের সম্পর্ক নেই
২১. গ্রহণের বাধ্যবাধতার দিক থেকে অর্থকে কয়ভাগে ভাগ করা যায়?  
K দুই ভাগে L তিন ভাগে  
M চার ভাগে N পাঁচ ভাগে
২২. ঋণের আধিক্যের জন্য কী হয়?  
K মুদ্রাস্ফীতি L মূল্য বৃদ্ধি  
M মুদ্রা সংকোচন N মুদ্রা পরিবর্তন
২৩. হোটেল, রেস্তোরাঁ কোন ধরনের খাতের অন্তর্ভুক্ত?  
K সেবা L স্বাস্থ্য  
M বিপণন N সামাজিক
২৪. বাংলাদেশের কোথায় চিনি শিল্প গড়ে উঠেছে?  
K উত্তরাঞ্চল L ঢাকায়  
M সিলেটে N চট্টগ্রামে
২৫. বাংলাদেশের অর্থনীতির বৈশিষ্ট্য-  
i. মাথাপিছু আয়ের কর্মবৃদ্ধি  
ii. জীবনযাত্রার ক্রমোন্নতি  
iii. খাদ্য ঘাটতি  
নিচের কোনটি সঠিক?  
K i ও ii L i ও iii  
M ii ও iii N i, ii ও iii
২৬. উন্নত বিশ্বে মূলধনের গুরুত্ব বেশি কেন?  
K প্রাকৃতিক কারণে L জনসংখ্যার কারণে  
M ভূমির কারণে N শ্রমের কারণে
২৭. 'স্বনির্ভর বাংলাদেশ' কবে তৃণমূল জনগোষ্ঠীর আর্থসামাজিক উন্নয়নে কাজ শুরু করে?  
K ১৯৮৫ সালে L ১৯৭৪ সালে  
M ১৯৭৩ সালে N ১৯৭৫ সালে
২৮. বাংলাদেশ পরিসংখ্যান ব্যুরোর আয়-ব্যয় জরিপ অনুযায়ী ২০১০ সালে এ দেশের দারিদ্র্যের হার কত?  
K ৫০.১ L ৪০.০ M ৩১.৫ N ৩৫.২
২৯. বাংলাদেশে কত সালে VAT চালু হয়?  
K ১৯৮১ L ১৯৯১  
M ১৯৯৫ N ২০০১
৩০. বাংলাদেশের কোন দ্রব্যের উপর আবগারি শুল্ক ধার্য করা হয়?  
K চা L সিগারেট  
M তামাক N সবগুলো

Self test	১ K L M N	২ K L M N	৩ K L M N	৪ K L M N	৫ K L M N	৬ K L M N	৭ K L M N	৮ K L M N	৯ K L M N	১০ K L M N
	১১ K L M N	১২ K L M N	১৩ K L M N	১৪ K L M N	১৫ K L M N	১৬ K L M N	১৭ K L M N	১৮ K L M N	১৯ K L M N	২০ K L M N
	২১ K L M N	২২ K L M N	২৩ K L M N	২৪ K L M N	২৫ K L M N	২৬ K L M N	২৭ K L M N	২৮ K L M N	২৯ K L M N	৩০ K L M N

উত্তরসূত্র	১ N	২ M	৩ L	৪ K	৫ L	৬ L	৭ L	৮ K	৯ L	১০ M	১১ M	১২ K	১৩ L	১৪ L	১৫ M
	১৬ L	১৭ K	১৮ N	১৯ L	২০ M	২১ K	২২ K	২৩ K	২৪ K	২৫ N	২৬ K	২৭ N	২৮ M	২৯ L	৩০ N

৪০ ✓ নাটোর সরকারি বালক উচ্চ বিদ্যালয়

বিষয় কোড : 141

সময় : ৩০ মিনিট

অর্থনীতি ❶ বহ্নিবর্ষাচনি অভীক্ষা

পূর্ণমান : ৩০

[বিশেষ দ্রষ্টব্য : সরবরাহকৃত বহ্নিবর্ষাচনি অভীক্ষার উত্তরপত্রে প্রশ্নের ক্রমিক নম্বরের বিপরীতে প্রদত্ত বর্ষসংবলিত বৃত্তসমূহ হতে সঠিক/ সর্বোৎকৃষ্ট উত্তরের বৃত্তটি বল পয়েন্ট কলম দ্বারা সম্পূর্ণ ভরাট কর। প্রতিটি প্রশ্নের মান ১। প্রশ্নপত্রে কোনো প্রকার দাগ/চিহ্ন দেওয়া যাবে না।]

১. গ্রিক শব্দ Oikonomia- এর অর্থ-  
K গৃহ ব্যবস্থাপনা  
L সমাজ ব্যবস্থাপনা  
M অর্থ ব্যবস্থাপনা  
N ব্যবসায় ব্যবস্থাপনা
২. দারিদ্র্যের দুইচক্র ধারণার প্রবর্তক কে?  
K মার্শাল L কুর্নট  
M র্যাগনার নার্কস N অ্যাডাম স্মিথ
৩. অর্থনীতির জনক কাকে বলা হয়?  
K অ্যাডাম স্মিথ L মার্শাল  
M রবিনস N স্যামুয়েলসন
৪. অর্থনীতির চর্চা শুরু হয় সর্বপ্রথম কোন দেশে?  
K গ্রিসে L মিসরে  
M ইংল্যান্ডে N আমেরিকায়
৫. অর্থনৈতিক দিক দিয়ে বাংলাদেশের অবস্থান কীরূপ?  
K উন্নত L অনুন্নত  
M উন্নয়নশীল N নিম্নমানের
৬. প্রান্তিক উপযোগ ঋনাত্মক হলে মোট উপযোগ-  
K বৃদ্ধি পায় L কমে যায়  
M সমান থাকে N শূন্য হয়
৭. EPZ-এর অর্থ কী?  
K Export Procurement Zone  
L Export Product Zone  
M Export Processing Zone  
N Export Producing Zone
৮. বাজারের উপাদান কয়টি?  
K ২টি L ৩টি M ৪টি N ৫টি
৯. পূর্ণ প্রতিযোগিতার বাজারে-  
K দুই জন বিক্রেতা থাকে  
L কয়েকজন বিক্রেতা থাকে  
M একজন বিক্রেতা থাকে  
N বহুসংখ্যক ক্রেতা-বিক্রেতা থাকে
১০. ধনতান্ত্রিক রাষ্ট্রের বৈশিষ্ট্য-  
K আয় বৈষম্য  
L কেন্দ্রীয় পরিকল্পনা  
M জোক্তার স্বাধীনতার অভাব  
N সুদমুক্ত অমানত
১১. প্রদত্ত চিত্রে B বিন্দুতে বাজারের কোন অবস্থাকে নির্দেশ করছে?  
K চাহিদা যোগানের চেয়ে কম  
L চাহিদা যোগানের চেয়ে বেশি  
M যোগান বেশি  
N কোনোটিই নয়  
[বি. প্র. প্রশ্নটি অসম্পূর্ণ]
১২. গ্রামীণ ব্যাংক প্রতিষ্ঠিত হয়-  
K ১৯৮১ সালে L ১৯৮২ সালে  
M ১৯৮৩ সালে N ১৯৮৫ সালে
১৩. ফেডারেল রিজার্ভ সিস্টেম কোন দেশের কেন্দ্রীয় ব্যাংক?  
K যুক্তরাজ্য L যুক্তরাষ্ট্র  
M কানাডা N পাকিস্তান

১৪. VAT কোন ধরনের কর?  
K প্রত্যক্ষ কর L পরোক্ষ কর  
M ভূমি কর N আয় কর
  ১৫. বাজেট সাধারণত কত প্রকার?  
K ১ প্রকার L ৩ প্রকার  
M ২ প্রকার N ৪ প্রকার
  ১৬. বাণিজ্য শুল্ক আরোপ করা হয়-  
i. আমদানিকৃত পণ্যের ওপর  
ii. উৎপাদিত পণ্যের ওপর  
iii. রপ্তানিকৃত পণ্যের ওপর  
নিচের কোনটি সঠিক?  
K i ও ii L ii ও iii  
M i ও iii N i, ii ও iii
  ১৭. অর্থনীতির প্রধান আলোচ্য বিষয় হলো-  
K মানুষের অর্থনৈতিক উন্নতি সাধন  
L ব্যবসায় বাণিজ্য করা  
M সীমিত সম্পদ দ্বারা অসীম অভাব পূরণের চেষ্টা  
N সম্পদ ও প্রান্তির ব্যবহার
  ১৮. উদ্যোক্তাকে শিল্পাধিনায়ক বলেছেন কে?  
K মার্শাল L ইউনুস  
M হ্যানসেন N রবিন
  - উদ্দীপকটি পড়ে ১৯ ও ২০নং প্রশ্নের উত্তর দাও :  
রাহেলার একটি সেলাই মেশিন আছে। এর মাধ্যমে তিনি মাসিক দশ হাজার টাকা আয় করেন। তিনি সকল খরচ বাদ দিয়ে মাসে কিছু টাকা সঞ্চয় করেন। সঞ্চয়ের টাকা থেকে এ বছর তিনি নতুন আরেকটি সেলাই মেশিন ক্রয় করেন।
  ১৯. রাহেলার নতুন সেলাই মেশিন ক্রয়কে অর্থনীতিতে কী বলে?  
K সঞ্চয় L মূলধন  
M বিনিয়োগ N সুযোগ ব্যয়
  ২০. রাহেলার শেখোক্ত কাজের মাধ্যমে-  
i. পারিবারিক নিরাপত্তা বাড়বে  
ii. সন্তানের প্রতি দায়িত্ব বাড়বে  
iii. কর্মসংস্থান বৃদ্ধি পাবে  
নিচের কোনটি সঠিক?  
K i ও ii L i ও iii  
M ii ও iii N i, ii ও iii
  - উদ্দীপকটি পড়ে ২১ ও ২২নং প্রশ্নের উত্তর দাও :  
তাহসিনের ভোগকৃত পেয়ারার উপযোগ সূচি দেওয়া হলো-
- | দ্রব্যের একক | মোট উপযোগ | প্রান্তিক উপযোগ |
|--------------|-----------|-----------------|
| ১            | ৫         | ৫               |
| ২            | ৯         | ৫               |
| ৩            | ১২        | □               |
২১. তাহসিনের ৩য় পেয়ারার প্রান্তিক উপযোগ কত?  
K ৫ টাকা L ৪ টাকা  
M ৩ টাকা N ২ টাকা

২২. তাহসিনের উক্ত আচরণে-  
i. স্বাভাবিক অবস্থা প্রকাশ পেয়েছে  
ii. পেয়ারার প্রতি আকর্ষণ অপরিবর্তিত রয়েছে  
iii. পেয়ারার প্রতি প্রান্তিক উপযোগ ক্রমাগত কমেছে  
নিচের কোনটি সঠিক?  
K i ও ii L ii ও iii  
M i ও iii N i, ii ও iii
২৩. কোন ধরনের ব্যয় ফার্মের হিসাব বইতে থাকে না?  
K স্থির ব্যয় L মোট ব্যয়  
M প্রকাশ্য ব্যয় N অ-প্রকাশ্য ব্যয়
- উদ্দীপকটি পড়ে ২৪ ও ২৫নং প্রশ্নের উত্তর দাও :  
সিদ্দিক সাহেব রাস্তার পাশের বাজার থেকে ছোট মাছ, মুরগী নিয়ে ৮ টার সময় বাসায় আসেন। মিসেস সিদ্দিক সবজি আনতে বললে তিনি বেললেন, এখন তো আর পাওয়া যাবে না।
২৪. জনাব সিদ্দিক কোন ধরনের বাজার থেকে মাছ, মুরগী ক্রয় করেন?  
K অতি স্বল্পকালীন L দীর্ঘকালীন  
M অতি দীর্ঘকালীন N স্বল্পকালীন
২৫. উক্ত বাজারের বৈশিষ্ট্য হলো-  
i. দ্রব্যের কেনাবেচার জন্য অনেক লোকের আগমন  
ii. বিক্রিত দ্রব্যগুলোর গুণাগুণ ও গঠন প্রকৃতি একই ধরনের  
iii. একই ব্যক্তি বাজারের দ্রব্যের যোগান নিয়ন্ত্রণ করে  
নিচের কোনটি সঠিক?  
K i ও ii L ii ও iii  
M i ও iii N i, ii ও iii
২৬. জনপ্রতি বার্ষিক আয়কে কী বলে?  
K জাতীয় আয় L নিট আয়  
M জিডিপি N মাথাপিছু আয়
২৭. জাতীয় আয় গণনায় নিচের কোনটি ধরা হয়?  
K চূড়ান্ত দ্রব্য ও সেবার মূল্য  
L মাধ্যমিক দ্রব্য ও সেবার মূল্য  
M সরকারি ঋণের সুদ  
N দুর্নীতির মাধ্যমে অর্জিত আয়
২৮. বাণিজ্যিক ব্যাংকের প্রথম ও প্রধান কাজ কোনটি?  
K ঋণদান  
L আমানত গ্রহণ  
M অর্থ স্থানান্তর করা  
N বিনিময়ের মাধ্যমে সৃষ্টি
২৯. নিচের কোন মুদ্রা যেকোনো পরিমাণে লেনদেন করা যায়?  
K ২ টাকার কয়েন  
L ২ টাকার কাগজি মুদ্রা  
M ৫ টাকার কয়েন  
N ৫ টাকার কাগজি মুদ্রা
৩০. উন্নয়ন কী?  
K প্রবৃদ্ধির একটি অংশ  
L মাথাপিছু আয় বৃদ্ধি  
M জাতীয় আয় বৃদ্ধি  
N প্রবৃদ্ধির সাথে অন্যান্য বিষয়ের সুফল

Self test	১	K L M N	২	K L M N	৩	K L M N	৪	K L M N	৫	K L M N	৬	K L M N	৭	K L M N	৮	K L M N	৯	K L M N	১০	K L M N
	১১	K L M N	১২	K L M N	১৩	K L M N	১৪	K L M N	১৫	K L M N	১৬	K L M N	১৭	K L M N	১৮	K L M N	১৯	K L M N	২০	K L M N
	২১	K L M N	২২	K L M N	২৩	K L M N	২৪	K L M N	২৫	K L M N	২৬	K L M N	২৭	K L M N	২৮	K L M N	২৯	K L M N	৩০	K L M N

উত্তরমালা	১	K	২	M	৩	K	৪	K	৫	M	৬	L	৭	M	৮	M	৯	N	১০	K	১১	*	১২	M	১৩	L	১৪	L	১৫	M
	১৬	M	১৭	M	১৮	K	১৯	M	২০	N	২১	M	২২	M	২৩	N	২৪	K	২৫	K	২৬	N	২৭	K	২৮	L	২৯	N	৩০	N

## 81 কুষ্টিয়া সরকারি বালিকা উচ্চ বিদ্যালয়

বিষয় কোড : 141

সময় : ৩০ মিনিট

অর্থনীতি বহুনির্বাচনী অধীক্ষা

পূর্ণমান : ৩০

বিশেষ দ্রষ্টব্য : সরবরাহকৃত বহুনির্বাচনী অধীক্ষার উত্তরপত্রে প্রশ্নের ক্রমিক নম্বরের বিপরীতে প্রদত্ত বর্ণসংবলিত বৃত্তসমূহ হতে সঠিক/সর্বোৎকৃষ্ট উত্তরের বৃত্তটি বল পয়েন্ট কলম দ্বারা সম্পূর্ণ ভরাট কর। প্রতিটি প্রশ্নের মান ১। প্রশ্নপত্রে কোনো প্রকার দাগ/চিহ্ন দেওয়া যাবে না।

১. অধ্যাপক মার্শাল কিসের ওপর অধিক গুরুত্ব আরোপ করেন—

K সম্পদ L উৎপাদক  
M মানবকল্যাণ N চাহিদা

২. সাধারণ মানুষ কোন পর্যায়ে চিন্তা করে?

K বৃহৎ পরিসরে L প্রান্তিক পর্যায়ে  
M সামষ্টিক পর্যায়ে N ব্যক্তিক পর্যায়ে

৩. মানুষ কীভাবে তার প্রয়োজনীয় অভাব পূরণ করে?

K নির্বাচনের মাধ্যমে  
L সীমিত সম্পদের মাধ্যমে  
M ভোগের মাধ্যমে  
N কোনোটাই নয়

৪. বাংলাদেশে কয়লা পাওয়া যায়—

i. সিলেট ii. রাজশাহী iii. ব্রাহ্মণবাড়িয়ায়  
নিচের কোনটি সঠিক?

K i ও iii L i ও ii  
M ii ও iii N i, ii ও iii

৫. বর্তমানে কতটি গ্যাসক্ষেত্র থেকে গ্যাস উত্তোলন হচ্ছে?

K ৭টি L ১৭টি M ২০টি N ২৩টি

৬. আধুনিক বিশ্ব কোন শক্তির উপর বিশেষ গুরুত্ব দিচ্ছে?

K আনবিক L জৈব গ্যাস  
M প্রাকৃতিক গ্যাস N সৌরতাপ

৭. দাম কমলে চাহিদা বাড়ে, দাম বাড়লে চাহিদা কমে কিন্তু কোন পরিস্থিতিতে দাম বাড়লেও চাহিদা বাড়ে?

K যোগান বৃদ্ধি পেলে  
L ভোক্তার আয় বৃদ্ধি পেলে  
M উৎপাদন বৃদ্ধি পেলে  
N ভোক্তার রুচি অপরিবর্তিত থাকলে

নিচের সূচি দেখে ৮ ও ৯নং প্রশ্নের উত্তর দাও :

প্রতি একক দ্রব্যের দাম (টাকা)	দ্রব্যের পরিমাণ (একক)
১০	১০০
১৫	৭৫
২০	৫০

৮. উপরের সূচি দ্বারা কী বোঝানো হয়েছে?

K চাহিদা সূচি L যোগান সূচি  
M যোগান বিধি N চাহিদা বিধি

৯. উপরের সূচি থেকে রেখা অংকন করলে রেখাটি হবে—

i. বাম থেকে ডানদিকে উর্ধ্বগামী  
ii. বাম থেকে ডানদিকে নিম্নগামী  
iii. ভূমি অক্ষের সমান্তরাল

নিচের কোনটি সঠিক?

K i L iii  
M iii N i, ii ও iii

১০. জাপানের মতো দেশে উৎপাদন ক্ষেত্রে বেশি ব্যবহার হয় কোন উপাদানটি?

K ভূমি ও শ্রম L অর্থ ও সংগঠন  
M মূলধন ও সংগঠন N শ্রম ও মূলধন

১১. উৎপাদনের আদি ও মৌলিক উপাদান কোনটি?

K ভূমি L সংগঠন  
M শ্রম N মূলধন

১২. উৎপাদনের জীবন্ত উপকরণ কোনটি?

K মূলধন L শ্রম  
M ভূমি N কাঁচামাল

১৩. বাজারের সংজ্ঞা দেন কে?

K অ্যাডাম স্মিথ L মার্শাল  
M কুর্নট N ক্যানন

১৪. রূপান্তর অযোগ্য কাগজি নোট কোনটি?

K ২টাকা L ৫ টাকা  
M ১০ টাকা N ১০০০ টাকা

১৫. বাংলাদেশে কোন ধরনের বাজার খুঁজে পাওয়া যায় না?

K একচেটিয়া বাজার  
L মুদ্রা বাজার  
M পুঁজি বাজার  
N পূর্ণ প্রতিযোগিতামূলক বাজার

১৬. শাক-সবজির ক্ষেত্রে কিসের প্রেক্ষিতে GDP হিসাব করা হয়?

K চলতি পাইকারি বাজার মূল্য  
L সরবরাহ মূল্য  
M ব্যয় পদ্ধতিতে  
N চলতি খুচরা বাজার মূল্য

১৭. ২০১১-১২ সালে বিদ্যুৎ, গ্যাস ও পানি সম্পদ খাতে মোট দেশজ উৎপাদনের পরিমাণ ছিল কত কোটি টাকা?

K ১৬৩৮১ L ১৭৭১২  
M ১৮১১৪ N ১৯৮৬৮

১৮. বাংলাদেশ পরিসংখ্যান ব্যুরো GDP ও GNP নির্ণয়ে ব্যবহার করে—

i. উৎপাদন পদ্ধতি  
ii. আয় পদ্ধতি  
iii. ব্যয় পদ্ধতি

নিচের কোনটি সঠিক?

K i L i ও iii  
M ii ও iii N i, ii ও iii

১৯. ঋণ নিয়ন্ত্রণ করে কোন ব্যাংক?

K গ্রামীণ ব্যাংক L জনতা ব্যাংক  
M কেন্দ্রীয় ব্যাংক N কৃষি ব্যাংক

২০. বাণিজ্যিক ব্যাংকের প্রথম ও প্রধান কাজ কোনটি?

K বিনিময়ের মাধ্যম সৃষ্টি করা  
L ঋণদান  
M অর্থ স্থানান্তর করা  
N আমানত গ্রহণ

২১. বাংলাদেশের অসীম বিহিত অর্থ কোনটি?

K ৫ টাকা ii. ১০ টাকা iii. ২০ টাকা  
নিচের কোনটি সঠিক?

K i ও ii L iii  
M iii N i, ii ও iii

২২. সরকার কত সালে শিল্পনীতি ঘোষণা করে?

K ২০০৬ L ২০০৮  
M ২০১০ N ২০১২

২৩. দেশের মোট শ্রম শক্তির কত শতাংশ কৃষিখাতে নিয়োজিত?

K ৪৭.৫ L ৪৫.১ M ৫৩.৫ N ৫৫.৯

২৪. দারিদ্র্য বিমোচনে অসফল প্রতিবন্ধীদের জন্য বরাদ্দ বৃদ্ধি করা হলে—

i. সামাজিক নিরাপত্তা বাড়বে  
ii. পারিবারিক কষ্ট লাঘব হবে  
iii. দেশের উন্নয়নের মূলধারায় সম্পৃক্ত হবে  
নিচের কোনটি সঠিক?

K i ও ii L i ও iii  
M ii ও iii N i, ii ও iii

উদ্দীপকটি পড়ে ২৫ ও ২৬নং প্রশ্নের উত্তর দাও :



২৫. উপরের চিত্রটি কোন বিশেষ অর্থনৈতিক অবস্থা নির্দেশ করে?

K বেকারত্বের দৃষ্টচক্র  
L দারিদ্র্যের দৃষ্টচক্র  
M অভাবের দৃষ্টচক্র  
N দারিদ্র্য বণ্টন

২৬. চক্রটি কোন ধরনের দেশে বিদ্যমান?

K উন্নয়নশীল L উন্নত  
M স্বল্পোন্নত N অনুন্নত ও উন্নয়নশীল

২৭. অর্থনৈতিক প্রবৃদ্ধি কী?

K জীবন যাত্রার মান উন্নয়ন  
L অর্থনৈতিক উন্নয়ন  
M জিডিপি বৃদ্ধির হার  
N অর্থনৈতিক গুণগত পরিবর্তন

২৮. নিচের কোন কর বহির্ভূত রাজস্ব?

K ভূমি রাজস্ব L নন জুডিশিয়াল স্ট্যাম্প  
M মাদক শুল্ক N প্রশাসনিক ফি

২৯. মূলধন বাজেটের মূল লক্ষ্য হলো—

i. অর্থনৈতিক উন্নয়ন  
ii. অর্থনৈতিক প্রবৃদ্ধি অর্জন  
iii. অর্থনৈতিক স্থিতিশীলতা অর্জন

নিচের কোনটি সঠিক?

K i ও ii L i ও iii M ii ও iii N i, ii ও iii

৩০. সরকার বার্ষিক উন্নয়ন কর্মসূচি প্রণয়ন করে কেন?

K রাজস্ব আদায়ের জন্য  
L আর্থসামাজিক উন্নয়নের জন্য  
M বৈদেশিক ভারসাম্য রাখার জন্য  
N বাজেট প্রণয়নের জন্য

Self test	১ K L M N	২ K L M N	৩ K L M N	৪ K L M N	৫ K L M N	৬ K L M N	৭ K L M N	৮ K L M N	৯ K L M N	১০ K L M N
	১১ K L M N	১২ K L M N	১৩ K L M N	১৪ K L M N	১৫ K L M N	১৬ K L M N	১৭ K L M N	১৮ K L M N	১৯ K L M N	২০ K L M N
	২১ K L M N	২২ K L M N	২৩ K L M N	২৪ K L M N	২৫ K L M N	২৬ K L M N	২৭ K L M N	২৮ K L M N	২৯ K L M N	৩০ K L M N

উত্তরমালা	১ M	২ L	৩ K	৪ L	৫ M	৬ K	৭ L	৮ N	৯ L	১০ M	১১ K	১২ L	১৩ M	১৪ K	১৫ K
	১৬ K	১৭ K	১৮ L	১৯ M	২০ N	২১ N	২২ M	২৩ L	২৪ N	২৫ L	২৬ N	২৭ M	২৮ N	২৯ N	৩০ L

৪২ ✓ বিএএফ শাহীন কলেজ, যশোর

বিষয় কোড : 141

সময় : ৩০ মিনিট

অর্থনীতি ❁ বহুনির্বাচনি অভীক্ষা

পূর্ণমান : ৩০

[বিশেষ দ্রষ্টব্য : সরবরাহকৃত বহুনির্বাচনি অভীক্ষার উত্তরপত্রে প্রশ্নের ক্রমিক নম্বরের বিপরীতে প্রদত্ত বর্ণসংবলিত বৃত্তসমূহ হতে সঠিক/সর্বোৎকৃষ্ট উত্তরের বৃত্তটি বল পয়েন্ট কলম দ্বারা সম্পূর্ণ ভরাট কর। প্রতিটি প্রশ্নের মান ১। প্রশ্নপত্রে কোনো প্রকার দাগ/চিহ্ন দেওয়া যাবে না।]

- মুদ্রাস্ফীতি বাড়লে-  
K বেকারত্ব বৃদ্ধি পায়  
L দ্রব্যমূল্য কমে যায়  
M ক্রয়ক্ষমতা বৃদ্ধি পায়  
N বেকারত্ব কমে যায়
- মানুষের অর্থনৈতিক কর্মকাণ্ডের মূল প্রেরণা কোনটি?  
K অভাব পূরণ করা L চাহিদা পূরণ করা  
M উৎপাদন বৃদ্ধি করা N যোগান বৃদ্ধি করা
- 'অর্থনীতি হলো সম্পদের বিজ্ঞান'- উক্তিটি কে করেছেন?  
K ডেভিড রিকোর্ডে L অ্যাডাম স্মিথ  
M এল. রবিন্স N স্যামুয়েলসন
- ময়মনসিংহের বিজয়পুরে কোন খনিজ সম্পদটি পাওয়া যায়?  
K সিলিকা বালু L গন্ধক  
M চীনা মাটি N কয়লা
- আয় ও ভোগের মধ্যে পার্থক্যকে কী বলে?  
K বিনিয়োগ L মূলধন  
M সঞ্চয় N সুদ
- বারুদ তৈরিতে কী ব্যবহার করা হয়?  
K কঠিন শিলা L সিলিকা বালু  
M গন্ধক N কয়লা
- একটি নির্দিষ্ট সময়ে বিক্রয়যোগ্য একটি দ্রব্যের মোট পরিমাণকে কী বলে?  
K চাহিদা L যোগান  
M উপযোগ N সম্পদ
- চিত্রটি কী নির্দেশ করছে?  
  
K চাহিদার পরিমাণ  
L যোগানের পরিমাণ  
M ভারসাম্য দাম ও পরিমাণ  
N উপযোগের পরিমাণ
- মোট উপযোগ ও প্রান্তিক উপযোগের মধ্যে সম্পর্ক হলো-  
i. মোট উপযোগ বাড়লে প্রান্তিক উপযোগ কমে  
ii. মোট উপযোগ কমতে থাকলে প্রান্তিক উপযোগ বাড়তে থাকে  
iii. মোট উপযোগ সর্বাধিক হলে প্রান্তিক উপযোগ শূন্য হয়  
নিচের কোনটি সঠিক?  
K i ও ii L i ও iii M ii ও iii N i, ii ও iii
- ক্রমহ্রাসমান প্রান্তিক উৎপাদন বিধিটি সাধারণত কোন ক্ষেত্রে অধিক কার্যকর হয়?  
K কৃষিতে L বৃহৎ শিল্পে  
M সেবা খাতে N ক্ষুদ্র শিল্পে
- উৎপাদনের আদি ও মৌলিক উপকরণ কোনটি?  
K মূলধন L শ্রম  
M ভূমি N শ্রমিক
- গড় উৎপাদন ও প্রান্তিক উৎপাদনের মধ্যে কত ধরনের সম্পর্ক দেখা যায়?  
K ৩ L ৪ M ৫ N ৬
- প্রতিযোগিতার ভিত্তিতে বাজার কয় প্রকার?  
K ২ L ৩ M ৪ N ৫
- কোন ধরনের বাজারে ইচ্ছা মাফিক দ্রব্যের যোগান বৃদ্ধি করা যায় না?  
K অতি স্বল্পকালীন  
L স্বল্পকালীন  
M দীর্ঘকালীন  
N অতি দীর্ঘকালীন বাজার
- বাংলাদেশের গ্যাসের বাজার কোন ধরনের বাজার?  
K একচেটিয়া  
L অলিগোপলি  
M পূর্ণ প্রতিযোগিতা  
N ডায়োপলি
- NNI-এর পূর্ণরূপ কোনটি?  
K Net National Income  
L Net National Investment  
M Net National Import  
N Net National Improvement
- জাতীয় আয় পরিমাপ করা যায় মূলত-  
i. উৎপাদন পদ্ধতিতে  
ii. আয় পদ্ধতিতে  
iii. ব্যয় পদ্ধতিতে  
নিচের কোনটি সঠিক?  
K i ও ii L i ও iii  
M ii ও iii N i, ii ও iii
- উন্নত দেশসমূহে মোট দেশজ উৎপাদন বৃদ্ধির মূলে কোনটি কাজ করে?  
K ভূমি L শ্রম  
M মূলধন N সচ্ছলতা
- বাংলাদেশ পরিসংখ্যান ব্যুরো GDP ও GNP নির্ণয়ে ব্যবহার করে-  
i. উৎপাদন পদ্ধতিতে  
ii. আয় পদ্ধতিতে  
iii. ব্যয় পদ্ধতিতে  
নিচের কোনটি সঠিক?  
K i ও ii L i ও iii  
M ii ও iii N i, ii ও iii
- উদ্দীপকটি পড়ে ২০ ও ২১ নং প্রশ্নের উত্তর দাও :  
কৃষক সৌমিক তার জমিতে আধুনিক পদ্ধতি অনুসরণ করায় অধিক ফসল উৎপাদন করে অনেক অর্থ সঞ্চয় করে। এ সঞ্চয় দিয়ে সে একটি তৈরি পোশাক কারখানা স্থাপন করে। সেখানে অনেক নারী-পুরুষের কর্মসংস্থান হয়েছে।  
২০. সৌমিকের দেশের অর্থনীতির প্রধান খাত কী?  
K শিল্প খাত L সেবা খাত  
M কৃষি খাত N ব্যবসায় খাত
- শিল্পখাত কৃষিখাতের ওপর নির্ভরশীল, কারণ কৃষিখাত-  
i. শিল্পে কাঁচামালের যোগান দেয়  
ii. শিল্পে মূলধনের যোগান দেয়  
iii. শিল্পপণ্যের বাজার সৃষ্টি করে  
নিচের কোনটি সঠিক?  
K i ও ii L i ও iii  
M ii ও iii N i, ii ও iii
- বাংলাদেশের মোট শ্রমশক্তির কতভাগ শিল্পখাতে নিয়োজিত?  
K ১৪.৭ শতাংশ L ২০.৭ শতাংশ  
M ৩০.৭ শতাংশ N ২৩.৭ শতাংশ
- কৃষিখাতের অন্তর্ভুক্ত কোনটি?  
i. মৎস্য চাষ  
ii. মৌমাছি চাষ  
iii. বনায়ন  
নিচের কোনটি সঠিক?  
K i ও ii L i ও iii M ii ও iii N i, ii ও iii
- নিচের কোন সমীকরণটি সঠিক?  
K অর্থনৈতিক প্রবৃদ্ধি = অর্থনৈতিক উন্নয়ন + অর্থনীতির গুণগত পরিবর্তন  
L অর্থনৈতিক প্রবৃদ্ধি = অর্থনৈতিক উন্নয়ন - অর্থনীতির গুণগত পরিবর্তন  
M অর্থনৈতিক উন্নয়ন = অর্থনৈতিক প্রবৃদ্ধি - অর্থনীতির গুণগত পরিবর্তন  
N অর্থনীতির গুণগত পরিবর্তন = অর্থনৈতিক উন্নয়ন + অর্থনৈতিক প্রবৃদ্ধি
- 'শক্তি ফাউন্ডেশন' কত সালে প্রতিষ্ঠিত হয়?  
K ১৯৮২ L ১৯৯২  
M ১৯৯৪ N ১৯৯৭
- কোন ধরনের বেকারত্বের প্রান্তিক উৎপাদনশীলতা শূন্য?  
K মৌসুমী L মহিলা  
M স্থায়ী N ছদ্মবেশী
- কোন শুষ্ক দ্বারা ক্ষতিকর দ্রব্যের ভোগ হ্রাস করা যায়?  
K আবগারি শুষ্ক L মাদক শুষ্ক  
M আয়কর N আমদানি শুষ্ক
- নিচের কোনটি কর বহির্ভূত আয়?  
K আবগারি শুষ্ক L মাদক শুষ্ক  
M টোল ও লেভি N আমদানি শুষ্ক
- পরিবহন ও যোগাযোগ খাতের উন্নয়নের জন্য যে ব্যয় বরাদ্দ করা হয়, তা কোন বাজেটের অন্তর্ভুক্ত?  
K মূলধনী বাজেট L উদ্বৃত্ত বাজেট  
M ঘাটতি বাজেট N রাজস্ব বাজেট
- মূল্য সংযোজন করকে কী দ্বারা প্রকাশ করা হয়?  
K VAT L TAV M AVT N VTA

Self test	১	K L M N	২	K L M N	৩	K L M N	৪	K L M N	৫	K L M N	৬	K L M N	৭	K L M N	৮	K L M N	৯	K L M N	১০	K L M N
	১১	K L M N	১২	K L M N	১৩	K L M N	১৪	K L M N	১৫	K L M N	১৬	K L M N	১৭	K L M N	১৮	K L M N	১৯	K L M N	২০	K L M N
	২১	K L M N	২২	K L M N	২৩	K L M N	২৪	K L M N	২৫	K L M N	২৬	K L M N	২৭	K L M N	২৮	K L M N	২৯	K L M N	৩০	K L M N

উত্তরমালা	১	N	২	K	৩	L	৪	M	৫	M	৬	M	৭	L	৮	M	৯	L	১০	K
	১৬	K	১৭	N	১৮	M	১৯	L	২০	M	২১	N	২২	L	২৩	N	২৪	L	২৫	L
	২৬	N	২৭	K	২৮	M	২৯	K	৩০	K										

## ৪৩ সাবেরা সোবহান সরকারি বালিকা উচ্চ বিদ্যালয়, ব্রাহ্মণবাড়িয়া বিষয় কোড : 141

সময় : ৩০ মিনিট

অর্থনীতি বহুনির্বাচনি অভীক্ষা

পূর্ণমান : ৩০

[বিশেষ দ্রষ্টব্য : সরবরাহকৃত বহুনির্বাচনি অভীক্ষার উত্তরপত্রে প্রশ্নের ক্রমিক নম্বরের বিপরীতে প্রদত্ত বর্ণসংবলিত বৃত্তসমূহ হতে সঠিক/সর্বোৎকৃষ্ট উত্তরের বৃত্তটি বল পয়েন্ট কলম দ্বারা সম্পূর্ণ ভরাট কর। প্রতিটি প্রশ্নের মান ১। প্রশ্নপত্রে কোনো প্রকার দাগ/চিহ্ন দেওয়া যাবে না।]

১. 'Wealth of Nations' গ্রন্থটি কত সালে প্রকাশিত হয়?

K ১৭০০ সালে L ১৭৭৫ সালে  
M ১৭৭৬ সালে N ১৮০০ সালে

২. নিচের কোনটি গ্রিক সভ্যতার স্বীকৃত বিষয় ছিল?

K শ্রম বিভাজন L দাস প্রথা  
M সুদ প্রথা N জমিদারি প্রথা

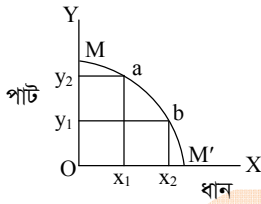
৩. সমগ্র ইউরোপে ধনতান্ত্রিক অর্থব্যবস্থার সূত্রপাত ঘটে কোন শতাব্দীতে

K ষোড়শ L সপ্তদশ  
M অষ্টাদশ N বিংশ

৪. রেলপথ নির্মাণে কোনটি ব্যবহৃত হয়?

K চূনাপাথর L নুড়িপাথর  
M আয়শিলা N কঠিন শিলা

■ উদ্দীপকটি পড়ে ৫ ও ৬নং প্রশ্নের উত্তর দাও :



৫. চিত্রে M'M রেখাটি হলো—

K প্রান্তিক উৎপাদন রেখা  
L সমউৎপাদন রেখা  
M উৎপাদন সম্ভাবনা রেখা  
N ক্রমহ্রাসমান প্রান্তিক উপযোগ রেখা

৬. উক্ত চিত্রের মাধ্যমে ব্যাখ্যা করা যায়—

i. ভোক্তার উপযোগ  
ii. দুটি দ্রব্যের বিভিন্ন সংমিশ্রণ  
iii. সুযোগ ব্যয়

নিচের কোনটি সঠিক?

K i ও ii L ii ও iii  
M i ও iii N i, ii ও iii

৭. মোট উপযোগ সর্বাধিক হলে প্রান্তিক উপযোগ কী হয়?

K ধনাত্মক  
L ঋণাত্মক  
M শূন্য  
N অপরিবর্তিত থাকে

৮. অর্থনীতিতে চাহিদার শর্ত কয়টি?

K ১টি L ২টি  
M ৩টি N ৪টি

৯. মানুষ কর্তৃক উৎপাদিত একমাত্র উৎপাদনের উপকরণ কোনটি?

K ভূমি L শ্রম  
M মূলধন N সংগঠন

■ উদ্দীপকটি পড়ে ১০ ও ১১নং প্রশ্নের উত্তর দাও :

ধানের দাম বৃদ্ধি পাওয়ায় বিক্রেতার ধানের বিক্রয় বাড়িয়ে দিল।

১০. উদ্দীপকে ধানের যোগানের শর্ত নয় কোনটি?

K নির্দিষ্ট দাম L নির্দিষ্ট সময়  
M নির্দিষ্ট দ্রব্য N নির্দিষ্ট স্থান

১১. উদ্দীপকটি লক্ষ করলে যোগানের যে বৈশিষ্ট্য

প্রকাশ পায় তা হলো—

i. দাম বাড়লে যোগান বাড়ে  
ii. দাম কমলে যোগান কমে  
iii. দাম বাড়লে যোগান স্থির থাকে

নিচের কোনটি সঠিক?

K i ও ii L ii ও iii  
M i ও iii N i, ii ও iii

১২. প্রকৃত উৎপাদন ব্যয় একটি ধারণা?

K জৈবিক L কৃত্রিম  
M সামাজিক N মানবিক

১৩. ভূমির অন্তর্ভুক্ত হলো—

i. সূর্যকিরণ  
ii. আবহাওয়া  
iii. যন্ত্রপাতি

নিচের কোনটি সঠিক?

K i ও ii L ii ও iii  
M i ও iii N i, ii ও iii

১৪. উৎপাদনের আদি ও মৌলিক উপকরণ কোনটি?

K মূলধন L শ্রম  
M ভূমি N শ্রমিক

১৫. সর্বপ্রথম কে বাজার সম্পর্কে আলোচনার সূত্রপাত করেন?

K হেনরি L মার্শাল  
M হ্যানি N অ্যাডাম স্মিথ

১৬. বাংলাদেশে কোন ধরনের বাজার খুঁজে পাওয়া যায় না?

K একচেটিয়া বাজার  
L পুঁজি বাজার  
M মুদ্রা বাজার  
N পূর্ণ প্রতিযোগিতামূলক বাজার

১৭. বাংলাদেশে Monopoly বাজারের উদাহরণ হলো—

i. বাংলাদেশ অস্ত্রজেন  
ii. তিতাস গ্যাস  
iii. বাটা

নিচের কোনটি সঠিক?

K i ও ii L ii ও iii M i ও iii N i, ii ও iii

১৮. বাংলাদেশের অর্থনীতিকে কয়টি খাতে বিভক্ত করা হয়?

K ১০টি L ১২টি M ১৫টি N ১৭টি

১৯. ভূমির আয়কে বলে—

K খাজনা L মজুরি M সুদ N মুনাফা

২০. GDP তে প্রভাব ফেলে না—

i. স্টক ii. বন্ড iii. ঘুঘু

নিচের কোনটি সঠিক?

K i ও ii L ii ও iii  
M i ও iii N i, ii ও iii

২১. দ্রব্য বিনিময় প্রথার সবচেয়ে বড় অসুবিধা কোনটি?

K অভাবের অমিল  
L সম্বন্ধের অসুবিধা  
M মূল্য পরিমাপের সমস্যা  
N স্থানান্তরের সমস্যা

২২. কত সালে বাংলাদেশ কৃষি ব্যাংক প্রতিষ্ঠিত হয়?

K ১৯৫৫ L ১৯৭৩  
M ১৯৭৬ N ১৯৮৩

২৩. বাংলাদেশে সরকারি বাণিজ্যিক ব্যাংক কয়টি?

K ২টি L ৩টি M ৪টি N ৫টি

২৪. উত্তরা EPZ কোন জেলায় অবস্থিত?

K ঢাকা L নীলফামারী  
M বগুড়া N দিনাজপুর

২৫. বাংলাদেশ রপ্তানি করে—

i. শিশু খাদ্য  
ii. চা  
iii. কাঁচা পাট

নিচের কোনটি সঠিক?

K i ও ii L ii ও iii  
M i ও iii N i, ii ও iii

২৬. বাংলাদেশে কতটি আন্তর্জাতিক বিমানবন্দর আছে?

K ২টি L ৩টি  
M ৪টি N ৫টি

২৭. খাদ্য কর্মসূচির আওতায় কর্মসূচি হলো—

i. VGD  
ii. ভাতা  
iii. VGF

নিচের কোনটি সঠিক?

K i ও ii L ii ও iii  
M i ও iii N i, ii ও iii

২৮. কোন খাতে বরাদ্দ ব্যয় সাধারণত অপ্রকাশিত থাকে?

K শিক্ষা L শিক্ষা ও প্রযুক্তি  
M নিরাপত্তা N প্রতিরক্ষা

২৯. বাংলাদেশে কতটি সেবাখাতের ওপর VAT আরোপ করা হয়েছে?

K ২০ L ৩০ M ৪০ N ৫০

৩০. সুখম বাজেটে মোট আয় ও ব্যয়ের পার্থক্য কীরূপ?

K মোট আয় > মোট ব্যয়  
L মোট আয় < মোট ব্যয়  
M মোট আয় = মোট ব্যয়  
N মোট আয় ≠ মোট ব্যয়

Self test	১ K L M N	২ K L M N	৩ K L M N	৪ K L M N	৫ K L M N	৬ K L M N	৭ K L M N	৮ K L M N	৯ K L M N	১০ K L M N
	১১ K L M N	১২ K L M N	১৩ K L M N	১৪ K L M N	১৫ K L M N	১৬ K L M N	১৭ K L M N	১৮ K L M N	১৯ K L M N	২০ K L M N
	২১ K L M N	২২ K L M N	২৩ K L M N	২৪ K L M N	২৫ K L M N	২৬ K L M N	২৭ K L M N	২৮ K L M N	২৯ K L M N	৩০ K L M N

উত্তরসূত্র	১ M	২ L	৩ M	৪ N	৫ M	৬ L	৭ M	৮ M	৯ M	১০ N	১১ K	১২ N	১৩ K	১৪ M	১৫ L
	১৬ N	১৭ K	১৮ M	১৯ K	২০ N	২১ K	২২ L	২৩ M	২৪ L	২৫ N	২৬ L	২৭ M	২৮ N	২৯ L	৩০ M

88 ✓ বিএএফ শাহীন কলেজ, চট্টগ্রাম

বিষয় কোড : 141

সময় : ৩০ মিনিট

অর্থনীতি ❁ বহুনির্বাচনি অভীক্ষা

পূর্ণমান : ৩০

[বিশেষ দ্রষ্টব্য : সরবরাহকৃত বহুনির্বাচনি অভীক্ষার উত্তরপত্রে প্রশ্নের ক্রমিক নম্বরের বিপরীতে প্রদত্ত বর্ণসংবলিত বৃত্তসমূহ হতে সঠিক/সর্বোৎকৃষ্ট উত্তরের বৃত্তটি বল পয়েন্ট কলম দ্বারা সম্পূর্ণ ভরাট কর। প্রতিটি প্রশ্নের মান ১। প্রশ্নপত্রে কোনো প্রকার দাগ/চিহ্ন দেওয়া যাবে না।]

- মানুষের অর্থনৈতিক কর্মকাণ্ডের মূল ধারণা কোনটি?  
K অভাব পূরণ করা L চাহিদা পূরণ করা  
M উৎপাদন বৃদ্ধি করা N যোগান বৃদ্ধি করা
- একজন রিকশাচালকের দৈনিক আয় ৩০০ টাকা এবং ব্যয় ২৫০ টাকা হলে তার সাপ্তাহিক সঞ্চয় কত?  
K ৫০ টাকা L ২৫০ টাকা  
M ৩৫০ টাকা N ৫৫০ টাকা
- মোট উপযোগ ও প্রান্তিক উপযোগের মধ্যে সম্পর্ক হলো—  
i. মোট উপযোগ বাড়লে প্রান্তিক উপযোগ কমে  
ii. মোট উপযোগ কমতে থাকলে প্রান্তিক উপযোগ বাড়তে থাকে  
iii. মোট উপযোগ সর্বাধিক হলে প্রান্তিক উপযোগ শূন্য হয়  
নিচের কোনটি সঠিক?  
K i ও ii L ii ও iii M i ও iii N i, ii ও iii
- সূর্যকিরণ, বৃষ্টিপাত প্রভৃতি উৎপাদনের কোন ধরনের উপকরণ?  
K মূলধন L শ্রম M ভূমি N সংগঠন
- আবগারি শুরু ধার্য করা হয়—  
i. সিগারেট  
ii. কেরোসিন  
iii. তামাক  
নিচের কোনটি সঠিক?  
K i ও ii L ii ও iii M i ও iii N i, ii ও iii
- ‘একটি দেশ দরিদ্র, কারণ সে দরিদ্র’— উক্তিটি কার?  
K র্যাগনার নার্কস L এল. রবিস  
M আলফ্রেড মার্শাল N ডেভিড রিকার্ডো
- আমাদের দেশের অধিকাংশ শিল্পের ভিত্তি কোনটি?  
K কৃষি L শিল্প M সেবা N বাণিজ্য
- EPZ- এর পূর্ণরূপ কোনটি?  
K Export Promotion Zone  
L Export Processing Zone  
M Export Production Zone  
N Export Privilege Zone
- উদ্দীপকটি পড়ে ৯ ও ১০নং প্রশ্নের উত্তর দাও :  
রবি পড়াশোনা শেষ করে ব্যাংকিংকে পেশা হিসেবে নিতে ইচ্ছুক। তবে সে দেশের প্রধান ব্যাংকটির ব্যাংকার হতে চায় যা অন্যান্য ব্যাংকের অভিভাবক হবে।
- রবি যে ব্যাংকের ব্যাংকার হতে চায় তার নাম কী?  
K বাণিজ্যিক ব্যাংক L কেন্দ্রীয় ব্যাংক  
M বৃহত্তম ব্যাংক N গ্রামীণ ব্যাংক
- রবির ব্যাংকটির ঋণ নিয়ন্ত্রণের উদ্দেশ্যগুলো হলো—  
i. মুদ্রাস্ফীতি রোধ করা  
ii. অর্থনৈতিক স্থিতিশীলতা বজায় রাখা  
iii. সঞ্চয় সংগ্রহ করা  
নিচের কোনটি সঠিক?  
K i ও ii L ii ও iii  
M i ও iii N i, ii ও iii

- নিচের কোনটি সঠিক?  
K CCA = GNI + NNI  
L CCA = GNI - NNI  
M CCA = NNI - GNI  
N CCA = NNI + NFI
- জাতীয় আয়ের কতভাগ কৃষি থেকে আসে?  
K প্রায় ১৬% L প্রায় ১৭%  
M প্রায় ২১% N প্রায় ২৫%
- সময়ের প্রেক্ষিতে বাজার কত প্রকার?  
K ২ প্রকার L ৫ প্রকার  
M ৪ প্রকার N ৩ প্রকার
- গ্রামের ফলমূল শহরে এনে অধিক দামে বিক্রি করলে কোন ধরনের উপযোগ সৃষ্টি হয়?  
K রূপগত L সময়গত  
M স্থানগত N মালিকানাগত
- উদ্দীপকটি পড়ে ১৫ ও ১৬নং প্রশ্নের উত্তর দাও :  
মি. ‘ক’ বাজারে ইলিশ মাছ ক্রয়ের জন্য গিয়েছেন। একটি ইলিশ মাছের দাম বিক্রোতা ১২০০ টাকা চাইল। দর কষাকষির মাধ্যমে তিনি ১০০০ টাকায় কিনেছেন।
- জনাব ‘ক’ কোন বাজার থেকে মাছটি কিনেছেন?  
K জাতীয় বাজার L ডুরোপলি  
M পূর্ণ প্রতিযোগিতা N স্বল্পকালীন
- মি. ‘ক’ যে কারণে গিয়েছেন তার বৈশিষ্ট্য হলো—  
i. সমজাতীয় পণ্য  
ii. অসংখ্য ক্রেতা-বিক্রেতা  
iii. উপকরণের পূর্ণ গতিশীলতা  
নিচের কোনটি সঠিক?  
K i ও ii L ii ও iii M i ও iii N i, ii ও iii
- প্রকৃত উৎপাদন ব্যয় কোনটি?  
K মানবিক কষ্ট L উপকরণ বাবদ ব্যয়  
M পরিবহন বাবদ ব্যয় N শ্রমিকের মজুরি
- ‘অর্থশাস্ত্র’ গ্রন্থটির রচয়িতা কে?  
K এরিস্টটল L প্লেটো  
M কোটিল্যু N অমর্ত্য সেন
- মুদ্রাস্ফীতি ঘটলে—  
i. দ্রব্যের দাম বেড়ে যায়  
ii. মুদ্রার মান কমে যায়  
iii. কর্মসংস্থান বৃদ্ধি পায়  
নিচের কোনটি সঠিক?  
K i ও ii L i ও iii M ii ও iii N i, ii ও iii
- অর্থনীতিতে ভোগের অর্থ কী?  
K উপযোগ বৃদ্ধি  
L উপযোগ সৃষ্টি  
M উপযোগের ক্ষমতা  
N উপযোগের ব্যবহার
- দাম ও যোগানের সম্পর্ক কী?  
K বিপরীতমুখী L সমমুখী  
M আড়াআড়ি N কোনো সম্পর্ক নেই
- NNP-এর পূর্ণরূপ কী?  
K National Net Product  
L Net National Program  
M Net National Product  
N National Net Possibility

- বাংলাদেশ সরকারের ‘একটি বাড়ি একটি খামার’ প্রকল্পের অংশীদার—  
K গ্রামীণ ব্যাংক L কৃষি ব্যাংক  
M সমবায় ব্যাংক N বাণিজ্যিক ব্যাংক
- বাংলাদেশের পোশাক তৈরিতে খরচ কম পড়ে। কারণ—  
i. শ্রমিকের মজুরি কম  
ii. সুতার মান নিম্ন  
iii. পরিবহন ও সংরক্ষণ খরচ কম  
নিচের কোনটি সঠিক?  
K i ও ii L i ও iii M ii ও iii N i, ii ও iii
- দারিদ্র্য দূরীকরণের একটি ভালো উপায় হলো—  
K ঋণ সাহায্য প্রদান  
L খাদ্য নিরাপত্তা নিশ্চিতকরণ  
M আত্মকর্মসংস্থানের সুযোগ তৈরি করা  
N সমবায় সমিতি গঠন করা
- দারিদ্র্যের দুষ্টিত্র থেকে বের হওয়ার জন্য কোনো দেশ মূলধন বাড়াতে তখন দেশটির—  
i. উৎপাদন বাড়বে  
ii. চাহিদা বাড়বে  
iii. সঞ্চয় বাড়বে  
নিচের কোনটি সঠিক?  
K i ও ii L i ও iii  
M ii ও iii N i, ii ও iii
- একজন সংগঠকের আয়ের উপর কোন ধরনের কর ধার্য করা হয়?  
K সম্পত্তি কর L প্রমোদ কর  
M উন্নয়ন কর N আয় কর
- সরকারি অর্থব্যবস্থার মূল চালিকাশক্তি কী?  
K সুমম বাজেট L চলতি বাজেট  
M উদ্বৃত্ত বাজেট N বাজেট
- নিচের চিত্রটি দেখ এবং ২৯ ও ৩০নং প্রশ্নের উত্তর দাও :
- উপরের চিত্রে CD রেখাটির নাম কী?  
K প্রান্তিক উৎপাদন রেখা  
L সম-উৎপাদন রেখা  
M উৎপাদন সম্ভাবনা রেখা  
N প্রান্তিক উপযোগ রেখা
- উক্ত CD রেখা যা নির্দেশ করে, তা হলো—  
i. দুটি দ্রব্যের বিভিন্ন সংমিশ্রণ  
ii. সুযোগ ব্যয়  
iii. ভোক্তার উপযোগ  
নিচের কোনটি সঠিক?  
K i ও ii L i ও iii  
M ii ও iii N i, ii ও iii

Self test	১	K	L	M	N	২	K	L	M	N	৩	K	L	M	N	৪	K	L	M	N	৫	K	L	M	N	৬	K	L	M	N	৭	K	L	M	N	৮	K	L	M	N	৯	K	L	M	N	১০	K	L	M	N
	১১	K	L	M	N	১২	K	L	M	N	১৩	K	L	M	N	১৪	K	L	M	N	১৫	K	L	M	N	১৬	K	L	M	N	১৭	K	L	M	N	১৮	K	L	M	N	১৯	K	L	M	N	২০	K	L	M	N
	২১	K	L	M	N	২২	K	L	M	N	২৩	K	L	M	N	২৪	K	L	M	N	২৫	K	L	M	N	২৬	K	L	M	N	২৭	K	L	M	N	২৮	K	L	M	N	২৯	K	L	M	N	৩০	K	L	M	N

উত্তরমালা	১	K	২	M	৩	M	৪	M	৫	N	৬	K	৭	K	৮	L	৯	L	১০	K	১১	L	১২	K	১৩	N	১৪	M	১৫	M
	১৬	N	১৭	K	১৮	M	১৯	N	২০	N	২১	L	২২	M	২৩	M	২৪	L	২৫	M	২৬	L	২৭	N	২৮	N	২৯	M	৩০	K

## ৪৫ ✓ পুলিশ লাইন্স উচ্চ বিদ্যালয়, সিলেট

বিষয় কোড : 141

সময় : ৩০ মিনিট

অর্থনীতি বহুনির্বাচনী অভীক্ষা

পূর্ণমান : ৩০

১. কীভাবে ধনতান্ত্রিক অর্থনীতির সূত্রপাত ঘটে?

- K গ্রিক বিপ্লবের মধ্য দিয়ে  
L ফরাসি বিপ্লবের মধ্যে দিয়ে  
M নবজাগরণের মধ্য দিয়ে  
N শিল্প বিপ্লবের মধ্য দিয়ে

২. নিচের কোনটি বাণিজ্যবাদের প্রসারকাল?

- K ১৪০০-১৫০০ L ১৫৯০-১৭২০  
M ১৭৯০-১৮৮০ N ১৫৯০-১৭৮০

৩. অ-অর্থনৈতিক কার্যাবলি কোনটি?

- K মায়ের সন্তান লালন পালন  
L কৃষকের জমিতে কাজ  
M শিক্ষকের শিক্ষকতা  
N নার্সের সেবা

৪. সিলিকা বালু ব্যবহৃত হয়

- i. কাঁচ তৈরিতে  
ii. রং তৈরিতে  
iii. সিমেন্ট তৈরিতে

নিচের কোনটি সঠিক?

- K i ও ii L i ও iii  
M ii ও iii N i, ii ও iii

৫. কোন দ্রব্য বার বার উৎপাদন কাজে ব্যবহৃত হয়?

- K মধ্যবর্তী দ্রব্য  
L মূলধনী দ্রব্য  
M চূড়ান্ত দ্রব্য  
N অস্থায়ী দ্রব্য

৬. নিচের কোনটি অবস্ফুট দ্রব্য?

- K আলো L টেলিভিশন  
M কাপড় N কলম

৭. এ পর্যন্ত বাংলাদেশে কতটি গ্যাসক্ষেত্র আবিষ্কৃত হয়েছে?

- K ২২টি L ২৪টি  
M ২৫টি N ২৬টি

৮. মোট উপযোগ সর্বাধিক হলে প্রান্তিক উপযোগ কী হয়?

- K শূন্য হয়  
L ঋণাত্মক হয়  
M ধনাত্মক হয়  
N অপরিবর্তিত থাকে

৯. কোন বাজারে উপকরণের অবাধ বিবরণ থাকে?

- K একচেটিয়া  
L দীর্ঘকালীন  
M পূর্ণ প্রতিযোগিতামূলক  
N অপূর্ণ প্রতিযোগিতামূলক

■ উদ্দীপকটি পড়ে ১০ ও ১১নং প্রশ্নের উত্তর দাও :

নিলু কোরবানীর ঈদে ৫টি গরু বিক্রির জন্য বাজারে নিয়ে গেল। বাজারে গরুর দাম কম হওয়ার সে দুটি বিক্রি করে বাকি তিনটি গরু ফিরিয়ে নিয়ে আসে।

১০. নিলুর গরু বিক্রির ঘটনাকে অর্থনীতিতে কী বলে?

- K চাহিদা L যোগান  
M উপযোগ N উৎপাদন

১১. নিলুর আচরণ থেকে বুঝা যায়

- i. দাম কমলে চাহিদা কমে  
ii. দাম কমলে যোগান কমে  
iii. দাম কমলে যোগান বাড়ে

নিচের কোনটি সঠিক?

- K i L ii M i ও ii N iii

১২. উৎপাদনে ব্যক্তিগত ব্যয় বলতে বোঝায়—

- K উৎপাদনের সাথে জড়িত প্রকাশ্য ব্যয়  
L সামাজিক ব্যয়  
M প্রকাশ্য ও অপ্রকাশ্য ব্যয়ের সমষ্টি  
N মূলধনী

■ উদ্দীপকটি পড়ে ১৩ ও ১৪নং প্রশ্নের উত্তর দাও :

আশিষ 'A' দেশের নাগরিক। লেখাপড়া শেষে সে 'B' দেশে চলে যায়, 'Y' দেশ হতে চাকরি করে প্রচুর বৈদেশিক মুদ্রা "A" দেশে পাঠায়।

১৩. আশিষের পাঠানো অর্থ নিচের কোনটির সাথে যুক্ত হবে?

- K GNP L GDR  
M CCA N কোনটিই নয়

১৪. আশিষের পাঠানো অর্থ "A" দেশের

- i. GNP বৃদ্ধি করবে  
ii. মাথাপিছু আয় বৃদ্ধি করবে  
iii. NNP বৃদ্ধি করবে

নিচের কোনটি সঠিক?

- K i L ii M ii ও iii N i, ii ও iii

১৫. কাউকে সম্পত্তি রেজিস্ট্রি করে দিলে কোন উপযোগ সৃষ্টি হয়?

- K মালিকানাগত L রূপগত  
M কালগত N সেবাগত

১৬. ATM কার্ডের সুবিধা হলো—

- i. চেকের প্রয়োজন হয় না  
ii. যেকোনো সময় টাকা উঠানো যায়  
iii. ব্যাংকে যেতে হয় না

নিচের কোনটি সঠিক?

- K i ও ii L ii ও iii  
M i ও iii N i, ii ও iii

১৭. কোন সালে বাংলাদেশ ব্যাংক প্রতিষ্ঠিত হয়?

- K ১৯৫২ L ১৯৬২  
M ১৯৭২ N ১৯৭৩

১৮. চামড়া শিল্প কোন শিল্পের অন্তর্গত?

- K বৃহৎ শিল্প L মাঝারি শিল্প  
M ক্ষুদ্র শিল্প N কুটির শিল্প

১৯. কোন হিসাবের ক্ষেত্রে দেশের অভ্যন্তরে কর্মরত কোন বিদেশির আয় হিসাব করা হবে না?

- K GDP L NNI  
M GNI N GNP

২০. কোনটি সসীম বিহিত মুদ্রা?

- K ৫ টাকার ধাতব মুদ্রা  
L ১০ টাকার নোট  
M ১০০ টাকার নোট  
N ৫০ টাকার নোট

২১. "উফশী" কী?

- K উন্নত জাতের গম  
L উন্নত জাতের পাট  
M উন্নত জাতের ভুট্টা  
N উচ্চ ফলনশীল ধান

২২. ক্ষুদ্র শিল্পের ভিত্তি কী?

- K কৃষি L সেবা  
M বৃহৎ শিল্প N মাঝারি শিল্প

২৩. ঠেঙ্গামারা মহিলা সবুজসংঘ কোন জেলায় অবস্থিত?

- K রাজশাহী L নওগাঁ  
M বগুড়া N কুষ্টিয়া

২৪. জসোনালী ব্যাংক কোন ধরনের আর্থিক প্রতিষ্ঠান?

- K কেন্দ্রীয় ব্যাংক  
L বাণিজ্যিক ব্যাংক  
M বিদেশি ব্যাংক  
N বিশেষ আর্থিক প্রতিষ্ঠান

২৫. কত সাল থেকে বাংলাদেশে মুখ্য সংযোজন কর চালু করা হয়েছে?

- K ১৯৯০-৯১ L ১৯৯১-৯২  
M ১৯৯২-৯৩ N ১৯৯৩-৯৪

২৬. যেসব কৃষকদের প্রান্তিক উৎপাদনশীলতা শূন্য তাকে কী বলে?

- K মৌসুমি বেকারত্ব  
L সাময়িক বেকারত্ব  
M ছদ্মবেশী বেকারত্ব  
N স্থায়ী বেকারত্ব

২৭. বারুদ তৈরিতে নিচের কোনটি ব্যবহার করা হয়?

- K গন্ধক L সিলিকা  
M চীনা মাটি N চূনাপাথর

২৮. নদীর পানি, বাতাস সম্পদ নয় কেন?

- K উপযোগ নেই  
L বিনামূল্যে পাওয়া যায়  
M যোগান প্রচুর  
N উপরের সবকটি

২৯. কর বহির্ভূত রাজস্ব আয় নয় কোনটি?

- K লভ্যাংশ L কর রাজস্ব  
M সুদ N ভাড়া ও ইজারা

৩০. কোন শুষ্ক দ্বারা ক্ষতিকর দ্রব্যের ভোগ হ্রাস করা যায়?

- K আমদানি শুষ্ক L মাদক শুষ্ক  
M আবগারি শুষ্ক N সম্পূরক শুষ্ক

Self test	১ K L M N	২ K L M N	৩ K L M N	৪ K L M N	৫ K L M N	৬ K L M N	৭ K L M N	৮ K L M N	৯ K L M N	১০ K L M N
	১১ K L M N	১২ K L M N	১৩ K L M N	১৪ K L M N	১৫ K L M N	১৬ K L M N	১৭ K L M N	১৮ K L M N	১৯ K L M N	২০ K L M N
	২১ K L M N	২২ K L M N	২৩ K L M N	২৪ K L M N	২৫ K L M N	২৬ K L M N	২৭ K L M N	২৮ K L M N	২৯ K L M N	৩০ K L M N
উত্তরমালা	১ L	২ N	৩ K	৪ K	৫ L	৬ K	৭ N	৮ K	৯ M	১০ L
	১১ L	১২ M	১৩ K	১৪ N	১৫ K	১৬ N	১৭ M	১৮ L	১৯ L	২০ M



**৪৬** ✓ বাংলাদেশ শিক্ষক সমিতি (কামারুজ্জামান), বরিশাল

বিষয় কোড : **141**

সময় : ৩০ মিনিট

অর্থনীতি **৩** বহুনির্বাচনী অভীক্ষা

পূর্ণমান : ৩০

[বিশেষ দ্রষ্টব্য : সরবরাহকৃত বহুনির্বাচনী অভীক্ষার উত্তরপত্রে প্রশ্নের ক্রমিক নম্বরের বিপরীতে প্রদত্ত বর্ণসংবলিত বৃত্তসমূহ হতে সঠিক/সর্বোৎকৃষ্ট উত্তরের বৃত্তটি বল পয়েন্ট কলম দ্বারা সম্পূর্ণ ভরাট কর। প্রতিটি প্রশ্নের মান ১। প্রশ্নপত্রে কোনো প্রকার দাগ/চিহ্ন দেওয়া যাবে না।]

১. অর্থশাস্ত্র গ্রন্থটির রচয়িতা কে?  
K এরিস্টটল L প্লেটো  
M কোটিল্য N অমর্ত্য সেন
২. আয়ের বৃত্তাকার প্রবাহের খাতগুলো কী?  
K পরিবার ও দ্রব্য  
L ফার্ম ও উৎপাদনের উপকরণ  
M দ্রব্য ও সেবার বাজার  
N পরিবার ও উৎপাদক
- উদ্দীপকটি পড়ে ৩ ও ৪নং প্রশ্নের উত্তর দাও :  
এবার বিশ্বকাপ ফুটবল খেলা দেখতে নাভিদ এমন একটি দেশে গেল যেখানে সকল সম্পদ রাষ্ট্রীয় মালিকানাধীন।
৩. দেশটিতে কোন ধরনের অর্থব্যবস্থা প্রচলিত?  
K ধনতান্ত্রিক L সমাজতান্ত্রিক  
M মিশ্র N ইসলামি
৪. উক্ত অর্থ ব্যবস্থার বৈশিষ্ট্য হলো—  
i. কেন্দ্রীয় পরিকল্পনা  
ii. ব্যক্তিগত মুনাফা অনুপস্থিত  
iii. অবাধ প্রতিযোগিতা  
নিচের কোনটি সঠিক?  
K i ও ii L i ও iii  
M ii ও iii N i, ii ও iii
৫. কোনটি মূলধনী দ্রব্য?  
K বস্ত্র L পাউরুটি  
M যন্ত্রপাতি N নদীর পানি
৬. আয় ও ভোগ ব্যয়ের পার্থক্যকে কী বলে?  
K বিনিয়োগ L সঞ্চয়  
M ভোগ N মূলধন
৭. প্রাকৃতিক গ্যাস ব্যবহৃত হয়—  
i. রাসায়নিক সার তৈরিতে  
ii. বিদ্যুৎ উৎপাদন কেন্দ্রে  
iii. রান্না ঘরের জ্বালানি হিসেবে  
নিচের কোনটি সঠিক?  
K i ও ii L ii ও iii  
M i ও iii N i, ii ও iii
৮. বাজার ভারসাম্যের শর্ত কোনটি?  
K চাহিদা = যোগান L চাহিদা > যোগান  
M যোগান > চাহিদা N চাহিদা ≠ যোগান
৯. শাল ও গজারি গাছ পাওয়া যায়—  
i. সিলেটের বনভূমিতে  
ii. মধুপুর ও ভাওয়ালের বনভূমিতে  
iii. রংপুর ও দিনাজুর বনভূমিতে  
নিচের কোনটি সঠিক?  
K i ও ii L ii ও iii M i ও iii N i, ii ও iii
১০. বাজার সম্পর্কে ধারণা দেন কোন অর্থনীতিবিদ?  
K কুর্নট L প্লেটো  
M পিণ্ড N অমর্ত্য সেন
১১. নিচের কোনটি কৃষি বহির্ভূত অর্থনৈতিক কাজ?  
K বৃক্ষরোপণ L মাছ ধরা  
M পশুশিকার N চাকরি করা
১২. বাজারে সব জোক্তার ব্যক্তিগত চাহিদার সমষ্টিকে কী বলে?  
K ব্যক্তিগত চাহিদা L সামাজিক চাহিদা  
M জাতীয় চাহিদা N বাজার চাহিদা
১৩. নূর মিয়া এবং তার ছেলে ঘুম ও আরাম ত্যাগ করে তাদের লিচু বাগানকে নানা উপদ্রব থেকে রক্ষা করেন। এটি কেন ধরনের ব্যয়?  
K প্রকৃত উৎপাদন ব্যয়  
L আর্থিক উৎপাদন ব্যয়  
M প্রকাশ্য ব্যয়  
N ব্যক্তিগত ব্যয়
১৪. উৎপাদনের উপকরণ কয়টি?  
K ৬টি L ৫টি M ৪টি N ৩টি
১৫. উৎপাদনের জীবন্ত উপকরণ কোনটি?  
K ভূমি L শ্রম  
M মূলধন N কাঁচামাল
১৬. 'মনোপলি' শব্দের অর্থ কী?  
K একজন বিক্রেতা  
L অল্প সংখ্যক বিক্রেতা  
M অনেক বিক্রেতা  
N একজন ক্রেতা
১৭. পূর্ণপ্রতিযোগিতামূলক বাজারের বৈশিষ্ট্য হলো—  
K অল্পসংখ্যক বিক্রেতা ও ক্রেতা  
L কিছু ক্রেতা ও বিক্রেতা  
M বহুসংখ্যক ক্রেতা ও বিক্রেতা  
N একক ক্রেতা ও বিক্রেতা
১৮. বিনিময় প্রথার ইংরেজি নাম কী?  
K Theater system  
L Common system  
M Unit system  
N Barter system
১৯. নিচের কোনটি সসীম বিহিত মুদ্রা?  
K ২ টাকা L ১০ টাকা  
M ২০ টাকা N ১০০০ টাকা
২০. জাতীয় আয় গণনার সময় নিচের কোনটি ধরা হয়?  
K মধ্যবর্তী দ্রব্য ও সেবার মূল্য  
L চূড়ান্ত দ্রব্য ও সেবার মূল্য  
M সরকারি ঋণ  
N বাজার চাহিদা
২১. বাংলাদেশ সরকারের আয়ের প্রধান খাত কয়টি?  
K ২টি L ৩টি M ৪টি N ৫টি
২২. কোন ধরনের হিসাবের বিপরীত ব্যাংক কোনো সুদ দেয় না?  
K সঞ্চয়ী হিসাব L মূলধনী হিসাব  
M স্থায়ী হিসাব N চলতি হিসাব
২৩. আধুনিক অর্থনীতিতে অর্থ হচ্ছে—  
i. বিনিময়ের মাধ্যম  
ii. মূল্যের পরিমাপক  
iii. সঞ্চয়ের বাহন  
নিচের কোনটি সঠিক?  
K i ও ii L i ও iii  
M ii ও iii N i, ii ও iii
২৪. VAT-এর পূর্ণরূপ কী?  
K Value Added Tax  
L Value Add Term  
M Value Addition Tax  
N Vit Added Tax
২৫. সরকারের একটি বাড়ি একটি খামার প্রকল্পের অংশীদার কোন ব্যাংক?  
K গ্রামীণ ব্রাংক L সমবায় ব্যাংক  
M কৃষি ব্যাংক N পূবালী ব্যাংক
২৬. বাংলাদেশের শ্রমশক্তির কত ভাগ শিল্পখাতে নিয়োজিত?  
K ১৪.৩ শতাংশ L ২০.৭ শতাংশ  
M ৩০.৬৪ শতাংশ N ২৩.৬৪ শতাংশ
২৭. গ্রামের কৃষকরা বীজ বপন ও ফসল কাটার মধ্যবর্তী সময়ে যে কর্মহীন দিন কাটায় তাকে কী ধরনের বেকারত্ব বলে?  
K ছদ্ম বেকারত্ব  
L মৌসুমি বেকারত্ব  
M স্থায়ী বেকারত্ব  
N প্রচ্ছন্ন বেকারত্ব
২৮. একটি দেশের মানুষকে পরনির্ভরশীল করে রাখে—  
K এনজিও L ব্যাংক  
M বৈদেশিক সাহায্য N দারিদ্র্য
২৯. বন্যা ও ঘূর্ণিঝড়ে সরকারি যে অর্থ ব্যয় হয়, তাকে কী ধরনের ব্যয় বলে?  
K সুশ্রম ব্যয়  
L প্রত্যাশিত ব্যয়  
M অপ্রত্যাশিত ব্যয়  
N নির্ধারিত ব্যয়
৩০. উৎপাদন কাজে ব্যবহৃত সকল প্রাকৃতিক সম্পদকে বলে—  
K শ্রম L সংগঠন  
M মূলধন N ভূমি

Self test	১	K	L	M	N	২	K	L	M	N	৩	K	L	M	N	৪	K	L	M	N	৫	K	L	M	N	৬	K	L	M	N	৭	K	L	M	N	৮	K	L	M	N	৯	K	L	M	N	১০	K	L	M	N
	১১	K	L	M	N	১২	K	L	M	N	১৩	K	L	M	N	১৪	K	L	M	N	১৫	K	L	M	N	১৬	K	L	M	N	১৭	K	L	M	N	১৮	K	L	M	N	১৯	K	L	M	N	২০	K	L	M	N
	২১	K	L	M	N	২২	K	L	M	N	২৩	K	L	M	N	২৪	K	L	M	N	২৫	K	L	M	N	২৬	K	L	M	N	২৭	K	L	M	N	২৮	K	L	M	N	২৯	K	L	M	N	৩০	K	L	M	N

উত্তরমালা	১	M	২	N	৩	L	৪	K	৫	M	৬	L	৭	N	৮	K	৯	L	১০	K	১১	N	১২	N	১৩	K	১৪	M	১৫	L
	১৬	K	১৭	M	১৮	N	১৯	K	২০	L	২১	K	২২	N	২৩	N	২৪	K	২৫	L	২৬	L	২৭	L	২৮	M	২৯	M	৩০	N



## মূল বইয়ের বাইরে আরও শীর্ষস্থানীয় স্কুলের প্রশ্নপত্র : সৃজনশীল

৪৭ ✓ ঢাকা রেসিডেন্সিয়াল মডেল কলেজ

বিষয় কোড : 141

সময় : ২ ঘণ্টা ৩০ মিনিট

অর্থনীতি সৃজনশীল প্রশ্ন

পূর্ণমান : ৭০

দ্রষ্টব্য : ডান পাশের সংখ্যা প্রশ্নের পূর্ণমান জ্ঞাপক। প্রদত্ত উদ্দীপকগুলো মনোযোগসহকারে পড় এবং সংশ্লিষ্ট প্রশ্নের উত্তর দাও। যেকোনো সাভটি প্রশ্নের উত্তর দিতে হবে।

- ১ ▶ শিপন বাজারে চিনি কিনতে গিয়ে দেখলেন, চিনির দাম অনেক বেশি। পাশে দাঁড়িয়ে থাকা একজন বলল, রাস্তার ওপারে এই চিনি সরকারি বিক্রয় কেন্দ্রে ন্যায্যমূল্যে বিক্রি হচ্ছে।
- ক. অর্থনীতিবিদ এল. রবিসের অর্থনীতির সংজ্ঞাটি লেখ। ১
- খ. অসীম অভাব কী? ২
- গ. আমাদের দেশে কোন ধরনের অর্থব্যবস্থা বিদ্যমান? ব্যাখ্যা কর। ৩
- ঘ. উদ্দীপকে বর্ণিত অর্থব্যবস্থা সাধারণ মানুষের জীবনযাত্রার মানের বৃদ্ধির সহায়ক— ব্যাখ্যা কর। ৪
- ২ ▶ নিচের উদ্দীপকটি লক্ষ কর :

সুযোগ ব্যয়
মানুষ দেওয়া-নেওয়া করে
মানুষ প্রান্তিক পর্যায়ে চিন্তা করে
বাণিজ্যে সবাই উপকৃত হয়
প্রণোদনায় মানুষ সাড়া দেয়

- ক. অর্থনৈতিক কার্যাবলি কী? ১
- খ. সম্পদের দুস্তাপ্যতা কী? ২
- গ. উদ্দীপকে যে বিষয়টি উল্লেখ করা হয়েছে তার বর্ণনা কর। ৩
- ঘ. “উদ্দীপকের কার্যাবলি অর্থনীতিতে গতি আনে”— তুমি কি একমত? ৪
- ৩ ▶ রাজু গাড়ি কারখানার একজন দক্ষ শ্রমিক। সে তার দক্ষতা অর্জন করেছে বলিষ্ঠ উদ্যোগ ও নিজস্ব পরিশ্রমের মাধ্যমে। আমাদের দেশে যতটুকু সম্পদ রয়েছে তার সুষ্ঠু ব্যবহারে সকলের যত্নবান হওয়া উচিত।
- ক. সম্পদ কী? ১
- খ. সম্পদের প্রধান বৈশিষ্ট্য বর্ণনা কর। ২
- গ. রাজুর দক্ষতা যে ধরনের সম্পদ তার বর্ণনা দাও। ৩
- ঘ. বাংলাদেশের উন্নয়নে সম্পদের সুষ্ঠু ব্যবহারে দক্ষ মানবসম্পদ তৈরি প্রয়োজন— উক্তিটি রাজুর অবস্থার আলোকে ব্যাখ্যা কর। ৪
- ৪ ▶ কবির ও সাগর দুই বন্ধুর ব্যক্তিগত চাহিদা সূচি নিচে দেওয়া হলো :

দ্রব্যের দাম (টাকায়)	কবিরের চাহিদা (কেজি)	সাগরের চাহিদা (কেজি)
৬	৫	১০
৪	১০	১৫
২	১৫	২০

- ক. চাহিদা কী? ১
- খ. বাজার চাহিদা কী? ২
- গ. উদ্দীপকের আলোকে বাজার চাহিদা রেখা অঙ্কন কর? ৩
- ঘ. উদ্দীপকের আলোকে বাজার চাহিদা রেখার (গ)-এর বর্ণনা দাও। ৪
- ৫ ▶ জনাব স্যামসন এইচ চৌধুরী একজন সফল সংগঠক ছিলেন। অনেক পরিশ্রমের ফলে তার স্কার গ্রুপ বর্তমানে দেশের খ্যাতিসম্পন্ন সংগঠন। অনেক শ্রম, সততা, ত্যাগ, সুষ্ঠু পরিকল্পনা, সময়ানুবর্তিতা ইত্যাদি গুণের কারণে বর্তমানে তিনি একজন সফল সংগঠক। দেশের অর্থনীতিতে তার ভূমিকা অনেক।
- ক. সংগঠন কী? ১
- খ. সংগঠন হলো ব্যবসায়ের ভিত্তি— কথাটি বুঝিয়ে লেখ। ২
- গ. জনাব স্যামসন এইচ চৌধুরী কীভাবে নিজেকে একজন সফল সংগঠকে পরিণত করেছেন? বুঝিয়ে লেখ। ৩
- ঘ. উৎপাদন প্রক্রিয়ায় একজন সফল সংগঠক হিসেবে জনাব চৌধুরীর ভূমিকা উদ্দীপকের আলোকে মূল্যায়ন কর। ৪
- ৬ ▶ ‘ক’ দেশে ১ বছরে ১ লাখ কুইন্টাল ধান, ২০ হাজার কুইন্টাল পাট, ১ লাখ পোশাক ও ১ লাখ সাবান উৎপাদিত হয়। উৎপাদিত দ্রব্যগুলোর বাজার মূল্য নিম্নরূপ :
- |                    |              |
|--------------------|--------------|
| ধান প্রতি কুইন্টাল | ১ হাজার টাকা |
| পাট প্রতি কুইন্টাল | ১ হাজার টাকা |
| পোশাক প্রতিটি      | ১ হাজার টাকা |

- ক. CCA-এর পূর্ণরূপ কী? ১
- খ. নিট জাতীয় উৎপাদন বলতে কী বোঝায়? ২
- গ. উদ্দীপকে উল্লিখিত তথ্যের ভিত্তিতে কীভাবে ‘ক’ দেশটির মোট দেশজ উৎপাদন নিরূপণ করা যায়? ব্যাখ্যা কর। ৩
- ঘ. উদ্দীপকে উল্লিখিত কোন দ্রব্যগুলোর খাত বাংলাদেশের অর্থনীতিতে অধিকতর ভূমিকা রাখে? বিশ্লেষণ কর। ৪
- ৭ ▶ নিচের ছকটি লক্ষ কর :

ধান, গম ও পাট	সার শিল্প, চিনি শিল্প ও পোশাক শিল্প
ক-খাত	খ-খাত

- ক. সেবা খাত কী? ১
- খ. ফার্ম ও শিল্প বলতে কী বোঝায়? ২
- গ. ক-খাতের ওপর বাংলাদেশের অর্থনীতি নির্ভরশীল— ব্যাখ্যা কর। ৩
- ঘ. ক-খাত ও খ-খাতের একে অপরের ওপর নির্ভরশীল। তুমি কি একমত? যুক্তিসহকারে লেখ। ৪
- ৮ ▶ হেলাল একজন অর্থনীতিবিদ। তিনি সর্বদা দেশকে নিয়ে ভাবেন এবং উন্নয়নে কাজ করতে চান। একজন অর্থনীতিবিদ হিসেবে তিনি বুঝতে পারেন যে, বাংলাদেশের অর্থনীতির উন্নয়নের পথে বাধাসমূহ কীভাবে দূর করা যায়।
- ক. অর্থনৈতিক প্রবৃদ্ধি কী? ১
- খ. বেকারত্ব বলতে কী বোঝায়? ২
- গ. উদ্দীপকে উল্লিখিত হেলাল সাহেব যে দেশে বাস করেন সে দেশের অর্থনীতির বৈশিষ্ট্য লেখ। ৩
- ঘ. হেলাল সাহেবের দেশের অর্থনীতির উন্নয়নের পথে বাধাসমূহ কী কী? কীভাবে তা দূর করা যায়? তোমার মতামত দাও। ৪
- ৯ ▶ ঢাকায় অবস্থিত বেসরকারি হাসপাতালগুলো গুণাগুণ মানের পার্থক্যের ওপর সেবার মূল্য নির্ধারণ করে। তবে তাদের সবারই নিজস্ব গ্রাহক রয়েছে, যারা ব্যয় বিবেচনায় না নিয়ে সেবার মানের কথা ভাবে।
- ক. পূর্ণ প্রতিযোগিতামূলক বাজার কী? ১
- খ. পূর্ণ প্রতিযোগিতামূলক বাজারের বৈশিষ্ট্য লেখ। ২
- গ. উদ্দীপকে যে বাজারের কথা উল্লেখ করা হয়েছে তার বৈশিষ্ট্য লেখ। ৩
- ঘ. বাংলাদেশে উক্ত বাজারের বিস্তৃতি পর্যালোচনা কর। ৪
- ১০ ▶ হারুনের স্ত্রীর একটি শাড়ির খুবই প্রয়োজন। কিন্তু তার কাছে একটি ছাগল ছাড়া কিছুই নেই। হারুন তার ছাগল নিয়ে তাঁতির কাছে গেলে তাঁতি একটি শাড়ির বদলে ছাগল দিতে চায়। কিন্তু হারুন একটি শাড়ির বদলে একটি ছাগল নিতে রাজি হয়নি। পরে সবার কাছে গ্রহণযোগ্য একটি দ্রব্য আবিষ্কৃত হওয়ায় এ অসুবিধা দূর হয়।
- ক. রেমিট্যান্স কী? ১
- খ. কেন্দ্রীয় ব্যাংক কী? ২
- গ. বাণিজ্যিক ব্যাংকের কার্যাবলি আলোচনা কর। ৩
- ঘ. সবার কাছে গ্রহণযোগ্য দ্রব্যটির ভূমিকা তোমার পাঠ্যপুস্তকের আলোকে বর্ণনা কর। ৪
- ১১ ▶ নিচের ছকটি দেখ :
- | খাতসমূহ        | কোটি টাকা |
|----------------|-----------|
| কর রাজস্ব      | ১,৯৫,৭৮৫  |
| আয়কর রাজস্ব   | ৯৫,৬৩৫    |
| মোট রাজস্ব আয় | ২,৯১,৪২০  |
| মোট ব্যয়      | ২২,৪৯১    |
- ক. উদ্বৃত্ত বাজেট কী? ১
- খ. VAT কী ধরনের কর? ব্যাখ্যা কর। ২
- গ. উদ্দীপকের বাজেট কোন ধরনের? যুক্তিসহকারে লেখ। ৩
- ঘ. উদ্দীপকে যে বাজেটটি লক্ষ করা যায় সেটি কোন ধরনের দেশের জন্য প্রয়োজন বলে তুমি মনে কর। ৪

8৮ ✓ বিদ্যাময়ী সরকারি বালিকা উচ্চ বিদ্যালয়, ময়মনসিংহ

বিষয় কোড : 141

সময় : ২ ঘণ্টা ৩০ মিনিট

অর্থনীতি সৃজনশীল প্রশ্ন

পূর্ণমান : ৭০

দ্রষ্টব্য : ডান পাশের সংখ্যা প্রশ্নের পূর্ণমান জ্ঞাপক। প্রদত্ত উদ্দীপকগুলো মনোযোগসহকারে পড় এবং সংশ্লিষ্ট প্রশ্নের উত্তর দাও। যেকোনো সাতটি প্রশ্নের উত্তর দিতে হবে।

- ১ ▶ মুদি ব্যবসায়ী রহিমের পরিবারে লোকসংখ্যার তুলনায় সম্পদ সীমিত। সীমিত সম্পদের সাহায্যে অসীম অভাব পূরণ করতে গিয়ে তাকে বিভিন্ন সমস্যার সম্মুখীন হতে হয়। কারণ একটি অভাব পূরণের সাথে সাথে আরেকটি অভাব দেখা দেয়।
- ক. অর্থনীতিবিদ এল. রবিন্সের অর্থনীতির সংজ্ঞাটি লেখ। ১
- খ. মিশ্র অর্থব্যবস্থার বৈশিষ্ট্যগুলো উল্লেখ কর। ২
- গ. উদ্দীপকের আলোকে অভাব নির্বাচন সমস্যা ব্যাখ্যা কর। ৩
- ঘ. 'মানুষের অভাব অসীম' উদ্দীপকে উল্লিখিত বিষয়টি তোমার পাঠ্যবইয়ের আলোকে বিশ্লেষণ কর। ৪
- ২ ▶ আলিম তার একখণ্ড জমিতে ধান অথবা গম চাষ করতে পারে। আবার জমির কিছু অংশে ধান এবং কিছু অংশে গম চাষ করতে পারে। উক্ত জমিতে শুধু ধান চাষ করলে ১০০ কুইন্টাল ধান উৎপাদন হতে পারে, গম চাষ করলে ৭০ কুইন্টাল গম উৎপাদন হতে পারে। কিন্তু একই সাথে ধান ও গম উৎপাদন করতে পারে না।
- ক. অর্থনৈতিক কার্যাবলি কী? ১
- খ. সম্পদ বলতে কী বোঝায়? ২
- গ. উদ্দীপকে উল্লিখিত ধান ও গম উৎপাদনের ধারণাটি কীভাবে নির্ধারিত হয়? ব্যাখ্যা কর। ৩
- ঘ. উদ্দীপকে উল্লিখিত সমস্যা সমাধানের উপায় পাঠ্যপুস্তকের আলোকে বিশ্লেষণ কর। ৪
- ৩ ▶ 'ক' ব্যক্তির দ্রব্যের যোগান সূচি নিম্নে দেওয়া হলো :

প্রতি একক দ্রব্যের দাম (টাকায়)	যোগানের পরিমাণ (কুইন্টাল)
১০.০০	১০
১৫.০০	১৫
২০.০০	২০
২৫.০০	২৫

- ক. উপযোগ কাকে বলে? ১
- খ. ভারসাম্য দাম কীভাবে নির্ধারিত হয়? ২
- গ. উদ্দীপকের সূচি থেকে যোগান রেখা অঙ্কন করে তা ব্যাখ্যা কর। ৩
- ঘ. দ্রব্যের দাম বাড়লে যোগানের পরিমাণ বাড়বে, দাম কমলে যোগানের পরিমাণ কমে, পাঠ্যবইয়ের আলোকে বিশ্লেষণ কর। ৪
- ৪ ▶ তালিকায় বিভিন্ন দামে A দ্রব্যের যোগান ও চাহিদা উল্লেখ করা হলো—

দ্রব্যের দাম	যোগানের পরিমাণ	চাহিদার পরিমাণ
৬	৬	১৪
৮	১০	১০
১০	১৪	৬

- ক. কখন প্রান্তিক উপযোগ শূন্য হয়? ১
- খ. ভোগ বলতে কী বোঝায়? ২
- গ. উপরের তালিকা ব্যবহার করে একটি চাহিদা রেখা অঙ্কন কর এবং ব্যাখ্যা কর। ৩
- ঘ. উদ্দীপকের আলোকে রেখাচিত্র অঙ্কন করে A দ্রব্যের ভারসাম্য দাম ও পরিমাণ নির্ধারণ কর। ৪
- ৫ ▶ ফারজানা একজন ফ্যাশন ডিজাইনার। তিনি দক্ষ কর্মচারীদের দিয়ে নিজস্ব ডিজাইনে পোশাক তৈরি করে দেশের বিভিন্ন স্থানে তার শো-রুমগুলোতে সরবরাহ করেন। প্রত্যেক শোরুমে আলাদা লোকেরা কাজ করেন। পোশাকের গুণগত মান বৃদ্ধিতে যথেষ্ট সচেতন বলে দিন দিন তার পোশাকের চাহিদা বেড়েই চলেছে।
- ক. গড় উৎপাদনের সূত্রটি কী? ১
- খ. মূলধনের গুরুত্ব অধিক কেন? ২
- গ. ফারজানার উপযোগ সৃষ্টি প্রক্রিয়াটি পাঠ্যবইয়ের আলোকে ব্যাখ্যা কর। ৩
- ঘ. 'ফারজানা একজন সফল সংগঠক' এর পক্ষে যুক্তি দেখাও। ৪

- ৬ ▶ করিম সাহেব একই দোকান থেকে সবসময় চাল ক্রয় করেন। কারণ এখানে সব সময় একই ধরনের চাল পাওয়া যায়। দরদাম প্রায় একই থাকায় এখান থেকে যে কেউ যখন তখন চাল কিনতে পারে।
- ক. একচেটিয়া বাজার কী? ১
- খ. স্বল্পকালীন বাজারের ধারণাটি ব্যাখ্যা কর। ২
- গ. উদ্দীপকে উল্লিখিত দোকানটিতে কোন বাজারকে নির্দেশ করে? ৩
- ঘ. উক্ত বাজারের দরদাম প্রায় একই থাকে— উক্তিটি বিশ্লেষণ কর। ৪
- ৭ ▶ মালয়েশিয়াপ্রবাসী ছফির তার উপার্জিত টাকার কিছু অংশ দেশে পাঠায়, আবার কানাডার নাগরিক রিচার্ড বাংলাদেশে প্রতিষ্ঠান পরিচালনা করে প্রচুর অর্থ উপার্জন করে।
- ক. মাথাপিছু জিডিপির সূত্রটি কী? ১
- খ. জাতীয় আয় পরিমাপে আয় পদ্ধতি বলতে কী বোঝায়? ২
- গ. রিচার্ডের আয় আমাদের দেশে যে ধরনের আয়ের অন্তর্গত সেটি ব্যাখ্যা কর। ৩
- ঘ. উদ্দীপকে উল্লিখিত দুজন ব্যক্তির আয়ের তুলনামূলক চিত্র তুলে ধর। ৪
- ৮ ▶ মারুফ এমন একটি ব্যাংকে চাকরি করে যার মূল উদ্দেশ্য হলো মুনাফা অর্জন। ব্যবসায়িক কাজে ব্যক্তি বা প্রতিষ্ঠানকে তাদের চাহিদা অনুযায়ী ঋণ প্রদান করে।
- ক. অর্থ কী? ১
- খ. কেন্দ্রীয় ব্যাংককে সরকারের ব্যাংক বলা হয় কেন? ২
- গ. উদ্দীপকের মারুফের কর্মরত ব্যাংকটির মূল উদ্দেশ্য ব্যাখ্যা কর। ৩
- ঘ. উক্ত ব্যাংক কীভাবে ব্যবসায়িক কার্যক্রমে সহযোগিতা করে আলোচনা কর। ৪
- ৯ ▶ জমির উদ্দিন একজন কৃষক। তিনি তার জমিতে বিভিন্ন ধরনের শস্য চাষ করেন। প্রতি বছর তিনি তার জমিতে প্রচুর পাট উৎপাদন করেন, যা বিভিন্ন শিল্পকারখানায় পণ্য তৈরিতে কাঁচামাল হিসেবে ব্যবহার করা হয়।
- ক. STOL-এর পূর্ণরূপ কী? ১
- খ. শিল্পনীতি ২০১০-এর গুরুত্বপূর্ণ উদ্দেশ্য কী কী? ২
- গ. উদ্দীপকে উল্লিখিত কৃষিখাতের উন্নয়নের ওপর কীভাবে অর্থনৈতিক প্রবৃদ্ধি নির্ভরশীল ব্যাখ্যা কর। ৩
- ঘ. উদ্দীপকে বর্ণিত কৃষি ও শিল্প পরস্পর পরিপূরক— মূল্যায়ন কর। ৪
- ১০ ▶ রিফাত উচ্চ শিক্ষার জন্য এমন একটি দেশে গিয়েছে যার দালানকোঠা, রাস্তাঘাট, প্রযুক্তির ব্যবহার রিফাতের নিজ দেশের তুলনায় অনেক উন্নত। রিফাত তার দেশের অর্থনৈতিক উন্নয়নের পথে বাধাসমূহ এবং এগুলোকে কীভাবে দূর করা যায় তা নিয়ে সবসময় ভাবে।
- ক. অর্থনৈতিক প্রবৃদ্ধি কী? ১
- খ. ছদ্মবেশী বেকারত্ব বলতে কী বোঝায়? ২
- গ. রিফাত যে দেশে পড়তে গিয়েছে সে দেশটির বৈশিষ্ট্যগুলো ব্যাখ্যা কর। ৩
- ঘ. রিফাতের নিজ দেশের অর্থনৈতিক উন্নয়নের পথে বাধাসমূহ কী কী বিশ্লেষণ কর। ৪
- ১১ ▶ দেশের একটি স্বনামধন্য শোরুম থেকে পোশাক ক্রয় করার সময় রুমা দেখল, তার পোশাকের প্রকৃত দামের সাথে অতিরিক্ত টাকা ধার্য করা হয়েছে। দোকানিকে এ ব্যাপারে জিজ্ঞাসা করলে বলেন, এটি বিক্রয়ের ক্ষেত্রে সরকার কর্তৃক নির্ধারিত হারে ক্রেতার নিকট থেকে আদায় করা হয়।
- ক. যাচাই বাজেট কাকে বলে? ১
- খ. দারিদ্র্য বিমোচনে সরকারের ভূমিকা লেখ। ২
- গ. উপরে উল্লিখিত অতিরিক্ত আদায়কৃত অর্থ সরকারি রাজস্বের কোন উৎসের অন্তর্গত? ব্যাখ্যা কর। ৩
- ঘ. আবগারি শুল্কের সাথে উক্ত অতিরিক্ত অর্থের সম্পর্ক বিশ্লেষণ কর। ৪

## ৪৯ ✓ বীরশ্রেষ্ঠ মুন্সী আব্দুর রউফ পাবলিক কলেজ, ঢাকা

বিষয় কোড : 141

সময় : ২ ঘণ্টা ৩০ মিনিট

অর্থনীতি সৃজনশীল প্রশ্ন

পূর্ণমান : ৭০

দ্রষ্টব্য : ডান পাশের সংখ্যা প্রশ্নের পূর্ণমান জ্ঞাপক। প্রদত্ত উদ্দীপকগুলো মনোযোগসহকারে পড় এবং সংশ্লিষ্ট প্রশ্নের উত্তর দাও। যেকোনো সাতটি প্রশ্নের উত্তর দিতে হবে।

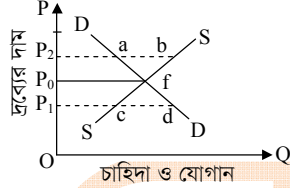
১▶ রাজিব সাহেব 'ক' দেশে এসে লক্ষ করলেন সেদেশে উৎপাদন ব্যবস্থায় সরকারি ও বেসরকারি উভয় সংগঠনের সহাবস্থান রয়েছে। কিন্তু তার দেশে অধিকাংশ অর্থনৈতিক কর্মকাণ্ডই ব্যক্তিগত উদ্যোগে পরিচালিত হয়। সবাই ইচ্ছামতো দ্রব্যসামগ্রী ভোগ করতে পারে।

- ক. অর্থনীতি সম্পর্কে এল. রবিশ্বের সংজ্ঞাটি লেখ। ১  
খ. কীভাবে দুশ্রুপ্যতা নির্বাচন বিষয়ের উদ্ভব ঘটিয়েছে? ২  
গ. রাজিব সাহেবের দেশের অর্থব্যবস্থার প্রকৃতি ব্যাখ্যা কর। ৩  
ঘ. রাজিব সাহেবের দেশের ও 'ক' দেশের অর্থব্যবস্থার তুলনামূলক বিশ্লেষণ কর। ৪

২▶ বনভূমি, শিশুপার্ক, প্রতিভা, খেলোয়ারের ক্রীড়া নৈপুণ্য, যন্ত্রপাতি, শিক্ষাপ্রতিষ্ঠান, পোষাক তৈরির কারখানা, উদ্যোগ।

- ক. সঞ্চয়ের সূত্রটি লেখ। ১  
খ. সুযোগ্যব্যয় বলতে কী বোঝায়? ২  
গ. উদ্দীপকে উল্লিখিত সম্পদগুলোর উৎপত্তির ভিত্তিতে শ্রেণিবিভাগ কর। ৩  
ঘ. উদ্দীপকের সম্পদগুলোর মধ্যে অর্থনীতির ভাষায় কোনগুলো সম্পদ এবং কোনগুলো সম্পদ নয় বিশ্লেষণ কর। ৪

৩▶



- ক. ভোগ কাকে বলে? ১  
খ. মোট উপযোগ ও প্রান্তিক উপযোগের মধ্যে ২টি পার্থক্য লেখ। ২  
গ. উদ্দীপকে নির্দেশিত  $P_2$  দামে কি ভারসাম্য অর্জন করা সম্ভব? ব্যাখ্যা কর। ৩  
ঘ. উদ্দীপকে কোন বিন্দুতে ভারসাম্য নির্ধারিত হবে? বিশ্লেষণ কর। ৪

প্রতি একক পণ্যের দাম (টাকা)	চাহিদার পরিমাণ (একক)
২	২০
৪	১৫
৬	১০
৮	৫

- ক. চাহিদা কী? ১  
খ. যোগান বিধি কী? ব্যাখ্যা কর। ২  
গ. উল্লিখিত চাহিদা সূচি থেকে চাহিদা রেখা অঙ্কন করে ব্যাখ্যা কর। ৩  
ঘ. উদ্দীপকের আলোকে অঙ্কিত চাহিদা রেখার গতিপ্রকৃতি বিশ্লেষণ কর। ৪

ভূমি	শ্রমিক নিয়োগ	উপকরণ সংমিশ্রণ	মোট উৎপাদন (মণ)	প্রান্তিক উৎপাদন (মণ)
১ বিঘা	১	ক	৫	৫
১ "	২	খ	১১	৬
১ "	৩	গ	১৫	৪
১ "	৪	ঘ	১৭	২
১ "	৫	ঙ	১৭	০

- ক. শ্রম কাকে বলে? ১  
খ. স্থানগত উপযোগ বলতে কী বোঝায়? ২  
গ. উদ্দীপকের ছকটি অর্থনীতির যে ধারণা প্রকাশ করে তা রেখাচিত্রের সাহায্যে ব্যাখ্যা কর। ৩  
ঘ. উল্লিখিত ছকের আলোকে মোট উৎপাদন ও প্রান্তিক উৎপাদনের মধ্যকার সম্পর্ক বিশ্লেষণ কর। ৪

৬▶ রিয়া কোম্পানির কেনার জন্য দোকানে গেলে দোকানদার তাকে কয়েক ধরনের ক্রিম দেখায়। রিয়া লক্ষ করল যে, প্রতিটি ক্রিম সমপরিমাণে রয়েছে। কিন্তু দামের ক্ষেত্রে কিছুটা পার্থক্য রয়েছে।

- ক. ফার্ম কী? ১  
খ. বিস্তৃত বাজার বলতে কী বোঝায়? ২  
গ. রিয়ার ক্রয়কৃত দ্রব্যটি কোন বাজারের দ্রব্য? ব্যাখ্যা কর। ৩  
ঘ. একচেটিয়া বাজারের সাথে রিয়ার ক্রয়কৃত দ্রব্যের বাজারের পার্থক্য বিশ্লেষণ কর। ৪

৭▶ জাতীয় আয় ( $\gamma$ ) = মোট খাজনা ( $\Sigma r$ ) + মোট মজুরি ( $\Sigma w$ ) + মোট সুদ ( $\Sigma i$ ) + মোট সুদ ( $\Sigma \pi$ )

- ক. CCA-এর পূর্ণরূপ কী? ১  
খ. মোট জাতীয় আয় ও নিট জাতীয় আয়ের মধ্যে পার্থক্য? ২  
গ. উদ্দীপকে জাতীয় আয় পরিমাপের কোন পদ্ধতি নির্দেশিত হয়েছে? ব্যাখ্যা কর। ৩  
ঘ. বাংলাদেশের মতো উন্নয়নশীল দেশে এ পদ্ধতি নির্দেশিত হয়েছে? ব্যাখ্যা কর। ৪

৮▶ ভূমিহীন জরিলা বেগম একটি আর্থিক প্রতিষ্ঠান থেকে ৫ হাজার টাকা ঋণ পায়। ঋণটি তিনি উৎপাদনশীল খাতে ব্যবহার করায় তা পরিশোধও করতে পারেন। ক্ষুদ্র ক্ষুদ্র কিস্তিতে পরিশোধ করার সুযোগ পাওয়ায় তার মধ্যে উদ্দীপনা বৃদ্ধি পেয়েছে।

- ক. প্রামাণিক মুদ্রা কী? ১  
খ. নিকাশঘর বলতে কী বোঝায়? ২  
গ. জরিলা বেগমে যে ব্যাংক থেকে ঋণ নিয়েছে তার প্রকৃতি ব্যাখ্যা কর। ৩  
ঘ. ভূমি কি মনে কর অতি দরিদ্র ভূমিহীনদের মধ্যে কর্মউদ্দীপনা সৃষ্টিতে উক্ত আর্থিক প্রতিষ্ঠান ভূমিকা রাখে? মতামত দাও। ৪

৯▶ দৃশ্য-ক : সিয়াম একটি পোশাক তৈরির কারখানায় কাজ করে। উক্ত কারখানার তৈরি পোশাক বিদেশে রপ্তানি করে বৈদেশিক মুদ্রা অর্জিত হয়। দৃশ্য-২ : জামিল কৃষি কাজ করে। সে ট্রাক্টর দিয়ে জমি চাষ করে। এছাড়া সে কৃষিকাজে হারভেস্টারও ব্যবহার করে।

- ক. অর্থনৈতিক দৃষ্টিকোণ থেকে বাংলাদেশ কোন ধরনের দেশ? ১  
খ. EPZ কেন প্রতিষ্ঠা করা হয়েছে? ২  
গ. উদ্দীপকে দৃশ্য-ক সংশ্লিষ্ট খাতের ওপর অর্থনৈতিক প্রবৃদ্ধি কীভাবে নির্ভরশীল? ব্যাখ্যা কর। ৩  
ঘ. দৃশ্য-ক এবং দৃশ্য-খ পরস্পর পরিপূরক—উক্তিটি মূল্যায়ন কর। ৪

১০▶ 'ক' রাষ্ট্র বহুতল ভবন, উন্নত প্রযুক্তি সমৃদ্ধ রেল, বিমান ও সড়ক পথ রয়েছে। 'খ' দেশের অবস্থা এর বিপরীত। তবে পরিকল্পিত কর্মসূচির মাধ্যমে দেশটিতে কোন কোন ক্ষেত্রে ক্রমোন্নতি হচ্ছে।

- ক. মৌসুমী বেকারত্ব কী? ১  
খ. অর্থনৈতিক উন্নয়ন বলতে কী বোঝায়? ২  
গ. 'খ' দেশটি উন্নয়নের মাপকাঠিতে কোন শ্রেণির দেশ? ব্যাখ্যা কর। ৩  
ঘ. 'খ' দেশকে 'ক' দেশের পর্যায়ে উন্নীত করতে প্রয়োজন অর্থনৈতিক উন্নয়ন— যুক্তি দাও। ৪

আয় (হাজার কোটি টাকা)	ব্যয় (হাজার কোটি টাকা)
বাণিজ্য শুল্ক	প্রতিরক্ষা
৭০	৭৫
মূল্য সংযোজন কর	বেসামরিক প্রশাসন
৬৫	৫০
আয়কর	শিক্ষা
৫৫	৭০
ভূমি রাজস্ব	অ-প্রত্যাশিত ব্যয়
৩০	৪০

- ক. আবগারি শুল্ক কী? ১  
খ. সম্পূরক শুল্ক বলতে কী বোঝায়? ২  
গ. উদ্দীপকের বাজেটটি কোন ধরনের বাজেট? ব্যাখ্যা কর। ৩  
ঘ. উক্ত বাজেটের কোন খাতটিকে অধিক পরিমাণে ব্যয় করা উচিত? যুক্তিসহ ব্যাখ্যা কর। ৪

৫০ ✓ সরকারি পি এন বালিকা উচ্চ বিদ্যালয়, রাজশাহী

বিষয় কোড : 141

সময় : ২ ঘণ্টা ৩০ মিনিট

অর্থনীতি সৃজনশীল প্রশ্ন

পূর্ণমান : ৯০

দ্রষ্টব্য : ডান পাশের সংখ্যা প্রশ্নের পূর্ণমান জ্ঞাপক। প্রদত্ত উদ্দীপকগুলো মনোযোগসহকারে পড় এবং সংশ্লিষ্ট প্রশ্নের উত্তর দাও। যেকোনো সাতটি প্রশ্নের উত্তর দিতে হবে।

- ১ ▶ রায়হান শহরের একটি কলেজে লেখাপড়া করে। তার বাবা তাকে ১০০০ টাকা দিয়েছে বই কেনার জন্য। কিন্তু তার বই ছাড়া আরও কিছু প্রয়োজনীয় জিনিস ক্রয় করা প্রয়োজন যা ১০০০ টাকায় কেনা সম্ভব নয়। তাই সে প্রয়োজনের অধিকার ভিত্তিতে ক্রয় করে।
- ক. বাংলাদেশে কোন ধরনের অর্থব্যবস্থা প্রচলিত? ১
- খ. অসীম অভাব বলতে কী বুঝ? ২
- গ. উদ্দীপকের সাথে কোন অর্থনীতিবিদের সংজ্ঞা সাদৃশ্যপূর্ণ? ব্যাখ্যা কর। ৩
- ঘ. উক্ত সংজ্ঞাটি কি অধিকতর গ্রহণযোগ্য? বিশ্লেষণ কর। ৪
- ২ ▶ সালমা বেগম একজন স্কুল শিক্ষিকা। তিনি সারাদিন স্কুলে ছাত্রদের পড়ান। দিন শেষে বাড়ি ফিরে এসে নিজ সন্তানদেরও পড়াশুনার দায়িত্ব পালন করেন।
- ক. বিনিয়োগ কী? ১
- খ. হস্তান্তর যোগ্যতা বলতে কী বুঝ? ২
- গ. উদ্দীপকে বর্ণিত সালমা বেগমের পেশাটি কি অর্থনৈতিক কার্যাবলি? ব্যাখ্যা কর। ৩
- ঘ. সালমা বেগমের ছাত্রদের পড়ানো ও সন্তানদের পড়ানোর মাঝে কোনো পার্থক্য আছে কি? মতামত দাও। ৪
- ৩ ▶ নিচে একটি পণ্যের চাহিদা সূচি দেওয়া হলো—

একক প্রতি পণ্যের দাম (টাকায়)	চাহিদার পরিমাণ (একক)
২.০০	২০
৪.০০	১৫
৬.০০	১০
৮.০০	০৫

- ক. চাহিদা কী? ১
- খ. চাহিদা বিধি কী? ব্যাখ্যা কর। ২
- গ. উপরের সূচি থেকে একটি চাহিদা রেখা অঙ্কন করে ব্যাখ্যা কর। ৩
- ঘ. অন্যান্য অবস্থা অপরিবর্তিত থেকে দাম বাড়ার পাশাপাশি আয়ের বৃদ্ধি ঘটলে উক্ত চাহিদা রেখার কী পরিবর্তন হবে? যুক্তি সহকারে বিশ্লেষণ কর। ৪
- ৪ ▶ জাকির সাহেবের চাঁপাইনবাবগঞ্জে একটি আমের বাগান আছে। বাগানে প্রচুর আম উৎপাদন হয়। স্থানীয় বাজারে সে আমের ন্যায্য মূল্য পায় না। তাই সে বন্ধু সাকিলের সহায়তায় ঢাকায় আম নিয়ে যায় এবং ভালো দামে বিক্রি করে।
- ক. উপযোগ কাকে বলে? ১
- খ. ভূমি বলতে কী বুঝ? ২
- গ. জাকির সাহেবের আম বিক্রির প্রক্রিয়াটি কোন ধরনের উপযোগ সৃষ্টি করে? ব্যাখ্যা কর। ৩
- ঘ. ভূমি কি মনে কর জাকিরের সিদ্ধান্ত সঠিক ছিল? মূল্যায়ন কর। ৪
- ৫ ▶ সোহাগ ক ও খ দুটো পৃথক বাজারের কিছু বৈশিষ্ট্য উল্লেখ করে। ক-বাজারে একজন বিক্রেতা ও পরিবর্তক দ্রব্য নাই। খ-বাজারে বহু সংখ্যক বিক্রেতা এবং দ্রব্যের একক সমজাতীয়।
- ক. জয়দেবপুরে অবস্থিত সমরাস্ত্র কারখানা কোন ধরনের বাজার? ১
- খ. আন্তর্জাতিক বাজার বলতে কী বুঝ? ২
- গ. উদ্দীপকের ক-বাজার দ্বারা কোন বাজারকে নির্দেশ করছে? ব্যাখ্যা কর। ৩
- ঘ. ক ও খ বাজারের মধ্যে পার্থক্য পাঠ্যবইয়ের আলোকে বিশ্লেষণ কর। ৪

- ৬ ▶ জাতীয় আয় = মোট খাজনা + মোট মজুরি + মোট সুদ + মোট মুনাফা।
- ক. মোট দেশজ উৎপাদন কী? ১
- খ. মোট জাতীয় আয় ও নীট জাতীয় আয়ের মধ্যে পার্থক্য কী? ২
- গ. উদ্দীপক জাতীয় আয় পরিমাপের কোন পদ্ধতি নির্দেশ করে— বিশ্লেষণ কর। ৩
- ঘ. বাংলাদেশের মতো উন্নয়নশীল দেশে এ পদ্ধতি কতটা কার্যকর? তোমার মতামত দাও। ৪
- ৭ ▶ শামীম সাহেব একটি ব্যাংকে কর্মরত। এই ব্যাংকের মূল উদ্দেশ্য মুনাফা অর্জন। এই ব্যাংক জনগণের অর্থ জমা রাখে এবং প্রয়োজনে জনগণকে ঋণ প্রদান করে।
- ক. নিকাশঘর হিসাবে কাজ করে কোন ব্যাংক? ১
- খ. অর্থ বিনিময়ের সহজ ও সুবিধাজনক মাধ্যম কেন? ২
- গ. উদ্দীপকে যে ব্যাংকের কথা বলা হয়েছে তা ব্যাখ্যা কর। ৩
- ঘ. উক্ত ব্যাংকটি বাংলাদেশের অর্থনৈতিক উন্নয়নে কীভাবে অবদান রাখছে? ৪
- ৮ ▶ বর্তমান সরকার দেশের অর্থনৈতিক উন্নয়নের জন্য বিভিন্ন ধরনের গতিশীল কর্মসূচি গ্রহণ ও বাস্তবায়ন করে চলেছে। এসব কর্মসূচির মধ্যে পদ্মা ব্রিজ ও বিভিন্ন EPZ অন্যতম।
- ক. EPZ এর পূর্ণ রূপ কী? ১
- খ. সেবা খাত বলতে কী বুঝ? ২
- গ. পদ্মা ব্রিজ নির্মাণের লক্ষ্য কী? ব্যাখ্যা কর। ৩
- ঘ. EPZ নির্মাণের মাধ্যমে দেশের বেকার সমস্যার সমাধান হবে— মূল্যায়ন কর। ৪
- ৯ ▶ জালাল মিয়া একজন কৃষক। সে জমিতে বিভিন্ন ধরনের ফসল উৎপাদন করে। পাশপাশি তার ছেলে মুরগি খামার তৈরি করে কর্মসংস্থানের ব্যবস্থা করেছে।
- ক. শিল্প কী? ১
- খ. ক্ষুদ্র শিল্পের ভিত্তি কৃষি— ব্যাখ্যা কর। ২
- গ. জালাল মিয়া ও তার ছেলের কাজগুলো কোন খাতের অন্তর্গত? ব্যাখ্যা কর। ৩
- ঘ. বাংলাদেশের অর্থনীতিতে উক্ত খাতের গুরুত্ব বর্ণনা কর। ৪
- ১০ ▶ তারিক সাহেব যে দেশে বাস করে সেই দেশের অর্থনীতি কৃষিনির্ভর। জীবনযাত্রার মান তেমন উন্নত নয়, অর্থনৈতিক অবকাঠামো দুর্বল। বিভিন্ন আর্থ-সামাজিক কারণে সেই দেশের অর্থনৈতিক উন্নয়ন বাধাগ্রস্ত হচ্ছে।
- ক. ব্র্যাক কত সালে প্রতিষ্ঠিত হয়? ১
- খ. মৌসুমি বেকারত্ব কাকে বলে? ২
- গ. তারিক সাহেবের দেশটি উন্নয়নের মাপ-কাঠিতে কোন শ্রেণির দেশ? ব্যাখ্যা কর। ৩
- ঘ. দেশটির অর্থনৈতিক উন্নয়ন বাধাগ্রস্ত হওয়ার কারণগুলো চিহ্নিত কর। ৪
- ১১ ▶ জাকির সাহেব একজন বিখ্যাত শিল্পপতি। তিনি তার ওষুধ কারখানার আয় থেকে সরকারকে বিপুল পরিমাণে কর প্রদান করেন। অন্যদিকে রাশেদ সাহেব একজন সরকারি কর্মকর্তা। তিনিও তার আয়ের একটা অংশ সরকারকে কর প্রদান করে থাকেন।
- ক. VAT এর পূর্ণ রূপ কী? ১
- খ. মূলধন বাজেট কাকে বলে? ২
- গ. জাকির সাহেব যে কর প্রদান করেন তার ধরন ব্যাখ্যা কর। ৩
- ঘ. রাশেদ সাহেব যে কর প্রদান করেন তা সরকারের আয়ের একটা গুরুত্বপূর্ণ উৎস— বিশ্লেষণ কর। ৪

## ৫১ বগড়া পুলিশ লাইন স্কুল ও কলেজ

বিষয় কোড : 141

সময় : ২ ঘণ্টা ৩০ মিনিট

অর্থনীতি সৃজনশীল প্রশ্ন

পূর্ণমান : ৭০

দ্রষ্টব্য : ডান পাশের সংখ্যা প্রশ্নের পূর্ণমান জ্ঞাপক। প্রদত্ত উদ্দীপকগুলো মনোযোগসহকারে পড় এবং সংশ্লিষ্ট প্রশ্নের উত্তর দাও। যেকোনো সাতটি প্রশ্নের উত্তর দিতে হবে।

- ১▶ জন্ম থেকে মৃত্যু পর্যন্ত মানুষ বেঁচে থাকার জন্য আবিরাম সংগ্রাম করে। মানুষ আজীবন নানাবিধ বাধা পেরিয়ে এগিয়ে চলে। এ বাধা অতিক্রম করতে অর্থনীতির বিষয় নানাভাবে সহায়তা করে। মানুষ, সমাজ বা দেশের সমৃদ্ধি অর্জনে অর্থনীতি বিশেষভাবে সহায়তা করে।
- ক. Oikonomia শব্দের অর্থ কী? ১
- খ. “অর্থনীতি এমন একটি বিজ্ঞান, যা অসীম অভাব ও বিকল্প ব্যবহারযোগ্য দুস্থাপ্য উপকরণসমূহের মধ্যে সমন্বয় সাধনকারী কার্যাবলি আলোচনা করে”.....এ সংজ্ঞাটি কার? এ সংজ্ঞার বৈশিষ্ট্যগুলো আলোচনা কর। ২
- গ. অর্থনীতির নীতি কয়টি ও কী কী? যে কোন দুটি নীতি আলোচনা কর। ৩
- ঘ. ব্যক্তির স্বাধীনতা বজায় থাকে কোন অর্থ ব্যবস্থায়? এ অর্থব্যবস্থার বৈশিষ্ট্যগুলো আলোচনা কর। ৪

A	B
মৎস্য চাষ, পশু পালন	পোশাক শিল্পের কাজ, যানবাহন চালনা

- ক. চয়ন বলতে কী বোঝায়? ১
- খ. মানবিক সম্পদকে অর্থনৈতিক সম্পদ বলা যায় না কেন? ২
- গ. উদ্দীপকের A ও B বস্তুর কাজ অর্থনীতির কোন ধরনের কাজের অন্তর্ভুক্ত? উক্ত কাজগুলোর তুলনামূলক আলোচনা কর। ৩
- ঘ. “মানুষের অর্থনৈতিক কর্মকাণ্ড অত্যন্ত বিচিত্র ধরনের”-বিশ্লেষণ কর। ৪

প্রতি একক পণ্যের দাম (টাকায়)	চাহিদার পরিমাণ (একক)
৪ টাকা	১৬ কেজি
৬ টাকা	১২ কেজি
৮ টাকা	৮ কেজি
১০ টাকা	৪ কেজি

- ক. চাহিদা কী? ১
- খ. চাহিদা বিধি কী? ব্যাখ্যা কর। ২
- গ. উপরের সূচি থেকে একটি চাহিদা রেখা অঙ্কন করে ব্যাখ্যা কর। ৩
- ঘ. চাহিদা রেখা ডানদিকে নিম্নগামী হওয়ার কারণ ব্যাখ্যা কর। ৪
- ৪▶ আব্দুর রহিম একটি শিল্প প্রতিষ্ঠানের মালিক। যোগ্যতা ও দক্ষতার কারণে তিনি একজন সফল ব্যবসায়ী। উৎপাদিত পণ্যের চাহিদা বৃদ্ধি পেলেও কারখানার উৎপাদন সংগতিপূর্ণ না। তাই তিনি জনশক্তি সর্বোচ্চ ব্যবহার করে উৎপাদন বাড়াতে আগ্রহী।
- ক. মূলধন কী? ১
- খ. প্রান্তিক উৎপাদন বলতে কী বোঝায়? ব্যাখ্যা কর। ২
- গ. আব্দুর রহিমের দক্ষতা বৃদ্ধিতে কোন উপাদানটির গুরুত্ব সর্বাধিক? ব্যাখ্যা কর। ৩
- ঘ. উৎপাদন সমস্যা সমাধানে আব্দুর রহিমের সর্বোচ্চ বণ্যবহারের সিদ্ধান্তে যৌক্তিকতা বিশ্লেষণ কর। ৪

৫▶ বাজারের চিত্র নিম্নরূপ :

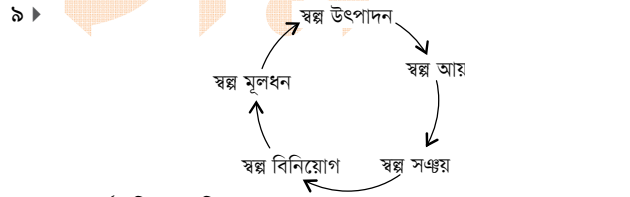


- ক. একচেটিয়া বাজার কী? ১
- খ. পূর্ণ প্রতিযোগিতামূলক বাজারের দুটি বৈশিষ্ট্য ব্যাখ্যা কর। ২
- গ. ১ম বাজারের বৈশিষ্ট্যগুলো বর্ণনা কর। ৩
- ঘ. ২য় বাজার মাত্রই ক্রেতার জন্য ক্ষতিকারক-এ বিষয়ে তোমার মতামত বিশ্লেষণ কর। ৪
- ৬▶ অর্থনীতির কতিপয় বিষয় যেমন, বিনিময় প্রথা, ঋণ পরিশোধ, সঞ্চয় সাধন ও অর্থের কার্যাবলিকে গুছিয়ে কবির ভাষায় :
- যাহা করে বিনিময় ও মূল্য পরিমাপ  
ঋণ পরিশোধ ও সঞ্চয় সাধন,  
অর্থ বলি গণ্য তারে করে সর্বজন।

- ক. বিহিত অর্থ কী? ১
- খ. অর্থ কীভাবে দ্রব্য বিনিময় প্রথার অসুবিধা দূর করে? ব্যাখ্যা কর। ২
- গ. কবির ভাষায় মূল্য পরিমাপক ও স্থগিত লেনদেনের মান হিসেবে অর্থ কীভাবে কাজ করে, ব্যাখ্যা কর। ৩
- ঘ. উদ্দীপকে উল্লিখিত অর্থের কার্যাবলি আধুনিক অর্থনীতিবিদদের দৃষ্টিকোণ থেকে বিশ্লেষণ কর। ৪
- ৭▶ বিভিন্ন দামে একটি দ্রব্যের চাহিদা ও যোগানের পরিমাণ নিচের ছকে দেওয়া হলো :

দ্রব্যের দাম (টাকায়)	চাহিদার পরিমাণ (একক)	যোগানের পরিমাণ (একক)
১০	৩০০	১০০
২০	২০০	২০০
৩০	১০০	৩০০

- ক. ভারসাম্য কী? ১
- খ. যোগান বিধি কী? ব্যাখ্যা কর। ২
- গ. উদ্দীপকের তথ্যের আলোকে ভারসাম্য দাম ও পরিমাণ চিত্রের সাহায্যে ব্যাখ্যা কর। ৩
- ঘ. ১০ টাকা ও ৩০ টাকা দামে বাজার পরিস্থিতির ওপর মন্তব্য কর। ৪
- ৮▶ এক সময় বাংলাদেশে আশি ভাগেরও বেশি মানুষ কৃষি উৎপাদনের সাথে জড়িত ছিল। বর্তমানে এ অবস্থার অনেক পরিবর্তন হয়েছে। মেয়েরা গৃহস্থালির কাজ ছেড়ে এখন অন্যান্য চাকরি ও পোশাক কারখানায় কাজ করছে।
- ক. অর্থনৈতিক দৃষ্টিকোণ থেকে বাংলাদেশ কোন ধরনের দেশ? ১
- খ. বাংলাদেশে ব্যাপক বেকারত্ব দেখা দেওয়ার কারণ ব্যাখ্যা কর। ২
- গ. বাংলাদেশের অর্থনীতির প্রধান তিনটি খাতের তুলনামূলক অবদান ব্যাখ্যা কর। ৩
- ঘ. “কৃষি ও শিল্প একে অপরের ওপর নির্ভরশীল”। উক্তিটি বাংলাদেশের অর্থনীতির প্রেক্ষাপটে মূল্যায়ন কর। ৪



- ক. অর্থনৈতিক প্রবৃদ্ধি কাকে বলে? ১
- খ. সুশ্রম ও অসম বাজেটের মধ্যে ২টি পার্থক্য লেখ। ২
- গ. উদ্দীপকের চক্রাকার প্রবাহটি কী নির্দেশ করে? ব্যাখ্যা কর। ৩
- ঘ. বাংলাদেশের মতো উন্নয়নশীল দেশে উক্ত সমস্যা ছাড়াও আরও কী কী সমস্যা পরিলক্ষিত হয়? বিশ্লেষণ কর। ৪
- ১০▶ রানা ‘ক’ দেশের নাগরিক। কর্মসংস্থানের জন্য সে ‘খ’ দেশে যায়। ‘খ’ দেশের রাস্তাঘাট, শিল্পকারখানা, উন্নত যোগাযোগ ব্যবস্থা ও উন্নত জীবনযাত্রা দেখে সে মুগ্ধ হয়। দেশটি খনিজ সম্পদেও সমৃদ্ধ। অথচ তার দেশের অবস্থা এর বিপরীত।
- ক. অর্থনৈতিক প্রবৃদ্ধি কী? ১
- খ. সামাজিক নিরাপত্তা বেটনী কী? ব্যাখ্যা কর। ২
- গ. রানার দেশটি উন্নয়নের মাপকাঠিতে কোন ধরনের দেশ? ব্যাখ্যা কর। ৩
- ঘ. উদ্দীপকে উল্লিখিত ‘ক’ দেশকে ‘খ’ দেশের পর্যায়ে উন্নীত করতে কী ধরনের পদক্ষেপ গ্রহণ প্রয়োজন? ব্যাখ্যা কর। ৪
- ১১▶ বাংলাদেশ সরকারের ২০১৭-১৮ অর্থবছরের প্রস্তাবিত বাজেট-বাজেটের মোট ব্যয় ৩,৪০,৬০৫ কোটি টাকা। মোট রাজস্ব আয় ২,৪৮,২৬৮ কোটি টাকা।
- ক. বাজেট কী? ১
- খ. বাংলাদেশে চূড়ান্তভাবে বাজেট গৃহীত হওয়ার প্রক্রিয়া উল্লেখ কর। ২
- গ. উদ্দীপকে উল্লিখিত বাজেটের প্রকৃতি ব্যাখ্যা কর। ৩
- ঘ. এ ধরনের বাজেট সরকারকে কেন গ্রহণ করতে হয়? ঘাটতি পূরণে সরকারের আয়ের উৎসগুলো চিহ্নিত কর। ৪

৫২ ✓ বিএএফ শাহীন কলেজ, যশোর

বিষয় কোড : 141

সময় : ২ ঘণ্টা ৩০ মিনিট

অর্থনীতি সৃজনশীল প্রশ্ন

পূর্ণমান : ৭০

দ্রষ্টব্য : ডান পাশের সংখ্যা প্রশ্নের পূর্ণমান জ্ঞাপক। প্রদত্ত উদ্দীপকগুলো মনোযোগসহকারে পড় এবং সংশ্লিষ্ট প্রশ্নের উত্তর দাও। যেকোনো সাতটি প্রশ্নের উত্তর দিতে হবে।

- ১ ▶ জনাব রাশেদ একজন স্বনামধন্য ব্যবসায়ী। তিনি যে দেশে বসবাস করেন সেই দেশে ব্যক্তিগত উদ্যোগে ব্যবসায়ী পরিচালনা করে গেলেও কোনো কোনো ক্ষেত্রে সরকার ব্যবসায়ের ওপর হস্তক্ষেপ করে। সম্প্রতি তিনি অন্য একটি দেশে বসবাস করার সিদ্ধান্ত নিয়েছেন, যেখানে সরকার কোনো প্রকার হস্তক্ষেপ করে না। ফলে প্রত্যেকে নিজ নিজ স্বার্থে অর্থনৈতিক কার্যাবলি সম্পাদন করে।
- ক. অর্থনীতি কাকে বলে? ১  
খ. সমাজতান্ত্রিক অর্থব্যবস্থায় ব্যক্তিগত মুনাফার অনুপস্থিতি কেন? ব্যাখ্যা কর। ২  
গ. জনাব রাশেদ যে দেশে বসবাস করেন সেই দেশের অর্থব্যবস্থা কোন ধরনের? ব্যাখ্যা কর। ৩  
ঘ. জনাব রাশেদ যে দেশে বসবাস করতে চাচ্ছেন সে দেশের অর্থব্যবস্থা চিহ্নিতপূর্বক উক্ত অর্থব্যবস্থায় জনগণের কল্যাণ সাধিত হবে বলে কি তুমি মনে কর? যুক্তি দাও। ৪
- ২ ▶ জনাব কবির একজন দরিদ্র কৃষক। বাড়ির পাশে তার একখন্ড জমি ছিল। সে চেয়েছিল, সেখানে একটি গরুর খামার করতে। কিন্তু তার স্ত্রী তাকে মুরগির খামার করার পরামর্শ দিলে সে গরুর খামারের পরিবর্তে মুরগির খামার করল। পরের বছর মুরগির খামারের আয় থেকে সকল খরচ মিটানোর পর যা অবশিষ্ট ছিল তা দিয়ে আরও এক খন্ড জমি কিনে সেখানে মাছ চাষ করেন এবং তা দেখাশুনার জন্য ১২ জন লোক নিয়োগ দিলেন।
- ক. চূড়ান্ত দ্রব্য কাকে বলে? ১  
খ. সম্পদের স্বল্পতাই নির্বাচনের কারণ- বুঝিয়ে লেখ। ২  
গ. উদ্দীপকে জনাব কবির স্ত্রীর পরামর্শে মুরগির খামার করার ক্ষেত্রে অর্থনীতির কোন ধারণাটি প্রতিফলিত হয়েছে? ব্যাখ্যা কর। ৩  
ঘ. উদ্দীপকে পরের বছর জনাব কবির মাছ চাষ করার ক্ষেত্রে অর্থনীতির যে ধারণাটি প্রতিফলিত হয় তা অর্থনীতিকে সমৃদ্ধ করে- বিশ্লেষণ করে। ৪
- ৩ ▶ নিচের একটি পণ্যের চাহিদা সূচি দেওয়া হলো :
- | প্রতি একক পণ্যের দাম (টাকায়) | চাহিদার পরিমাণ (একক) |
|-------------------------------|----------------------|
| ৪                             | ১৬                   |
| ৬                             | ১২                   |
| ৮                             | ৮                    |
| ১০                            | ৪                    |
- ক. চাহিদা কী? ১  
খ. চাহিদা বিধি কী? ব্যাখ্যা কর। ২  
গ. উপরের সূচি থেকে একটি চাহিদা রেখা অঙ্কন করে ব্যাখ্যা কর। ৩  
ঘ. অন্যান্য সংস্থা অপরিবর্তিত থেকে দাম বাড়ার পাশাপাশি আয়ের বৃদ্ধি ঘটলে উক্ত চাহিদা রেখার কী পরিবর্তন হবে? যুক্তিসহকারে বিশ্লেষণ কর। ৪
- ৪ ▶ করিম একজন কাঠমিস্ত্রি। কিছু যন্ত্রপাতি ব্যবহার করে নানা ধরনের খেলনা বানান। বেশি লাভের আশায় অনেক সময় তিনি তার উৎপাদিত সামগ্রী শহরে নিয়ে বিক্রি করেন। তাছাড়া তিনি মৌসুমে ধান ক্রয় ক্রয় করে পরবর্তীতে বেশি দামে বিক্রি করেন।
- ক. উৎপাদন অর্থ কী? ১  
খ. একটি উৎপাদনকারী প্রতিষ্ঠানের প্রকাশ্য ও অপ্রকাশ্য ব্যয় বলতে কী বোঝায়? ২  
গ. করিম কয় ধরনের উৎপাদন প্রক্রিয়ার সাথে জড়িত তা চিহ্নিত কর। ৩  
ঘ. তার ব্যবহৃত উৎপাদনের বিভিন্ন উপকরণগুলোর বিবরণ দাও। ৪
- ৫ ▶ মি. জালাল চালের আড়তের একজন দোকানদার। তার আড়তে সব সময় বিভিন্ন ধরনের চাল ক্রয়-বিক্রয় করা হয়। সম্প্রতি চালের দাম বেড়ে যাওয়ায় সেও বেশি দামে চাল বিক্রয় করতে থাকে। সাংবাদিকরা তার কারণ জানতে চাইলে জালাল জানায়, “কিন্তু অসাধু ব্যবসায়ী বেশি লাভের আশায় চাল মজুদ করে রাখায় দাম বেড়ে গিয়েছে।”
- ক. শিল্প কাকে বলে? ১  
খ. উপকরণ বাজার বলতে কী বোঝায়? ২  
গ. উদ্দীপকে যে বাজারের কথা বলা হয়েছে তার ধরন ব্যাখ্যা কর। ৩  
ঘ. উদ্দীপকে উল্লিখিত শেষ উক্তিটি আংশিকভাবে একচেটিয়া বাজারের বৈশিষ্ট্যের সাথে সম্পৃক্ত- মতামত দাও। ৪
- ৬ ▶ আকরাম সাহেব ১৫ বছর যাবৎ কুয়েতে কর্মরত। তিনি প্রতি মাসে তার মা-বাবার নিকট আয়ের একটি অংশ প্রেরণ করেন। অন্যদিকে ব্রিটিশ নাগরিক মিসেস এলিছা বাংলাদেশে একটি বেসরকারি সংস্থায় কর্মরত। প্রতি মাসে তিনিও তার দেশে টাকা পাঠান।

- ক. নিট জাতীয় উৎপাদন কী? ১  
খ. মোট দেশজ উৎপাদন বলতে কী বোঝায়? ২  
গ. আকরাম সাহেবের অর্থ প্রেরণ আমাদের জাতীয় আয় পরিমাণে কীভাবে সম্পৃক্ত হয়? ব্যাখ্যা কর। ৩  
ঘ. মিসেস এলিছার আয় কি বাংলাদেশের জাতীয় আয়কে প্রভাবিত করবে? তোমার মতামত দাও। ৪
- ৭ ▶ ব্যাংক 'X' দেশের মধ্যে বিভিন্ন রকম আর্থিক কর্মকাণ্ড পরিচালনা করে। উক্ত ব্যাংক জনগণের নিকট হতে তাদের জমানো অর্থ গ্রহণ করে তা বিভিন্ন হারে ব্যক্তি ও প্রতিষ্ঠানের মধ্যে বিতরণ করে থাকে। ব্যাংক 'Y' উক্ত দেশের ব্যাংকিং খাতের সর্বোচ্চ প্রতিষ্ঠান ব্যাংক 'Y' উক্ত দেশের ব্যাংক 'X'-এর মতো অন্যান্য ব্যাংক ও আর্থিক প্রতিষ্ঠানকে পরিচালনা করে থাকে।
- ক. বিহিত অর্থ কী? ১  
খ. স্থায়ী আমানত বলতে কী বোঝায়? ২  
গ. উদ্দীপকে উল্লিখিত ব্যাংক 'X' কোন ধরনের আর্থিক প্রতিষ্ঠান? ব্যাখ্যা কর। ৩  
ঘ. ব্যাংক 'Y' ব্যাংক 'X' সহ অন্যান্য আর্থিক প্রতিষ্ঠানকে নিয়ন্ত্রণ করে- মূল্যায়ন কর। ৪
- ৮ ▶ শাহানা একটি জাতীয় দৈনিক পত্রিকার পাতায় একটি খবর দেখে। সেখানে দেখে এ বছর পাটের ফলন খুব ভালো হয়েছে এবং কৃষকেরা দামও বেশ ভালো পাচ্ছে। বিশ্ব বাজারে পাটজাত দ্রব্যের চাহিদা বৃদ্ধি পাওয়ায় পাট থেকে এদেশে চট, বস্তা, দড়ি, সুতা ইত্যাদি তৈরি হচ্ছে।
- ক. শিল্প কাকে বলে? ১  
খ. EPZ কী? ব্যাখ্যা কর। ২  
গ. উদ্দীপকে যে দুটি খাতের কথা বলা হয়েছে সেই দুটি খাতের পারস্পরিক নির্ভরশীলতা ব্যাখ্যা কর। ৩  
ঘ. তুমি কি মনে কর দেশের প্রবৃদ্ধি অর্জনের জন্য এ দুটি খাতের পাশাপাশি সেবাখাতের উন্নয়ন জরুরি। ৪
- ৯ ▶ কাউথালী উপজেলার রহিম ও করিম দুই ভাই। রহিম উচ্চশিক্ষার জন্য অস্ট্রেলিয়া চলে যান এবং লেখাপড়া শেষ করে সেখানেই একটি প্রতিষ্ঠানে কর্মরত আছেন। তিনি প্রতি মাসে পরিবারের ব্যয়ভার বহনের জন্য বিশ হাজার টাকা দেশে পাঠান। অপরদিকে তার ভাই করিম বি.এ পাস করে চাকরি না পেয়ে নিজেদের পাঁচ বিঘা জমিতে পেয়ারা বাগান গড়ে তোলেন। তার বাগানে কাজ করে অনেকে জীবিকা নির্বাহ করছেন। তাছাড়া করিমের উৎপাদিত পেয়ারা স্থানীয় বাজারের চাহিদা মিটিয়ে ছড়িয়ে পড়ছে সমগ্র বাংলাদেশে।
- ক. মাথাপিছু আয় কাকে বলে? ১  
খ. বাংলাদেশকে উন্নয়নশীল দেশ বলা হয় কেন? ব্যাখ্যা কর। ২  
গ. রহিমের উপার্জিত অর্থ অর্থনীতির কোন অবস্থাকে নির্দেশ করে? ব্যাখ্যা কর। ৩  
ঘ. করিমের কাজের ক্ষেত্রটি অর্থনীতির কোন খাতের অন্তর্ভুক্ত? কর্মসংস্থানে উক্ত খাতের ভূমিকা বিশ্লেষণ কর। ৪
- ১০ ▶ আর্জান্দ একজন দিনমজুর। সে চুক্তিতে বড় বড় ডেভেলপার কোম্পানিতে মিস্ত্রির কাজ করে। একদিন সে জানতে পারে, তার মালিক এ মাসে কর প্রদান করেছে। এজন্য কোম্পানি তাকে মজুরি প্রদানে দুদিন বিলম্ব করে।
- ক. সরকারি অর্থব্যবস্থা কাকে বলে? ১  
খ. কর রাজস্ব বলতে কী বোঝায়? ২  
গ. আজাদের মালিক যে কর প্রদান করেছে তা কী রকম কর? ব্যাখ্যা কর। ৩  
ঘ. উদ্দীপকের আলোকে আজাদের মালিক যে কর প্রদান করছে সেটি ছাড়া অন্যান্য উৎসসমূহ বিশ্লেষণ কর। ৪
- ১১ ▶ 'ক' দেশের অধিবাসী রফিক 'খ' দেশে বেড়াতে গিয়ে দেখল যে, দেশটির রাস্তাঘাট বেশ প্রশস্ত। ভবনগুলো বহুতলবিশিষ্ট। যাতায়াতের জন্য ব্যবহৃত হচ্ছে উন্নত প্রযুক্তিসমৃদ্ধ রেল ও বিমান এবং শিক্ষা ব্যবস্থা উন্নত। অন্যদিকে তার দেশের অবস্থা বিপরীত। তবে রফিকের মনে হলো তার দেশও পরিকল্পিত কর্মসূচির মাধ্যমে দিন দিন এগিয়ে যাচ্ছে কিন্তু উন্নতি জন্য রয়েছে কিছু অন্তরায়।
- ক. মানবসম্পদ কাকে বলে? ১  
খ. দারিদ্র্যের দুষ্চক্র বলতে কী বোঝায়? ২  
গ. রফিকের দেশটিকে 'খ' দেশের পর্যায়ে উন্নীত করতে প্রয়োজন অব্যবহৃত অর্থনৈতিক উন্নয়ন- উত্তরের সপক্ষে যুক্তি দাও। ৩  
ঘ. রফিকের দেশটির উন্নয়নের পথে অন্তরায়গুলো কী কী হতে পারে মতামত দাও। ৪

## ৫৩ সেন্ট স্কলারস্টিকাস গার্লস হাই স্কুল, চট্টগ্রাম

বিষয় কোড : 141

সময় : ২ ঘণ্টা ৩০ মিনিট

অর্থনীতি সৃজনশীল প্রশ্ন

পূর্ণমান : ৭০

দ্রষ্টব্য : ডান পাশের সংখ্যা প্রশ্নের পূর্ণমান জ্ঞাপক। প্রদত্ত উদ্দীপকগুলো মনোযোগসহকারে পড় এবং সংশ্লিষ্ট প্রশ্নের উত্তর দাও। যেকোনো সাতটি প্রশ্নের উত্তর দিতে হবে।

- ১ ▶ রবিন 'A' দেশে এসে উৎপাদন ব্যবস্থায় সরকারি ও বেসরকারি উভয় সংগঠনের সহাবস্থান লক্ষ্য করলেন। কিন্তু তার দেশে অধিকাংশ অর্থনৈতিক কর্মকাণ্ডই ব্যক্তিগত উদ্যোগেই পরিচালিত হয়। তিনি মনে করেন, সমাজতান্ত্রিক অর্থব্যবস্থার চেয়ে তার দেশের অর্থব্যবস্থা ব্যবসায়-বাণিজ্যের জন্য বেশি অনুকূল।
- ক. অর্থনৈতিক ব্যবস্থা কী? ১  
খ. অর্থনৈতিক উন্নয়ন ও প্রবৃদ্ধির পার্থক্য কী? ২  
গ. তুমি কি 'A' দেশের অর্থব্যবস্থাকে সমর্থন কর? ব্যাখ্যা কর। ৩  
ঘ. রবিন কেন তার দেশের অর্থব্যবস্থার তুলনায় সমাজতন্ত্রকে বাণিজ্যের জন্য কম অনুকূল মনে করেন? বিশ্লেষণ কর। ৪
- ২ ▶ অশেষা একজন ভালো গায়িকা। কিন্তু সে খুব গরিব। তাই বিভিন্ন অনুষ্ঠানে গান গায়। এতে কোনোভাবে তার সংসার চলে। তার প্রতিভায় সবাই মুগ্ধ। কিন্তু তাতে তার কোনো উপকার হয় না। কিন্তু একসময় তার এলাকায় একজন মিউজিশিয়ান তার গানের সিডি রেকর্ডিং করে বাজারজাত করে। এরপর থেকে তার আয় বাড়তে থাকে ও সংসারে সচ্ছলতা আসে।
- ক. অধ্যাপক মার্শাল প্রদত্ত অর্থনীতির সংজ্ঞাটি লেখ। ১  
খ. ব্যবসায়ের সুনাম কী ধরনের সম্পদ- ব্যাখ্যা কর। ২  
গ. অশেষার 'গায়িক প্রতিভা' অর্থনৈতিক দৃষ্টিকোণ থেকে সম্পদ কিনা তা ব্যাখ্যা কর। ৩  
ঘ. অশেষার গানের সিডি কীভাবে তার অবস্থার পরিবর্তন করে- বিশ্লেষণ কর। ৪
- ৩ ▶ সুমির পেয়ারা খাওয়ার ইচ্ছে হলো। সে ২০ টাকায় একটি পেয়ারা কিনল। কিন্তু তার বন্ধু রাকিব ১২ টাকায় একটি পেয়ারা কিনল। এরপরও তুষ্টি না মেটায় সুমি ১৮ টাকায় ও ১৫ টাকায় ২য় ও ৩য় পেয়ারাটি কিনল।
- ক. অর্থনীতির ভাষায় ভোগ কী? ১  
খ. মোট উপযোগ ও প্রান্তিক উপযোগের ২টি পার্থক্য লেখ। ২  
গ. সুমি ও রাকিব ভিন্ন দামে ১ম পেয়ারা কেনার কারণ উল্লেখ পূর্বক সুমির পেয়ারা ভোগের বিষয়টিতে অর্থনীতির যে বিধি প্রকাশ পায় তা রেখাচিত্রের মাধ্যমে দেখাও। ৩  
ঘ. উক্ত বিধিটির শর্তগুলো কী কী ও এর ব্যতিক্রম থাকলে সেগুলো বিশ্লেষণ কর। ৪
- ৪ ▶ রাসেল মিয়া একজন কৃষক। তিনি তার জমিতে ধান উৎপাদন করেন। তিনি ১০ জন শ্রমিক নিয়োগ দিয়ে ১০০০ কেজি ধান উৎপাদন করতে সমর্থ হন। পরের বছর তার ছেলেও শ্রমিকদের সাথে কাজ করায় উৎপাদন বেড়ে ১১০০ কেজি হয়।
- ক. শ্রম কী? ১  
খ. সময়গত উৎপাদন বলতে কী বোঝায়? ২  
গ. রাসেল মিয়ার জমিতে উৎপাদিত ধানের মোট, গড় ও প্রান্তিক উৎপাদন বের করে তা ব্যাখ্যা কর। ৩  
ঘ. উক্ত গড় ও প্রান্তিক উৎপাদনের মধ্যে কোনো সম্পর্ক আছে কি? উদ্দীপকের আলোকে বিশ্লেষণ কর। ৪
- ৫ ▶ মোনালিসা ও প্রান্ত ১০ম শ্রেণিতে পড়ে। প্রান্ত মোনালিসাকে বলে, কোনো দ্রব্যের চাহিদার তুলনায় যোগান বেশি হলে দাম কমে এবং চাহিদা বেশি হলে দাম বাড়ে। মোনালিসা একমত প্রকাশ করে বলল, এই দুই শক্তির পারস্পরিক প্রভাব সমান হলেই ভারসাম্য দাম নির্ধারিত হয়।
- ক. ভারসাম্য দাম কী? ১  
খ. বাজার চাহিদা ব্যাখ্যা কর। ২  
গ. প্রান্তের বক্তব্যটি চিত্রের সাহায্যে দেখাও। ৩  
ঘ. মোনালিসার বক্তব্যের যথার্থতা বিশ্লেষণ কর। ৪
- ৬ ▶ রতন একজন ধনী কৃষক। গত কয়েক বছর ধরে আধুনিক চাষাবাদ পদ্ধতি অনুসরণ করায় সে অধিক ফসল উৎপাদন করতে পারে। গত বছর রতন একটি ছোট তৈরি পোশাক কারখানা স্থাপন করে। সেখানে তার গ্রামের নারী শ্রমিকরা কাজ করে। তার ছেলে একটি ভালো স্কুলে পড়ালেখা করে।
- ক. সেবা কাকে বলে? ১  
খ. EPZ স্থাপনের উদ্দেশ্য ব্যাখ্যা কর। ২  
গ. উদ্দীপকে বাংলাদেশের অর্থনীতির কয়টি খাতের উল্লেখ আছে? বিবরণ দাও। ৩  
ঘ. অর্থনৈতিক উন্নয়নে উক্ত খাতগুলোর আপেক্ষিক গুরুত্ব বিশ্লেষণ কর। ৪
- ৭ ▶ পাপনের একটি সুতা তৈরির মিল এবং একটি কাপড় তৈরির কারখানা আছে। জাতীয় আয় গণনার তথ্য সংগ্রহের সময় তথ্য সংগ্রহকারী পরিমল উভয় জায়গা থেকেই আয়ের তথ্য সংগ্রহ করেছে।
- ক. শিল্প কী? ১  
খ. উৎপাদনের উপকরণের সচলতা বলতে কী বোঝায়? ২  
গ. উদ্দীপকে উল্লিখিত জাতীয় আয় পরিমাপের পদ্ধতি ব্যাখ্যা কর। ৩  
ঘ. উক্ত পরিমাণ পদ্ধতিটি জাতীয় আয় পরিমাপের নির্ভুল পদ্ধতিটি কিনা- মতামত দাও। ৪
- ৮ ▶ বাশার সাহেব 'আজাদ প্রোডাক্টস' এর স্বত্বাধিকারী। নিম্নবিত্ত একজন শিক্ষকের সন্তান হয়েছে আজ তিনি বাংলাদেশের খ্যাতনামা সংগঠক হিসেবে পরিচিতি লাভ করেছেন। এর পিছনে রয়েছে কঠোর পরিশ্রম, সততা, ভালো ব্যবহার ও সঠিক সময়ে ঠিক কাজটি করার চেষ্টা। তার প্রতিষ্ঠানে বহু লোকের কর্মসংস্থান রয়েছে।
- ক. সংগঠক কাকে বলে? ১  
খ. রূপগত উপযোগ ব্যাখ্যা কর। ২  
গ. কীভাবে একজন ব্যক্তি সফল সংগঠক হতে পারে তা জনাব বাশার সাহেবের আলোকে ব্যাখ্যা কর। ৩  
ঘ. বাংলাদেশের অর্থনৈতিক উন্নয়নে জনাব বাশার সাহেবের মতো সংগঠকের ভূমিকা মূল্যায়ন কর। ৪
- ৯ ▶ রহমান সাহেব একটি বিজ্ঞাপনী সংস্থা চালান। তিনি তার প্রতিষ্ঠানের জন্য নানা খরচ করেন। একবার তার বিজ্ঞাপনী সংস্থার একটি বিলবোর্ড ঝড়ে ভেঙে পড়ে গেলে ঐ এলাকার মানুষের চলাচলে সমস্যা হতে থাকে। ফলে এলাকার জনগণকে অন্য রাস্তা দিয়ে ঘুরে বেশি ভাড়া করে চলাচল করতে হয়।
- ক. বিজ্ঞাপন খরচ কী? ১  
খ. গড় উৎপাদন সূত্রসহ ব্যাখ্যা কর। ২  
গ. রহমান সাহেবের বিজ্ঞাপনী সংস্থার প্রকাশ্য ও অপ্রকাশ্য ব্যয় ব্যাখ্যা কর। ৩  
ঘ. 'এলাকার জনগণকে বেশি ভাড়া করে চলাচল করতে হয়'- এ অতিরিক্ত ভাড়া কোন ধরনের ব্যয়? মতামত দাও। ৪
- ১০ ▶ স্বপন বাবু একজন সরকারি চাকরিজীবী। তিনি প্রতি মাসে যে বেতন পান তা থেকে একটি নির্দিষ্ট পরিমাণ আমানত হিসেবে জমা রাখেন। অবশিষ্ট টাকা থেকে কিছু টাকা নিয়ে তিনি একটি বৈদ্যুতিক পাখা ক্রয়ের জন্য দোকানে যান। তিনি হাজার টাকার নোট দিয়ে পাখাটি ক্রয় করেন।
- ক. মুদ্রার মূল্য কী? ১  
খ. কেন্দ্রীয় ব্যাংককে সকল ব্যাংকের ব্যাংকার বলা হয় কেন? ২  
গ. স্বপন বাবুর পাখা ক্রয়ে মুদ্রার ধরন ও শ্রেণিবিভাগ ব্যাখ্যা কর। ৩  
ঘ. উদ্দীপকে স্বপন বাবু প্রদত্ত মুদ্রার সাথে আমানতের পার্থক্য বিশ্লেষণ কর। ৪
- ১১ ▶ নিচের একটি কাল্পনিক বাজেট দেওয়া হলো :
- | আয় (হাজার কোটি টাকা) | ব্যয় (হাজার কোটি টাকা) |                   |      |
|-----------------------|-------------------------|-------------------|------|
| রাজস্ব প্রাপ্তি       | - ৫০                    | প্রতিরক্ষা        | - ৫০ |
| কর রাজস্ব             | - ৪০                    | বে. প্রশাসন       | - ৪০ |
| কর ব্যতীত             | - ১০                    | শিক্ষা            | - ২০ |
| বৈদেশিক অনুদান        | - ৩০                    | অপ্রত্যাশিত ব্যয় | - ৩০ |
- ক. বাজেট কী? ১  
খ. চলতি বাজেট ও মূলধন বাজেটের মধ্যে পার্থক্য কী? ২  
গ. ছকে বর্ণিত বাজেটটি কী ধরনের বাজেট? বিশ্লেষণ কর। ৩  
ঘ. উল্লিখিত বাজেটে কোন খাতে অধিক ব্যয় করা উচিত বলে তুমি মনে কর? উত্তরের সপক্ষে যুক্তি দাও। ৪



৫৪ জালালাবাদ ক্যান্টনমেন্ট বোর্ড হাই স্কুল, সিলেট

বিষয় কোড : 141

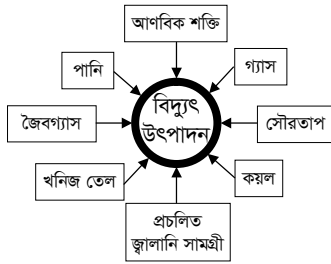
সময় : ২ ঘণ্টা ৩০ মিনিট

অর্থনীতি সৃজনশীল প্রশ্ন

পূর্ণমান : ৭০

দ্রষ্টব্য : ডান পাশের সংখ্যা প্রশ্নের পূর্ণমান জ্ঞাপক। প্রদত্ত উদ্দীপকগুলো মনোযোগসহকারে পড় এবং সংশ্লিষ্ট প্রশ্নের উত্তর দাও। যেকোনো সাতটি প্রশ্নের উত্তর দিতে হবে।

- ১ ▶ শাকিল স্টুডেন্ট ভিসা নিয়ে একটি দেশে পড়তে গিয়ে সে দেশের ও তার সহপাঠী বন্ধুদের দেশের অর্থনৈতিক অবস্থা সম্পর্কে অবহিত হয়। তার বন্ধু আহমদ বিন সায়েমের দেশে কল্যাণকর ও শোষণহীন অর্থব্যবস্থা অর্জনের পথ চালু রয়েছে। ধনীদের নিকট থেকে যাকাত ও ফিতরার মাধ্যমে অর্থগ্রহণ করে দরিদ্রদের মধ্যে বন্টন করা হয়। কিন্তু শাকিলের অবস্থানরত দেশে জনগণের কোন ব্যক্তি মালিকানা নেই। কেন্দ্রীয় ব্যবস্থাপনায় সবকিছু পরিচালিত হয়।
- ক. এল. রবিসের অর্থনৈতিক সংজ্ঞাটি কী? ১  
খ. ধনতান্ত্রিক অর্থব্যবস্থাকে অবাধ বা মুক্ত অর্থনীতি বলা হয় কেন? ২  
গ. শাকিলের বর্তমান অবস্থানরত দেশের সাথে আহমদ বিল সায়েমের দেশের অর্থব্যবস্থার তুলনামূলক আলোচনা কর। ৩  
ঘ. অর্থব্যবস্থা হিসেবে কোনটি তোমার মতে উত্তম? উত্তরের সপক্ষে যুক্তি দাও। ৪



- ২ ▶
- ক. তাপ বিদ্যুৎ কাকে বলে? ১  
খ. কোন কোন ক্ষেত্রে শক্তি সম্পদের ব্যবহার অপরিহার্য? ২  
গ. চিত্রে উল্লিখিত উৎপাদনের উপকরণের ব্যবহৃত উৎপাদন কেন্দ্রগুলোর পরিচয় দাও। ৩  
ঘ. “আধুনিক বিশ্বে আণবিক শক্তির উপর বিশেষ গুরুত্ব দেওয়া হচ্ছে”-শক্তির উৎস হিসেবে এটির প্রয়োজনীয়তা বিশ্লেষণ কর। ৪
- ৩ ▶ রমজান মিয়া একজন ড্রাইভার তিনি দায়িত্ব পালনের পাশাপাশি জমি চাষ করেন। তরিতরকারি ও ফলমূল উৎপাদন করেন।
- ক. ড্রাইভিং পেশা অর্থনীতির খাতের অন্তর্ভুক্ত? ১  
খ. অ-অর্থনৈতিক কার্যাবলি কী? ২  
গ. রমজান মিয়ার কাজের সাথে বাংলাদেশের মানুষের অর্থনৈতিক কার্যাবলির কী সম্পর্ক রয়েছে? ব্যাখ্যা কর। ৩  
ঘ. “বর্তমানে আমাদের জাতীয় আয়ে শিল্প ও সেবাখাতের অবদান ক্রমেই বাড়ছে।” উক্তিটি বিশ্লেষণ কর। ৪
- ৪ ▶ নিচের একটি পণ্যের চাহিদা সূচি দেওয়া হলো :

প্রতি একক পণ্যের দাম (টাকায়)	চাহিদার পরিমাণ (একক)
৬	২০
৮	১৬
১০	১২
১২	৮

- ক. চাহিদা কী? ১  
খ. চাহিদা বিধি কী? ব্যাখ্যা কর। ২  
গ. উপরের সূচি থেকে একটি চাহিদা রেখা অঙ্কন করে ব্যাখ্যা কর। ৩  
ঘ. অন্যান্য অবস্থা অপরিবর্তিত থেকে দাম বাড়ার পাশাপাশি আয়ের বৃদ্ধি ঘটলে উক্ত চাহিদা রেখার কী পরিবর্তন হবে? যুক্তিসহকারে বিশ্লেষণ কর। ৪
- ৫ ▶ আমিন সাহেব একজন শ্রমিক। কাজ শেষে তিনি জাফলং বাজার থেকে প্রথমে ৪ টাকা দিয়ে একটি কমলালেবু কিনলেন। কমলাটি খাওয়ার পর তার কমলার প্রতি আগ্রহ কিছুটা কমে গেল। সেজন্য পরবর্তীতে তিনি ৩ টাকা দিয়ে একটি কমলা কিনলেন। এটিও খাওয়ার পর তার আগ্রহ আরও কমে গেল। এভাবে তিনি পর্যায়ক্রমে ৩টি ও ৪টি কমলা ক্রয় করলেন যথাক্রমে ২ টাকা ও ১ টাকায়।
- ক. উপযোগ কী? ১  
খ. মোট উপযোগ বলতে কী বোঝায়? ২  
গ. আমিন সাহেব যে বিধিটির অন্তর্ভুক্ত তার অনুমতি শর্তগুলো ব্যাখ্যা কর। ৩  
ঘ. উদ্দীপকে উল্লিখিত বিধির ব্যতিক্রমগুলো বিশ্লেষণ কর। ৪

৬ ▶



- ক. উপযোগ সৃষ্টির প্রক্রিয়া কত প্রকার? ১  
খ. স্থানগত উপযোগ বলতে কী বোঝায়-তা ব্যাখ্যা কর। ২  
গ. বাংলাদেশের প্রেক্ষাপটে উপরের কোন উপকরণটির গুরুত্ব বেশি? ব্যাখ্যা কর। ৩  
ঘ. উৎপাদনের ক্ষেত্রে উপরের বর্ণিত উৎপাদনগুলো একে অপরের পরিপূরক বিশ্লেষণ কর। ৪
- ৭ ▶ আরিফ মিয়া চালের ব্যবসা করেন। তাদের দোন সব সময় একই ধরনের চাল ক্রয় বিক্রয় করা হয়ে থাকে এবং যে কেউ যখন তখন এই দোকান হতে চাল ক্রয় বা বিক্রয় করতে পারে। আরিফ মিয়ার দোকানে ক্রয়-বিক্রয়ে দরদাম হয় না বললেই চলে।
- ক. অর্থ বাজার কী? ১  
খ. বাজার বলতে কী বোঝায়? ২  
গ. আরিফ মিয়ার দোকানের ক্রয়-বিক্রয় কোন ধরনের বাজার? ব্যাখ্যা কর। ৩  
ঘ. উদ্দীপকে বর্ণিত আরিফ মিয়ার দোকানে কোন কোন বৈশিষ্ট্য দ্বারা বিশেষায়িত হয়েছে বলে তুমি মনে কর? উত্তরের স্বপক্ষে যুক্তি দাও। ৪
- ৮ ▶ আতিক সাহেব একজন হার্ডওয়্যার ব্যবসায়ী। তিনি একটি প্রাইভেট ব্যাংকে প্রতিদিন টাকা জমা করেন আবার প্রয়োজনে জমাকৃত অর্থ ফেরত নেন। ব্যবসায়ের জন্য উক্ত ব্যাংক থেকে তাহার স্থায়ী আমানতের বিপরীতে কিছু ঋণ গ্রহণ করেছেন। ফলে কিছুদিনের মধ্যে ব্যবসায় উন্নতি হওয়ায় লাভের মুখ দেখেন।
- ক. রূপান্তর যোগ্য মুদ্রা কী? ১  
খ. “অর্থ বিনিময়ের সবচেয়ে সহজ ও সুবিধাজনক মাধ্যম”-উক্তিটি ব্যাখ্যা কর। ২  
গ. আতিক সাহেব যে ব্যাংক থেকে ঋণ নিয়েছেন সে ধরনের ব্যাংকের বৈশিষ্ট্য আলোচনা কর। ৩  
ঘ. আতিক সাহেবের গ্রহণকৃত ঋণ ও হিসাবের তদারকির অভিভাবক ও নিয়ন্ত্রণ প্রতিষ্ঠানের কার্যাবলি বিশ্লেষণ কর। ৪
- ৯ ▶ মাহী অনলাইন থেকে একটি প্রবন্ধ পড়ে জানতে পেরেছে একটি দেশ নিম্ন মধ্যম আয়ের উন্নয়নশীল দেশ হিসেবে স্বীকৃতি পেয়েছে। যদিও দেশটি ২০০ বছর ছিল ইংরেজ শোষণ ও ২৪ বছরের পাকিস্তানি শাসনের যাতাকালে নিষ্পেষিত অর্থনীতি।
- ক. GDP-এর পূর্ণরূপ কী? ১  
খ. সেবাখাত বলতে কী বোঝায়? ২  
গ. মাহীর প্রবন্ধে বর্ণিত দেশটির অর্থনীতির বৈশিষ্ট্য-ব্যাখ্যা কর। ৩  
ঘ. উদ্দীপকে বর্ণিত দেশটির অর্থনীতির তিনটি খাত বিশ্লেষণ কর। ৪
- ১০ ▶
- | গ্রুপ-A      | গ্রুপ-B     | গ্রুপ-C  |
|--------------|-------------|----------|
| যুক্তরাষ্ট্র | মালয়েশিয়া | বাংলাদেশ |
| জাপান        | সিঙ্গাপুর   | শ্রীলংকা |
| জার্মানি     | তুরস্ক      | নেপাল    |
- ক. বাজেট কী? ১  
খ. VAT বলতে কী বোঝায়? ব্যাখ্যা কর। ২  
গ. উদ্দীপকের গ্রুপ- A এর দেশগুলোর বৈশিষ্ট্য চিহ্নিত কর। ৩  
ঘ. উদ্দীপকের গ্রুপ- C এর দেশগুলোর জনগণের মাথাপিছু আয় কম হওয়ার কারণগুলো বিশ্লেষণ কর। ৪
- ১১ ▶ শাহেদ ইকবাল একজন বড় ব্যবসায়ী। তিনি রঙানি ও আমদানি ব্যবসার সাথে জড়িত। অন্যদিকে তিনি একটি বেসরকারি প্রতিষ্ঠানের পরিচালক পদে কর্মরত। তিনি প্রতিবছর সরকারকে কর প্রদান করেন।
- ক. কর কী? ১  
খ. সম্পূরক শুল্ক বলতে কী বোঝায়? ২  
গ. শাহেদ ইকবাল সরকারকে কোন ধরনের কর প্রদান করেন-ব্যাখ্যা কর। ৩  
ঘ. শাহেদ ইকবাল প্রদত্ত অর্থের খাত ছাড়া সরকার আর কোন কোন খাত থেকে সরকার আয় করে। তা বিশ্লেষণ কর। ৪

## ৫৫✓ ঝালকাঠি সরকারি উচ্চ বিদ্যালয়

বিষয় কোড : 141

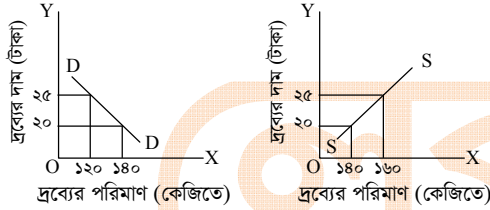
সময় : ২ ঘণ্টা ৩০ মিনিট

অর্থনীতি সৃজনশীল প্রশ্ন

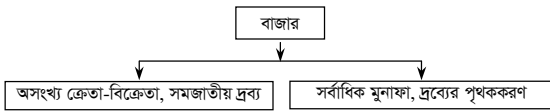
পূর্ণমান : ৭০

**দ্রষ্টব্য :** ডান পাশের সংখ্যা প্রশ্নের পূর্ণমান জ্ঞাপক। প্রদত্ত উদ্দীপকগুলো মনোযোগসহকারে পড় এবং সংশ্লিষ্ট প্রশ্নের উত্তর দাও। যেকোনো সাতটি প্রশ্নের উত্তর দিতে হবে।

- ১▶ জাহিদ সাহেব 'ক' দেশের অধিবাসী। অতিরিক্ত অর্থ উপার্জনের বিষয় মাথায় রেখে তিনি 'খ' দেশে ব্যবসায় করতে চাইলেন। কিন্তু 'খ' দেশের সরকার থেকে অনুমতি পেলেন না। তিনি আরও জানলেন, 'খ' দেশের উৎপাদন বিষয়ে সকল সিদ্ধান্ত নেয় ওই দেশের সরকার। তিনি অবাধ হলে। কারণ তার দেশে তো সাধারণ জনগণ ও সরকার একসাথে দ্রব্য তৈরি ও বিক্রি করতে পারে।
- ক. জাপানের মাথাপিছু আয় কত? ১  
খ. আয়ের বৃত্তাকার প্রবাহ বলতে কী বোঝ? ২  
গ. উদ্দীপকের 'খ' দেশে কোন অর্থব্যবস্থা বিদ্যমান? ব্যাখ্যা কর। ৩  
ঘ. তুমি কি মনে কর, 'ক' দেশের অর্থব্যবস্থার চেয়ে 'খ' দেশের অর্থব্যবস্থা মঙ্গলজনক? উত্তরের সপক্ষে যুক্তি দাও। ৪
- ২▶ রিয়াজ একটি বেসরকারি সংস্থায় কাজ করে। তার বোন একটি স্কুলের শিক্ষিকা। তার মা ঘর সংসারের কাজ দেখাশোনা করেন। তারা প্রত্যেকে স্ব-স্ব অবস্থানে থেকে দায়িত্ব পালন করেন।
- ক. দেশের মোট বনভূমির পরিমাণ কত? ১  
খ. রসগোল্লা তৈরিতে দুধ ও চিনি কি মধ্যবর্তী দ্রব্য? ব্যাখ্যা কর। ২  
গ. উদ্দীপকে উক্ত কাজগুলো কি অর্থনৈতিক কাজ? ব্যাখ্যা কর। ৩  
ঘ. রিয়াজের মায়ের কাজ অর্থনীতিতে কি কোনো গুরুত্ব বহন করে? নিজস্ব মতামত ব্যক্ত কর। ৪
- ৩▶ নিচের চিত্রের আলোকে প্রশ্নগুলোর উত্তর দাও :



- ক. ভোগ কাকে বলে? ১  
খ. কোন দ্রব্যের ক্ষেত্রে ক্রমহ্রাসমান প্রান্তিক উপযোগ বিধি কেন কাজ করে? ২  
গ. উল্লিখিত চিত্র দুটি অর্থনীতির কোন ধারণার সাথে যুক্ত? ৩  
ঘ. উদ্দীপক অনুসারে রেখাচিত্রের মাধ্যমে দ্রব্যটির ভারসাম্য দাম নির্ধারণের বিষয়টি বিশ্লেষণ কর। ৪
- ৪▶ ইবরাহিম সাহেবের একটি সুতা তৈরির কারখানা আছে। সেখানে তিনি ২০ জন শ্রমিক নিয়োগ করায় ২০০ ইউনিট সুতা উৎপাদন হলো। পরের বছর তিনি ২১ জন শ্রমিক নিয়োগ করায় ২১৫ ইউনিট সুতা উৎপাদন হলো। আবার পরের মৌসুমে ২২ জন শ্রমিক নিয়োগ করলেও একই পরিমাণ সুতা উৎপাদন হলো।
- ক. মোট উৎপাদন কাকে বলে? ১  
খ. গড় উৎপাদন যখন সবচেয়ে বেশি হয়, প্রান্তিক উৎপাদন তখন কেমন হয়? ব্যাখ্যা কর। ২  
গ. ইবরাহিম সাহেবের উৎপাদন ক্ষেত্রে প্রান্তিক উৎপাদন চিহ্নিতপূর্বক তা ব্যাখ্যা কর। ৩  
ঘ. জনাব ইবরাহিম সাহেবের সুতা উৎপাদনের জন্য আরও অতিরিক্ত শ্রমিক নিয়োগ করা প্রয়োজন কি? তোমার উত্তরের পক্ষে যুক্তি দেখাও। ৪
- ৫▶ নিচের ছকের আলোকে প্রশ্নগুলোর উত্তর দাও :



- ক. বাজার সম্পর্কে কুর্নটী কী বলেছেন? ১  
খ. চাহিদার প্রকৃতি ব্যাখ্যা কর। ২  
গ. ১ম বাজারের বৈশিষ্ট্যগুলো বর্ণনা কর। ৩  
ঘ. ২য় বাজার মাত্রই ক্রেতার জন্য ক্ষতিকারক— তোমার মতামত বিশ্লেষণ কর। ৪
- ৬▶ নাজাত সাহেবের একটি সুতা তৈরির মিল ও একটি কাপড় তৈরির কারখানা আছে। জাতীয় আয় গণনার তথ্য সংগ্রহের সময় তথ্য সংগ্রহকারী নাজাত সাহেবের সুতা তৈরির মিল ও কাপড় তৈরির কারখানা উভয় জায়গা থেকে আয়ের তথ্য সংগ্রহ করেছে।
- ক. ভূমি কাকে বলে? ১  
খ. GDP কেন নির্ণয় করা হয়? ২  
গ. উদ্দীপকে উল্লিখিত জাতীয় আয় পরিমাপের পদ্ধতি ব্যাখ্যা কর। ৩  
ঘ. উক্ত পরিমাপ পদ্ধতিটি জাতীয় আয় পরিমাপের নির্ভুল পদ্ধতি কিনা— মতামত দাও। ৪
- ৭▶ মাহিব সাহেব একটি প্রতিষ্ঠানে স্বল্প বেতনে চাকরি করেন। তিনি প্রতি মাসে আয়ের কিছু অংশ একটি ব্যাংকে রেখে দেন। মাঝে মাঝে তিনি প্রয়োজনমতো টাকা তুলে খরচ করেন। এভাবে তার বেশকিছু টাকা সঞ্চয় হয়।
- ক. বিহিত অর্থ কাকে বলে? ১  
খ. নিকাশঘর কী কাজ করে? ব্যাখ্যা কর। ২  
গ. উদ্দীপকে কোন ব্যাংকের কাজের ইঙ্গিত দেওয়া হয়েছে? সেটি ব্যাখ্যা কর। ৩  
ঘ. উদ্দীপকের ব্যাংকের যে কাজের ইঙ্গিত রয়েছে সেটিই কী উক্ত ব্যাংকের একমাত্র কাজ? উত্তরের পক্ষে যুক্তি দাও। ৪
- ৮▶ নিচের ছকের আলোকে প্রশ্নগুলোর উত্তর দাও :

ক	— মৎস্য সম্পদ, বনজ সম্পদ
খ	— খনিজ ও খনন, বৃহৎ ও মাঝারি শিল্প
গ	— হোটেল, রেস্তোরাঁ, শিক্ষা

- ক. বাংলাদেশের অর্থনীতির প্রধান খাত কয়টি? ১  
খ. বেসরকারিকরণ কর্মসূচি কেন গ্রহণ করা হয়েছিল? ২  
গ. উদ্দীপকে 'গ' চিহ্নিত খাতের অবদান লেখ। ৩  
ঘ. 'খ' ও 'গ' খাতের অবদান ও 'ক' খাতের চেয়ে কম নয়— বিশ্লেষণ কর। ৪
- ৯▶ নিচের ছকের আলোকে প্রশ্নগুলোর উত্তর দাও :
- অর্থনৈতিক প্রবৃদ্ধি + অর্থনীতির গুণগত পরিবর্তন = ?
- ক. উন্নত দেশ কাকে বলে? ১  
খ. দারিদ্র্য কোন চক্রের মধ্যে পড়ে? ব্যাখ্যা কর। ২  
গ. 'গ' চিহ্নিত স্থানটি কী ধারণা নির্দেশ করে? ব্যাখ্যা কর। ৩  
ঘ. উপরে বর্ণিত ধাপসমূহের মধ্যে প্রথমটির সাথে সর্বশেষটির পার্থক্য বিশ্লেষণ কর। ৪
- ১০▶ মিলার একজন দিনমজুর। সে চুক্তিতে বড় বড় ডেভেলপার কোম্পানিতে মিস্ত্রির কাজ করে। একদিন সে জানতে পারে, তার মালিক এই মাসে কর প্রদান করেছে। এজন্য কোম্পানি তাকে মজুরি প্রদানে দুই দিন বিলম্ব করে।
- ক. মানবসম্পদ কাকে বলে? ১  
খ. নারীর ক্ষমতায়ন বলতে কী বোঝ? ২  
গ. মিলারের মালিক যে কর প্রদান করেছে তা কী ধরনের? ব্যাখ্যা কর। ৩  
ঘ. উদ্দীপকের আলোকে মিলারের মালিক যে কর প্রদান করেছে সেটি ছাড়া অন্য উৎসসমূহ বিশ্লেষণ কর। ৪
- ১১▶ রনি একটি দেশে বেড়াতে গেল। সেখানে ভূমি ও প্রাকৃতিক সম্পদের পূর্ণ ব্যবহার হয়। ফলে আয় বৃদ্ধির পাশাপাশি সঞ্চয় বৃদ্ধি পায়। বিনিয়োগ ও মূলধন গঠনের হারও বেশি। উপরন্তু রাজনৈতিক পরিস্থিতি স্থিতিশীল। কিন্তু নিজ দেশ বাংলাদেশের অর্থনীতি সে রকম না।
- ক. GDP-এর খাত কয়টি? ১  
খ. প্রশিক্ষণ কী? ব্যাখ্যা কর। ২  
গ. রনির ভ্রমণ করা দেশের অর্থনৈতিক বৈশিষ্ট্য কেমন? ব্যাখ্যা কর। ৩  
ঘ. রনির নিজ দেশের অর্থনীতি কোন ধরনের? বিশ্লেষণ কর। ৪

৫৬ নিলফামারী সরকারি উচ্চ বিদ্যালয়

বিষয় কোড : 141

সময় : ২ ঘণ্টা ৩০ মিনিট

অর্থনীতি সৃজনশীল প্রশ্ন

পূর্ণমান : ৭০

দ্রষ্টব্য : ডান পাশের সংখ্যা প্রশ্নের পূর্ণমান জ্ঞাপক। প্রদত্ত উদ্দীপকগুলো মনোযোগসহকারে পড় এবং সংশ্লিষ্ট প্রশ্নের উত্তর দাও। যেকোনো সাতটি প্রশ্নের উত্তর দিতে হবে।

১ ▶ আব্দুল খালেক একজন কৃষক। তার জমিতে সে ধান, গম, আখ, ভুট্টাসহ আরও অন্যান্য দ্রব্য উৎপাদন করেন। এছাড়া তিনি হাঁস-মুরগি পালন করেন। এসব কাজ করেই তিনি তার জীবিকা নির্বাহ করেন। তার ছেলে সজীব। এবার শিক্ষা সফরে রাস্তামাটি গিয়েছিল। সে সেখানে পাহাড়ি বাণী, বুদ্ধ মূর্তি ও ঝুলন্ত সেতু দেখল। এছাড়া সে কাগুই লেক এ পানির স্রোতকে কাজে লাগিয়ে বিদ্যুৎ কীভাবে উৎপাদন হচ্ছে তা দেখল। কাগুই লেক এ উৎপাদিত এই জলবিদ্যুৎ রাস্তামাটিসহ আশপাশের এলাকায় সরবরাহ করা হয়।

- ক. দ্রব্য কী? ১  
খ. অর্থনীতিতে সমুদ্রের পানিকে কেন সম্পদ বলা যায় না? ১  
গ. উদ্দীপকের ধান, গম ও আখ কোন ধরনের সম্পদ? ব্যাখ্যা কর। ৩  
ঘ. উদ্দীপকের জলবিদ্যুৎ কোন ধরনের সম্পদ তা চিহ্নিত করে অর্থনীতিতে এর গুরুত্ব লেখ। ৪

২ ▶ সেকেন্দার আলী একজন কৃষক। তার মোট পাঁচ বিঘা জমি আছে। সে তার সব জমিতেই এবার আলু চাষ করে। ধানের চেয়ে ভুট্টা আর ভুট্টার চেয়ে আলু চাষ বেশি লাভজনক হওয়ায় সে তার সব জমিতেই আলু চাষ করে। আবার বাড়ির পাশে তার যে একখণ্ড জমি ছিল তাতে সে প্রত্যেকবার পিয়াজ চাষ করত। কিন্তু এবার সে পিয়াজ চাষ না করে সবজি চাষ করে।

- ক. আডাম স্মিথ প্রদত্ত অর্থনীতির সংজ্ঞা দাও। ১  
খ. মানুষ প্রাথমিক কীভাবে সাড়া দেয়? ২  
গ. উদ্দীপকে 'পিয়াজ চাষ না করে সবজি চাষ' কী নির্দেশ করে তা ব্যাখ্যা কর। ৩  
ঘ. আলু চাষ করার ক্ষেত্রে অর্থনীতির কোন দিকটি প্রতিফলিত হয়েছে? অর্থনীতিতে এর গুরুত্ব লেখ। ৪

৩ ▶ জনাব মাহফুজ বাজারে যাওয়ার সময় তার স্ত্রী তাকে একটি বাজার খরচের তালিকা দিল। বাজার করার সময় তার স্ত্রী ফোন করে আরও অনেক খরচের কথা বলেন। কিন্তু জনাব মাহফুজ বাজার করতে গিয়ে দেখল তার পক্ষে সব খরচ করা সম্ভব না। কারণ সব খরচ করার মতো অর্থ তার কাছে ছিল না। এরপর তিনি যখন বাজার করে বাসায় ফিরে আসলেন তখন তার স্ত্রী বলল যে বাসায় আরও অনেক কিছু নেই।

- ক. অর্থনীতিতে সম্পদ কী? ১  
খ. অর্থনৈতিক কার্যক্রম সংঘটিত করার জন্য বাজার কেন একটি উত্তম পন্থা? ২  
গ. মাহফুজ সাহেবের সব খরচ করতে পারার কারণ চিহ্নিত করে তা ব্যাখ্যা কর। ৩  
ঘ. মাহফুজ সাহেবের বাজার করে আসার পরেও বাসায় অনেক কিছু না থাকা অর্থনীতিতে কী নির্দেশ করে? প্রত্যেক মানুষের জীবনে এরকম ঘটে কেন? ৪

৪ ▶ মিজান একজন কার্তমিত্রি। সে বাজার থেকে বিভিন্ন ধরনের কাঠ কিনে নিয়ে আসে। সে ঐ কাঠ দিয়ে চেয়ার, টেবিল, আলমারিসহ বিভিন্ন আসবাবপত্র তৈরি করেন। আসবাবপত্রের কিছু তিনি তার এলাকায় বিক্রি করেন। অবশিষ্ট আসবাবপত্র তিনি পাশের জেলায় বিক্রির উদ্দেশ্যে নিয়ে যান। সেখানে ক্রেতার সংখ্যা একটু বেশি হওয়ায় আসবাবপত্রের দাম তুলনামূলক একটু বেশি।

- ক. খনিজ সম্পদ কী? ১  
খ. মানুষ প্রান্তিক পর্যায়ে চিন্তা করে কেন? ২  
গ. উদ্দীপকের মিজানের কাঠ দিয়ে আসবাবপত্র তৈরির ফলে কোন ধরনের উপযোগ সৃষ্টি হয়? ব্যাখ্যা কর। ৩  
ঘ. পার্শ্ববর্তী জেলায় আসবাবপত্র নিয়ে বিক্রি করার ফলে যে উপযোগ সৃষ্টি হয় তা চিহ্নিত করে অর্থনীতিতে এই ধরনের উপযোগের উপযোগিতা লেখ। ৪

দ্রব্যের দাম	দ্রব্যের চাহিদা	দ্রব্যের যোগান
৮	১৫	৫
১২	১০	১০
১৬	৫	১৫

- ক. সম্ভয় কী? ১  
খ. প্রান্তিক উপযোগ ক্রমহাসমান কেন? ২  
গ. উপরের সূচি হতে যোগান রেখা অঙ্কন করে ব্যাখ্যা কর। ৩  
ঘ. উপরের সূচি হতে রেখাচিত্রের মাধ্যমে ভারসাম্য দাম ও পরিমাণ নির্ধারণ কর। ৪

৬ ▶ জনাব সোহেল একজন কৃষক। তার প্রায় দশ বিঘা জমি আছে। কলা চাষ লাভজনক হওয়ায় সে তার পাঁচ বিঘা জমিতে কলা চাষ করার সিদ্ধান্ত নিলেন। এর জন্য তিনি ব্যাংক থেকে এক লক্ষ টাকা ঋণ নিলেন। তিনি জমি চাষ, চারা ক্রয়, মূলধন যন্ত্রপাতি ক্রয় এবং অন্যান্য খরচ বাবদ এই টাকা ব্যয় করলেন। তিনি কলা বাগানের কাজের জন্য কখনো কখনো শ্রমিক নিতেন। কলা চাষ করার ক্ষেত্রে শ্রমিক নিয়োগ, কাঁচামাল ক্রয়, যন্ত্রপাতি ক্রয়সহ যাবতীয় কাজ তিনি নিজেই করতেন।

- ক. ভোগ কী? ১  
খ. যোগান রেখা ডানদিকে ঊর্ধ্বগামী কেন? ২  
গ. জমি চাষ, মূলধন যন্ত্রপাতি ক্রয় এবং অন্যান্য খরচ বাবদ ব্যয় কোন উপাদানকে নির্দেশ করে? ব্যাখ্যা কর। ৩  
ঘ. জনাব সোহেলের কাজ কোন উপাদানকে চিহ্নিত করে তা উল্লেখ করে উৎপাদন ক্ষেত্রে এর গুরুত্ব লেখ। ৪

আপেলের একক	মোট উপযোগ	প্রান্তিক যোগ
১ম	৫	৫
২য়	৮	৩
৩য়	৯	১
৪র্থ	৯	০
৫ম	৮	-১

- ক. চাহিদা কী? ১  
খ. একজন কৃপণের গাড়ি কেনার ইচ্ছাকে চাহিদা বলা যায় না কেন? ২  
গ. উপরের সূচিটি কোন বিধিকে নির্দেশ করে তার ব্যাখ্যা কর। ৩  
ঘ. একজন পঞ্চম এককে আপেল ভোগ করবে কি? যুক্তি সহকারে উপস্থাপন কর। ৪

৮ ▶ জনাব জুয়েল বাজার করার উদ্দেশ্যে বাজারে গেলেন। প্রথমে তিনি চাল ও মসুর ডাল কেনার জন্য একটি বাজারে গেলেন। সেখানে অনেক বিক্রেতা এসব পণ্য বিক্রয় করছিল। তিনি বিক্রেতার সাথে দরকষাকষি করে চাল ও ডাল কিনলেন। এরপর তিনি তার শ্যালিকাকে একটি মোবাইল উপহার দেওয়ার জন্য অন্য একটি বাজারে গেলেন। বাজারে অনেক ব্র্যান্ডের সুন্দর সুন্দর মোবাইল ছিল। তিনি তার পছন্দমতো একটি সুন্দর মোবাইল বিক্রেতার নির্ধারিত দামে কিনলেন। দোকানদার তাকে দাম করার কোনো সুযোগ দিলেন না।

- ক. অতি স্বল্পকালীন বাজার কী? ১  
খ. স্বল্পকালীন বাজারে যোগান বৃদ্ধি করা যায় না কেন? ২  
গ. উদ্দীপকের চাল ও ডালের বাজারের ধরন ব্যাখ্যা কর। ৩  
ঘ. মোবাইল ফোন-এর বাজারের ধরন উল্লেখ করে এই ধরনের বাজারের দ্রব্যের দাম নির্ধারণে ভোক্তার কোনো ভূমিকা আছে কি?— তোমার মতামত দাও। ৪

৯ ▶ রাফিক যে দেশে বাস করে সেই দেশেই স্থিতিশীল আবহাওয়ার কারণে ফসল অনেক ভালো হয়েছে। ফলে তার দেশের মাথাপিছু আয় অনেক বৃদ্ধি পেয়েছে। তার দেশে মাথাপিছু আয় বাড়লেও দেশের অবকাঠামো এর তেমন উন্নয়ন হয়নি। দেশের শিক্ষা, স্বাস্থ্য এবং পুষ্টি তেমন পরিবর্তন হয়নি। অপরদিকে আশিকের দেশের মানুষেরও এ বছর মাথাপিছু আয় অনেক বেড়েছে। এছাড়া সেখানে অবকাঠামোরও অনেক উন্নয়ন সাধিত হয়েছে। দেশে শিক্ষার হার অনেক বেড়েছে। স্বাস্থ্য ও পুষ্টির ক্ষেত্রেও অনেক পরিবর্তন হয়েছে। ফলে সেখানকার মানুষের জীবনযাত্রার মানের অনেক উন্নয়ন হয়েছে।

- ক. দারিদ্র্য কে? ১  
খ. ছদ্মবেশী বেকারত্ব সৃষ্টি হয় কীভাবে? ২  
গ. রাফিকের দেশে মাথাপিছু আয়ের বৃদ্ধি অর্থনীতিতে যা নির্দেশ করে তার ব্যাখ্যা কর। ৩  
ঘ. অর্থনীতিতে আশিকের দেশের ক্ষেত্রে মাথাপিছু আয়ের বৃদ্ধির কারণ চিহ্নিত করে এর কার্যকারিতা লেখ। ৪

ক-ব্যয় এর ধরন	খ-ব্যয় এর ধরন
১। ভর্তুকি ব্যয়	১। পানিসম্পদ ও বন্যা নিয়ন্ত্রণ
২। বেতন ভাতা ব্যয়	২। মহিলা ও যুব উন্নয়ন
৩। পেনশনজনিত ব্যয়	৩। স্থানীয় সরকার ও পল্লী উন্নয়ন
৪। সম্পদ সংগ্রহজনিত ব্যয়	৪। বিদ্যুৎ ও জ্বালানি
৫। সুদ পরিশোধ	৫। কৃষি ও শিল্প উন্নয়ন
৬। সাহায্য মজুরি	৬। শিক্ষা ও প্রযুক্তি খাতের উন্নয়ন
৭। পণ্য ও সেবাজনিত ব্যয়	৭। পরিবহন খাতের উন্নয়ন

- ক. অর্থ কী? ১  
খ. চলতি বাজেট বলতে কী বোঝায় ২  
গ. সূচিতে 'ক' এর ব্যয়ের ধরন ব্যাখ্যা কর। ৩  
ঘ. সূচির 'খ' এর ব্যয়ের ধরন চিহ্নিত করে এই ধরনের ব্যয়ের ভূমিকা লেখ। ৪

'ক'	'খ'
১। মূল্য সংযোজন কর	১। সুদ
২। আয় কর	২। প্রশাসনিক ফি
৩। আমদানি শুল্ক	৩। জরিমানা, দণ্ড ও বাজেয়াপ্তকরণ
৪। আবগারি শুল্ক	৪। অর্থনৈতিক সেবা
৫। সম্পূরক শুল্ক	৫। ভাড়া ও ইজারা
৬। মাদক শুল্ক	৬। টোল ও লোভি
৭। যানবাহন কর	৭। লভ্যাংশ ও মুনাফা

- ক. অসম বাজেট কী? ১  
খ. আমাদের মতো দেশের ক্ষেত্রে ঘাটতি বাজেট বেশি ভালো কেন? ২  
গ. উপরের সূচি অনুযায়ী 'ক' এর ধরন চিহ্নিত করে ব্যাখ্যা কর। ৩  
ঘ. সূচির 'খ' এর ধরন উল্লেখ করে অর্থনীতিতে এর ভূমিকা লেখ। ৪



# মূল বইয়ের বাইরে আরও স্পেশাল মডেল টেস্ট ও উত্তরমালা : বহুনির্বাচনি

৫৭ স্পেশাল মডেল টেস্ট ০১

বিষয় কোড : 141

সময় : ৩০ মিনিট

অর্থনীতি বহুনির্বাচনি অভীক্ষা

পূর্ণমান : ৩০

বিশেষ দৃষ্টব্য : সরবরাহকৃত বহুনির্বাচনি অভীক্ষার উত্তরপত্রে প্রশ্নের ক্রমিক নম্বরের বিপরীতে প্রদত্ত বর্ণসংবলিত বৃত্তসমূহ হতে সঠিক/সর্বোৎকৃষ্ট উত্তরের বৃত্তটি বল পয়েন্ট কলম দ্বারা সম্পূর্ণ ভরাট কর। প্রতিটি প্রশ্নের মান ১। প্রশ্নপত্রে কোনো প্রকার দাগ/চিহ্ন দেওয়া যাবে না।

- 'Oikonomia' শব্দটির অর্থ কী?  
K অফিস ব্যবস্থাপনা L অর্থের মূল্য  
M গৃহ ব্যবস্থাপনা N শ্রমের মূল্য
- শ্রমের জন্য প্রাপ্ত আয়কে কী বলে?  
K মূলধন L বেতন M মজুরি N লাগি
- নিচের কোন কাজটি কৃষিখাতের অন্তর্ভুক্ত?  
K হাস-মুরগি পালন L কাপড় তৈরি  
M সুতা বিক্রি N সার তৈরি
- শখ ও নেশাজাতীয় দ্রব্যের ক্ষেত্রে ক্রমহাসমান প্রান্তিক উপযোগ বিধিটি কীরূপ?  
K কাজ করে না L দ্রুত কার্যকর  
M অধিক কার্যকর N কার্যকর
- একটি নির্দিষ্ট সময়ে বিক্রয়যোগ্য একটি দ্রব্যের মোট পরিমাণকে কী বলে?  
K চাহিদা L যোগান M উপযোগ N সম্পদ
- যোগানের ক্ষেত্রে নিচের যে বিষয়গুলো বিবেচ্য তা হলো—  
i. একটি দ্রব্য  
ii. নির্দিষ্ট সময়ে  
iii. নির্দিষ্ট দাম  
নিচের কোনটি সঠিক?  
K i ও ii L i ও iii  
M ii ও iii N i, ii ও iii
- ক্রোতা ও বিক্রোতার দর কষাকষির ফলে বিক্রীত দ্রব্যটির কী হয়?  
K চাহিদা বেশি  
L যোগান বেশি  
M দাম বেশি  
N চাহিদা ও যোগান সমান
- যোগানের তুলনায় চাহিদার পরিমাণ বেশি হলে কী হবে?  
K দাম কমবে  
L দাম বাড়বে  
M দাম অপরিবর্তিত থাকবে  
N দাম সমান হবে
- অতি স্বল্পকালীন বাজারের পণ্য কোনটি?  
K শাড়ি L মাছ  
M কম্পিউটার N কলম
- মূলধন হতে প্রাপ্ত আয়কে কী বলে?  
K খাজনা L মজুরি M সুদ N মুনাফা
- নিচের কোনটি বাংলাদেশে একচেটিয়া বাজারের উদাহরণ?  
K তিতাস গ্যাস  
L মাছের বাজার  
M তরিতরকারির বাজার  
N মাংসের বাজার
- কোনটির ফলে GDP বৃদ্ধি পেতে পারে?  
K নতুন আবিষ্কার L সমবর্ধন  
M যোগান N উৎপাদন
- অর্থনৈতিক প্রবৃদ্ধি হলো—  
i. জাতীয় আয়ের বৃদ্ধি  
ii. মাথাপিছু আয়ের বৃদ্ধি  
iii. অর্থনৈতিক উন্নয়ন  
নিচের কোনটি সঠিক?  
K i ও ii L i ও iii  
M ii ও iii N i, ii ও iii
- জাতীয় আয় গণনার ক্ষেত্রে কোন ধরনের দ্রব্য ও সেবা বিবেচনা করা হয়?  
K প্রাথমিক L মাধ্যমিক  
M চূড়ান্ত N অপ্রস্তুতকৃত  
■ উদ্দীপকটি পড়ে ১৫ ও ১৬নং প্রশ্নের উত্তর দাও :  
রাজন কেনাকাটার জন্য বাজারে যাচ্ছে। একটি রুই মাছের দাম বিক্রোতা ৩০০ টাকা চাইল। দর কষাকষির মাধ্যমে রাজন মাছটি ২৫০ টাকা দিয়ে কিনল।  
১৫. রাজন যে বাজার থেকে মাছটি কেনে সেটি কোন প্রকৃতির বাজার?  
K একচেটিয়া  
L পূর্ণ প্রতিযোগিতা  
M ডুরোপলি  
N একচেটিয়া প্রতিযোগিতা
- রাজন যে বাজারে যায় তার বৈশিষ্ট্য হলো—  
i. সমাজতীয় পণ্য  
ii. অসংখ্য ক্রোতা-বিক্রোতা  
iii. উপকরণের পূর্ণ গতিশীলতা  
নিচের কোনটি সঠিক?  
K i ও ii L i ও iii  
M ii ও iii N i, ii ও iii
- ব্যাক হিসাবে জমাকৃত অর্থ আমানতকারীর মৃত্যুর পর কার নামে জমা হবে?  
K তার আত্মীয় L নমিনিকৃত ব্যক্তি  
M পুত্র-কন্যা N স্ত্রী
- বাংলাদেশের প্রেক্ষিতে অর্থনৈতিক প্রবৃদ্ধির চালিকাশক্তি কী?  
K চূড়ান্ত দ্রব্য L প্রুভাবক  
M সহায়ক N কাঁচামাল
- কৃষিতে উৎপাদিত বাঁশ-বেত ক্ষুদ্র শিল্পের কী হিসেবে ব্যবহৃত হয়?  
K চূড়ান্ত L প্রুভাবক  
M সহায়ক N কাঁচামাল
- কোন বাজেট কর রাজস্ব ও করবহিত্ত রাজস্ব থেকে সংগৃহীত হয়?  
K চলতি L মূলধনী  
M অসম N সুঁম
- নিট জাতীয় উৎপাদনে বিবেচ্য বিষয় হলো—  
i. চূড়ান্ত পর্যায়ে দ্রব্য ও সেবা  
ii. মাধ্যমিক পর্যায়ে দ্রব্য ও সেবা  
iii. মূলধনের ক্ষয় ক্ষতিজনিত ব্যয়  
নিচের কোনটি সঠিক?  
K i ও ii L i ও iii  
M ii ও iii N i, ii ও iii
- ঘটিত বাজেটে যা দেখা যায়—  
K মোট আয় > মোট ব্যয়  
L মোট আয় < মোট ব্যয়  
M মোট আয় = মোট ব্যয়  
N মোট আয় / মোট ব্যয়  
■ উদ্দীপকটি পড়ে ২৩ ও ২৪নং প্রশ্নের উত্তর দাও :  
রোজিনা তার বাড়ির আঙিনায় সাধারণ বীজ বপন করে প্রথম বছর যে পরিমাণ সবজি পান, পরের বছর উন্নত জাতের বীজ ব্যবহার করে তার চেয়ে বেশি সবজি পান।
- রোজিনা উৎপাদন বৃদ্ধির ক্ষেত্রে কোনটির ব্যবহার পরিবর্তন করেছেন?  
K ভূমি L শ্রম M প্রযুক্তি N মূলধন
- উৎপাদন ক্ষেত্রে এরূপ পরিবর্তন—  
i. GDP বৃদ্ধি করে  
ii. GNI বৃদ্ধি করে  
iii. NNI হ্রাস করে  
নিচের কোনটি সঠিক?  
K i ও ii L i ও iii  
M ii ও iii N i, ii ও iii
- কোন খাতগুলো সরকারের মূলধন বাজেটের আওতায় পড়ে?  
K শিক্ষা, স্বাস্থ্য ও কৃষি  
L শিক্ষা, স্বাস্থ্য ও যোগাযোগ  
M বিদ্যুৎ পরিবহন ও স্বাস্থ্য  
N কৃষি, বিদ্যুৎ শিল্প  
■ উদ্দীপকটি পড়ে ২৬ ও ২৭নং প্রশ্নের উত্তর দাও :  
মালিহা রহমান একটি বৃত্তিক হাউজ থেকে একসেট সালোয়ার কামিজ ক্রয় করার সময় দাম পরিশোধের সময় খেয়াল করেন যে, পোশাকের গায়ে যে দাম লেখা থাকে তার চেয়ে বেশি দাম দিতে হচ্ছে।  
২৬. মালিহা রহমানকে বেশি দাম দিতে হয়, কারণ কী?  
K VAT L মাদক শুল্ক  
M আয়কর N ভূমি রাজস্ব
- পোশাকটির ক্ষেত্রে আরও যে সময় VAT দিতে হয়েছে তা হলো—  
i. কাঁচামাল থাকা অবস্থায়  
ii. চূড়ান্ত পণ্য অবস্থায়  
iii. মাধ্যমিক পণ্য অবস্থায়  
নিচের কোনটি সঠিক?  
K i ও ii L i ও iii  
M ii ও iii N i, ii ও iii
- শিক্ষা, প্রশিক্ষণ, বাসস্থান, চিকিৎসার মাধ্যমে কর্মদক্ষতা ও দক্ষতা বৃদ্ধির প্রক্রিয়াকে বলে—  
K বহুগত সম্পদ বৃদ্ধি  
L মানবসম্পদ উন্নয়ন  
M সুনাম বৃদ্ধি  
N দক্ষতা বৃদ্ধি  
■ উদ্দীপকটি পড়ে ২৯ ও ৩০নং প্রশ্নের উত্তর দাও :  
'A' দেশের অধিকাংশ শ্রমিক বছরে কোনো কাজ পায় না। 'A' দেশের সরকার এই সমস্যা সমাধানের জন্য কিছু পদক্ষেপ গ্রহণ করে। যা 'A' দেশের বেকারত্ব দূরীকরণে গুরুত্বপূর্ণ ভূমিকা রাখে।  
২৯. 'A' দেশের শ্রমিকদের কোন শ্রেণির বেকার বলে?  
K মৌসুমি বেকার L ছদ্মবেশী বেকার  
M স্থায়ী বেকার N মহিলা বেকার
- 'A' দেশের কর্মসংস্থান বৃদ্ধির জন্য প্রয়োজন—  
i. মূলধন নিয়োগ  
ii. কুটির শিল্প স্থাপন  
iii. নগদ অর্থ সহায়তা  
নিচের কোনটি সঠিক?  
K i ও ii L i ও iii  
M ii ও iii N i, ii ও iii

Self test	১   K L M N	২   K L M N	৩   K L M N	৪   K L M N	৫   K L M N	৬   K L M N	৭   K L M N	৮   K L M N	৯   K L M N	১০   K L M N
	১১   K L M N	১২   K L M N	১৩   K L M N	১৪   K L M N	১৫   K L M N	১৬   K L M N	১৭   K L M N	১৮   K L M N	১৯   K L M N	২০   K L M N
	২১   K L M N	২২   K L M N	২৩   K L M N	২৪   K L M N	২৫   K L M N	২৬   K L M N	২৭   K L M N	২৮   K L M N	২৯   K L M N	৩০   K L M N

উত্তরমালা	১   M	২   M	৩   K	৪   K	৫   L	৬   N	৭   N	৮   L	৯   L	১০   M
	১৬   N	১৭   L	১৮   K	১৯   N	২০   K	২১   M	২২   L	২৩   M	২৪   K	২৫   N
	২৬   K	২৭   K	২৮   L	২৯   M	৩০   N					

## ৫৮ স্পেশাল মডেল টেস্ট ০২

বিষয় কোড : 141

সময় : ৩০ মিনিট

## অর্থনীতি বহুনির্বাচনী অভীক্ষা

পূর্ণমান : ৩০

বিশেষ দৃষ্টব্য : সরবরাহকৃত বহুনির্বাচনী অভীক্ষার উত্তরপত্রে প্রশ্নের ক্রমিক নম্বরের বিপরীতে প্রদত্ত বর্ণসংবলিত বৃত্তসমূহ হতে সঠিক/ সর্বোৎকৃষ্ট উত্তরের বৃত্তটি বল পয়েন্ট কলম দ্বারা সম্পূর্ণ ভরাট কর। প্রতিটি প্রশ্নের মান ১। প্রশ্নপত্রে কোনো প্রকার দাগ/চিহ্ন দেওয়া যাবে না।

১. ইংরেজি ECONOMICS শব্দটি গ্রিক কোন শব্দ থেকে এসেছে?  
K Okenomia L Oikonomia  
M Akenomia N Olkemomia
২. কোন দার্শনিকরা অর্থলব্ধি বা অর্থ সুদে খাটানোকে খনের সমান অপরাধ মনে করতেন?  
K গ্রিক L ইংরেজ  
M রোমান N ইউরোপীয়ান
৩. মুদ্রাস্ফীতি ঘটলে কোন অবস্থা পরিলক্ষিত হবে?  
K অর্থের মান কমে যায়  
L অর্থের মান বেড়ে যায়  
M অর্থের মান সমান থাকে  
N অর্থের মান পরিবর্তন হয় না
- উদ্দীপকটি পড়ে ৪ ও ৫নং প্রশ্নের উত্তর দাও :  
মুনা তার মায়ের জন্য শাড়ি কিনতে গিয়ে দেখল, শাড়ির দাম খুব বেশি। তাই সে শাড়ি না কিনেই বাড়ি ফিরল। কিন্তু কিছুদিন পর মুনা মায়ের জন্য দুটি শাড়ি নিয়ে এলে তার মা খুব খুশি হন।
৪. কিছুদিন পর মুনার শাড়ি কেনার যৌক্তিক কারণ কোনটি?  
K দাম কমেছিল  
L দাম বেড়েছিল  
M দাম অপরিবর্তিত ছিল  
N শাড়ি বেশি ছিল
৫. মুনার শাড়ি কেনার ক্ষেত্রে যে যৌক্তিক শর্ত পূরণ হয়েছে তা হলো—  
i. আকাজক্ষা  
ii. ক্রয়ক্ষমতা  
iii. অর্থ ব্যয়ের ইচ্ছা  
নিচের কোনটি সঠিক?  
K i ও ii L i ও iii  
M ii ও iii N i, ii ও iii
৬. কোন দ্রব্যের উপযোগ নিগ্গেধ করাকে কী বলে?  
K যোগান L চাহিদা M ভোগ N ভোক্তা
৭. নিচের কোনটিকে স্বাভাবিক মুনাফা বলা যায়?  
K মোট আয় = মোট ব্যয়  
L মোট আয় > মোট ব্যয়  
M মোট আয় < মোট ব্যয়  
N মোট আয় ≠ মোট ব্যয়
৮. সুন্দরবনের আয়তন কত?  
K প্রায় ৫,০১৭ বর্গ কি.মি.  
L প্রায় ৬,০১৭ বর্গ কি.মি.  
M প্রায় ৭,০১৭ বর্গ কি.মি.  
N প্রায় ৮,০১৭ বর্গ কি.মি.
৯. অর্থনীতিতে দ্রব্য হতে হলে থাকতে হবে—  
i. উপযোগ  
ii. যোগান সীমাবদ্ধতা  
iii. সহজলভ্যতা  
নিচের কোনটি সঠিক?  
K i ও ii L ii ও iii  
M i ও iii N i, ii ও iii
১০. মিলার কাছে একটি খাতা ও একটি কলম কেনার জন্য ২০ টাকা আছে। মিলা খাতা না কিনে ২০ টাকা দিয়ে দুটি কলম কিনল, অর্থনীতিতে একে কী বলা হয়?  
K উপযোগ L যোগান  
M সুযোগ ব্যয় N উৎপাদন
- উদ্দীপকটি পড়ে ১১ ও ১২নং প্রশ্নের উত্তর দাও :  
রিপা তার মায়ের সাথে গহনা বানাতে সোনার দোকানে গেল। দু'তিনটি দোকান ঘুরে তারা খেয়াল করল, সব দোকানে সোনার একই মূল্য।
১১. রিপা ও তার মা যে দোকানে গিয়েছিল, তা কোন ধরনের বাজার?  
K স্বল্পকালীন  
L একচেটিয়া  
M পূর্ণ প্রতিযোগিতামূলক  
N অলিগোপলি
১২. এ বাজারের দ্রব্যসামগ্রী—  
i. একই গুণসম্পন্ন  
ii. সমজাতীয়  
iii. পরিপূরক  
নিচের কোনটি সঠিক?  
K i ও ii L ii ও iii  
M i ও iii N i, ii ও iii
১৩. করিম সাহেব নতুন ব্যবসায় দাঁড় করানোর জন্য একটি বাড়ি ভাড়া করলেন, এটি তার কী ধরনের ব্যয়?  
K স্বল্পকালীন ব্যয় L অদৃশ্যমান ব্যয়  
M সাধারণ ব্যয় N প্রকাশ্য ব্যয়
১৪. সাধারণত কোন ক্ষেত্রে ক্রমহ্রাসমান প্রান্তিক উৎপাদন বিধিটি অধিক কার্যকর?  
K কৃষিক্ষেত্রে L খনিজ ক্ষেত্রে  
M ক্ষুদ্র শিল্পে N বৃহৎ শিল্পে
১৫. উৎপাদনে সাহায্য করে এমন সব প্রাকৃতিক সম্পদকে কী বলে?  
K শ্রম L মূলধন  
M সংগঠন N ভূমি
১৬. আমদানি শুল্ক বা আবগারি শুল্ক বা VAT আরোপের পরও অতিরিক্ত আরোপিত শুল্ককে কী বলে?  
K সম্পূরক শুল্ক L আয়কর  
M মূল্য সংযোজন কর N বাণিজ্য শুল্ক
- নিচের উদ্দীপকটি পড়ে ১৭ ও ১৮নং প্রশ্নের উত্তর দাও :  
রায়হানের দেশে সম্প্রতি বাজেট পাস হয়েছে। পাসকৃত বাজেটে আয়ের চেয়ে ব্যয় বেশি দেখানো হয়েছে। বাজেটে দেশ-বিদেশের বিভিন্ন উৎস থেকে এ ব্যয় মেটানোর কথা বলা হয়েছে।
১৭. রায়হানের দেশের বাজেটটি কী ধরনের বাজেট?  
K সুখম বাজেট  
L ঘাটতি বাজেট  
M উদ্বৃত্ত বাজেট  
N মূলধনী বাজেট
১৮. রায়হানের দেশের বাজেটের অতিরিক্ত অর্থ আসে—  
i. অভ্যন্তরীণ ব্যাংক ব্যবস্থা হতে ঋণ  
ii. বৈদেশিক সাহায্য  
iii. কর থেকে  
নিচের কোনটি সঠিক?  
K i ও ii L ii ও iii  
M i ও iii N i, ii ও iii
১৯. GDP গণনার ক্ষেত্রে কয়টি উপাদান অন্তর্ভুক্ত করা হয় না?  
K ৬টি L ৭টি M ৮টি N ৯টি
২০. জনপ্রতি বার্ষিক আয়কে কী বলে?  
K জাতীয় আয় L নিট আয়  
M মোট আয় N মাথাপিছু আয়
২১. বাংলাদেশে জাতীয় আয় গণনার দায়িত্বে নিয়োজিত সরকারি প্রতিষ্ঠান কোনটি?  
K বাংলাদেশ জনসংখ্যা অধিদপ্তর  
L বাংলাদেশ ব্যাংক  
M জাতীয় সংসদ  
N বাংলাদেশ পরিসংখ্যান ব্যুরো
২২. স্থগিত লেনদেন বলতে কী বোঝায়?  
K ভবিষ্যৎ দেনা-পাওনাকে  
L ঋণ গ্রহণ করাকে  
M মূল্য স্থানান্তরকে  
N তারল্যের মানকে
২৩. কোন ধরনের আমানতে কোনো প্রকার সুদ প্রদান করা হয় না?  
K চলতি আমানত L সঞ্চয়ী আমানত  
M স্থায়ী আমানত N বিবিধ আমানত
২৪. কোন দেশে কেন্দ্রীয় ব্যাংকের নাম ফেডারেল রিজার্ভ সিস্টেম?  
K বাংলাদেশের L ভারতের  
M যুক্তরাষ্ট্রের N ইংল্যান্ডের
২৫. বাংলাদেশের প্রেক্ষিতে কোনটি অর্থনৈতিক প্রবৃদ্ধির চালিকাশক্তি?  
K কৃষি L শিল্প  
M বাণিজ্য N নির্মাণ
২৬. অর্থনৈতিক উন্নয়ন হয় কীভাবে?  
K মাথাপিছু আয় + বিনিয়োগ  
L প্রবৃদ্ধি + অর্থনীতির গুণগত পরিবর্তন  
M প্রবৃদ্ধি + মাথাপিছু আয়  
N মাথাপিছু আয় + অর্থনীতির গুণগত পরিবর্তন
২৭. EPZ-এর পূর্ণরূপ কী?  
K Export Procuring Zone  
L Export Producing zone  
M Export Proxel Zone  
N Export Processing Zone
২৮. টিএমএসএস কত সালে প্রতিষ্ঠিত হয়?  
K ১৯৭৮ L ১৯৮০ M ১৯৮২ N ১৯৮৮
২৯. হোসিয়ারি শিল্প কোন শিল্পের অন্তর্ভুক্ত?  
K বৃহৎ শিল্প L মাঝারি শিল্প  
M ক্ষুদ্রায়তন শিল্প N কুটির শিল্প
৩০. “একটি দেশ দরিদ্র, কারণ সে দরিদ্র”— উক্তি কার?  
K লর্ড কেইনস L আলফ্রেড মার্শাল  
M র্যাগনার নার্কস N অ্যাডাম স্মিথ

Self test	১ K L M N	২ K L M N	৩ K L M N	৪ K L M N	৫ K L M N	৬ K L M N	৭ K L M N	৮ K L M N	৯ K L M N	১০ K L M N
	১১ K L M N	১২ K L M N	১৩ K L M N	১৪ K L M N	১৫ K L M N	১৬ K L M N	১৭ K L M N	১৮ K L M N	১৯ K L M N	২০ K L M N
	২১ K L M N	২২ K L M N	২৩ K L M N	২৪ K L M N	২৫ K L M N	২৬ K L M N	২৭ K L M N	২৮ K L M N	২৯ K L M N	৩০ K L M N

উত্তরমালা	১ L	২ M	৩ K	৪ K	৫ N	৬ M	৭ K	৮ L	৯ K	১০ M	১১ M	১২ K	১৩ N	১৪ K	১৫ N
	১৬ K	১৭ L	১৮ K	১৯ K	২০ N	২১ N	২২ K	২৩ K	২৪ M	২৫ K	২৬ L	২৭ N	২৮ L	২৯ L	৩০ M

## ৫৯ স্পেশাল মডেল টেস্ট ০৩

বিষয় কোড : 141

সময় : ২ ঘণ্টা ৩০ মিনিট

## অর্থনীতি সৃজনশীল প্রশ্ন

পূর্ণমান : ৭০

[দ্রষ্টব্য : ডান পাশের সংখ্যা প্রশ্নের পূর্ণমান জ্ঞাপক। প্রদত্ত উদ্দীপকগুলো মনোযোগ সহকারে পড় এবং সংশ্লিষ্ট প্রশ্নগুলোর উত্তর দাও। যে কোনো সাতটি প্রশ্নের উত্তর দিতে হবে।]

১ ▶ শামীম X দেশে একটি সরকারি বিশ্ববিদ্যালয়ে অধ্যয়ন করছে। সেদেশের সকলেই সরকারি শিক্ষা প্রতিষ্ঠানে পড়ালেখা করে। কারণ সেদেশে বেসরকারি প্রতিষ্ঠান নাই। সকল সিদ্ধান্ত সরকারিভাবে গৃহীত হয়।

- ক. এল. রবিস-এর অর্থনীতির সংজ্ঞাটি কী? ১  
খ. সুযোগব্যয় বলতে কী বোঝায়? ২  
গ. X দেশে কোন ধরনের অর্থব্যবস্থা বিদ্যমান? ব্যাখ্যা কর। ৩  
ঘ. বাংলাদেশেও উক্ত অর্থব্যবস্থা বিদ্যমান- তুমি কি একমত? তোমার উত্তরের পক্ষে যুক্তি দেখাও। ৪

২ ▶ নিচের ছকের আলোকে প্রশ্নগুলোর উত্তর দাও :

ইংল্যান্ড, ইতালি ফরাসিরা

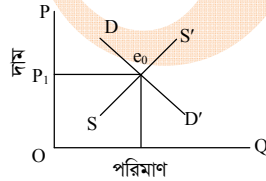
X মতবাদ Y মতবাদ

- ক. অর্থনীতিবিদ অ্যাডাম স্মিথের ১৭৭৬ সালে বিখ্যাত বইটির নাম কী? ১  
খ. অধ্যাপক এল. রবিসের অর্থনীতির সংজ্ঞাটির ৪টি বৈশিষ্ট্য লেখ। ২  
গ. 'X' মতবাদটি কী? ব্যাখ্যা কর। ৩  
ঘ. 'X' ও 'Y' মতবাদের মধ্যে পার্থক্য বিশ্লেষণ কর। ৪

৩ ▶ রাজিব গাঙ্গি কারখানার একজন দক্ষ শ্রমিক। যে তার দক্ষতা অর্জন করেছে বলিষ্ঠ উদ্যোগ ও নিজস্ব অভিজ্ঞতার মাধ্যমে। আমাদের দেশে যতটুকু সম্পদ রয়েছে তার সুষ্ঠু ব্যবহারে সকলের যত্নবান হওয়া উচিত।

- ক. প্রাকৃতিক সম্পদ কী? ১  
খ. হস্তান্তরযোগ্যতা বলতে কী বোঝায়? ২  
গ. রাজিবের দক্ষতা মনুষ্য সৃষ্ট বা মানবিক সম্পদ? ব্যাখ্যা কর। ৩  
ঘ. বাংলাদেশের উন্নয়নে সম্পদের সুষ্ঠু ব্যবহারে দক্ষ মানবসম্পদ তৈরি প্রয়োজন- উক্তিটি রাজিবের অবস্থার আলোকে বিশ্লেষণ কর। ৪

৪ ▶



- ক. ভারসাম্য দাম কাকে বলে? ১  
খ. “মানুষ প্রান্তিক পর্যায়ে চিন্তা করে”- ব্যাখ্যা কর। ২  
গ. চিত্রে উল্লিখিত ধারণাটি ব্যাখ্যা কর। ৩  
ঘ. চিত্রে SS' রেখাটি বামে স্থানান্তরিত হলে অর্থনীতিতে এর প্রতিক্রিয়া কিরূপ হবে? বিশ্লেষণ কর। ৪

৫ ▶ জনাব স্যামসন এইচ চৌধুরী একজন সফল সংগঠক ছিলেন। অনেক পরিশ্রমের ফলে তার স্কার গ্রুপ বর্তমানে দেশের খ্যাতিসম্পন্ন সংগঠন। অনেক শ্রম, সততা, ত্যাগ, সুষ্ঠু পরিকল্পনা, সময়ানুবর্তিতা ইত্যাদি গুণের কারণে বর্তমানে তিনি একজন সফল সংগঠন। দেশের অর্থনীতিতে তার ভূমিকা অনেক।

- ক. সংগঠন কী? ১  
খ. সংগঠন হলো ব্যবসায়ের ভিত্তি- কথাটি বুঝিয়ে লেখ। ২  
গ. জনাব স্যামসন এইচ চৌধুরী কীভাবে নিজেকে একজন সফল সংগঠকে পরিণত করেছেন? বুঝিয়ে লেখ। ৩  
ঘ. উৎপাদন প্রক্রিয়ায় একজন সফল সংগঠক হিসেবে জনাব চৌধুরীর ভূমিকা উদ্দীপকের আলোকে মূল্যায়ন কর। ৪

৬ ▶ বাংলাদেশের মানুষ নির্ধারিত দামে বিদ্যুৎ ক্রয় করতে বাধ্য থাকে। ভোক্তা দামের ক্ষেত্রে কোনো প্রভাব বিস্তার করতে পারে না।

- ক. ফার্ম কী? ১  
খ. অলিগোপলি বাজারের বৈশিষ্ট্যগুলো সংক্ষেপে বর্ণনা কর। ২  
গ. বাংলাদেশে বিদ্যুতের বাজার কোন ধরনের দ্রব্যের বাজার? বৈশিষ্ট্যের প্রেক্ষিতে ব্যাখ্যা কর। ৩  
ঘ. উক্ত বাজারের সাথে পূর্ণ প্রতিযোগিতামূলক বাজারের পার্থক্য বিশ্লেষণ কর। ৪

৭ ▶ জাতীয় আয় (Y) = মোট খাজনা ( $\sum T$ ) + মোট মজুরি ( $\sum W$ ) + মোট সুদ ( $\sum i$ ) + মোট মুনাফা ( $\sum \pi$ )।

- ক. NNP-এর পূর্ণ রূপ লেখ। ১  
খ. মোট দেশজ উৎপাদন বলতে কী বোঝায়? ২  
গ. উদ্দীপক জাতীয় আয় পরিমাপের কোন পদ্ধতি নির্দেশ করে- বিশ্লেষণ কর। ৩  
ঘ. বাংলাদেশের মতো উন্নয়নশীল দেশে এ পদ্ধতি কতটা কার্যকর? ব্যাখ্যা কর। ৪

৮ ▶ মি. মাজেদ বাংলাদেশের একটি এনজিও-তে চাকরি করেন। তিনি প্রতি মাসে যে বেতন পান তার একটি অংশ ব্যাংকে জমা রাখেন। তিনি প্রয়োজনমত টাকা তুলে খরচ করেন। এভাবে তিনি কিছু টাকা সঞ্চয় করেন।

- ক. কেন্দ্রীয় ব্যাংক কী? ১  
খ. কেন্দ্রীয় ব্যাংককে সর্বশেষ ঋণদাতা বলা হয় কেন? ২  
গ. উদ্দীপকে ব্যাংকের যে কাজের কথা ইঙ্গিত দেওয়া হয়েছে তা ব্যাখ্যা কর। ৩  
ঘ. বাংলাদেশের মতো দেশে মি. মাজেদের মতো গ্রাহকদের সঞ্চয়কৃত টাকার ভূমিকা বিশ্লেষণ কর। ৪

৯ ▶ বাংলাদেশ একটি কৃষিপ্রধান দেশ। মোট জাতীয় আয়ের সিংহভাগ আসে কৃষি থেকে। অপরদিকে একটি উল্লেখযোগ্য খাত হচ্ছে শিল্পখাত।

- ক. বাংলাদেশের অর্থনীতির প্রধান খাত কয়টি? ১  
খ. EPZ স্থাপনের উদ্দেশ্য কী? ২  
গ. কৃষি ও শিল্পখাত একে অপরের উপর নির্ভরশীল - ব্যাখ্যা করা ৩  
ঘ. আমাদের দেশের অর্থনৈতিক অগ্রগতির জন্য তুমি কোন খাতকে গুরুত্ব দিবে - বিশ্লেষণ কর। ৪

১০ ▶ অর্থনৈতিক প্রবৃদ্ধি → কর্মসংস্থান বৃদ্ধি → জীবনযাত্রার মান উন্নয়ন → ?

- ক. অর্থনৈতিক প্রবৃদ্ধি কী? ১  
খ. অর্থনৈতিক উন্নয়নের ব্যাখ্যা লেখ। ২  
গ. ছকে '?' চিহ্নিত স্থানটিতে যে ধারণা নির্দেশ করে তা ব্যাখ্যা কর। ৩  
ঘ. ছকে বর্ণিত ধাপসমূহের মধ্যে প্রথমটির সাথে সর্বশেষটির সম্পর্ক বিশ্লেষণ কর। ৪

১১ ▶ তাহসিন ‘স্বপ্ন’ থেকে সকল কেনাকাটা করেন। পণ্যের মূল্য পরিশোধের সময় তাকে পণ্যের মূল্যের অধিক কিছু টাকা পরিশোধ করতে হয়। তিনি এ ব্যাপারে জিজ্ঞাসা করলে তাকে বলা হয় এটি সরকার কর্তৃক আরোপিত এক ধরনের কর।

- ক. সুসম বাজেট কী? ১  
খ. উদ্বৃত্ত বাজেট বলতে কী বোঝায়? ২  
গ. তাহসিনের কাছ থেকে আদায়কৃত অর্থ সরকারের কোন ধরনের আয়ের অন্তর্ভুক্ত? বিশ্লেষণ কর। ৩  
ঘ. উক্ত কর ছাড়া সরকারের আয়ের ৩টি উৎস বিশ্লেষণ কর। ৪

৬০ স্পেশাল মডেল টেস্ট ০৪

বিষয় কোড : 141

সময় : ২ ঘণ্টা ৩০ মিনিট

অর্থনীতি সৃজনশীল প্রশ্ন

পূর্ণমান : ৯০

[দ্রষ্টব্য : ডান পাশের সংখ্যা প্রশ্নের পূর্ণমান জ্ঞাপক। প্রদত্ত উদ্দীপকগুলো মনোযোগ সহকারে পড় এবং সংশ্লিষ্ট প্রশ্নগুলোর উত্তর দাও। যে কোনো সাতটি প্রশ্নের উত্তর দিতে হবে।]

১ ▶ রমিজ মিয়া একজন কৃষক। তার এক খণ্ড জমি রয়েছে। তিনি তার জমিতে সরিষা অথবা আলু চাষ করতে পারেন। কিন্তু সরিষা ও আলু একই সাথে চাষ করতে পারেন না। ফলে তাকে কোনো একটি শস্য উৎপাদন ত্যাগ করতে হয়।

- ক. অর্থনীতির মৌলিক সমস্যা কয়টি? ১  
খ. সুযোগ ব্যয় বলতে কী বোঝায়? ২  
গ. উদ্দীপকে উল্লিখিত রমিজ মিয়ার সমস্যাটি অর্থনীতির ভাষায় ব্যাখ্যা কর। ৩  
ঘ. রমিজ মিয়ার সমস্যা সমাধানের উপায় তোমার পাঠ্যবইয়ের আলোকে বিশ্লেষণ কর। ৪

২ ▶ ফারজানা একজন ডাক্তার। সে একটি হাসপাতালে চাকরি করে এবং রোগীদের খুব ভালো চিকিৎসা সেবা দেন। বিকালবেলায় বাড়ি ফিরে তিনি আবার তার বৃদ্ধ মায়ের চিকিৎসাসহ নানাবিধ সেবাশুশ্রূষা করেন।

- ক. বিনিয়োগ কী? ১  
খ. অবাধলভ্য দ্রব্য এবং অর্থনৈতিক দ্রব্যের মধ্যে পার্থক্য নির্দেশ কর। ২  
গ. ফারজানা ডাক্তারি পেশাটি কি অর্থনৈতিক কার্যাবলি ব্যাখ্যা কর। ৩  
ঘ. উদ্দীপকে উল্লিখিত দুই ধরনের সেবার মধ্যে কোনো বৈসাদৃশ্য আছে কি? বিশ্লেষণ কর। ৪

৩ ▶ মিসেস রাশিদার একটি বুটিক শপ আছে। এর থেকে তার মাসিক আয় প্রায় ৩০,০০০ টাকা। তিনি পরিবারের ভরণ-পোষণ বাবদ কিছু টাকা ব্যয় করেন, বাকিটা সঞ্চয় করেন। সঞ্চয়ের অর্থ থেকে এ বছর তিনি আরও দুটি সেলাই মেশিন ক্রয় করেন এবং আরও কয়েকজন শ্রমিক নিয়োগ দেন।

- ক. অর্থনৈতিক দ্রব্য কাকে বলে? ১  
খ. অ-অর্থনৈতিক কার্যাবলি বলতে কী বোঝায়? ২  
গ. মিসেস রাশিদার নতুন সেলাই মেশিন ক্রয়কে অর্থনীতিতে কী বলে? এ ধরনের কর্মকাণ্ড অর্থনৈতিক সমৃদ্ধি আনে— ব্যাখ্যা কর। ৩  
ঘ. মিসেস রাশিদার ব্যবসায়িক গুণাবলি কি সম্পদ? উত্তরের সপক্ষে যুক্তি দাও। ৪

৪ ▶ নিচের উদ্দীপকটি লক্ষ কর এবং তৎসংশ্লিষ্ট প্রশ্নগুলোর উত্তর দাও :

দ্রব্যের দাম	দ্রব্যের চাহিদা
১০	১৫টি
৮	২০টি
৫	২৫টি

- ক. যোগান সূচি কী? ১  
খ. শিল্প বলতে কী বোঝায়? ২  
গ. উপরের সূচি থেকে চাহিদা রেখা অঙ্কন করে ব্যাখ্যা কর। ৩  
ঘ. অন্যান্য অবস্থা অপরিবর্তিত থেকে ক্রেতার আয় ও রপ্তি পরিবর্তন হলে উপরের চাহিদা রেখার কী ধরনের পরিবর্তন হবে তা বিশ্লেষণ কর। ৪

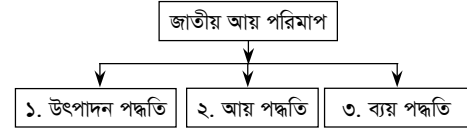
৫ ▶ নার্সের সেবা, কাঠ থেকে আসবাবপত্র তৈরি, গম থেকে আটা ও রুটি, গ্রামের সবজি শহরে স্থানান্তর, লোহা পিটিয়ে যন্ত্রপাতি তৈরি।

- ক. ভূমি কাকে বলে? ১  
খ. স্থায়ী ও অস্থায়ী ভোগ্য দ্রব্য বলতে কী বোঝায়? ২  
গ. উদ্দীপকে বর্ণিত পরিবর্তিত পরিস্থিতিতে উৎপাদনের প্রকারভেদ অনুযায়ী শ্রেণিবিন্যাস করে ব্যাখ্যা কর। ৩  
ঘ. দক্ষ সংগঠনের মাধ্যমে নির্দিষ্ট পরিমাণ উপকরণ থেকে সর্বোচ্চ পরিমাণ উৎপাদন পাওয়া সম্ভব হবে— বিশ্লেষণ কর। ৪

৬ ▶ মি. রবীন তার ছেলের জন্য কম্পিউটার কিনতে গিয়ে লক্ষ করেন। কম্পিউটার যেমন অনেক ধরনের তেমনই তার দামও যথেষ্ট কম-বেশি। দরকষাকষি করে কম দামেও কম্পিউটার কেনা যায়।

- ক. বাজার ধারণার মৌলিক বিষয় কয়টি? ১  
খ. দীর্ঘকালীন বাজার বলতে কী বুঝায়? ২  
গ. উদ্দীপকের বাজারের ধরন ব্যাখ্যা কর। ৩  
ঘ. উক্ত বাজারের অন্তর্ভুক্ত বাস্তব জগতে অনেক বেশি— ভূমি কি বক্তব্যের সাথে একমত— মতামত দাও। ৪

৭ ▶



- ক. নিট জাতীয় আয় কাকে বলে? ১  
খ. মোট দেশজ উৎপাদনের ওপর প্রযুক্তির প্রভাব ব্যাখ্যা কর। ২  
গ. ২নং ও ৩নং পদ্ধতিতে কীভাবে জাতীয় আয় নির্ণয় করা হয়? ৩  
ঘ. ১নং পদ্ধতিতে মোট দেশজ উৎপাদন নির্ণয়ের জন্য অর্থনীতিকে মোট কয়টি খাতে বিভক্ত করা যায়? পাঠ্যবইয়ের আলোকে বর্ণনা কর। ৪

৮ ▶ হারুনের স্ত্রীর একটি শাড়ির খুবই প্রয়োজন। কিন্তু তার কাছে একটি ছাগল ছাড়া কিছুই নেই। হারুন তার ছাগল নিয়ে তাঁতির কাছে গেলে তাঁতি একটি শাড়ির বদলে ছাগল নিতে চায়। কিন্তু হারুন একটি শাড়ির বদলে একটি ছাগল নিতে রাজি হয়নি। পরে সবার কাছে গ্রহণযোগ্য একটি দ্রব্য আবিষ্কৃত হওয়ায় এ অসুবিধা দূর হয়।

- ক. রেমিটেন্স কী? ১  
খ. কেন্দ্রীয় ব্যাংক কী? ২  
গ. বাণিজ্যিক ব্যাংকের কার্যাবলি আলোচনা কর। ৩  
ঘ. সবার কাছে গ্রহণযোগ্য দ্রব্যটির ভূমিকা তোমার পাঠ্যপুস্তকের আলোকে বর্ণনা কর। ৪

৯ ▶ এম কম পাস করার পর মিনহাজ দীর্ঘদিন বেকার ছিল। অবশেষে বন্ধুদের পরামর্শে সে ব্যবসায় শুরু করে। ব্যবসায়ের জন্য প্রয়োজনীয় কাঁচামাল সে কৃষকের কাছ থেকে সরাসরি সংগ্রহ করে। বর্তমানে সে সফলতার মুখ দেখতে পাচ্ছে।

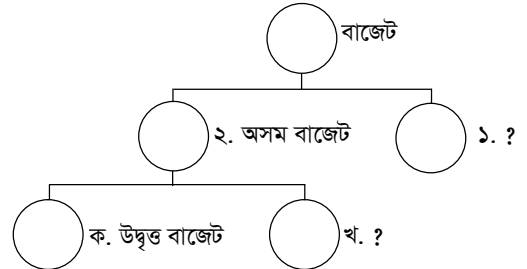
- ক. দেশের শ্রমশক্তির কত অংশ কৃষিখাতে নিয়োজিত? ১  
খ. সেবাখাত বলতে কী বোঝায়? ব্যাখ্যা কর। ২  
গ. মিনহাজ তার ব্যবসায় পরিচালনার জন্য কৃষিখাতকে কেন প্রাধান্য দেয়— ব্যাখ্যা কর। ৩

ঘ. উদ্দীপকের আলোকে বাংলাদেশের অর্থনীতির বৈশিষ্ট্যসমূহ আলোচনা কর। ৪

১০ ▶ রোজিনা জাতীয় বিশ্ববিদ্যালয় থেকে এমএ পাস করেছে। তার এখনও কোনো চাকরি হয়নি। ইদানীং সে তার মায়ের পরিচালিত হস্তশিল্পে তার মাকে কাজে সাহায্য করে। মায়ের কাছে থেকে তার সময় ভালো কাটে কিন্তু তাদের হস্তশিল্পের উৎপাদন বা আয় পূর্বের অবস্থায় রয়েছে।

- ক. বেকারত্ব কাকে বলে? ১  
খ. কাজের বিনিময়ে খাদ্য কর্মসূচির ব্যাখ্যা কর। ২  
গ. অর্থনীতিতে রোজিনার কাজের ধরন ব্যাখ্যা কর। ৩  
ঘ. 'বাস্তবভিত্তিক শিক্ষা' রোজিনাকে উক্ত অবস্থা থেকে উত্তরণ ঘটাতে পারে— মূল্যায়ন কর। ৪

১১ ▶



- ক. সরকারি অর্থব্যবস্থা কী? ১  
খ. মূল্য সংযোজন কর বলতে কী বোঝায়? ২  
গ. উদ্দীপকে ১নং স্থানে কোন বাজেট হবে? ব্যাখ্যা কর। ৩  
ঘ. উদ্দীপকে 'খ' নং বাজেট উন্নয়নশীল দেশে একটি স্বাভাবিক ঘটনা— মূল্যায়ন কর। ৪

5242011

